

تم تحميل وعرض المادة من

موقع أجاب التعليمي

موقع أجاب التعليمي
منصة تعليمية تساهم في
حل المنهج الدراسي لكافة
المراحل الدراسية

بسم الله الرحمن الرحيم

اختبار الفترة لمادة مقدمة في الأعمال (1-1) الفصل الدراسي الأول

اسم الطالب:

مستعين بالله تعالى اجيب عن الأسئلة التالية:

السؤال الأول: اختر الإجابة الصحيحة:

1_ مثال على الموارد الطبيعية :

أ ضوء الشمس ب مبرمج أجهزة الحاسب ج شبكة الصيد د المال

2 - في أي من النظم الاقتصادية التالية يكون دور الحكومة أكبر :

أ المختلط ب السوق ج الموجة د التقليدي

3_ كلما زادت المنافسة :

أ عادة ما تزيد الأسعار ب لن تتأثر الأسعار ج عادة تنخفض الأسعار د لاتوجد وسيلة لتوقع ما سيحدث

4- ان ارتفاع اسعار السلع بالنسبة الى المستهلكين مثلاً على وجود مخاطر :

أ ثقافية ب سياسية ج جغرافية د إقتصادية

5 - الملكية التي تمنح شخصاً واحداً الحق الحصري في جميع قرارات العمل :

أ المؤسسة الفردية ب الشراكة ج الشركة د الامتياز التجاري

6 - الأشخاص اللذين يضعون السياسة العامة ويتخذون القرارات المالية في شركة هم

أ المستفيدون ب اعضاء مجلس الادارة ج المالكون د المديرون

7- أي مما يلي لا يمثل هدفاً رسمياً للتحويل الاقتصادي السعودي :

أ التنوع في قطاعات الاعمال ب وقف إنتاج النفط ج زيادة مشاركة المرأة في القوى العاملة د الحد من البطالة

8- مرحلة دورة الاعمال التي يكون فيها معدل البطالة أعلى :

أ الركود ب الكساد ج الانتعاش د الازدهار

9- الخطوة الأولى في اتخاذ القرار هي :

أ اتخاذ القرار ب تحديد البدائل ج تحديد المشكلة د الافصاح عن تقدمك

10- بائع التجزئة هو مثال على :

أ عامل التعدين ب منتج ج وسيط د الاعمال الخدمية

السؤال الثاني : اجيب بوضع (✓) أو (x) في كلا مما يلي:

1- يقصد بمفهوم الندرة وجود عدد كاف من الموارد الاقتصادية	
2- تمثل مرحلة الركود ذروة دورة الاعمال التجارية	
3_ أول عمليات اتخاذ القرار هي التعرف على البدائل	
4 - الاقتصاد الموجه تمتلك الحكومة موارده وتتحكم فيه	
5 - رسالة المنظمة هي بيان قصير ومحدد عن سبب تأسيس العمل التجاري	
6 - لاتتحمل الديون الناتجة عن العمل التجاري في الشراكة	
7 - من المخاطر الجغرافية تغيير الطقس الذي يؤدي الى تدمير المحاصيل الزراعية	
8_ تعني المسؤولية عدم الالتزام بالمهام الموكلة للموظف	
9_ يمثل الكساد فترة أطول في زيادة معدلات البطالة	
10_ تهدف رؤية السعودية 2030 الى خفض معدلات البطالة	

معلم المادة : ياسر شعيران

اختبار الفترة لمادة مقدمة في الأعمال (1-1) الفصل الدراسي الأول

اسم الطالب:

نموذج الإجابة

مستعين بالله تعالى اجيب عن الأسئلة التالية:

السؤال الأول: اختر الإجابة الصحيحة:

1_ مثال على الموارد الطبيعية :	أ <input checked="" type="radio"/> ضوء الشمس	ب <input type="radio"/> مبرمج أجهزة الحاسب	ج <input type="radio"/> شبكة الصيد	د <input type="radio"/> المال
2 - في أي من النظم الاقتصادية التالية يكون دور الحكومة أكبر :	أ <input type="radio"/> المختلط	ب <input type="radio"/> السوق	ج <input checked="" type="radio"/> الموجة	د <input type="radio"/> التقليدي
3 كلما زادت المنافسة :	أ <input type="radio"/> عادة ما تزيد الأسعار	ب <input type="radio"/> لن تتأثر الأسعار	ج <input type="radio"/> عادة تنخفض الأسعار	د <input type="radio"/> لاتوجد وسيلة لتوقع ما سيحدث
4- ان ارتفاع اسعار السلع بالنسبة الى المستهلكين مثلاً على وجود مخاطر :	أ <input type="radio"/> ثقافية	ب <input type="radio"/> سياسية	ج <input type="radio"/> جغرافية	د <input checked="" type="radio"/> إقتصادية
5 - الملكية التي تمنح شخصاً واحداً الحق الحصري في جميع قرارات العمل :	أ <input checked="" type="radio"/> المؤسسة الفردية	ب <input type="radio"/> الشراكة	ج <input type="radio"/> الشركة	د <input type="radio"/> الامتياز التجاري
6 - الأشخاص اللذين يضعون السياسة العامة ويتخذون القرارات المالية في شركة هم	أ <input type="radio"/> المستفيدين	ب <input checked="" type="radio"/> اعضاء مجلس الادارة	ج <input type="radio"/> المالكون	د <input type="radio"/> المديرين
7- أي مما يلي لا يمثل هدفاً رسمياً للتحويل الاقتصادي السعودي :	أ <input type="radio"/> التنوع في قطاعات الاعمال	ب <input checked="" type="radio"/> وقف إنتاج النفط	ج <input type="radio"/> زيادة مشاركة المرأة في القوى العاملة	د <input type="radio"/> الحد من البطالة
8- مرحلة دورة الاعمال التي يكون فيها معدل البطالة أعلى :	أ <input type="radio"/> الركود	ب <input checked="" type="radio"/> الكساد	ج <input type="radio"/> الانتعاش	د <input type="radio"/> الازدهار
9- الخطوة الأولى في اتخاذ القرار هي :	أ <input type="radio"/> اتخاذ القرار	ب <input type="radio"/> تحديد البدائل	ج <input checked="" type="radio"/> تحديد المشكلة	د <input type="radio"/> الافصاح عن تقدمك
10- باع التجزئة هو مثال على :	أ <input type="radio"/> عامل التعدين	ب <input type="radio"/> منتج	ج <input checked="" type="radio"/> وسيط	د <input type="radio"/> الاعمال الخدمية

السؤال الثاني : اجيب بوضع (✓) أو (x) في كلا مما يلي:

1 - يقصد بمفهوم الندرة وجود عدد كافي من الموارد الاقتصادية	X
2 - تمثل مرحلة الركود ندرة دورة الاعمال التجارية	X
3_ أول عمليات اتخاذ القرار هي التعرف على البدائل	X
4 - الاقتصاد الموجه تمتلك الحكومة موارده وتتحكم فيه	✓
5 - رسالة المنظمة هي بيان قصير ومحدد عن سبب تأسيس العمل التجاري	✓
6 - لاتتحمل الديون الناتجة عن العمل التجاري في الشراكة	X
7 - من المخاطر الجغرافية تغيير الطقس الذي يؤدي الى تدمير المحاصيل الزراعية	✓
8 - تعني المسؤولية عدم الالتزام بالمهام الموكلة للموظف	X
9_ يمثل الكساد فترة أطول في زيادة معدلات البطالة	✓
10_ تهدف رؤية السعودية 2030 الى خفض معدلات البطالة	✓

بِسْمِ اللَّهِ الرَّحْمَنِ الرَّحِيمِ

اختبار منتصف الفصل الدراسي الأول – مادة مقدمة في الأعمال 1-1-1444هـ

اسم الطالبة :

استعيني بالله ثم أجيب على الأسئلة التالية

السؤال الأول: أختاري الإجابة الصحيحة من بين البدائل 5 درجات :

1. الدولة الأفضل من ناحية امتلاكها البنية التحتية القوية :
بريطانيا - الولايات المتحدة - ألمانيا - فرنسا
2. يسمى البلد الأخر الذي تنفذ فيه الشركة متعددة الجنسيات أعمالها :
البلد المضيف - البلد النامي - البلد الشريك - البلد المختلف
3. شكل الملكية التي تمنح شخص واحد الحق الحصري للتحكم في جميع قرارات العمل هي :
الشراكة - الملكية الفردية - الشركة - الجمعية التعاونية
4. السلعة التي تمتلك فيها المملكة العربية السعودية ميزة مطلقة هي :
إنتاج النفط - إنتاج الملابس - إنتاج الهواتف الذكية - إنتاج الفواكة و الخضار
5. تتمثل في تصنيع السلع و تسويقها داخل الدولة :
التجارة المحلية - التجارة الدولية - الميزان التجاري - ميزان المدفوعات
6. الأشخاص الذين يضعون السياسات العامة ويتخذون القرارات في الشركة هم :
المالكون - المديرين - أعضاء مجلس الإدارة - المستفيدين
7. أكبر دولة تستورد منها المملكة العربية السعودية هي دولة :
اليابان - الهند - الصين - فرنسا
8. تنتقل الأموال من دولة الى أخرى من خلال :
الاستثمار - السياحة - الاستثمار و السياحة - التجارة الداخلية
9. هي القيود التي تفرضها الحكومة على التجارة تسمى :
القيود الرسمية - القيود الغير رسمية - القيود الثقافية - القيود الدينية
10. إيقاف و منع تصدير أو استيراد بعض المنتجات يسمى :
الحصص - التعريفية الجمركية - الحظر - الامتياز التجاري

السؤال الثاني: ضعي علامة صح أو خطأ أمام العبارات التالية درجتان و نصف :

1. يخضع جميع المستثمرين في الشراكة للمساءلة القانونية الكاملة عن ديون العمل التجاري ()
2. تساعد السياسات و نظم العمل في توجيه الأعمال التجارية ()
3. البنية التحتية هي عامل مهم يؤثر على التنمية الاقتصادية للدولة ()
4. يتم إنشاء حاجز التجارة غير الرسمي من خلال الإجراءات الحكومية ()
5. يفضل في العمل الموظفين الجدد عن الموظفين ذوي الخبرة () يتبع

السؤال الثالث : ضعي المصطلح المناسب في الفراغ 5 درجات :

(الشراكة - الترخيص - المسؤولية - الميزان التجاري - الهيكل التنظيمي - سعر الصرف - رسالة المنظمة - الواردات - التعريف الجمركية - الميزة المطلقة - البنية التحتية)

1. قيمة العملة في بلد ما مقابل قيمة العملة في بلد آخر
2. رسم تخطيطي يوضح هيكل المنظمة و تصنيفات العمل و الوظائف
3. هو بيع حق الانتفاع لبعض الممتلكات غير الملموسة مثل العلامة التجارية او الاسم التجاري
4. أنظمة النقل و الاتصالات و المرافق في دولة ما
5. عمل تجاري يملكه ويديره شخصان أو أكثر عقدوا اتفاقية مكتوبة
6. السلع و الخدمات التي يتم شراؤها من دولة أخرى
7. الالتزام بإتمام عمل معين
8. بيان قصير مكتوب يوضح الهدف من العمل التجاري
9. الفرق بين إجمالي الصادرات في بلد ما و إجمالي الواردات
10. إنتاج سلعة أو توفير خدمة بتكلفة أقل من الدول الأخرى

السؤال الرابع عللي لما يلي ؟ 3 درجات

1- تعد المؤسسة الفردية أسهل أشكال الأعمال التجارية من حيث إنشائها و إغلاقها ؟

.....
.....

2- يفضل كثير من الأشخاص المؤسسة الفردية عند بدأ العمل التجاري ؟

.....
.....

السؤال الخامس أكملی خريطة المفاهيم التالية 4 درجات و نصف

1- أشكال ملكية الأعمال التجارية :



2- قيود التجارة الدولية :



3- تشجيع التجارة الدولية من خلال:



(أنتهت الأسئلة) مع تمنياتي لكن بالتوفيق / معلمة المادة جوهرة الجدعاني

اسم الطالبة:


أختاري الإجابة الصحيحة من بين البدائل :

1. من النظم الاقتصادية التي يكون فيها دور الحكومة أكبر من غيرها :
(الاقتصاد التقليدي - الاقتصاد المختلط - اقتصاد السوق - الاقتصاد الموجه)
2. في مرحلة دورة الأعمال التجارية التي ينخفض فيها إجمالي الناتج المحلي بشكل كبير و تكون فيها معدلات البطالة هي الأعلى :
(مرحلة الازدهار - مرحلة الكساد - مرحلة الانتعاش - مرحلة الركود)
3. من أمثلة منافسة احتكار القلة :
(الملابس - البرمجيات المحمية بحقوق النشر - السيارات - الذرة و الحبوب)
4. ليست من اهم الأعمال الاقتصادية في المملكة قبل تأسيسها على يد الملك عبد العزيز :
(رعي الماشية - الزراعة - الحرف اليدوية - الاستثمار الخارجي)
5. هو القيمة الإجمالية لجميع السلع و الخدمات النهائية المنتجة في بلد ما في سنة واحدة :
(الندرة - المخاطر - الناتج المحلي الاجمالي - نصيب الفرد)
6. مثال على الموارد الطبيعية :
(ضوء الشمس - مبرمج أجهزة الحاسوب - المال- المباني و العقارات)
7. من اهداف المملكة العربية السعودية لزيادة الإنتاجية حسب رؤية 2030 :
(وقف انتاج النفط - العمل على تعزيز نظام التعليم - تقليل الانفاق - استقدام العمالة الأجنبية)
8. الخطوة الأولى لعملية اتخاذ القرار:
(اختيار البديل الأفضل - مراجعة قراراتك - التعرف على البدائل - تحديد المشكلة)
9. من أمثلة المخاطر الاقتصادية التي قد يتعرض لها العمل التجاري :
(الفشل في الابتكار- تغير الطقس - ارتفاع الأسعار - عدم مراعاة ثقافة المجتمع)
10. الشركات التي تقوم بأعمال البيع مباشرة الى المستهلكين
(البيع بالتجزئة - البيع بالجملة - الاستخراج - التصنيع)


يتبع

أكمل خريطة المفاهيم التالية :

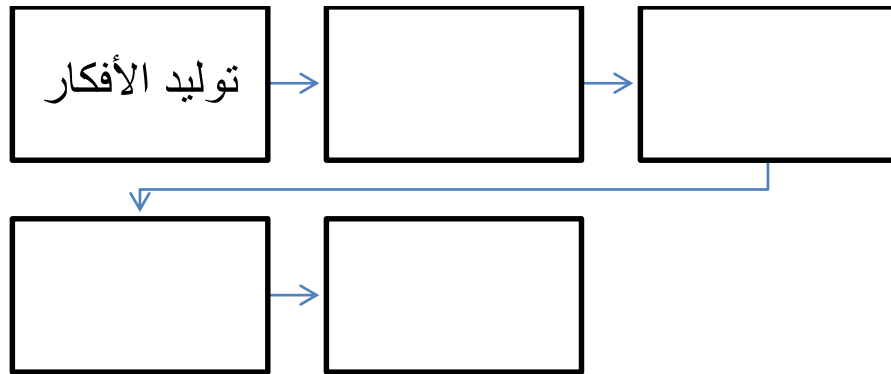
1- الأسئلة الاقتصادية الثلاثة المهمة لكل دولة :



2- الأهداف الأساسية لرؤية 2030



3- أنشطة الأعمال التجارية :



(أنتهت الأسئلة) مع تمنياتي لكن بالتوفيق / معلمة المادة جوهرة الجدعاني _____

اختبار دوري رقم (١) نموذج أ			
اسم الطالبة	الرقم التسلسلي	المسار	
المقرر : مقدمة في الأعمال ١ - ١	استاذة المقرر : أدلال الخميس	الزمن : ٤٠ دقيقة	١٤٤٤ هـ / /
الدرجة الكلية	٢٠	الدرجة المستحقة	

تعليمات : عزيزتي الطالبة...أجيبى مستعينة بالله على السؤلين التاليين و الثالث (اختياري)... ولك جزيل الشكر و الإمتنان.

السؤال الأول/ أ- حددي المصطلح العلمي المناسب لما يأتي:

(.....) التدريب المهني المتخصص الذي يشار إليه أيضا بالمهارات المكتسبة اللازمة لمهنة معينة.

(.....) هو القيمة الإجمالية النهائية لجميع السلع و الخدمات المنتجة داخل دولة ما لمدة عام.

(.....) الاقتصاد الذي يملك فيه الأفراد موارده ويتحكم فيها.

(.....) نسبة الأشخاص من القوى العاملة الذين لا يعملون.

ب- ضعي علامة (√) أو علامة (X) أمام العبارات التالية مع تصحيح الخطأ:

() يؤدي الانكماش إلى انخفاض القوة الشرائية للنقود.

() تعد الرواتب و الأجور أحد المصادر الرئيسية لصناديق الاستثمار.

() أساس المشكلة الاقتصادية أن الحاجات و الرغبات محدودة و الموارد غير محدودة.

() تعتمد رؤية ٢٠٣٠ على ثلاثة محاور رئيسية: المجتمع الحيوي، والاقتصاد المزدهر، والوطن الطموح.

السؤال الثاني /أ- عزيزتي الطالبة..أ- أربطي كل عبارة في القائمة الأولى بما يناسبها من القائمة الثانية:

القائمة الأولى	القائمة الثانية
١ الموارد الطبيعية	سيطرة حالة عدم اليقين من وقوع حدث أو نتيجة.
٢ المخاطر	تغير حركة الاقتصاد من حالة إلى أخرى و العودة مرة أخرى.
٣ نصيب الفرد	مقدار المخرجات التي يمكن الحصول عليها مقابل المدخلات.
٤ الانتاجية	برامج التجريب الداخلي.
٥ الخبرة المهنية	تأجير أو استعارة المنتجات بدلا من شرائها.
٦ الاقتصاد التشاركي	إجمالي الناتج المحلي مقسوما على مجموع مواطني الدولة.
٧ دورة الأعمال التجارية	التفكير بشكل استراتيجي.
٨ القيادة	المعادن، النفط.

ب - ميزي بين أنواع المنافسة من حيث :

النوع	المنافسة الاحتكارية	احتكار القلة
المتغيرات		
التعريف		
مثال		

ج - مثلي دورة الأعمال التجارية في تصميم توضيحي؟

السؤال الثالث (اختياري): أكملني الشكل التالي وفقا لمراحل اتخاذ القرار ؟

--	--	--	--	--	--

بِسْمِ اللَّهِ الرَّحْمَنِ الرَّحِيمِ
الاختبار الفتري لمقرر مقدمه في الاعمال

اسم الطالبه/

السؤال الأول/ طابقي بين المصطلحات التاليه والشرح المناسب لها
رسالة المنظمه- الهيكل التنظيمي- التضخم- الشركه- المنافسه الاحتكاريه- الناتج الإجمالي- المخاطره- الكساد
١/ حالة السوق مزدحمة بالكثير من المشترين والبائعين الذين يعرضون منتجات متشابهة جدا ولكنها ليست متطابقة ()

٢/ القيمة الإجمالية لجميع السلع والخدمات النهائية المنتجة في بلد الماء في سنة واحدة ()

٣/ حالة عدم اليقين من وقوع حادث أو نتيجة ()

٤/ مرحلة تميزت بفترة طويلة من ارتفاع نسبة البطالة وانخفاض المبيعات وفشل الأعمال ()

٥/ عمل تجاري يديره شخصان أو أكثر عقد اتفاقية مكتوبة بينهم ()

٦/ بيان قصير مكتوب يوضح الهدف من العمل التجاري وما يسعى إلى تحقيقه ()

٧/ ارتفاع المستوى العام للأسعار ()

٨/ رسم بياني يوضح مخطي تنظيميا للمنظمة ما هو تصنيف الوظائف والعلاقات بين تلك التصنيفات ()

السؤال الثاني أكمل الفراغ بما يناسب

١/ تأتي أموال المشاريع الرأسمالية من ثلاثة مصادر هي

..... و..... و.....

٢/ تمر دورة الأعمال التجارية في أربعة مراحل

هي..... و..... و..... و.....

٣/ من أنشطة (اعمال) الأعمال التجارية..... و..... و.....

السؤال الثالث اختاري الإجابة الصحيحة

1. مثال على الموارد الطبيعية

أضوء الشمس. مبرمج أجهزة شبكة صيد المال

2. الشركات التي تقوم بأعمال..... هي الشركات التي تبيع مباشرة إلى المستهلكين

البيع بالجملة. البيع بالتجزئة الاستخراج التصنيع

3. ارتفاع أسعار السلع بالنسبة إلى المستهلكين يعد مثالا على وجود مخاطر

ثقافية اقتصادية تشغيلية جغرافية

4. عندما يتحكم عدد قليل من الشركات الكبيرة في صناعة لنا فإن هذا يشار إليها باسم

المنافسة الكاملة المنافسة الاحتكارية. احتكار القلة الاحتكار

5. بايع التجزئة هو مثال على

عامل التعدين منتج وسيط أعمال خدمية

6. الأشخاص الذين يضعون السياسة العامة في الشركة ويكونون مسؤولون عن اتخاذ القرارات هم

المستفيدون أعضاء مجلس الإدارة المدبرون المالكون

7. تعد فروع دانكن مثال على

الامتياز التجاري شركة غير ربحية جمعية تعاونية شركة محدودة المسؤولية

انتهت الاسئلة موفقات ياميدعات..

أ. فريدة الشبل