

تم تحميل وعرض المادة من

موقع أجاب التعليمي

موقع أجاب التعليمي
منصة تعليمية تساهم في
حل المنهج الدراسي لكافة
المراحل الدراسية

قررت وزارة التعليم تدريس
هذا الكتاب وطبعه على نفقتها



وزارة التعليم
Ministry of Education

المملكة العربية السعودية

الرياضيات 1-2

التعليم الثانوي - نظام المسارات
السنة الثانية

قام بالتأليف والمراجعة
فريق من المتخصصين

ح) وزارة التعليم ، ١٤٤٥هـ

فهرسة مكتبة الملك فهد الوطنية أثناء النشر
وزارة التعليم
الرياضيات ١-٢ التعليم الثانوي - نظام المسارات - السنة الثانية/ وزارة
التعليم - الرياض ، ١٤٤٥هـ
١٧٨ ص ؛ ٢٧.٥ x ٢١ سم

رقم الإيداع : ١٤٤٥/٢٠٠٣٧
ردمك : ٥ - ٢٧٩ - ٠١٧ - ٦٠٣ - ٩٧٨

حقوق الطبع والنشر محفوظة لوزارة التعليم
www.moe.gov.sa

مواد إثنائية وداعمة على "منصة عين الإثنائية"



ien.edu.sa

أعضاء المعلمين والمعلمات، والطلاب والطالبات، وأولياء الأمور، وكل مهتم بالتربية والتعليم،
يسعدنا تواصلكم؛ لتطوير الكتاب المدرسي، ومقترحاتكم محل اهتمامنا.



fb.ien.edu.sa



بِسْمِ اللَّهِ الرَّحْمَنِ الرَّحِيمِ



وزارة التعليم

Ministry of Education

2024 - 1446

المقدمة

تعد مادة الرياضيات من المواد الدراسية الأساسية التي تهيئ للطلاب فرص اكتساب مستويات عليا من الكفايات التعليمية، مما يتيح له تنمية قدرته على التفكير وحل المشكلات، ويساعده على التعامل مع مواقف الحياة وتلبية متطلباتها.

ومن منطلق الاهتمام الذي توليه حكومة خادم الحرمين الشريفين بتنمية الموارد البشرية، وعياً بأهمية دورها في تحقيق التنمية الشاملة، كان توجه وزارة التعليم نحو تطوير المناهج الدراسية وفي مقدمتها مناهج الرياضيات، بدءاً من المرحلة الابتدائية، تحقيقاً لرؤية المملكة العربية السعودية ٢٠٣٠، لإعداد مناهج تعليمية متطورة وسعيًا للارتقاء بمخرجات التعليم لدى الطلاب، والوصول بهم إلى مصاف أقرانهم في الدول المتقدمة.

وتتميز هذه الكتب بأنها تتناول المادة بأساليب حديثة، تتوافر فيها عناصر الجذب والتشويق، التي تجعل الطالب يقبل على تعلمها ويتفاعل معها، من خلال ما تقدمه من تدريبات وأنشطة متنوعة، كما تؤكد هذه الكتب على جوانب مهمة في تعليم الرياضيات وتعلمها، تتمثل فيما يأتي:

- الترابط الوثيق بين محتوى الرياضيات وبين المواقف والمشكلات الحياتية في مختلف المجالات العلمية والصحية والمالية والتنموية وبرؤية المملكة ٢٠٣٠.
- تنوع طرائق عرض المحتوى بصورة جذابة مشوقة.
- إبراز دور المتعلم في عمليات التعليم والتعلم.
- الاهتمام بالمهارات الرياضية، والتي تعمل على ترابط المحتوى الرياضي وتجعل منه كلاً متكاملًا، ومن بينها: مهارات التواصل الرياضي، ومهارات الحس الرياضي، ومهارات جمع البيانات وتنظيمها وتفسيرها، ومهارات التفكير العليا.
- الاهتمام بتنفيذ خطوات أسلوب حل المشكلات، وتوظيف استراتيجياته المختلفة في كيفية التفكير في المشكلات الرياضية والحياتية وحلها.
- الاهتمام بتوظيف التقنية في المواقف الرياضية المختلفة.
- الاهتمام بتوظيف أساليب متنوعة في تقويم الطلاب بما يتناسب مع الفروق الفردية بينهم.

ولمواكبة التطورات العالمية في هذا المجال، فإن المناهج سوف توفر للمعلم مجموعة متكاملة من المواد التعليمية المتنوعة التي تراعي الفروق الفردية بين الطلاب، بالإضافة إلى البرمجيات والمواقع التعليمية، التي توفر للطلاب فرصة توظيف التقنيات الحديثة والتواصل المبني على الممارسة، مما يؤكد دوره في عملية التعليم والتعلم.

ونحن إذ نقدّم هذه الكتب لأعزائنا الطلبة، لنا أمل أن تستحوذ على اهتمامهم، وتلبي متطلباتهم وتجعل تعلمهم لهذه المادة أكثر متعة وفائدة.

والله ولي التوفيق.

ستركز في دراستك هذا العام على عدة موضوعات رياضية، تشمل ما يأتي:

- الدوال وخصائصها.
- المتباينات وتمثيلها بيانياً.
- المصفوفات والعمليات عليها.
- كثيرات الحدود والعمليات عليها.
- نظريتا الباقي والعوامل واستعمالهما.

وفي أثناء دراستك، ستتعلم طرائق لحل المسائل الجبرية وتمثيلها بصور متعددة وسوف تفهم لغة الرياضيات وتستعمل أدواتها، وتنمي قدراتك الذهنية وتفكيرك الرياضي.



كيف تستعمل كتاب الرياضيات؟

- اقرأ فقرة **فيما سبق** لتعرف ارتباط هذا الدرس بما درسته من قبل، ولتعرف أفكار الدرس الجديد اقرأ فقرة **والآن**.
- ابحث عن **المفردات** المظللة باللون الأصفر باللغتين العربية والإنجليزية، وقرأ تعريف كل منها.
- راجع المسائل الواردة في **مثال** والمحلولة بخطوات تفصيلية؛ لتوضيح أفكار الدرس الرئيسة.
- تذكر بعض المفردات التي تعلمتها من قبل، بالرجوع إلى فقرة **مراجعة المفردات**
- ارجع إلى المثال المشار إليه مقابل بعض التمارين في فقرتي **تاكد** و **تدرب وحل المسائل** ليساعدك على حل هذه التمارين وما شابهها.
- استعن بأسئلة **تدريب على اختبار** لتتعرف بعض أنماط أسئلة الاختبارات.
- ارجع إلى **مراجعة تراكمية** لتراجع أفكار الدروس السابقة.
- ارجع إلى **إرشادات للدراسة** حيث تجد معلومات وتوجيهات تساعدك في متابعة الأمثلة المحلولة.
- ارجع إلى فقرة **قراءة الرياضيات**؛ لتتذكر نطق بعض الرموز والمصطلحات الرياضية.
- ارجع إلى فقرة **انتبيه** دائماً لتعرف الأخطاء الشائعة التي يقع فيها كثير من الطلاب حول بعض المفاهيم الرياضية فتجنبها.
- نفذ **اختبار الفصل** في نهاية كل فصل، بعد أن تراجع أفكار الدرس مستفيداً مما دونته من أفكار في **المطويات**
- استعن بصفحتي **الإعداد للاختبارات**؛ لتتعرف أنواع أسئلة الاختبارات وبعض طرق حلها.
- نفذ **الاختبار التراكمي** في نهاية كل فصل لمراجعة الأفكار الرئيسة للفصل وما قبله من فصول.





الفهرس

الدوال والمتباينات

الفصل
1

11	التهيئة للفصل 1
12	1-1 خصائص الأعداد الحقيقية
18	1-2 العلاقات والدوال
24	1-2 توسع  معمل الجبر: الدوال المنفصلة والدوال المتصلة
25	1-3 دوال خاصة
31	اختبار منتصف الفصل
32	1-4 تمثيل المتباينات الخطية ومتباينات القيمة المطلقة بيانياً
37	1-5 حل أنظمة المتباينات الخطية بيانياً
43	1-5 توسع  معمل الحاسبة البيانية: أنظمة المتباينات الخطية
44	1-6 البرمجة الخطية والحل الأمثل
50	دليل الدراسة والمراجعة
55	اختبار الفصل
56	الإعدادات للاختبارات المعيارية
58	اختبار تراكمي

المصفوفات

الفصل
2

61	التهيئة للفصل 2
62	2-1 مقدمة في المصفوفات
68	2-1 توسع  معمل الجداول الإلكترونية: تنظيم البيانات
69	2-2 العمليات على المصفوفات
75	2-3 ضرب المصفوفات
82	اختبار منتصف الفصل
83	2-4 المحددات وقاعدة كرامر
91	2-5 النظرير الضربي للمصفوفة وأنظمة المعادلات الخطية
97	2-5 توسع  معمل الحاسبة البيانية: المصفوفات الموسعة
98	دليل الدراسة والمراجعة
101	اختبار الفصل
102	الإعدادات للاختبارات المعيارية
104	اختبار تراكمي



107	التهيئة للفصل 3
108	3-1 الأعداد المركبة
115	3-2 القانون العام والمميز
123	توسع 3-2 معمل الجبر: مجموع الجذرين وحاصل ضربهما
125	3-3 العمليات على كثيرات الحدود
131	3-4 قسمة كثيرات الحدود
137	اختبار منتصف الفصل
138	3-5 دوال كثيرات الحدود
145	3-6 حل معادلات كثيرات الحدود
153	توسع 3-6 معمل الحاسبة البيانية: حل متباينات كثيرات الحدود
154	3-7 نظريتا الباقي والعوامل
160	3-8 الجذور والأضفار
167	دليل الدراسة والمراجعة
171	اختبار الفصل
172	الإعداد للاختبارات المعيارية
174	اختبار تراكمي
176	الصيغ والرموز

الدوال والمتباينات Functions and Inequalities



فيما سبق:

درست حل المعادلات والمتباينات الخطية.

والآن:

- أستعمل معادلات العلاقات والدوال.
- أحل أنظمة المتباينات الخطية بيانياً.
- أحل مسائل من واقع الحياة مستعملاً البرمجة الخطية.

لماذا؟



مصانع: تسعى المصانع

عادة لتحقيق أعلى ربح ممكن، ويتطلب ذلك من إدارتها إتقان مهارات رياضية معينة لتخفيض التكلفة، وفي هذا الفصل ستتعلم كيفية زيادة الربح أو تقليل التكلفة لتحقيق أكبر ربح ممكن من خلال استعمال البرمجة الخطية.

الخطوات منظم أفكار

الدوال والمتباينات: اعمل هذه المطوية لتساعدك على تنظيم ملاحظاتك حول الدوال والمتباينات. مبتدئاً بثلاث أوراق من دفتر الملاحظات.

- 1 اطوكل ورقة من المنتصف.
- 2 قصّ الأوراق مع خط الطي، ثم ثبت أنصاف الأوراق الست الناتجة لتحصل على كُتيبٍ صغير.
- 3 قصّ أطراف الأوراق، بحيث تترك سطرين من طرف الورقة الأولى و4 أسطر من طرف الورقة الثانية وهكذا.
- 4 سمّ طرف كل ورقة برقم درس من دروس الفصل، واكتب عنوان الفصل.





التهيئة للفصل 1

تشخيص الاستعداد:

أجب عن الاختبار الآتي، وارجع إلى "المراجعة السريعة"؛ لمساعدتك على ذلك.

مراجعة سريعة

مثال 1

أوجد ناتج: $\left(\frac{3}{16}\right)\left(-\frac{4}{5}\right)$.

اقسم العددين 4، 16 على قاسمهما المشترك الأكبر (4)

→ اضرب البسطين
→ اضرب المقامين

بسّط

$$\begin{aligned} \left(\frac{3}{16}\right)\left(-\frac{4}{5}\right) &= \left(\frac{3}{16}\right)\left(-\frac{4}{5}\right) \\ &= \left(\frac{3}{4}\right)\left(-\frac{1}{5}\right) \\ &= \frac{-3}{20} \end{aligned}$$

مثال 2

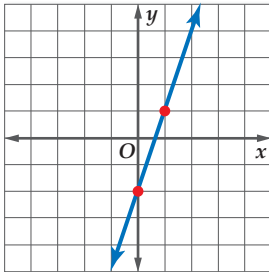
أوجد قيمة العبارة $3a^2 - 2ab + b^2$ إذا كانت:

$$b = -3, a = 4$$

$$\begin{aligned} 3a^2 - 2ab + b^2 &= 3(4^2) - 2(4)(-3) + (-3)^2 \\ &= 3(16) - 2(4)(-3) + 9 \\ &= 48 - (-24) + 9 \\ &= 48 + 24 + 9 \\ &= 81 \end{aligned}$$

مثال 3

مثّل في المستوي الإحداثي $y = 3x - 2$ بيانياً.



كوّن جدولاً يتضمن قيمتين على الأقل للإحداثي x ، وأوجد الإحداثي y لكلٍّ منهما، ثم كوّن أزواجاً مرتبة ومثلها بيانياً.

x	y	(x, y)
0	-2	(0, -2)
1	1	(1, 1)

اختبار سريع

أوجد الناتج في كلٍّ مما يأتي: (تستعمل مع الدروس 1-1 إلى 1-6)

(1) $15.7 + (-3.45)$ (2) $-18.54 - (-32.05)$

(3) $(-9.8)(6.75)$ (4) $4 \div (-0.5)$

(5) $3\frac{2}{3} + \left(-1\frac{4}{5}\right)$ (6) $\frac{54}{7} - \frac{26}{6}$

(7) $\left(\frac{6}{5}\right)\left(-\frac{10}{9}\right)$ (8) $-3 \div \frac{7}{8}$

(9) **صناعات يدوية:** تحتاج فاطمة إلى $\frac{7}{8}$ m من الخيوط لصنع رباط شعر، فكم متراً من الخيوط يلزمها لصنع 12 رباطاً؟

أوجد قيمة كلٍّ عبارة فيما يأتي إذا كانت:

(تستعمل مع الدروس 1-1 إلى 1-6) $a = -3, b = 4, c = -2$

(10) $4a - 3$ (11) $2b - 5c$

(12) $b^2 - 3b + 6$ (13) $\frac{2a + 4b}{c}$

(14) **اتصالات:** تستعمل إحدى شركات الاتصالات العبارة

$20 + 0.25m$ لإيجاد التكلفة بالريال لـ m من دقائق

الاتصال. أوجد تكلفة 80 دقيقة اتصال.

مثّل في المستوي كل مستقيم مما يأتي بيانياً: (يستعمل مع

الدروس 1-3 إلى 1-6)

(15) $y = 3$ (16) $x + y = 1$

(17) $3x - y = 6$ (18) $x + 2y = 5$

(19) $y = 4x - 1$ (20) $5x - 4y = 12$

(21) **مشتريات:** اشترى صلاح ثلاثة بالقميص، على أن يدفع 900 ريال دفعة أولى، ويدفع 400 ريال كل شهر. اكتب معادلة للمبلغ الكلي الذي سيدفعه بعد x شهراً، ثم مثلها بيانياً.



خصائص الأعداد الحقيقية

Properties of Real Numbers

1-1

أنواع الكرات



30 ريالاً

30 ريالاً

30 ريالاً

لماذا؟

يبيع محل للأدوات الرياضية 3 أنواع من الكرات بالسعر نفسه. إن شراء عدة أنواع لكل منها السعر نفسه يسهل عليك إيجاد المبلغ الإجمالي للشراء، وذلك باستعمال خاصية توزيع الضرب على الجمع.

فيما سبق:

درست الأعداد الحقيقية، والعمليات عليها. (مهارة سابقة)

والآن:

- أصنّف الأعداد الحقيقية.
- أستعمل خصائص الأعداد الحقيقية لتبسيط قيم العبارات الجبرية.

المفردات

الأعداد الحقيقية

real numbers

الأعداد النسبية

rational numbers

الأعداد غير النسبية

irrational numbers

الأعداد الصحيحة

integers

الأعداد الكلية

whole numbers

الأعداد الطبيعية

natural numbers

الأعداد الحقيقية: تتضمن **الأعداد الحقيقية** مجموعات مختلفة من الأعداد منها:

- الأعداد النسبية** هي الأعداد التي يمكن كتابتها على الصورة $\frac{a}{b}$ ، حيث a و b عددان صحيحان، والعدد b لا يساوي صفرًا. وتكون الصورة العشرية للعدد النسبي إما عددًا عشريًا منتهيًا أو دوريًا.
- الأعداد غير النسبية** وتكون الصورة العشرية للعدد غير النسبي ليست منتهية وليست دورية. لذا فإن الجذور التربيعية للأعداد التي ليست مربعات كاملة هي أعداد غير نسبية.
- مجموعة **الأعداد الصحيحة** هي: $\{..., -3, -2, -1, 0, 1, 2, 3, \dots\}$ ، ومجموعة **الأعداد الكلية** هي: $\{0, 1, 2, 3, 4, \dots\}$. ومجموعة **الأعداد الطبيعية** هي: $\{1, 2, 3, 4, 5, \dots\}$ ، وكل منها مجموعة جزئية من مجموعة الأعداد النسبية؛ وذلك لأن كل عدد صحيح n يمكن كتابته على الصورة $\frac{n}{1}$.

أضف إلى

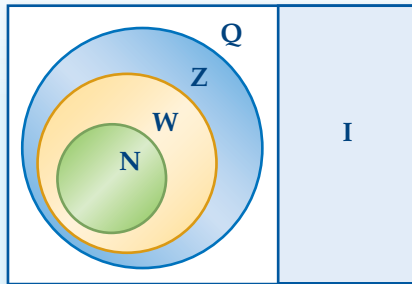
مطوبتك

الأعداد الحقيقية (R)

مفهوم أساسي

أمثلة	المجموعة	الرمز
$0.125, -\frac{7}{8}, \frac{2}{3} = 0.66\dots$	الأعداد النسبية	Q
$\pi = 3.14159\dots$ $\sqrt{3} = 1.73205\dots$	الأعداد غير النسبية	I
$-5, 17, -23, 8$	الأعداد الصحيحة	Z
$2, 96, 0, \sqrt{36}$	الأعداد الكلية	W
$3, 17, 6, 86$	الأعداد الطبيعية	N

الأعداد الحقيقية R



تصنيف الأعداد

مثال 1

حدّد مجموعات الأعداد التي ينتمي إليها كل عدد مما يأتي:

- (a) -23 مجموعة الأعداد الصحيحة (Z)، مجموعة الأعداد النسبية (Q)، مجموعة الأعداد الحقيقية (R)
- (b) $\sqrt{50}$ مجموعة الأعداد غير النسبية (I)، مجموعة الأعداد الحقيقية (R)
- (c) $-\frac{4}{9}$ مجموعة الأعداد النسبية (Q)، مجموعة الأعداد الحقيقية (R)

تحقق من فهمك

$$\sqrt{95} \quad (1C)$$

$$-\sqrt{49} \quad (1B)$$

$$-185 \quad (1A)$$

$$-\frac{6}{7} \quad (1D)$$

وزارة التعليم

Ministry of Education

2024 - 1446

إرشادات للدراسة

تصنيف الأعداد

يمكن أن ينتمي العدد إلى أكثر من مجموعة أعداد، فمثلًا يُعدّ أي عدد طبيعي عددًا كليًا وصحيحًا، ونسبيًا، وحقيقيًا.

خصائص الأعداد الحقيقية: يلخص الجدول الآتي بعض خصائص الأعداد الحقيقية:

ملخص المفهوم		أضف إلى مطوبتك
خصائص الأعداد الحقيقية		
لأي أعداد حقيقية a, b, c فإن:		
الخاصية	الجمع	الضرب
التبديلية	$a + b = b + a$	$a \cdot b = b \cdot a$
التجميعية	$(a + b) + c = a + (b + c)$	$(a \cdot b) \cdot c = a \cdot (b \cdot c)$
العنصر المحايد	$a + 0 = a = 0 + a$	$a \cdot 1 = a = 1 \cdot a$
النظير	$a + (-a) = 0 = (-a) + a$	$a \cdot \frac{1}{a} = 1 = \frac{1}{a} \cdot a, a \neq 0$
الانغلاق	$(a + b)$ عدد حقيقي	$(a \cdot b)$ عدد حقيقي
التوزيع	$a(b + c) = ab + ac, (b + c)a = ba + ca$	

مثال 2

تمييز خصائص الأعداد الحقيقية

ما الخاصية الموضحة في: $5 \cdot (4 \cdot 13) = (5 \cdot 4) \cdot 13$ ؟
الخاصية التجميعية في عملية الضرب.

وتنص الخاصية التجميعية لعملية الضرب على أن ناتج الضرب لا يتأثر بالطريقة التي يتم بها تجميع العوامل.

تحقق من فهمك

$$2(x + 3) = 2x + 6 \quad (2)$$

يمكنك إيجاد النظير الجمعي لأي عدد، والنظير الضربي لأي عدد حقيقي لا يساوي الصفر.

مثال 3

النظير الجمعي و النظير الضربي

أوجد النظير الجمعي والنظير الضربي للعدد $-\frac{5}{8}$

بما أن $-\frac{5}{8} + \frac{5}{8} = 0$ ، فإن النظير الجمعي للعدد $-\frac{5}{8}$ هو $\frac{5}{8}$

وبما أن $1 = \left(-\frac{5}{8}\right)\left(-\frac{8}{5}\right)$ ، فإن النظير الضربي للعدد $-\frac{5}{8}$ هو $-\frac{8}{5}$

تحقق من فهمك

$$2\frac{1}{2} \quad (3B)$$

$$1.25 \quad (3A)$$

إرشادات للدراسة

النظير الجمعي

والنظير الضربي

إشارة النظير الجمعي
لعدد هي عكس إشارة
ذلك العدد، أما إشارة
النظير الضربي لعدد
فهي ذاتها إشارة ذلك
العدد.



تتطلب الكثير من التطبيقات الحياتية التعامل مع الأعداد الحقيقية.

خاصية التوزيع

مثال 4 من واقع الحياة

السعر (بالريال)	الجهاز أو الملحق
1000	حاسوب
600	شاشة
500	آلة طباعة
150	كاميرا رقمية
300	برمجيات ملحقة

مبيعات: يبين الجدول المجاور أسعار جهاز حاسوب وملحقاته في أحد العروض. فإذا زاد السعر الأصلي للجهاز وملحقاته، بنسبة 6% فأوجد قيمة هذه الزيادة.

يمكن إيجاد قيمة هذه الزيادة بطريقتين هما:

الطريقة 1: اضرب ثم اجمع .

اضرب كل قيمة في 6%، أو 0.06، ثم اجمع.

$$\begin{aligned} T &= 0.06(1000) + 0.06(600) + 0.06(500) + 0.06(150) + 0.06(300) \\ &= 60 + 36 + 30 + 9 + 18 \\ &= 153 \end{aligned}$$

الطريقة 2: اجمع ثم اضرب.

أوجد السعر الكلي لجهاز الحاسوب وملحقاته قبل الزيادة، ثم اضربه في العدد 0.06

$$\begin{aligned} T &= 0.06(1000 + 600 + 500 + 150 + 300) \\ &= 0.06(2550) \\ &= 153 \end{aligned}$$

فتكون قيمة الزيادة 153 ريالاً. لاحظ أن النتيجة متساوية في الطريقتين.



الربط مع الحياة

زادت ملحقات أجهزة الحاسوب على نحو مطرد في السنوات الأخيرة، حتى أصبح الحاسوب يقوم مقام الكثير من الأجهزة الإلكترونية كآلات التصوير والتسجيل وغيرها.

اليوم	ساعات العمل
الأحد	4
الاثنين	3
الثلاثاء	2.5
الأربعاء	3
الخميس	4

تحقق من فهمك

(4) أعمال: يتقاضى أحمد 20 ريالاً عن كل ساعة عمل في محل تجاري. فإذا كانت ساعات عمله في أحد الأسابيع هي 4, 3, 2.5, 3, 4، فما المبلغ الذي حصل عليه أحمد في ذلك الأسبوع؟

يمكنك استعمال خصائص الأعداد الحقيقية لتبسيط العبارات الجبرية.

تبسيط العبارات الجبرية

مثال 5

بسط العبارة: $3(2q + r) + 5(4q - 7r)$

خاصية التوزيع
اضرب
الخاصية التبديلية للجمع
خاصية التوزيع
بسط

$$\begin{aligned} 3(2q + r) + 5(4q - 7r) &= 3(2q) + 3(r) + 5(4q) - 5(7r) \\ &= 6q + 3r + 20q - 35r \\ &= 6q + 20q + 3r - 35r \\ &= (6 + 20)q + (3 - 35)r \\ &= 26q - 32r \end{aligned}$$

تحقق من فهمك

(5) $3(4x - 2y) - 2(3x + y)$



مثال 1 حدّد مجموعات الأعداد التي ينتمي إليها كل عدد مما يأتي:

(1) 62 (2) $\frac{5}{4}$ (3) $\sqrt{11}$ (4) -12

مثال 2 ما الخاصية الموضّحة في كلّ ممّا يأتي؟

(5) $(6 \cdot 8) \cdot 5 = 6 \cdot (8 \cdot 5)$ (6) $7(9 - 5) = 7 \cdot 9 - 7 \cdot 5$
 (7) $84 + 16 = 16 + 84$ (8) $(12 + 5)6 = 12 \cdot 6 + 5 \cdot 6$

مثال 3 أوجد النظير الجمعي والنظير الضربي لكل عدد مما يأتي:

(9) -7 (10) $\frac{4}{9}$ (11) 3.8 (12) $\sqrt{5}$

الصف	السعر (بالريال)
قميص	40
بنطال	60
ثوب	100
معطف	200

مثال 4 (13) **تخفيضات:** يبين الجدول المجاور أسعار أربعة أصناف من الملابس في أحد العروض. فإذا زاد السعر الأصلي لكلّ منها بنسبة 8% فأوجد قيمة هذه الزيادة.

مثال 5 بسّط كل عبارة مما يأتي:

(14) $5(3x + 6y) + 4(2x - 9y)$ (15) $6(6a + 5b) - 3(4a + 7b)$
 (16) $-4(6c - 3d) - 5(-2c - 4d)$ (17) $-5(8x - 2y) - 4(-6x - 3y)$

تدرب وحل المسائل

مثال 1 حدّد مجموعات الأعداد التي ينتمي إليها كل عدد مما يأتي:

(18) $-\frac{4}{3}$ (19) -8.13 (20) $\sqrt{25}$ (21) $0.\overline{61}$
 (22) $\frac{9}{3}$ (23) $-\sqrt{144}$ (24) $\frac{21}{7}$ (25) $\sqrt{17}$

مثال 2 ما الخاصية الموضّحة في كلّ ممّا يأتي؟

(26) $-7y + 7y = 0$ (27) $8\sqrt{11} + 5\sqrt{11} = (8 + 5)\sqrt{11}$
 (28) $(16 + 7) + 23 = 16 + (7 + 23)$ (29) $\left(\frac{22}{7}\right)\left(\frac{7}{22}\right) = 1$

مثال 3 أوجد النظير الجمعي والنظير الضربي لكل عدد مما يأتي:

(30) -8 (31) 12.1 (32) -0.25
 (33) $\frac{6}{13}$ (34) $-\frac{3}{8}$ (35) $\sqrt{15}$

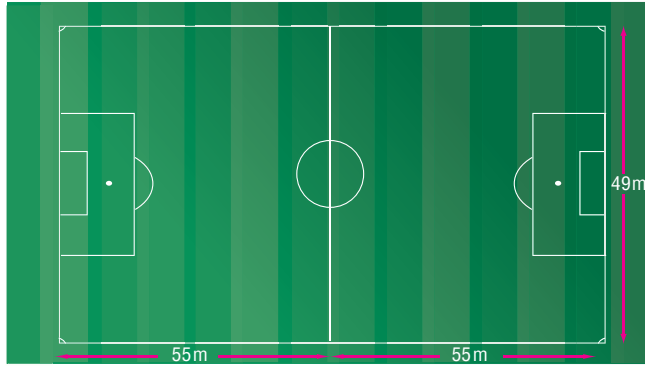
وجه الإنفاق	المبلغ (بالريال)
الطعام والشراب	3000
المواصلات	1000
الفواتير	500
أخرى	750

مثال 4 (36) **ترشيد:** يبين الجدول المجاور أوجه إنفاق إحدى الأسر خلال شهر. إذا قررت الأسرة ترشيد إنفاقها بنسبة 15% من كل وجه لشراء سيارة جديدة، فما مقدار ما توفره في الشهر؟

بسّط كل عبارة مما يأتي:

$$\begin{aligned} (37) \quad & 8b - 3c + 4b + 9c \\ (38) \quad & -2a + 9d - 5a - 6d \\ (39) \quad & 4(4x - 9y) + 8(3x + 2y) \\ (40) \quad & 6(9a - 3b) - 8(2a + 4b) \\ (41) \quad & -2(-5g + 6k) - 9(-2g + 4k) \\ (42) \quad & -5(10x + 8z) - 6(4x - 7z) \end{aligned}$$

(43) **كرة قدم:** وضح خاصية التوزيع من خلال كتابة عبارتين تمثلان مساحة الملعب في الشكل أدناه. ثم أوجد مساحته.



السعر (بالريال)	نوع السلعة
170	جهاز تسجيل
350	مكنسة
110	مروحة

(44) **تخفيضات:** يبين الجدول المجاور أسعار بعض الأجهزة الكهربائية في محل. فإذا انخفض سعر كل منها بنسبة 30%، وأراد أحمد أن يشتري من ذلك المحل جهاز تسجيل ومكنسة ومروحة.

(a) وضح خاصية التوزيع من خلال كتابة عبارتين تمثل كل منهما المبلغ الذي سيدفعه أحمد.

(b) احسب المبلغ الذي سيدفعه أحمد بطريقتين مختلفتين مستعملًا خصائص العمليات على الأعداد.

بسّط كل عبارة مما يأتي:

$$\begin{aligned} (45) \quad & \frac{1}{3}(5x + 8y) + \frac{1}{4}(6x - 2y) \\ (46) \quad & \frac{2}{5}(6c - 8d) + \frac{3}{4}(4c - 9d) \\ (47) \quad & -6(3a + 5b) - 3(6a - 8c) \\ (48) \quad & -9(3x + 8y) - 3(5x + 10z) \end{aligned}$$

(49) **ديكور:** يريد محمد شراء 5 ستائر لنوافذ منزله: نافذتان كبيرتان، و 3 نوافذ صغيرة. فإذا كانت النافذة الكبيرة تحتاج إلى ستارة طولها $3\frac{3}{4}$ m من القماش، في حين تحتاج النافذة الصغيرة إلى ستارة طولها $2\frac{1}{3}$ m من القماش.

(a) كم مترًا من القماش يحتاج إليه محمد؟

(b) استعمل خصائص الأعداد الحقيقية لتبين كيف يمكن لمحمد حساب كمية القماش التي يحتاج إليها ذهنيًا.

(50) **تمثيلات متعددة:** مستعملًا الأعداد: $-\sqrt{6}$, 3 , $\frac{-15}{3}$, 4.1 , π , 0 , $\frac{3}{8}$, $\sqrt{36}$.

أجب عما يأتي:

(a) **جدوليًا:** نظم هذه الأعداد في جدول وفقًا لمجموعة الأعداد التي تنتمي إليها.

(b) **جبريًا:** اكتب كل عدد من الأعداد أعلاه على الصورة العشرية، ثم رتبها تصاعديًا.

(c) **بيانيًا:** مثل هذه الأعداد على خط الأعداد.

(d) **لفظيًا:** اكتب تخمينًا حول ترتيب الأعداد الحقيقية باستعمال الصورة العشرية لها.



مسائل مهارات التفكير العليا

(51) ما العدد المختلف عن باقي الأعداد؟ وضح إجابتك.

$$\sqrt{81}$$

$$\sqrt{67}$$

$$\sqrt{35}$$

$$\sqrt{21}$$

(52) **تحذّر:** أوجد قيمة العبارة $48(30r + 36t)$ بدلالة w ، علمًا بأن $w = 12(5r + 6t)$.

(53) **اكتشف الخطأ:** بسّطت كل من فاطمة وخديجة العبارة: $4(14a - 10b) - 6(b + 4a)$. فهل أيّ منهما تبسيطها صحيح؟ وضح إجابتك.

خديجة

$$\begin{aligned} &4(14a - 10b) - 6(b + 4a) \\ &= 56a - 40b - 6a - 24b \\ &= 50a - 64b \end{aligned}$$

فاطمة

$$\begin{aligned} &4(14a - 10b) - 6(b + 4a) \\ &= 56a - 40b - 6b + 24a \\ &= 80a - 46b \end{aligned}$$

(54) **تبرير:** هل العبارة الآتية صحيحة أحيانًا، أو صحيحة دائمًا، أو غير صحيحة أبدًا. وضح إجابتك.
"العدد غير النسبي يتضمن رمز الجذر".

(55) **مسألة مفتوحة:** حدّد إذا كانت خاصية الانغلاق للضرب تنطبق على الأعداد غير النسبية. وإذا لم تكن كذلك، فأعط مثالًا مضادًا.

(56) **اكتب:** اشرح وأعط أمثلة توضح أن عمليتي الطرح والقسمة لا تحققان الخاصية التبادلية.

تدريب على اختبار

(58) ما أبسط صورة للعبارة: $2(x - y) - 3(y - 2x)$ ؟

$$-4y \quad \mathbf{C}$$

$$5x - 8y \quad \mathbf{A}$$

$$-4x - 5y \quad \mathbf{D}$$

$$8x - 5y \quad \mathbf{B}$$

(57) ما الحد العاشر في المتتابعة $2, 4, 7, 11, 16, \dots$ ؟

$$56 \quad \mathbf{C}$$

$$46 \quad \mathbf{A}$$

$$72 \quad \mathbf{D}$$

$$67 \quad \mathbf{B}$$

مراجعة تراكمية

(59) أوجد قيمة: $8(4 - 2)^3$. (مهارة سابقة)

أوجد ناتج الضرب في كل ممّا يأتي: (مهارة سابقة)

$$(b - 7)(b - 3) \quad \mathbf{(61)}$$

$$(x + 2)(x - 3) \quad \mathbf{(60)}$$

أوجد قيمة كل ممّا يأتي؛ علمًا بأن $a = 3$, $b = \frac{2}{3}$, $c = -1.7$. (مهارة سابقة)

$$\frac{a \cdot b}{c} \quad \mathbf{(63)}$$

$$\frac{1}{6}b + 1 \quad \mathbf{(62)}$$





العلاقات والدوال

Relations and Functions

1-2

لماذا؟

يبين الجدول أدناه المعدل الشهري التقريبي لأعلى درجة حرارة وأدناها في مدينة الرياض، لاحظ أن معدل كل من درجتي الحرارة الدنيا والعليا لكل شهر يمكن تمثيله بزوج مرتب. فعلى سبيل المثال، يمكن تمثيل معدلي درجات الحرارة لشهر يناير بالزوج المرتب (9, 20).

معدل درجات الحرارة الشهرية (°C) في مدينة الرياض												
الشهر	يناير	فبراير	مارس	إبريل	مايو	يونيو	يوليو	أغسطس	سبتمبر	أكتوبر	نوفمبر	ديسمبر
الدنيا	9	11	15	20	26	28	29	29	26	21	15	11
العليا	20	23	27	33	39	42	43	43	40	35	27	22

العلاقات والدوال: تذكر أن الدالة هي علاقة يرتبط فيها كل عنصر في المجال بعنصر واحد فقط في المدى.

أضف إلى مطويتك

مفهوم أساسي

الدالة المتباينة

المجال

1

2

3

المدى

D

B

A

الدالة المتباينة: هي دالة يرتبط فيها كل عنصر من المجال بعنصر مختلف من المدى، وهذا يعني أنه لا يمكن أن يرتبط عنصران من المجال بالعنصر نفسه من المدى.

المجال والمدى

مثال 1

حدّد مجال كلّ علاقة فيما يأتي ومداهما، وبيّن ما إذا كانت دالة أم لا، وإذا كانت كذلك فهل هي متباينة أم لا؟

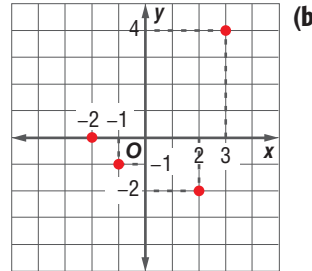
$$(a) \{(-6, -1), (-5, -9), (-3, -7), (-1, 7), (-6, -9)\}$$

$$\text{المجال} = \{-6, -5, -3, -1\} \quad \text{المدى} = \{-9, -7, -1, 7\}$$

هل هي دالة: لا، لأن العنصر -6 في المجال ارتبط بكل من العنصرين -9، -1 في المدى.

$$\text{المجال} = \{-2, -1, 2, 3\}$$

$$\text{المدى} = \{-2, -1, 0, 4\}$$



هذه العلاقة دالة؛ لأن كل عنصر في المجال ارتبط بعنصر واحد فقط من المدى. وهي متباينة؛ لأن كل عنصر من المدى ارتبط بعنصر واحد فقط من المجال.

فيما سبق:

درست تحديد كل من مجال ومدى علاقة معطاة. (مهارة سابقة)

والآن:

- أحلل العلاقات والدوال.
- أستعمل معادلات العلاقات والدوال.

المضردات

الدالة المتباينة

one-to-one function

العلاقة المنفصلة

discrete relation

العلاقة المتصلة

continuous relation

اختبار الخط الرأسي

vertical line test

المتغير المستقل

independent variable

المتغير التابع

dependent variable

رمز الدالة

function notation

إرشادات للدراسة

العلاقة: تمثل العلاقة

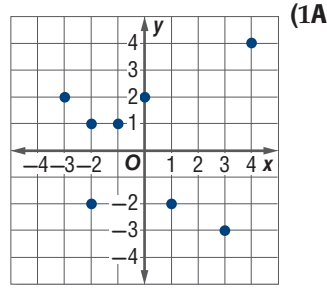
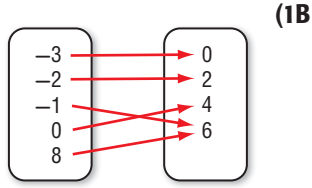
عادة على شكل أزواج مرتبة (x, y) ، كما يمكن وصفها بعدة طرق أخرى، منها المخطط السهمي، والجدول، والتمثيل البياني.

المجال: مجموعة

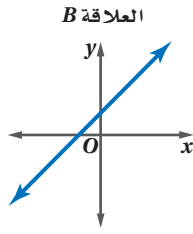
إحداثيات x في الأزواج المرتبة الممثلة للعلاقة.

المدى: مجموعة

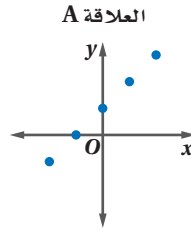
إحداثيات y في الأزواج المرتبة الممثلة للعلاقة.



العلاقة التي يكون فيها المجال مجموعة من العناصر المنفردة، وتمثل بيانياً بنقاطٍ منفصلة، مثل العلاقة A أدناه تسمى **علاقة منفصلة**. لاحظ أن تمثيلها البياني يتكون من نقاط غير متصلة، والعلاقة التي يكون مجالها فترة جزئية من الأعداد الحقيقية وأمكن تمثيلها بيانياً بمستقيم أو بمنحنى متصل مثل العلاقة B أدناه، فإنها تكون **علاقة متصلة**.



علاقة متصلة



علاقة منفصلة

إرشادات للدراسة

العلاقة المتصلة

يمكنك تمثيل العلاقة المتصلة بيانياً دون رفع القلم عن الورقة.

يمكنك استعمال **اختبار الخط الرأسي** مع كل من العلاقات المتصلة والمنفصلة لمعرفة إذا كانت العلاقة دالة أم لا.

أضف إلى

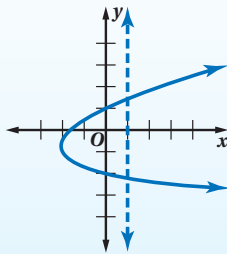
مطويتك

اختبار الخط الرأسي

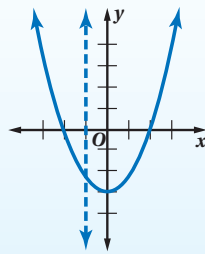
مفهوم أساسي



إذا قطع خط رأسي التمثيل البياني للعلاقة في أكثر من نقطة فالعلاقة ليست دالة.



التعبير اللفظي: إذا لم يقطع أي خط رأسي التمثيل البياني للعلاقة بأكثر من نقطة، فالعلاقة دالة.

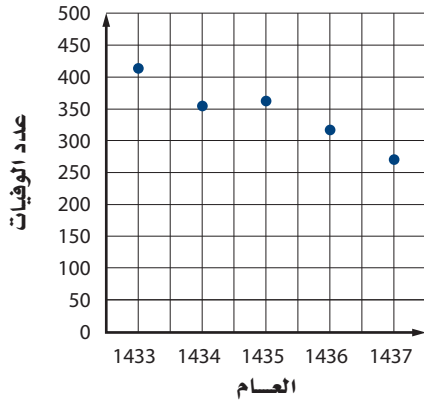


النموذج:

مثال 2 من واقع الحياة

تمييز العلاقة

أعداد الوفيات في الحوادث المرورية



حوادث المرور: يبين التمثيل البياني المجاور أعداد الوفيات في إحدى مدن المملكة نتيجة الحوادث المرورية من عام 1433 هـ إلى عام 1437 هـ، هل العلاقة التي يمثلها منفصلة أم متصلة؟ وهل تمثل دالة؟

بما أن التمثيل البياني مكون من نقاط منفصلة، فالعلاقة منفصلة. وباستعمال اختبار الخط الرأسي نلاحظ أنه لا يمكن رسم أي خط رأسي يمر بأكثر من نقطة من نقاط التمثيل، إذن فالعلاقة تمثل دالة.

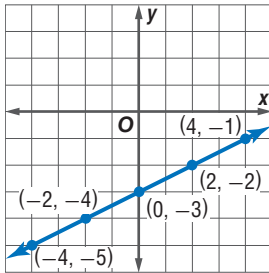
تحقق من فهمك

2 عمال: إذا كان عدد العاملين في إحدى المؤسسات في الأعوام من 1433 هـ إلى 1438 هـ على الترتيب هو: 33، 34، 35، 36، 37، 38. مثل هذه البيانات بيانياً، وهل العلاقة التي تمثلها هذه البيانات منفصلة أم متصلة. وهل تمثل دالة؟

معادلات العلاقات والدوال: يمكنك تمثيل العلاقات والدوال بمعادلات، وقيم المتغيرين x ، y في المعادلة هي مجموعة الأزواج المرتبة (x, y) التي تحقق المعادلة. ومن السهل في أغلب الأحيان تحديد إذا كانت المعادلة تمثل دالة من خلال تمثيلها البياني.

مثال 3 تمثيل العلاقة بيانياً

مثل المعادلة $y = \frac{1}{2}x - 3$ بيانياً، ثم حدّد مجالها ومداهما، وحدّد ما إذا كانت تمثل دالة أم لا، وإذا كانت كذلك، فهل هي متباينة أم لا؟ ثم حدّد ما إذا كانت منفصلة أم متصلة. كوّن جدولاً لبعض القيم التي تحقق المعادلة، ثم مثل المعادلة بيانياً.



x	y
-4	-5
-2	-4
0	-3
2	-2
4	-1

مجال هذه العلاقة ومداهما هو مجموعة الأعداد الحقيقية، لأن أي عدد حقيقي يمكن أن يكون الإحداثي x لنقطة ما على المستقيم، كما أن أي عدد حقيقي أيضاً يمكن أن يكون الإحداثي y لنقطة ما على المستقيم.

التمثيل البياني للعلاقة يحقق اختبار الخط الرأسي؛ لذا فإن المعادلة تمثل دالة؛ لأن كل قيمة لـ x ترتبط بقيمة واحدة فقط لـ y .

وحيث إن كل قيمة لـ y مرتبطة بقيمة واحدة فقط لـ x ، لذا فالدالة متباينة.

وبما أن التمثيل البياني عبارة عن مستقيم متصل دون انقطاع، فالدالة متصلة.

تحقق من فهمك

$$y = x^2 + 1 \quad (3)$$



الربط مع الحياة

هل تعلم أن لكل 8 حوادث مرورية في المملكة العربية السعودية يحدث 6 إصابات، بينما النسبة العالمية إصابة واحدة لكل 8 حوادث؟

إرشادات للدراسة

تمثيل الدالة بيانياً

لتمثل دالة ما بيانياً، أولاً يجب أن تحدّد مجالها (جميع قيم x التي تكون عندها الدالة معرفة أي قيم x التي تكون عندها $f(x) \in \mathbb{R}$ ، وهذا يمكنك من معرفة بعض الأزواج المرتبة التي تسهل عليك تمثيل الدالة بيانياً. ثم تحدّد مداهما (جميع قيم y التي تقابل قيم x) ويكون من السهل إيجاد المدى من التمثيل البياني، ومن الجدير بالذكر أن المجال والمدى لجميع الدوال الخطية هو مجموعة الأعداد الحقيقية.

إذا كانت المعادلة تمثل دالة، فإن المتغير من المجال (غالبًا ما يكون x)، يسمى **المتغير المستقل**. والمتغير الثاني (غالبًا ما يكون y)، يسمى **المتغير التابع** لأن قيمه تعتمد على قيم المتغير x .

المعادلات التي تمثل دوالاً تكتب عادة باستعمال **رمز الدالة**. فالمعادلة $y = 5x - 1$ يمكن كتابتها على الصورة $f(x) = 5x - 1$. وإذا أردنا إيجاد قيمة في المدى ترتبط بالعنصر -6 في مجال الدالة f ، فإن هذه القيمة هي $f(-6)$ ويمكن إيجادها بالتعويض عن كل x في المعادلة بالعدد -6 ؛ لذا فإن $f(-6) = 5(-6) - 1 = -31$.

قراءة الرياضيات

رمز الدالة

يستعمل الرمز $f(x)$ للدوال بدلاً من y ، ويُقرأ f لـ x ؛ حيث هو اسم الدالة وليس متغيراً مضروباً في x .

مثال 4

إيجاد قيمة الدالة

لتكن $f(x) = 2x^2 - 8$ ، أوجد قيمة كل مما يأتي:

	(b) $f(2y)$		(a) $f(6)$
الدالة الأصلية	$f(x) = 2x^2 - 8$	الدالة الأصلية	$f(x) = 2x^2 - 8$
عوض	$f(2y) = 2(2y)^2 - 8$	عوض	$f(6) = 2(6)^2 - 8$
$(2y)^2 = 2^2y^2$	$= 2(4y^2) - 8$	$6^2 = 36$	$= 2(36) - 8$
بسّط	$= 8y^2 - 8$	بسّط	$= 72 - 8 = 64$

تحقق من فهمك

$$g(x) = 0.5x^2 - 5x + 3.5$$

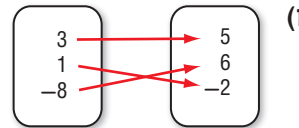
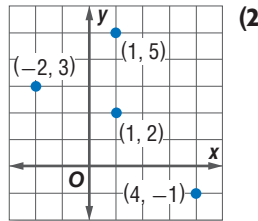
$$g(4a) \quad (4B)$$

$$g(2.8) \quad (4A)$$

تأكد

حدّد مجال كل علاقة فيما يأتي ومداهما، وبيّن ما إذا كانت دالة أم لا، وإذا كانت كذلك، فهل هي متباينة أم لا؟

x	y
-2	-4
1	-4
4	-2
8	6



مثال 1

مثال 2

متوسط عدد الأهداف في الموسم الواحد	متوسط أعمار الفريق	الموسم
16.2	22	1434-1435
24.1	23	1435-1436
27.2	24	1436-1437
23.5	25	1437-1438

(4) **كرة قدم:** يبين الجدول المجاور متوسط عدد

الأهداف التي أحرزها فريق كرة قدم في مبارياته خلال 4 مواسم ومتوسط أعمار الفريق في كل موسم.

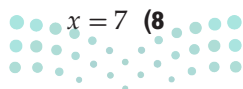
(a) مثل البيانات الواردة في الجدول بيانياً، على أن يمثل المحور الأفقي متوسط أعمار الفريق، والمحور الرأسي متوسط عدد الأهداف في كل مباراة.

(b) حدّد كلاً من المجال والمدى.

(c) هل العلاقة التي تمثل البيانات منفصلة أم متصلة؟

(d) هل تمثل العلاقة دالة أم لا؟ وضح إجابتك.

مثّل كل معادلة فيما يأتي بيانياً، ثم حدّد مجالها، ومداهما، وحدّد ما إذا كانت تمثل دالة أم لا، وإذا كانت كذلك، فهل هي متباينة أم لا؟ ثم حدّد إذا كانت منفصلة أم متصلة.



$$x = 7 \quad (8)$$

$$y = 3x^2 \quad (7)$$

$$y = -4x - 2 \quad (6)$$

$$y = 5x + 4 \quad (5)$$

أوجد قيمة كل مما يأتي:

مثال 3

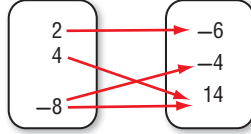
مثال 4

$$g(x) = -2x^2 - 4x + 1 \quad (10) \quad \text{إذا كانت } g(5)$$

$$f(x) = -4x - 8 \quad (9) \quad \text{إذا كانت } f(-3)$$

حدّد مجال كل علاقة فيما يأتي ومدaha، وبيّن ما إذا كانت دالة أم لا، وإذا كانت كذلك، فهل هي متباينة أم لا؟

{(3, -4), (-1, 0), (3, 0), (5, 3)} (13)

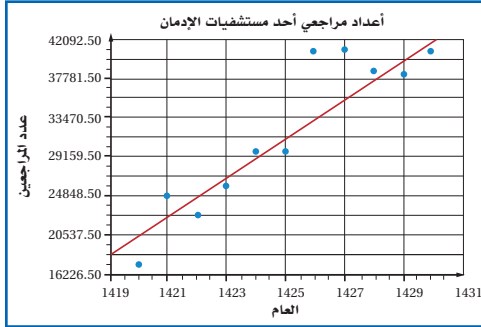


(12)

x	y
-0.3	-6
0.4	-3
1.2	-1

مثال 1

عدد الإناث	عدد الذكور	المنطقة الإدارية
938251	1194428	المدينة المنورة
313564	386210	حائل
398617	511413	تبوك
219061	289414	الجوف



مثّل كل معادلة فيما يأتي بيانياً، ثم حدّد مجالها ومدaha، وحدّد إذا كانت تمثل دالة أم لا، وإذا كانت كذلك، فهل هي متباينة أم لا؟ ثم حدّد إن كانت منفصلة أم متصلة.

$y = 4x^2 - 8$ (17)

$y = -5x^2$ (16)

$f(x) = 16x^2$ إذا كانت $f(2.5)$ (19)

$f(x) = 5x^3 + 1$ إذا كانت $f(-8)$ (18)

العمق (ft)	0	20	40	60	80	100
الضغط	1	1.6	2.2	2.8	3.4	4

(20) **غوص:** يبين الجدول المجاور مقدار الضغط الواقع على الغواص عند أعماق معينة تحت سطح الماء:

(a) مثّل العلاقة بيانياً.
(b) حدّد كلاً من مجال العلاقة ومدaha، وهل هي منفصلة أم متصلة؟
(c) هل هذه العلاقة دالة أم لا؟ وضح إجابتك.

إذا كانت $f(x) = 3x + 2$, $g(x) = -2x^2$, $h(x) = -4x^2 - 2x + 5$ فأوجد قيمة كل مما يأتي:

$h(8)$ (23)

$h(3)$ (22)

$g(-6)$ (21)

$h\left(\frac{1}{5}\right)$ (26)

$g\left(\frac{3}{2}\right)$ (25)

$f\left(\frac{2}{3}\right)$ (24)

(27) **تمثيلات متعددة:** ستكتشف في هذا السؤال الدوال المتباينة.

(a) **بيانياً:** مثّل كل دالة مما يأتي بيانياً:

$f(x) = x^2$

$g(x) = 2^x$

$h(x) = -x^2$

$j(x) = x^2 + 2$

(b) **جدولياً:** استعمل التمثيلات البيانية في الفرع a لعمل جدول يبين عدد المرات الممكن أن يقطع فيها أي خط أفقي، التمثيل البياني لكل دالة مما سبق.

(c) **تحليلياً:** حتى تكون الدالة متباينة يجب ألا يقطع أي خط أفقي تمثيلها البياني في أكثر من نقطة واحدة.

أي الدوال السابقة تحقق هذا الشرط وأنها لا تحققه؟

(d) **جدولياً:** كوّن جدولاً، وصنّف فيه الدوال السابقة إلى متباينة أو غير متباينة.

مثال 2



الملك فيصل، لاستشارات الإدمان

الربط مع الحياة

أطلقت الأمانة العامة للجنة الوطنية لمكافحة المخدرات؛ رقم مركز استشارات الإدمان (1955)، ضمن برامج المشروع الوطني للوقاية من المخدرات نبراس.

مثال 3

مثال 4



الربط مع الحياة

الضغط الواقع على الغواص عندما يكون على عمق 10 أمتار تحت الماء يعادل ضعف الضغط الجوي على السطح تقريباً.

(28) يملك فهد 800 ريال، فإذا قرر أن يضيف إلى هذا المبلغ 200 ريال شهرياً، فإن الدالة $p(t) = 800 + 200t$ ؛ تمثل مقدار ما معه من نقود $p(t)$ بعد t شهراً. فكم يكون معه بعد 8 أشهر؟

مسائل مهارات التفكير العليا

(29) **اكتشف الخطأ:** أوجد كل من أحمد و خالد قيمة $f(3d)$ حيث $f(x) = -4x^2 - 2x + 1$. فأَيُّ منهما حله صحيح؟ وضح إجابتك.

خالد

$$f(3d) = -4(3d)^2 - 2(3d) + 1$$

$$= 12d^2 - 6d + 1$$

أحمد

$$f(3d) = -4(3d)^2 - 2(3d) + 1$$

$$= -4(9d^2) - 6d + 1$$

$$= -36d^2 - 6d + 1$$

(30) **مسألة مفتوحة:** مثل كلاً من العلاقات الآتية بيانياً:

(a) سرعة سيارة متجهة نحو نقطة معينة وزمنها إذا علمت أنها توقفت عند إشارتين ضوئيتين.

(b) طول شخص وعمره في الفترة من 5 سنوات إلى 60 سنة.

(c) درجة الحرارة في أحد الأيام خلال الفترة من الساعة 6 صباحاً إلى الساعة 11 مساءً.

(31) **تحّد:** إذا كانت $f(x)$, $g(x)$ الدالتين بحيث $f(b) = 31$, $g(b) = 51$, $f(a) = 19$, $g(a) = 33$. وكانت $a = 5$, $b = 8$ فأوجد الدالتين $f(x)$, $g(x)$ تحققان المعطيات السابقة.

(32) **اكتب:** وضح كيف يحدّد اختبار الخط الرأسي إذا كانت العلاقة دالة أم لا.

تدريب على اختبار

(34) إذا كان $g(x) = x^2$ ، فأَيُّ عبارة مما يأتي تساوي $g(x+1)$ ؟

- 1 **A**
 $x^2 + 1$ **B**
 $x^2 + 2x + 1$ **C**
 $x^2 - x$ **D**

(33) تحتوي بركة سباحة على 19500 جالون من الماء إذا تم تفرغها بمعدل 6 جالونات لكل دقيقة. فأَيُّ المعادلات الآتية تمثل عدد جالونات الماء g المتبقية في البركة بعد m دقيقة؟

- $g = \frac{19500}{6m}$ **C** $g = 19500 - 6m$ **A**
 $g = \frac{6m}{19500}$ **D** $g = 19500 + 6m$ **B**

مراجعة تراكمية

بسّط كل عبارة فيما يأتي: (الدرس 1-1)

$-7(2c - 4d) + 8(3c + d)$ (37)

$-4(5x - 3y) + 2(y + 3x)$ (36)

$6(3a - 2b) + 3(5a + 4b)$ (35)

حل كل معادلة فيما يأتي، ثم تحقق من صحة الحل: (الدرس 1-1)

$10y - 5 - 3y = 4(2y + 3) - 20$ (40)

$8d - 4 + 3d = 2d - 100 - 7d$ (39)

$4(2y - 3) + 5(3y + 1) = -99$ (38)

الدوال المنفصلة والدوال المتصلة

رابط الدرس الرقمي

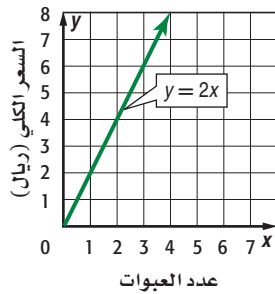


www.iem.edu.sa

الهدف

أستعمل الدوال
المنفصلة والدوال
المتصلة لحل مسائل
حياتية.

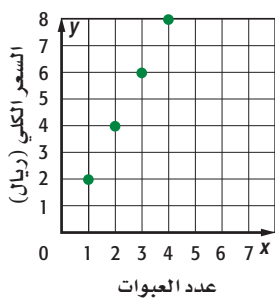
سعر عبوات العصير



تُباع عبوة العصير الواحدة من أحد الأنواع بسعر 2 ريال، ويمكن إيجاد سعر x عبوة عصير باستعمال الدالة المتصلة $y = 2x$ حيث y السعر الكلي بالريال. ويمكن تمثيل هذه الدالة بيانياً كما هو موضَّح في التمثيل المجاور.

بالنظر إلى التمثيل البياني، يمكن أن ترى أن سعر عبوتي عصير يساوي 4 ريالات، وسعر 3 عبوات يساوي 6 ريالات وهكذا. يبين التمثيل البياني أن سعر 1.5 عبوة هو $2(1.5)$ ويساوي 3 ريالات. إلا أن عبوات العصير لا تُباع مملوءة جزئياً. فهذه الدالة تُمثل بدقة أكثر بدالة منفصلة.

سعر عبوات العصير

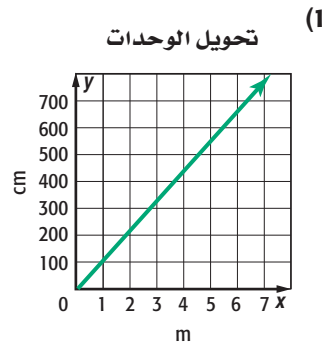
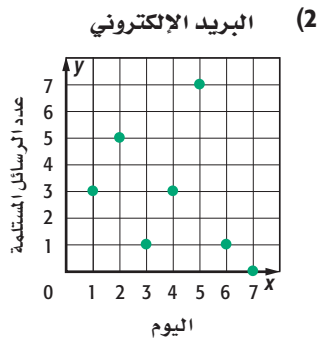


التمثيل البياني المجاور هو تمثيل الدالة المنفصلة التي تمثل سعر عبوات العصير. والمجال في هذا التمثيل البياني مقبول ومنطقي في هذا الموقف.

عند اختيار دالة منفصلة أو متصلة لتمثيل موقف من واقع الحياة يجب الأخذ بعين الاعتبار إذا كانت كل الأعداد الحقيقية تعد منطقية ومقبولة كعناصر في المجال أم لا.

تمارين

بيِّن إذا كانت كل علاقة فيما يأتي متصلة أو منفصلة، وفسر إجابتك.



(3) y تمثل المسافة التي تقطعها سيارة في زمن مقداره x ساعة.

(4) y تمثل العدد الكلي لراكبي لعبة العجلة الدوارة بعد x دورة من تشغيل اللعبة.

(5) **اكتب:** مثلاً من واقع الحياة على دالة منفصلة وآخر على دالة متصلة، وفسر إجابتك.



دوال خاصة

Special Functions

1-3

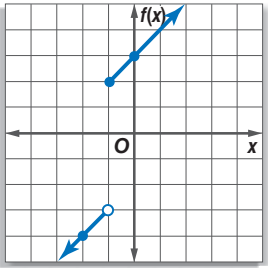
لماذا؟

السمنة حالة مرضية يمكن تعريفها طبيًا بأنها زيادة الدهون في الجسم، وتنتج السمنة عن أخذ مقدار طاقة أكبر من حاجة الجسم دون استهلاكها. ويبين الجدول المجاور نسب المصابات بالسمنة لفئات عمرية مختلفة في المملكة.

نسب المصابات بالسمنة في المملكة حسب الفئة العمرية		
النسبة	إلى	من
19%	24	15
38%	34	25
53%	44	35
58%	54	45
49%	64	55

المصدر: مسح المعلومات الصحية في المملكة، وزارة الصحة، 1435 هـ

الدالة المتعددة التعريف: الدالة التي تربط بين العمر ونسبة المصابات بالسمنة ليست خطية؛ لأن كل فترة من مجال الدالة معرفة بعباراة مختلفة، فالدالة التي تكتب باستعمال عبارتين أو أكثر تسمى **دالة متعددة التعريف**. وعند تمثيل الدالة المتعددة التعريف بيانياً توضع دائرة صغيرة مظلمة عند الطرف لتشير إلى أن النقطة تنتمي إلى التمثيل البياني، وتوضع دائرة غير مظلمة لتشير إلى أن النقطة لا تنتمي إلى التمثيل البياني.



مثال 1 تمثيل الدالة متعددة التعريف

$$\text{مثل الدالة } f(x) = \begin{cases} x - 2, & x < -1 \\ x + 3, & x \geq -1 \end{cases} \text{ بيانياً.}$$

ثم حدّد كلاً من مجالها ومداه.

الخطوة 1: مثل $f(x) = x - 2$ بيانياً عندما $x < -1$.

احسب قيمة المقدار $x - 2$ عندما $x = -1$ ، وعند قيمة أخرى لـ x أقل من -1 ولتكن -2

$$f(x) = x - 2 \quad f(x) = x - 2$$

$$f(-2) = (-2) - 2 = -4 \quad f(-1) = (-1) - 2 = -3$$

حدّد النقطتين $(-2, -4)$ ، $(-1, -3)$ وصل بينهما بنصف مستقيم.

وبما أن العدد -1 لا يحقق المتباينة لذا نبدأ بدائرة غير مظلمة عند النقطة $(-1, -3)$.

الخطوة 2: مثل $f(x) = x + 3$ بيانياً عندما $x \geq -1$.

احسب قيمة المقدار $x + 3$ عندما $x = -1$ ، وعند قيمة أخرى لـ x أكبر من -1 ولتكن 0

$$f(x) = x + 3 \quad f(x) = x + 3$$

$$f(0) = (0) + 3 = 3 \quad f(-1) = (-1) + 3 = 2$$

حدّد النقطتين $(0, 3)$ ، $(-1, 2)$ وصل بينهما بنصف مستقيم.

وبما أن العدد -1 يحقق المتباينة، لذا نبدأ بدائرة مظلمة عند النقطة $(-1, 2)$.

وبما أن الدالة معرفة عند جميع قيم x ، لذا فالمجال هو مجموعة الأعداد الحقيقية.

قيم $f(x)$ للأزواج المرتبة في التمثيل البياني للدالة هي جميع الأعداد الحقيقية الأقل من -3 وكل الأعداد الحقيقية الأكبر من أو تساوي 2 ، لذا فإن المدى هو $\{f(x) \mid f(x) < -3 \text{ أو } f(x) \geq 2\}$

تحقق من فهمك

$$f(x) = \begin{cases} x + 2, & x < 0 \\ x, & x \geq 0 \end{cases} \quad (1)$$

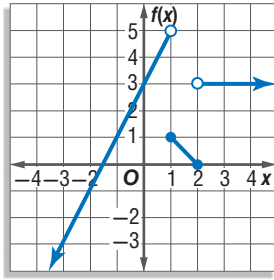
تمثل الدوال المتعددة التعريف غالباً بعدة دوال خطية. وتسمى حينئذٍ **الدالة المتعددة التعريف الخطية**.

إرشادات للدراسة

تمثيل الدوال المتعددة التعريف بيانياً
قد تكون الدوال المتعددة التعريف متصلة أو غير متصلة.

مثال 2

كتابة الدالة المتعددة التعريف



اكتب الدالة المتعددة التعريف الممثلة بيانياً في الشكل المجاور.

اكتب الدالة التي تمثل كل جزء في التمثيل البياني.

الجزء الأيسر يمر بالنقطتين $(-2, -1)$ ، $(0, 3)$ ، وميله $2 = \frac{-1-3}{-2-0}$ ،

وباستعمال صيغة الميل ونقطة مثلاً، فإن هذا الجزء تمثله الدالة $f(x) = 2x + 3$ ، $f(x) - 3 = 2(x - 0)$ ، ولوجود دائرة غير مظلمة عند النقطة $(1, 5)$ ، فإن هذا يعني أن الدالة معرّفة على الفترة $\{x | x < 1\}$.

وبالطريقة نفسها فإن الجزء الأوسط تمثله الدالة $f(x) = -x + 2$.

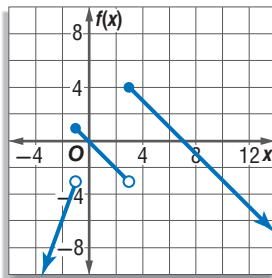
وتوجد دائرتان مظلمتان عند النقطتين $(1, 1)$ و $(2, 0)$ ، وهذا يعني أن الدالة معرّفة على الفترة $\{x | 1 \leq x \leq 2\}$.

كذلك الجزء الأيمن تمثله الدالة $f(x) = 3$. وتوجد دائرة غير مظلمة عند النقطة $(2, 3)$.

وهذا يعني أن الدالة معرّفة على الفترة $\{x | x > 2\}$ ، ونكتب الدالة المتعددة التعريف على النحو الآتي:

$$f(x) = \begin{cases} 2x + 3, & x < 1 \\ -x + 2, & 1 \leq x \leq 2 \\ 3, & x > 2 \end{cases}$$

تحقق: يبين التمثيل البياني نصف مستقيم ميله موجب عندما تكون $x < 1$. ويبين أيضاً قطعة مستقيمة ميلها سالب عندما تكون $1 \leq x \leq 2$ ونصف مستقيم آخر ميله صفر عندما تكون $x > 2$. لذا يكون تعريف الدالة منطقياً للتمثيل البياني المعطى.



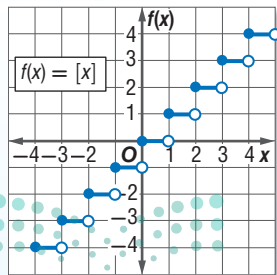
تحقق من فهمك

2) اكتب الدالة المتعددة التعريف الممثلة بيانياً في الشكل المجاور.

الدالة الدرجية: من الدوال المتعددة التعريف الخطية الشهيرة **الدالة الدرجية** التي تتكون من قطع مستقيمة أفقية، وقد سُميت بهذا الاسم لأن تمثيلها البياني يشبه الدرج، كما أن **دالة أكبر عدد صحيح** التي تكتب على الصورة $f(x) = [x]$ ، هي مثال على الدالة الدرجية؛ حيث يعني الرمز $[x]$ أكبر عدد صحيح أقل من أو يساوي x . فعلى سبيل المثال: $[3.25] = 3$ وكذلك $[-4.6] = -5$.

أضف إلى

مطوبتك



دالة أكبر عدد صحيح

الدالة الرئيسية (الأم): $f(x) = [x]$ ، وتعرّف على النحو التالي:

$$f(x) = \begin{cases} -1 & -1 \leq x < 0 \\ 0 & 0 \leq x < 1 \\ 1 & 1 \leq x < 2 \\ 2 & 2 \leq x < 3 \end{cases}$$

قطع مستقيمة أفقية.

مجموعة الأعداد الحقيقية

مجموعة الأعداد الصحيحة

$f(x) = 0$ حيث $0 \leq x < 1$ ، $x = 0$

مفهوم أساسي

شكل التمثيل البياني:

المجال:

المدى:

المقطعان:

وزارة التعليم

Ministry of Education

2024 - 1446

مثال 3 من واقع الحياة استعمال الدالة الدرجية

عقار: يتقاضى مجمع للشقق المفروشة 300 ريال مقابل تأجير الشقة ليوم واحد أو جزء منه، و250 ريالاً مقابل تأجير الشقة ذاتها لأي يوم إضافي أو جزء منه. اكتب الدالة التي تمثل هذا الموقف ومثلها بيانياً.

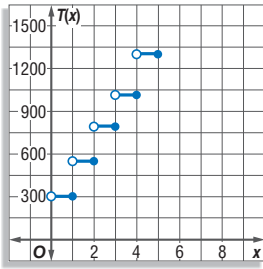
افهم: المعطيات، أجرة الشقة لليوم الأول أو لجزء منه هي 300 ريال، وأجرة أي يوم إضافي أو جزء منه بعد اليوم الأول 250 ريالاً.

المطلوب: كتابة الدالة التي تمثل الموقف، وتمثيلها بيانياً.

خطط: كوّن جدولاً يمثل الموقف؛ لتكتشف النمط، وتكتب الدالة وتمثلها بيانياً.

حل: إذا كان زمن التأجير أكبر من 0 يوم وأقل من أو يساوي يوماً، فإن الأجرة هي 300 ريال. وإذا كان الزمن أكبر من يوم وأقل من أو يساوي يومين فإن الأجرة هي 550 ريالاً وهكذا، لذا استعمل نمط الزمن مع الأجرة لعمل الجدول التالي، حيث x هي عدد أيام تأجير الشقة. و $T(x)$ هي أجرة الشقة، ثم مثله بيانياً.

x	$0 < x \leq 1$	$1 < x \leq 2$	$2 < x \leq 3$	$3 < x \leq 4$	$4 < x \leq 5$
T(x)	300 ريال	550 ريالاً	800 ريال	1050 ريالاً	1300 ريال



وعليه فإن الدالة المطلوبة وتمثيلها البياني يكونان كما يلي:

$$T(x) = \begin{cases} 300 & 0 < x \leq 1 \\ 550 & 1 < x \leq 2 \\ 800 & 2 < x \leq 3 \\ 1050 & 3 < x \leq 4 \\ 1300 & 4 < x \leq 5 \\ \vdots & \end{cases}$$

تحقق: بما أن المجمع يحوّل أي كسر للعدد الصحيح التالي، فإن كل قطعة مستقيمة ستحتوي على دائرة غير مظلمة عن يسارها، وأخرى مظلمة عن يمينها كما في الشكل.

تحقق من فهمك ✓

3 إعادة تدوير الورق: تدفع شركة لإعادة تدوير الورق 25 ريالاً عن كل صندوق من الورق يتم إحضاره للشركة ولا تدفع أي شيء مقابل أي صندوق غير ممتلئ بالكامل. اكتب الدالة التي تمثل هذا الموقف ومثلها بيانياً.



الربط مع الحياة

تقدر المخلفات الورقية في السعودية بـ 1.5 مليون طن سنوياً، يستغل منها في عمليات التدوير 700 ألف طن فقط.

المصدر: جريدة الاقتصادية / العدد 6081، عام 1431 هـ

وهناك نوع آخر من الدوال المتعددة التعريف يسمى **دالة القيمة المطلقة** وهي الدالة التي تحتوي على عبارة جبرية يستعمل فيها رمز القيمة المطلقة.

مفهوم أساسي

دالة القيمة المطلقة

الدالة الرئيسية (الأم): $f(x) = |x|$ ، وتُعرّف على النحو الآتي:

$$f(x) = \begin{cases} x & , x > 0 \\ 0 & , x = 0 \\ -x & , x < 0 \end{cases}$$

على شكل حرف V

مجموعة الأعداد الحقيقية

مجموعة الأعداد الحقيقية غير السالبة

$$x = 0, f(x) = 0$$

$$f(x) < 0$$

شكل التمثيل البياني:

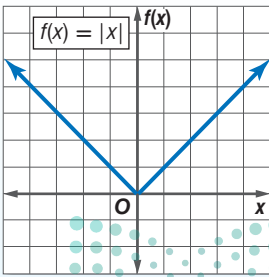
المجال:

المدى:

المقطعان:

ولا يمكن أن تكون:

أضف إلى مطوبتك



وزارة التعليم

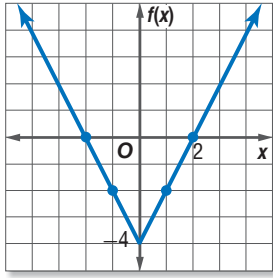
Ministry of Education

مثال 4

دالة القيمة المطلقة

مثال الدالة $f(x) = |2x| - 4$ بيانيًا، ثم حدّد كلاً من مجالها ومداهما.

- (3) مثل الأزواج المرتبة في المستوى الإحداثي.
(4) صل بين النقاط.



المجال هو مجموعة الأعداد الحقيقية، والمدى هو $\{f(x) | f(x) \geq -4\}$.

- (1) اجعل ما بداخل القيمة المطلقة يساوي الصفر، أي $x = 0$ أو $2x = 0$
(2) كوّن جدولًا للقيم، يحوي قيمًا لـ x أكبر من 0 وقيمًا أصغر من 0

x	$ 2x - 4$
-2	0
-1	-2
0	-4
1	-2
2	0

تحقق من فهمك

$$f(x) = -|x| + 1 \quad (4B)$$

$$f(x) = |x - 2| \quad (4A)$$

تأكد

مثال 1

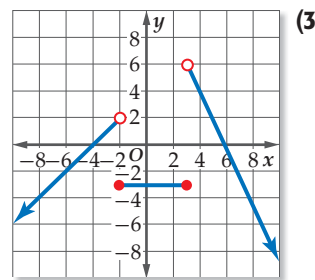
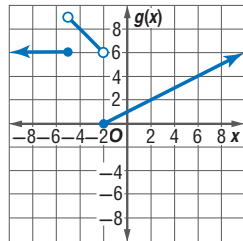
مثال كل دالة مما يأتي بيانيًا، ثم حدّد كلاً من مجالها ومداهما:

$$f(x) = \begin{cases} 8, & x \leq -1 \\ 2x, & -1 < x < 4 \\ -4-x, & x \geq 4 \end{cases} \quad (2)$$

$$f(x) = \begin{cases} -3, & x \leq -4 \\ x, & -4 < x < 2 \\ -x+6, & x \geq 2 \end{cases} \quad (1)$$

مثال 2

اكتب الدالة المتعددة التعريف الممثلة بيانيًا في كل ممّا يأتي:



مثال 3

(5) محاضرات طبية: يريد أحد الأطباء إلقاء محاضرة حول العدوى في قاعة تتسع لـ 250 شخصًا فقط، وكان عدد راغبي حضور المحاضرة أكثر من ذلك بكثير. مثل بيانيًا دالة متعددة التعريف تبين العلاقة بين عدد المحاضرات y التي يمكن أن يلقيها الطبيب، وعدد الحضور x .

مثال كل دالة فيما يأتي بيانيًا، ثم حدّد كلاً من مجالها ومداهما:

المثالان 3, 4

$$g(x) = |-3x| \quad (8)$$

$$h(x) = [x - 5] \quad (7)$$

$$g(x) = -2[x] \quad (6)$$

$$s(x) = |-2x| + 6 \quad (11)$$

$$h(x) = |x + 4| \quad (10)$$

$$f(x) = 2|x| \quad (9)$$

تدرب وحل المسائل

مثال 1

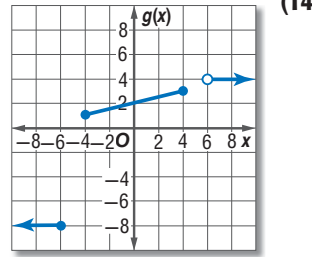
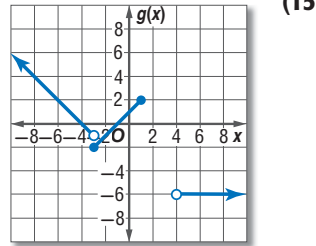
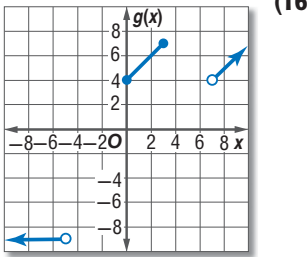
مثل كل دالة فيما يأتي بيانياً، ثم حدّد كلا من مجالها ومداهما:

$$f(x) = \begin{cases} 2x, & x \leq -6 \\ 5, & -6 < x \leq 2 \\ -2x + 1, & x > 4 \end{cases} \quad (13)$$

$$f(x) = \begin{cases} -3x, & x \leq -4 \\ x, & 0 < x \leq 3 \\ 8, & x > 3 \end{cases} \quad (12)$$

مثال 2

اكتب الدالة المتعددة التعريف الممثلة بيانياً في كلّ ممّا يأتي:



مثال 3

(17) **جمعية خيرية:** تقوم جمعية خيرية بجمع الصدقات لإيصالها إلى مستحقيها، وتتبرع الجمعية أيضاً بمبلغ مساوٍ لأي صدقة دون 100 ريال أو تساويها، كما تضيف الجمعية 100 ريال إلى أي صدقة تزيد على 100 ريال.

(a) حدّد نوع الدالة التي تمثل هذا الموقف.

(b) اكتب الدالة التي تصف هذا الموقف، ثم مثلها بيانياً.

مثل كل دالة فيما يأتي بيانياً، ثم حدّد كلا من مجالها ومداهما:

$$f(x) = |x - 5| \quad (20)$$

$$h(x) = 3[x] - 8 \quad (19)$$

$$f(x) = [x] - 6 \quad (18)$$

$$k(x) = |-3x| + 3 \quad (23)$$

$$h(x) = |2x| - 8 \quad (22)$$

$$g(x) = |x + 2| \quad (21)$$

$$h(x) = -3|0.5x + 1| - 2 \quad (25)$$

$$f(x) = 2|x - 4| + 6 \quad (24)$$

المثالان 3, 4

استئجار الدبابات الشاطئية



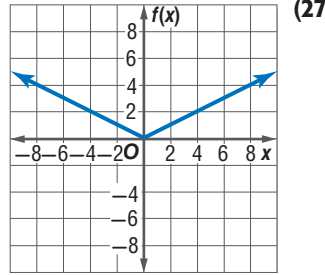
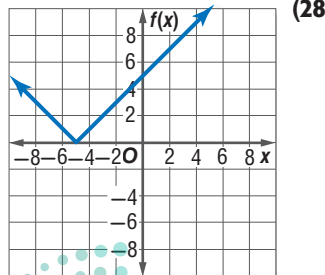
الزمن t (ساعة)	السعر (بالريال)
$0 < t \leq \frac{1}{2}$	60
$\frac{1}{2} < t \leq 1$	100
$1 < t \leq 2$	160
$2 < t \leq 3$	240

(26) **ترفيه:** يوضّح الجدول المجاور: تكلفة استئجار دباب شاطيء.

(a) حدّد نوع الدالة التي تمثل هذا الموقف.

(b) اكتب الدالة التي تمثل هذا الموقف، ثم مثلها بيانياً.

اكتب دالة القيمة المطلقة الممثلة بيانياً في كلّ ممّا يأتي:



الرابط مع الحياة

تهدف جمعيات البرّ بالمملكة إلى ترسيخ مبدأ التكافل الاجتماعي بين أفراد المجتمع وتحويله إلى واقع عملي من خلال رعاية المحتاجين وتخفيف معاناتهم بتوفير الغذاء والدواء واللباس والأثاث.

مثّل كل دالة فيما يأتي بيانيًا، ثم حدّد كلًّا من مجالها ومداهما:

$$h(x) = \begin{cases} -|x|, & x < -6 \\ |x|, & -6 \leq x \leq 2 \\ -x, & x > 2 \end{cases} \quad (30) \quad g(x) = \begin{cases} [x], & x < -4 \\ x + 1, & -4 \leq x \leq 3 \\ -|x|, & x > 3 \end{cases} \quad (29)$$

(31) تمثيلات متعددة: لتكن $f(x) = |x| - 4$, $g(x) = |3x|$

(a) جدولياً: كوّن جدولاً لبعض قيم كل من $f(x)$ و $g(x)$ ما بين $x = -4$, $x = 4$.

(b) بيانيًا: مثّل كلًّا من الدالتين بيانيًا على مستوى إحداثي مختلف.

(c) عدديًا: احسب الميل بين كل نقطتين متتاليتين في الجدول.

(d) لفظيًا: صف العلاقة بين ميل كل من جزأي دالة القيمة المطلقة.

مسائل مهارات التفكير العليا

(32) مسألة مفتوحة: اكتب علاقة باستعمال القيمة المطلقة بحيث يكون المجال هو مجموعة الأعداد الحقيقية غير السالبة والمدى هو مجموعة الأعداد الحقيقية.

(33) تحد: مثّل المعادلة $|y| = 2|x + 3| - 5$ بيانيًا.

(34) تبرير: أعط مثالاً مضادًا للجملة الآتية، وفسّر إجابتك.

”حتى تجد أكبر عدد صحيح لعدد غير صحيح x ، فإنك تقرّب x إلى أقرب عدد صحيح“

(35) مسألة مفتوحة: اكتب دالة قيمة مطلقة $f(x)$ ، تحقق $f(5) = -3$.

(36) اكتب: اشرح من خلال مثال كيف تستعمل الدوال المتعددة التعريف لتمثيل مسائل من واقع الحياة.

تدريب على اختبار

(38) أي دالة مما يأتي يكون فيها $f\left(-\frac{1}{2}\right) \neq -1$ ؟

A $f(x) = 2x$ B $f(x) = |-2x|$
C $f(x) = [x]$ D $f(x) = [2x]$

(37) إجابة قصيرة: ما العبارة التي تعطي الحد النوني للنمط في الجدول التالي؟

2	4	6	8	n
7	13	19	25	?

مراجعة تراكمية

إذا كان $f(x) = -4x + 6$, $g(x) = -x^2$, $h(x) = -2x^2 - 6x + 9$ فأوجد كل قيمة مما يأتي: (الدرس 1-2)

(41) $h(6)$

(40) $g(a + 1)$

(39) $f(2c)$

حدّد مجموعات الأعداد التي ينتمي إليها كل عدد مما يأتي: (الدرس 1-1)

(45) $\sqrt{11}$

(44) $\frac{2}{5}$

(43) -3

(42) $\sqrt{36}$



إذا كان $f(x) = 3x^3 - 2x + 7$ ، فأوجد قيمة كل مما يأتي :

(12) $f(-2)$

(13) $f(2y)$

(14) $f(1.4)$

(15) **اختيار من متعدد:** يقدر الدخل بالريال لسيارة أجرة بالدالة $f(x) = 0.35x + 49$ ، حيث x عدد الكيلومترات التي تقطعها السيارة. قدر دخل السيارة إذا قطعت 250 km .

A 84 ريالاً

B 112.50 ريالاً

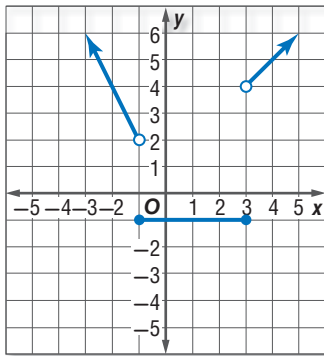
C 136.50 ريالاً

D 215 ريالاً

(16) مثل بيانياً الدالة:

$$f(x) = \begin{cases} -x, & x < -2 \\ x + 2, & -2 \leq x \leq 2 \\ 5, & x > 2 \end{cases}$$

(17) اكتب الدالة المتعددة التعريف الممثلة بيانياً فيما يأتي:



(18) حدّد كلاً من المجال والمدى للدالة: $y = [x] + 2$.

(19) مثل الدالة $f(x) = |2x|$ ، ثم حدّد كلاً من مجالها ومداهها.

حدّد مجموعات الأعداد التي ينتمي إليها كل عدد مما يأتي:

(1) $\frac{25}{11}$

(2) $-\frac{128}{32}$

(3) $\sqrt{50}$

(4) -32.4

(5) اذكر الخاصية الموضحة في المعادلة الآتية:

$4(7) + 15(7) = (4 + 15)7$ ؟

(6) بسّط العبارة $-3(7a - 4b) + 2(-3a + b)$

(7) **ملايس:** يريد سعد شراء 3 قمصان و3 بناطيل. فإذا كان سعر القميص الواحد 35 ريالاً. وسعر البنطال الواحد 55 ريالاً. فأوجد المبلغ الذي يدفعه سعد بطريقتين مستعملاً خاصية التوزيع.

(8) **اختيار من متعدد:** أي العبارات التالية تكافئ

$\frac{2}{3}(4m - 5n) + \frac{1}{5}(2m + n)$ ؟

A $\frac{46}{15}m - \frac{47}{15}n$

B $46m - 47n$

C $-\frac{mn}{15}$

D $\frac{5}{4}m - \frac{9}{8}n$

(9) أوجد كلاً من النظير الجمعي والنظير الضربي للعدد $\frac{7}{6}$.

(10) حدّد كلاً من مجال العلاقة الآتية ومداهها، ثم بين هل تمثل دالة أم لا: $\{(3, 2), (4, 1), (0, 3), (5, -2), (3, 7)\}$

(11) مثل المعادلة $y = 2x - 3$ بيانياً، ثم بين إذا كانت تمثل دالة أم لا. وهل هي متباينة أم لا؟ وهل هي منفصلة أم متصلة؟





تمثيل المتباينات الخطية ومتباينات القيمة المطلقة بيانياً

Graphing Linear and Absolute Value Inequalities



لماذا؟

دعا تركي زملاءه إلى وجبة من الفطائر والعصير الطبيعي، ورصد لتلك الدعوة مبلغ 150 ريالاً فقط.

ويمكنه أن يستعمل المتباينة الخطية: $6p + 5d \leq 150$ حيث p عدد الفطائر و d عدد أكواب العصير؛ للتأكد من أن سعر عدد معين من الفطائر وأكواب العصير سيكون ضمن ميزانيته.

فيما سبق

درست تمثيل الدوال الخطية. (مهارة سابقة)

والآن

- أمثل المتباينات الخطية بيانياً.
- أمثل متباينات القيمة المطلقة بيانياً.

المفردات

المتباينة الخطية

linear inequality

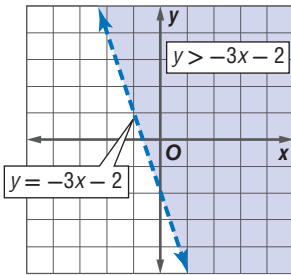
منطقة الحل

feasible region

الحد

boundary

تمثيل المتباينات الخطية بيانياً: تشبه المتباينة الخطية المعادلة الخطية، فالفرق بينهما فقط هو وضع رمز المتباينة بدلاً من رمز المساواة. فمثلاً، $y > -3x - 2$ هي متباينة خطية، و $y = -3x - 2$ هي المعادلة الخطية المرتبطة بها.



التمثيل البياني للمتباينة $y > -3x - 2$ مبين في الشكل المجاور على صورة منطقة مظللة تسمى **منطقة الحل**، فكل نقطة في المنطقة المظللة تحقق المتباينة، والتمثيل البياني للمستقيم $y = -3x - 2$ هو **حد** منطقة الحل وقد رُسم المستقيم بشكل متقطع ليدل على أنه لا يحقق المتباينة. أما إذا احتوت المتباينة على الرمز \geq أو \leq فإن النقاط الواقعة على الحد ستحقق المتباينة وعندئذ يكون تمثيل المستقيم خطاً متصلاً.

مثال 1 الحد المتقطع

مثل المتباينة $x + 4y > 2$ بيانياً.

الخطوة 1: مثل الحد وهو المستقيم $x + 4y = 2$. وبما أن رمز المتباينة هو $>$ فإن الحد سيكون متقطعاً.

الخطوة 2: اختبر النقطة $(0, 0)$ والتي لا تقع على حد المتباينة.

$$\text{المتباينة الأصلية} \quad x + 4y > 2$$

$$(x, y) = (0, 0) \quad 0 + 4(0) \stackrel{?}{>} 2$$

$$0 > 2 \quad \times$$

ظلل المنطقة التي لا تحوي $(0, 0)$.

تحقق: بين التمثيل البياني أن النقطة $(0, 3)$ تقع في منطقة الحل.

$$\text{المتباينة الأصلية} \quad x + 4y > 2$$

$$(x, y) = (0, 3) \quad 0 + 4(3) \stackrel{?}{>} 2$$

$$12 > 2 \quad \checkmark$$

إذن، الحل صحيح.

تحقق من فهمك ✓

$$-x + 2y > 4 \quad \text{(1B)}$$

$$3x + \frac{1}{2}y < 2 \quad \text{(1A)}$$



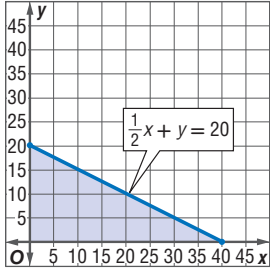
مثال 2 من واقع الحياة

الحد المتصل

رسم: يقدم مركز تدريب نوعين من دروس تعلم اللغة الإنجليزية، الأول: دروس مدتها 30 دقيقة للدرس الواحد، والثاني: دروس مدتها 60 دقيقة للدرس الواحد. وقرر مدير المركز ألا يزيد زمن دروس تعلم اللغة الإنجليزية على 20 ساعة أسبوعياً.

(a) اكتب متباينة تمثل عدد دروس تعلم اللغة الإنجليزية التي يمكن تقديمها أسبوعياً، ثم مثلها بيانياً.

لتكن x عدد الدروس التي مدتها 30 دقيقة ($\frac{1}{2}$ ساعة)، و y عدد الدروس التي مدتها 60 دقيقة (ساعة واحدة). وبما أن مجموع زمن الدروس لا يزيد على 20 ساعة أسبوعياً، فهذا يعني إمكانية أن يساوي 20 ساعة. ولهذا فإن المتباينة تحتوي على الرمز \leq ، ولذا يكون المستقيم الذي يمثل الحد متصلاً. إذن المتباينة هي $\frac{1}{2}x + y \leq 20$.



الخطوة 1: مثل الحد وهو المستقيم $\frac{1}{2}x + y = 20$ بيانياً.

الخطوة 2: اختبر النقطة $(0, 0)$ والتي لا تقع على الحد.

$$\text{المتباينة الأصلية} \quad \frac{1}{2}x + y \leq 20$$

$$(x, y) = (0, 0) \quad \frac{1}{2}(0) + (0) \leq 20$$

$$0 \leq 20$$

ظلّ المنطقة في الربع الأول فقط التي تحوي $(0, 0)$ ؛ وذلك لأن كلا المتغيرين لا يمكن أن يكون سالباً.

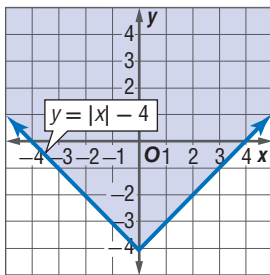
(b) هل يمكن أن يقدم المركز 25 درساً من الدروس التي مدتها 30 دقيقة، و 15 درساً من الدروس التي مدتها 60 دقيقة خلال أسبوع ما؟ فسر إجابتك.
النقطة $(25, 15)$ تقع خارج المنطقة المظللة؛ لذا فهي لا تحقق المتباينة، وعليه، فلا يمكن أن يقدم المركز ذلك العدد من الدروس خلال أسبوع ما.

تحقق من فهمك

(2) **ألعاب:** مع صالح 60 ريالاً يستطيع إنفاقها في مدينة الألعاب. فإذا كان ثمن تذكرة الألعاب الإلكترونية 5 ريالاً، وثمان تذكرة كل لعبة عادية 6 ريالاً. فاكتب متباينة تصف هذا الموقف، ثم مثلها بيانياً.

تمثيل متباينة القيمة المطلقة بيانياً: تمثيل متباينة القيمة المطلقة مشابه لتمثيل المتباينات الخطية، مثل بياناً معادلة القيمة المطلقة المرتبطة، وبعد ذلك حدّد إذا كان حد المتباينة متقطعاً أو متصلاً، ثم حدّد المنطقة التي يجب تظليلها باختبار نقطة ما.

مثال 3 تمثيل متباينة القيمة المطلقة بيانياً



مثل المتباينة $y \geq |x| - 4$ بيانياً.

مثل المعادلة المرتبطة $y = |x| - 4$ ،

وبما أن المتباينة تحتوي على إشارة \geq ، فإن الحد يكون متصلاً. والآن اختبر النقطة $(0, 0)$.

$$\text{المتباينة الأصلية} \quad y \geq |x| - 4$$

$$(x, y) = (0, 0) \quad 0 \geq |0| - 4$$

$$0 \geq -4$$

ظلّ المنطقة التي تحوي على النقطة $(0, 0)$.

تحقق من فهمك

$$(3A) \quad y \leq 2|x| + 3$$

$$(3B) \quad y \geq 3|x + 1|$$

وزارة التعليم

Ministry of Education



الربط مع الحياة

تزوّد معامل اللغات
المتخصصة بأحدث
الأجهزة التقنية والتجهيزات
الإلكترونية والصوتية
المتطورة التي تنمي مهارتي
المحادثة والاستماع لدى
الدارسين، وتؤهلهم لاكتساب
اللفظ الصحيح.

مثال 1 مثل كل متباينة فيما يأتي بيانياً:

$$\begin{aligned} (1) \quad y &\leq 4 \\ (2) \quad x &> -6 \\ (3) \quad x + 4y &\leq 2 \\ (4) \quad 3x + y &> -8 \end{aligned}$$

مثال 2 **5 وقود:** مع عامر 120 ريالاً، ويريد تزويد سيارته بالوقود، وشراء علب زيت للمحرك بالمبلغ المتبقي. فإذا كان سعر لتر الوقود 1.37 ريال، وسعر عبوة زيت المحرك 17 ريالاً.

- (a) اكتب متباينة تمثل هذا الموقف، ثم مثلها بيانياً.
- (b) هل يستطيع عامر تزويد سيارته بـ 20 لتراً من الوقود وشراء 4 عبوات زيت محرك؟ فسر إجابتك.

مثال 3 مثل المتباينتين الآتيتين بيانياً.

$$\begin{aligned} (6) \quad y &\geq |x + 3| \\ (7) \quad y - 6 &< |x| \end{aligned}$$

تدرب وحل المسائل

مثال 1 مثل كل متباينة فيما يأتي بيانياً:

$$\begin{aligned} (8) \quad x + 2y &> 6 \\ (9) \quad y &\geq -3x - 2 \\ (10) \quad 2y + 3 &\leq 11 \\ (11) \quad 4x - 3y &> 12 \\ (12) \quad 6x + 4y &\leq -24 \\ (13) \quad y &\geq \frac{3}{4}x + 6 \end{aligned}$$

مثال 2 **14 مشتريات:** مع سعاد 200 ريال. وتريد أن تشتري عددًا من الأطباق. وعددًا من الكؤوس؛ لتجهز لمناسبة اجتماعية، فإذا كان سعر الطبق 15 ريالاً وسعر الكأس 5 ريالات، فأجب عمّا يأتي:

- (a) اكتب متباينة تمثل العدد الممكن شراؤه من الأطباق والكؤوس، ثم مثلها بيانياً.
- (b) هل تستطيع سعاد شراء 10 أطباق و 10 كؤوس؟



مثال 3

مثل كل متباينة فيما يأتي بيانياً:

$$y - 6 < |-2x| \quad (17)$$

$$y + 4 \leq |x - 2| \quad (16)$$

$$y > |3x| \quad (15)$$

$$-y \leq |3x - 4| \quad (20)$$

$$2y > |4x - 5| \quad (19)$$

$$y + 8 < 2 \left| \frac{2}{3}x + 6 \right| \quad (18)$$

(21) أعمال: يؤدي سعيد عملين ليحقق دخلاً أسبوعياً لا يقل عن 1500 ريال، إذا كان الأجر الذي يتقاضاه عن كل ساعة موضحاً في الجدول المجاور، فأجب عما يأتي:

الأجر في الساعة	العمل
20 ريالاً	بائع في محل تجاري/صباحاً
25 ريالاً	سائق خاص/ مساءً

(a) اكتب متباينة تمثل هذا الموقف.

(b) مثل المتباينة بيانياً.

(c) هل سيحصل سعيد على المبلغ المطلوب إذا عمل 30 ساعة أسبوعياً في كل عمل؟

مثل كل متباينة فيما يأتي بيانياً:

$$y - 3 > -2|x + 4| \quad (24)$$

$$y \leq |x - 3| + 4 \quad (23)$$

$$y \geq |-2x - 6| \quad (22)$$

(25) زينة: تصنع ميساء عقوداً وأساور من الخرز، لتشارك بها في المعرض الفني للمدرسة، ولديها من الخرز ما يكفي لصنع 50 قطعة. لتكن x عدد الأساور، y عدد العقود.

(a) اكتب متباينة تبين عدد العقود والأساور التي يمكن أن تصنعها ميساء.

(b) مثل المتباينة بيانياً.

(c) أعط ثلاثة حلول لعدد العقود والأساور التي يمكن لميساء صنعها.

مثل كل متباينة فيما يأتي بيانياً.

$$y \geq |[x]| \quad (28)$$

$$y < [x + 2] \quad (27)$$

$$y \geq [x] \quad (26)$$



الرابط مع الحياة

يصنع الخرز من طين لين، حيث يجفف في فرن حرارته عالية، ويمكن تشكيله إلى أشكال عديدة.

مسائل مهارات التفكير العليا

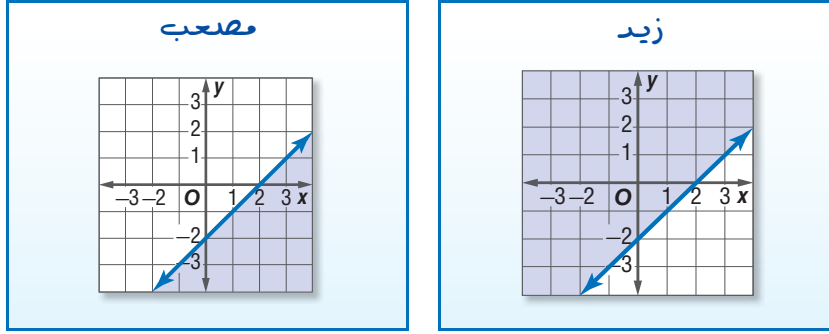
(29) مسألة مفتوحة: استعمل القيمة المطلقة لتكوين متباينة على أن لا يقع حلها في الربعين الثاني أو الثالث.

(30) تحد: مثل المتباينة الآتية بيانياً:

$$g(x) > \begin{cases} |x + 1|, & x \leq -4 \\ -|x|, & -4 < x < 2 \\ |x - 4|, & x \geq 2 \end{cases}$$



31 اكتشاف الخطأ: مثل كل من زيد ومصعب المتباينة $x - y \geq 2$ بيانياً. فأيهما تمثيله صحيح؟ فسّر إجابتك.



32 تبرير: متى يكون من الممكن تظليل منطقتين مختلفتين عند تمثيل متباينة القيمة المطلقة؟ فسّر إجابتك.

33 اكتب: اذكر مثلاً لمتباينة قيمة مطلقة ليس لها حل. فسّر إجابتك.

تدريب على اختبار

- 34** أي النقاط الآتية تقع في منطقة حل المتباينة $y + 3x > -2$ ؟
- A** $(-3, 1)$
B $(1, -7)$
C $(0, 0)$
D $(-4, 0)$
- 35** أي الدوال الآتية مداها هو $\{f(x) \mid f(x) \leq 0\}$ ؟
- A** $f(x) = -x$
B $f(x) = [x]$
C $f(x) = |x|$
D $f(x) = -|x|$

مراجعة تراكمية

مثل كل دالة فيما يأتي بيانياً: (الدرس 1-3)

$$f(x) = \begin{cases} -2x, & x \leq -2 \\ x + 1, & 0 < x \leq 6 \\ x - 5, & x > 6 \end{cases} \quad (38) \quad f(x) = \begin{cases} x + 3, & x < -2 \\ 2x, & -2 \leq x \leq 2 \\ -3x, & x > 2 \end{cases} \quad (37) \quad f(x) = \begin{cases} x, & x < 1 \\ 3, & 1 \leq x \leq 3 \\ -2x, & x > 3 \end{cases} \quad (36)$$

إذا كان:

$$f(x) = 4x^2 - 10x$$

$$g(x) = -3x^2 + 2$$

$$h(x) = -7x + 8$$

فأوجد كل قيمة مما يأتي: (الدرس 1-2)

39 $f(-9)$

40 $g(-4)$

41 $h(12)$





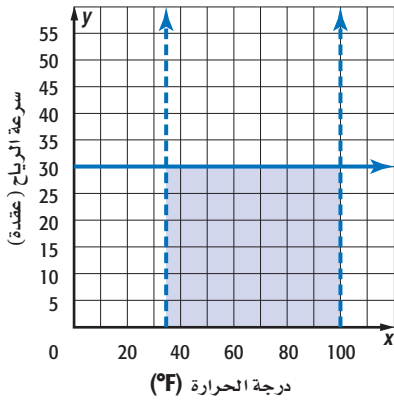
حل أنظمة المتباينات الخطية بيانياً

Solving Systems of Linear Inequalities by Graphing

1-5

لماذا؟

تؤخذ الحالة الجوية بالاعتبار عند إطلاق المركبات الفضائية، فيجب أن تكون درجة الحرارة بين 35°F و 100°F ، وأن لا تزيد سرعة الرياح على 30 عقدة. ويمكن تمثيل هذه الشروط بنظام من المتباينات الخطية كما في الشكل المجاور.



نظام المتباينات الخطية: حل نظام المتباينات الخطية يعني إيجاد أزواج مرتبة تحقق جميع المتباينات في النظام.

فيما سبق:

درست حل نظام من معادلتين خطيتين بيانياً. (مهارة سابقة)

والآن:

- أحل نظام متباينات خطية بيانياً.
- أحدد إحداثيات النقاط التي تمثل رؤوس منطقة الحل.

المفردات:

نظام المتباينات الخطية
system of linear inequalities

أضف إلى

مطوبتك

حل أنظمة المتباينات الخطية

مفهوم أساسي

الخطوة 1 مثل كل متباينة في النظام بيانياً.

الخطوة 2 حدد المنطقة المظللة المشتركة بين مناطق حل متباينات النظام والتي تمثل منطقة حل النظام.

مناطق الحل المتقاطعة

مثال 1

حل النظام الآتي بيانياً:

$$y > 2x - 4$$

$$y \leq -0.5x + 3$$

بتمثيل المتباينتين بيانياً نجد أن: حل المتباينة $y > 2x - 4$ المنطقتان: 1, 3

حل المتباينة $y \leq -0.5x + 3$ المنطقتان: 2, 3

المنطقة 3 هي منطقة مشتركة بين منطقتي حل المتباينتين، وعليه فتكون هي منطقة حل النظام.

تحقق:

لاحظ أن نقطة الأصل تنتمي إلى منطقة حل النظام، ويمكن استعمال نقطة الأصل نقطة اختبار. والتحقق من صحة الحل بتعويض $(0, 0)$ بدلاً من x, y في كلتا المتباينتين.

$$y \leq -0.5x + 3$$

$$0 \leq -0.5(0) + 3$$

$$0 \leq 0 + 3$$

$$\checkmark 0 \leq 3$$

$$y > 2x - 4$$

$$0 > 2(0) - 4$$

$$0 > 0 - 4$$

$$\checkmark 0 > -4$$

تحقق من فهمك

$$y \leq -2x + 5 \quad \text{(1A)}$$

$$y > -\frac{1}{4}x - 6$$

$$y \geq |x| \quad \text{(1B)}$$

$$y < \frac{4}{3}x + 5$$



يمكن أن لا تتقاطع منطقتا حل متباينتين، وعليه فلا يوجد حل للنظام في هذه الحالة، وتكون مجموعة الحل هي المجموعة الخالية.

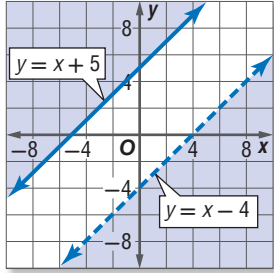
قراءة الرياضيات

المجموعة الخالية

هي المجموعة التي لا تحتوي على عناصر، ويرمز لها بأحد الرمزين \emptyset أو $\{ \}$.

مثال 2

مناطق الحل غير المتقاطعة



حل النظام الآتي بيانياً:

$$y \geq x + 5$$

$$y < x - 4$$

بتمثيل المتباينتين بيانياً، نجد أن منطقتي الحل لا تتقاطعان، وبالتالي لا توجد نقاط مشتركة بينهما، ولذا فليس للنظام حل. ومجموعة الحل هي \emptyset .

تحقق من فهمك

$$y \geq |x| \quad (2B)$$

$$y < x - 6$$

$$y \geq -4x + 8 \quad (2A)$$

$$y < -4x + 4$$

تستعمل أنظمة المتباينات الخطية في حل مسائل من واقع الحياة.

مثال 3 من واقع الحياة

كتابة نظام من المتباينات

إدارة الوقت: لدى فاطمة 25 ساعة على الأكثر للاستعداد لأداء 3 اختبارات في الرياضيات والفيزياء والتربية المهنية، فوضعت جدولاً زمنياً استعداداً لذلك، فخصصت ساعتين لدراسة التربية المهنية، وخصصت من 7 إلى 14 ساعة لدراسة الرياضيات، أما الفيزياء فخصصت لدراستها من 8 إلى 12 ساعة. اكتب نظام متباينات خطية يمثل هذا الموقف ومثله بيانياً.

الرياضيات: بافتراض أن عدد ساعات دراسة الرياضيات x ، فإن هذا العدد لا يقل عن 7 ساعات ولا يزيد على 14 ساعة أي أن:

$$7 \leq x \leq 14$$

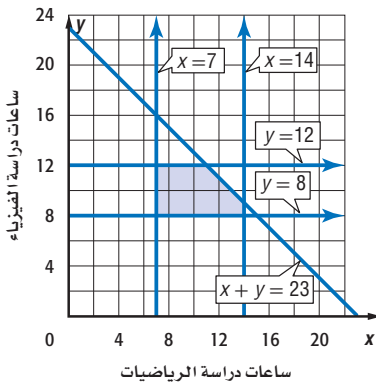
الفيزياء: بافتراض أن عدد ساعات دراسة الفيزياء y ، فإن هذا العدد لا يقل عن 8 ساعات ولا يزيد على 12 ساعة أي أن:

$$8 \leq y \leq 12$$

وبما أن إجمالي وقت الدراسة هو 25 ساعة، ساعتان منها لدراسة مادة التربية المهنية، ويتبقى 23 ساعة على الأكثر لدراسة الرياضيات والفيزياء فإن:

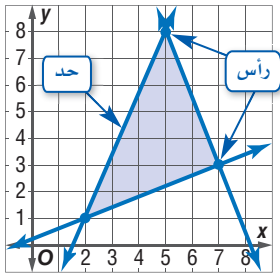
$$x + y \leq 23$$

مثل المتباينات بيانياً. أي زوج مرتب في منطقة حل النظام يمثل حلاً للنظام؟ أحد الحلول الممكنة هو 10 ساعات لدراسة الفيزياء، و 11 ساعة لدراسة الرياضيات.



تحقق من فهمك

3 سفر: خرج مشاري وبدر في رحلة لزيارة بعض محافظات المملكة براً فتنابوا قيادة السيارة. فإذا كانت فترات قيادة مشاري للسيارة على نحو متواصل في اليوم لا تقل عن 4 ساعات، ولا تزيد على 8 ساعات، وكانت فترات قيادة بدر للسيارة على نحو متواصل في اليوم لا تقل عن ساعتين ولا تزيد على 5 ساعات، وكان إجمالي زمن قيادة كليهما يومياً لا يزيد على 10 ساعات، فاكتب نظام متباينات خطية يمثل هذا الموقف، ثم مثله بيانياً.



إيجاد رؤوس منطقة الحل: ينتج أحياناً عن التمثيل البياني لنظام متباينات خطية منطقة مغلقة على شكل مضلع، ويمكن إيجاد إحداثيات رؤوس تلك المنطقة بإيجاد إحداثيات نقاط تقاطع المستقيمات المحددة للمنطقة (الحدود).

مثال 4 إيجاد رؤوس منطقة الحل

أوجد إحداثيات رؤوس المثلث الناتج عن التمثيل البياني للنظام الآتي:

$$y \geq 2x - 8, y \leq -\frac{1}{4}x + 6, 4y \geq -15x - 32$$

الخطوة 1: مثل كل متباينة بيانياً.

الخطوة 2: من التمثيل البياني يمكنك إيجاد إحداثيات رأسين من رؤوس المثلث وهما الزوجان المرتبان

$(-4, 7), (0, -8)$

الخطوة 3: أوجد إحداثيي الرأس الثالث بحل النظام المكون من المعادلتين الخطيتين:

$$y = 2x - 8, y = -\frac{1}{4}x + 6$$

عوّض عن y بقيمتها في المعادلة الثانية.

$$2x - 8 = -\frac{1}{4}x + 6 \quad \text{عوّض عن } y \text{ بـ } 2x - 8$$

$$2x = -\frac{1}{4}x + 14 \quad \text{اجمع 8 لكلا الطرفين}$$

$$\frac{9}{4}x = 14 \quad \text{اجمع } \frac{1}{4}x \text{ لكلا الطرفين}$$

$$x = \frac{56}{9} = 6\frac{2}{9} \quad \text{اضرب كلا الطرفين في العدد } \frac{4}{9}$$

جد قيمة y .

$$y = 2\left(6\frac{2}{9}\right) - 8 \quad \text{عوّض عن } x \text{ بالعدد } 6\frac{2}{9}$$

$$= 12\frac{4}{9} - 8 \quad \text{خاصية التوزيع}$$

$$= 4\frac{4}{9} \quad \text{بسّط}$$

إحداثيات رؤوس المثلث هي: $(-4, 7), (0, -8), \left(6\frac{2}{9}, 4\frac{4}{9}\right)$.

تحقق: قارن بين الإحداثيين اللذين وجدتهما، وبين إحداثيي الرأس الثالث في التمثيل البياني، ولاحظ

أن الإحداثيي x للرأس الثالث محصور بين العددين 6, 7، لذا فإن القيمة $6\frac{2}{9}$ معقولة، وكذلك الإحداثيي y محصور بين العددين 4, 5، ولذا فإن القيمة $4\frac{4}{9}$ معقولة أيضاً.

تحقق من فهمك ✓

$$5y \leq 2x + 9 \quad (4B)$$

$$y \leq -x + 6$$

$$9y \geq -2x + 5$$

$$y \geq -3x - 6 \quad (4A)$$

$$2y \geq x - 16$$

$$11y + 7x \leq 12$$

المثالان 1 , 2 حل كل نظام مما يأتي بيانياً:

$$\begin{array}{lll} (1) & y \leq 6 & (2) & y \leq -3x + 4 \\ & & & y \geq 2x - 1 \\ & & & y > -3 + x \\ (3) & y > -2x + 10 & & y \leq -3x - 3 \end{array}$$

مثال 3 (4) **مشتريات:** خصصت ليلي مبلغاً لا يتجاوز 350 ريالاً لشراء نوعين من الأقلام، يباع الأول في رزم تضم الواحدة منها 10 أقلام وثمانها 35 ريالاً، ويباع الثاني في رزم تضم الواحدة منها 8 أقلام وثمانها 25 ريالاً. فإذا أرادت ليلي شراء 40 قلمًا على الأقل من كلا النوعين. فاكتب نظام متباينات خطية يمثل هذا الموقف، ومثله بيانياً

مثال 4 أوجد إحداثيات رؤوس المثلث الناتج عن التمثيل البياني لكل نظام مما يأتي:

$$\begin{array}{ll} (5) & y \geq 2x + 1 \\ (6) & y \geq -2x - 4 \\ & y \leq 8 \\ & 4x + 3y \geq 8 \\ & 6y \leq x + 28 \\ & y \geq 13x - 34 \end{array}$$

تدرب وحل المسائل

المثالان 1 , 2 حل كل نظام مما يأتي بيانياً:

$$\begin{array}{lll} (7) & x < 3 & (8) & y > 3x - 5 \\ & & & y \leq 4 \\ & & & y \geq -4 \\ (10) & y \geq 0 & (11) & 6x - 2y \geq 12 \\ & & & 3x + 4y > 12 \\ & & & y < x \\ (13) & 5y < 2x + 10 & (14) & 3y - 2x \leq -24 \\ & & & y \geq \frac{2}{3}x - 1 \\ (15) & y > -\frac{2}{5}x + 2 & & 5y \leq -2x - 15 \end{array}$$

مثال 3 (16) **عمل جزئي:** يعمل سعيد عاملين جزئيين ويتقاضى على كل منهما أجرًا؛ فيتقاضى 20 ريالاً عن كل ساعة في العمل الأول، و 24 ريالاً عن كل ساعة في العمل الثاني، فإذا علمت أنه يعمل مدة لا تزيد على 25 ساعة في كلا العاملين أسبوعياً. فاكتب نظامًا من متباينتين يبين عدد الساعات التي يعملها في كل من العاملين؛ ليجمع مبلغًا لا يقل عن 1850 ريالاً في 8 أسابيع، ثم مثله بيانياً.

مثال 4 أوجد إحداثيات رؤوس المثلث الناتج عن التمثيل البياني لكل نظام مما يأتي:

$$\begin{array}{lll} (17) & x \geq 0 & (18) & y \geq 3x - 7 \\ & & & y \leq 8 \\ & & & x + y > 1 \\ (19) & x \leq 4 & & y > -3x + 12 \\ & & & y \leq 9 \\ (20) & -3x + 4y \leq 15 & (21) & 8y - 19x < 74 \\ & & & 38y + 26x \leq 119 \\ & & & 54y - 12x \geq -198 \\ & & & 2y + 5x > -12 \\ & & & 10y + 60 \geq 27x \\ (22) & 6y - 24x \geq -168 & & 8y + 7x > 10 \\ & & & 20y - 2x \leq 64 \end{array}$$

(23) اتصالات: يجري فهد مكالمات هاتفية من هاتفه المحمول مدتها لا تزيد على 800 دقيقة، بشرط أن لا يقل عدد دقائق الاتصال نهارًا عن ضعف عددها ليلاً، ولا يقل عدد دقائق الاتصال ليلاً عن 200 دقيقة. اكتب نظام متباينات يمثل الموقف، ومثله بيانياً.

(24) أشجار: تصنف الأشجار في الغابات تبعاً للارتفاع ومحيط الساق إلى أربع مجموعات، وبين الجدول الآتي ارتفاع ومحيط ساق أشجار كل مجموعة من هذه المجموعات في إحدى الغابات:

المجموعة	الأشجار المسيطرة	الأشجار المتوسطة	الأشجار شبه المسيطرة	الأشجار غير المسيطرة
الارتفاع (ft)	أكثر من 72	56-72	40-55	أقل من 39
محيط الساق (in)	أكثر من 60	48-60	34-48	أقل من 33



الربط مع الحياة

تصنّف الأشجار في الغابات وفقاً لوصول الضوء إلى أوراقها إلى أربعة أصناف: **المسيطرة:** أشجار يصل ضوء الشمس إلى أوراقها من أعلى فقط. **شبه المسيطرة:** أشجار يصل ضوء الشمس إلى أوراقها من أعلى ومن الجوانب. **المتوسطة المسيطرة:** أشجار ارتفاعها بسيط ويصل ضوء الشمس إلى أوراقها من أعلى فقط. **غير المسيطرة:**

أشجار تنمو أسفل مستوى الأشجار الأخرى، وتكون تحت ظل الأشجار الأخرى.

(a) اكتب نظام متباينات خطية يمثل مدى كل من: الارتفاع h ومحيط الساق c للأشجار شبه المسيطرة ومثله بيانياً.
(b) ما المجموعة التي تنتمي إليها شجرة زيزفون ارتفاعها 48ft؟ وما المدى الذي يقع فيه محيط ساقها؟

حل كل نظام مما يأتي بيانياً:

$$(25) \quad y \geq |2x + 4| - 2 \quad (26) \quad y \geq |6 - x| \quad (27) \quad |y| \geq x$$

$$3y + x \leq 15 \quad |y| \leq 4 \quad y < 2x$$

$$(28) \quad y > -3x + 1 \quad (29) \quad 6y + 2x \leq 9 \quad (30) \quad |x| > y$$

$$4y \leq x - 8 \quad 2y + 18 \geq 5x \quad y \leq 6$$

$$3x - 5y < 20 \quad y > -4x - 9 \quad y \geq -2$$

$$(31) \quad 2x + 3y \geq 6 \quad (32) \quad 8x + 4y < 10 \quad (33) \quad y \geq |x - 2| + 4$$

$$y \leq |x - 6| \quad y > |2x - 1| \quad y \leq [x] - 3$$

جد إحداثيات رؤوس الشكل الناتج عن التمثيل البياني لكل نظام مما يأتي:

$$(34) \quad y \geq 2x - 12 \quad (35) \quad y \geq -x - 8 \quad (36) \quad 2y - x \geq -20$$

$$y \leq -4x + 20 \quad 2y \geq 3x - 20 \quad y \geq -3x - 6$$

$$4y - x \leq 8 \quad 4y + x \leq 24 \quad y \leq -2x + 2$$

$$y \geq -3x + 2 \quad y \leq 4x + 22 \quad y \leq 2x + 14$$

(37) رياضة: يريد معلم التربية البدنية أن يختار من 10 إلى 15 لاعباً ليشكل فريق كرة سلة على أن يكون اللاعبون من طلاب الصفين الثاني والثالث، ويكون عدد اللاعبين من الصف الثالث أكثر من لاعبي الصف الثاني. اكتب نظام متباينات يمثل ذلك الموقف، ومثله بيانياً.





38 إدارة الوقت: يستثمر رامي وقت فراغه في تلاوة القرآن الكريم وممارسة الرياضة. فإذا كان مجمل وقت فراغه لا يتجاوز 20 ساعة أسبوعياً، ويقضي من 4 إلى 10 ساعات منها في ممارسة الرياضة، ولا يقل زمن تلاوته للقرآن الكريم عن 10 ساعات ولا يزيد على 14 ساعة. فاكتب نظام متباينات خطية يمثل ذلك الموقف، ومثله بيانياً.

مسائل مهارات التفكير العليا

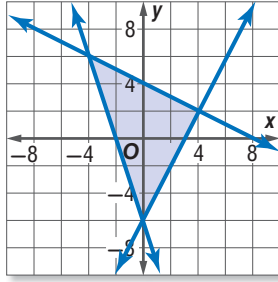
39 مسألة مفتوحة: اكتب نظاماً من متباينتين على أن يكون الحل:

(a) في الربع الثالث فقط.

(b) غير موجود.

(c) واقعاً على مستقيم.

(d) نقطة واحدة فقط.



40 تحدّد: في الشكل المجاور، اكتب نظام المتباينات التي تمثل

المنطقة المظللة حللاً له.

41 تبرير: هل الجملة الآتية صحيحة أم غير صحيحة، وإذا كانت غير

صحيحة فأعط مثلاً مضاداً.

"النظام المكون من متباينتين خطيتين إما أن يكون ليس له حل أو أن يكون له عدد لا نهائي من الحلول".

42 اكتب: وضح بخطوات مكتوبة طريقة تحديد منطقة التظليل عند حل نظام متباينات خطية بيانياً.

الربط مع الحياة

حث الإسلام على استثمار الوقت والحرص عليه، قال صلى الله عليه وسلم: "لا تزول قدما عبد يوم القيامة حتى يسأل عن عمره فيما أفناه، وعن ماله علمه فيم فعل، وعن ماله من أين اكتسبه وفيم أنفقه، وعن جسمه فيم أبلاه".

[رواه الترمذي].

تدريب على اختبار

44 إجابة قصيرة: إذا كانت $3x = 2y$, $5y = 6z$, فما قيمة x بدلالة z ؟

x	y
1	5
2	8
3	11
4	14
5	17
6	20

43 يبين الجدول المجاور العلاقة بين x و y . فأبى المعادلات الآتية تمثل هذه العلاقة؟

$y = 3x - 2$ **A**

$y = 3x + 2$ **B**

$y = 4x + 1$ **C**

$y = 4x - 1$ **D**

مراجعة تراكمية

مثل كل متباينة مما يأتي بيانياً: (الدرس 1-4)

$5x + 7y \geq -20$ **(47)**

$4x - 3y < 10$ **(46)**

$x + y \leq 6$ **(45)**

مثل كل دالة مما يأتي بيانياً، وحدد كلاً من مجالها ومداه: (الدرس 1-3)

$h(x) = [x] - 5$ **(49)**

$f(x) = |x - 3|$ **(48)**

إذا كان $f(x) = 2x + 5$, $g(x) = 3x - 4$, فأوجد قيمة كل مما يأتي: (الدرس 1-2)

$g(-0.75)$ **(52)**

$f(-0.25)$ **(51)**

$g(-2)$ **(50)**





الهدف

أستعمل الحاسبة
البيانية لحل
أنظمة متباينات
خطية.

يمكنك استعمال الحاسبة البيانية TI-nspire لحل أنظمة متباينات خطية بيانياً.

مثال

حل نظام من متباينتين خطيتين

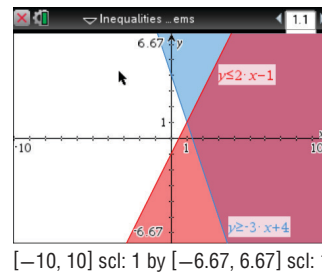
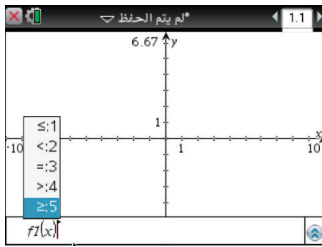
استعمل الحاسبة البيانية لحل النظام المكوّن من المتباينتين الآتيتين:

$$y \geq -3x + 4$$

$$y \leq 2x - 1$$

الخطوات:

- افتح الآلة الحاسبة بالضغط على on .
- من الشاشة الظاهرة اختر **1** مستند جديد (مستعملاً الأسهم).
- من الشاشة الظاهرة اختر **2** إضافة تطبيق الرسوم البيانية (مستعملاً on).
- اكتب المتباينة الأولى $y \geq -3x + 4$ ، وذلك بالضغط على مفتاح del ، ثم اختر الإشارة \geq مستعملاً الأسهم فتظهر $y \geq$ ، ثم أكمل كتابة المتباينة ثم اضغط enter .
- اكتب المتباينة الثانية $y \leq 2x - 1$ بالضغط على المفتاح tab ثم المفتاح del ، ثم اختر الإشارة \leq مستعملاً الأسهم فتظهر $y \leq$ ، ثم أكمل كتابة المتباينة ثم اضغط enter ، فتكون منطقة الحل هي منطقة التظليل المشترك.
- لاحظ نمط التظليل فوق المستقيم $y = -3x + 4$ ، وتحت المستقيم $y = 2x - 1$.
- إن منطقة الحل هي المنطقة الناتجة عن تقاطع نمطي التظليل، وهي المنطقة التي تحوي جميع النقاط التي تحقق النظام $y \geq -3x + 4, y \leq 2x - 1$.



تمارين:

استعمل الحاسبة البيانية لحل كل نظام من متباينتين مما يأتي:

$$y \geq 2 - x \quad (3)$$

$$y \leq x + 3$$

$$y + 5x \geq 12 \quad (6)$$

$$y - 3 \leq 10$$

$$\frac{1}{6}y - x \geq -3 \quad (9)$$

$$\frac{1}{5}y + x \leq 7$$

$$y \geq -4x \quad (2)$$

$$y \leq -5$$

$$2y \geq 3x - 1 \quad (5)$$

$$3y \leq -x + 7$$

$$10y - 7x \geq -19 \quad (8)$$

$$7y - 5x \leq 11$$

$$y \geq 3 \quad (1)$$

$$y \leq -x + 1$$

$$y \geq 2x + 1 \quad (4)$$

$$y \leq -x - 1$$

$$5y + 3x \geq 11 \quad (7)$$

$$3y - x \leq -8$$



البرمجة الخطية والحل الأمثل

Optimization with Linear Programming

1-6

لماذا؟

يبين الجدول أدناه أكبر وأقل عدد للأثواب المنتجة في اليوم الواحد من المقاسين الكبير والصغير، وتكلفة إنتاج كل ثوب منها في أحد المصانع الوطنية.

عدد الأثواب المنتجة في اليوم الواحد			
المقاس	أقل عدد	أكبر عدد	تكلفة إنتاج الثوب
صغير	600	1500	55 ريالاً
كبير	800	1700	70 ريالاً

إذا كان عدد الأثواب المطلوب إنتاجها من المقاسين في اليوم الواحد لا يقل عن 2000 ثوب، فكم ثوباً من كل مقاس يجب إنتاجه لتكون التكلفة أقل ما يمكن؟

هناك **قيود** إضافية على إنتاج المصنع ناجمة عن الطلب والشحن وكفاءة المصنع. وللتعبير عن هذه القيود يمكن استعمال أنظمة المتباينات الخطية.

القيمة العظمى والقيمة الصغرى: تواجه المصانع في كثير من الأحيان أوضاعاً ضمن قيود مختلفة وتسعى للوصول إلى أقل تكلفة أو إلى أعلى ربح. مثل هذه الأوضاع يمكن التعامل معها عادة باستعمال البرمجة الخطية.

البرمجة الخطية: هي طريقة لإيجاد القيمة العظمى أو الصغرى لدالة ما تحت قيود معينة كل منها عبارة عن متباينة خطية، وذلك بعد تمثيل نظام المتباينات بيانياً، وتقع القيمة العظمى أو الصغرى - إن وجدت - للدالة ذات الصلة دائماً عند أحد رؤوس منطقة الحل.

فيما سبق:

درست حل أنظمة متباينات خطية بيانياً.
(مهارة سابقة)

والآن:

- أجد القيمة العظمى والقيمة الصغرى لدالة ضمن منطقة الحل.
- أستعمل البرمجة الخطية لإيجاد الحل الأمثل لمسائل حياتية.

المضردات:

القيود

constraints

البرمجة الخطية

linear programming

محدودة

bounded

غير محدودة

unbounded

الحل الأمثل

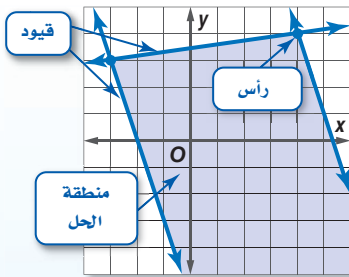
optimize

أضف إلى

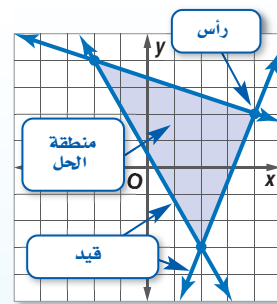
مطوبتك

منطقة الحل

مفهوم أساسي



إذا كانت منطقة الحل مفتوحة وممتدة، فهي بذلك **غير محدودة**، ويمكن أن تحتوي على قيمة عظمى أو قيمة صغرى.



إذا كانت منطقة الحل **محدودة** (مغلقة) أو محصورة بقيود كما في الشكل أعلاه، فإن القيمة العظمى والقيمة الصغرى للدالة تظهر دائماً عند رؤوس منطقة الحل.

رمز الدالة

يستعمل الرمز $f(x, y)$ للتعبير عن الدالة في المتغيرين x, y . وتقرأ f و x و y .

مثال 1

منطقة الحل المحدودة

مثل نظام المتباينات الآتي بيانياً، ثم حدّد إحداثيات رؤوس منطقة الحل، وأوجد القيمة العظمى والقيمة الصغرى للدالة المعطاة في هذه المنطقة:

$$3 \leq y \leq 6$$

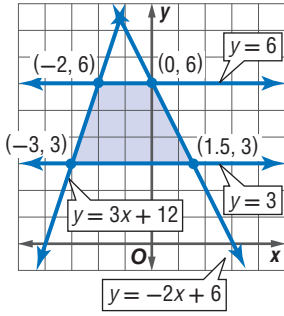
$$y \leq 3x + 12$$

$$y \leq -2x + 6$$

$$f(x, y) = 4x - 2y$$

الخطوة 1: مثل المتباينات بيانياً، وحدّد إحداثيات الرؤوس.

الخطوة 2: جد قيمة الدالة عند كل رأس.



(x, y)	$4x - 2y$	$f(x, y)$
$(-3, 3)$	$4(-3) - 2(3)$	-18
$(1.5, 3)$	$4(1.5) - 2(3)$	0
$(0, 6)$	$4(0) - 2(6)$	-12
$(-2, 6)$	$4(-2) - 2(6)$	-20

← قيمة عظمى

← قيمة صغرى

القيمة العظمى للدالة تساوي 0 وتكون عند النقطة $(1.5, 3)$ ، والقيمة الصغرى للدالة تساوي -20 وتكون عند النقطة $(-2, 6)$.

تحقق من فهمك

$$-6 \leq y \leq -2 \quad (1B)$$

$$y \leq -x + 2$$

$$y \leq 2x + 2$$

$$f(x, y) = 6x + 4y$$

$$-2 \leq x \leq 6 \quad (1A)$$

$$1 \leq y \leq 5$$

$$y \leq x + 3$$

$$f(x, y) = -5x + 2y$$

إذا نتج عن التمثيل البياني لنظام متبايناتٍ منطقةً مفتوحة وممتدة، فإنها تكون غير محدودة.

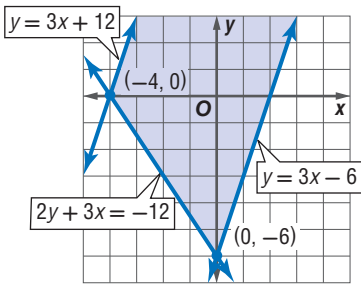
مثال 2

منطقة الحل غير المحدودة

مثل نظام المتباينات الآتي بيانياً، ثم حدّد إحداثيات رؤوس منطقة الحل، وأوجد القيمة العظمى والقيمة الصغرى للدالة المعطاة في هذه المنطقة:

$$2y + 3x \geq -12, y \leq 3x + 12, y \geq 3x - 6, f(x, y) = 9x - 6y$$

مثل المتباينات بيانياً، وأوجد قيمة الدالة عند كل رأس؛ لأن القيمة العظمى أو الصغرى - إن وجدت - تكون عند الرؤوس.



(x, y)	$9x - 6y$	$f(x, y)$
$(-4, 0)$	$9(-4) - 6(0)$	-36
$(0, -6)$	$9(0) - 6(-6)$	36

القيمة العظمى للدالة تساوي 36 وتكون عند النقطة $(0, -6)$ ، ولا توجد قيمة صغرى للدالة؛ لأن هناك نقطة أخرى في منطقة الحل وهي $(0, 8)$ وتُعطي القيمة -48 للدالة وهي أقل من -36 .

تحقق من فهمك

$$y \geq x - 9 \quad (2B)$$

$$y \leq -4x + 16$$

$$y \geq -4x - 4$$

$$f(x, y) = 10x + 7y$$

$$y \leq 8 \quad (2A)$$

$$y \geq -x + 4$$

$$y \leq -x + 10$$

$$f(x, y) = -6x + 8y$$

تنبيه

القيمة العظمى والصغرى

لا تفترض عدم وجود قيم عظمى أو صغرى إذا كانت منطقة الحل غير محدودة، بل اختبر قيمة الدالة عند كل رأس؛ لتحديد إذا كان هناك قيمة عظمى أو صغرى.

إيجاد الحل الأمثل: يُسمى البحث عن السعر أو الكمية الأفضل أو الأنسب لتقليل التكلفة أو زيادة الربح **الحل الأمثل**، ويمكنك الحصول على ذلك الحل باستعمال البرمجة الخطية.

مفهوم أساسي استعمال البرمجة الخطية لإيجاد الحل الأمثل

أضف الى مطويتك

- الخطوة 1 حدّد المتغيرات.
- الخطوة 2 اكتب نظام متباينات خطية يمثل المسألة.
- الخطوة 3 مثل نظام المتباينات بيانياً.
- الخطوة 4 جد إحداثيات رؤوس منطقة الحل.
- الخطوة 5 اكتب الدالة الخطية التي تريد إيجاد قيمتها العظمى أو الصغرى.
- الخطوة 6 عوض إحداثيات الرؤوس في الدالة.
- الخطوة 7 اختر القيمة العظمى أو الصغرى وفقاً لما هو مطلوب في المسألة.



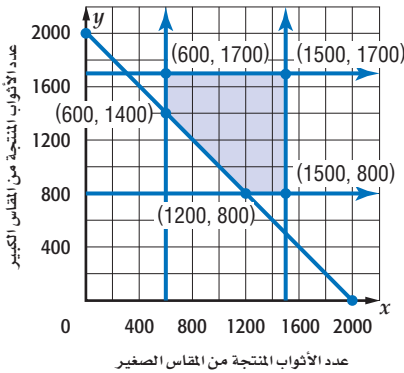
الربط مع الحياة

جاوز عدد مصانع الألبسة الجاهزة بالمملكة 300 مصنع، تغطي بإنتاجها المتميز نحو ثلث احتياجات السوق المحلية.

مثال 3 من واقع الحياة استعمال البرمجة الخطية لإيجاد الحل الأمثل

أعمال: عد إلى الموقف الوارد في بداية هذا الدرس، واستعمل البرمجة الخطية لإيجاد عدد القطع التي يتطلب إنتاجها من المقاسين، لتكون التكلفة أقل ما يمكن.

الخطوة 1: افرض أن x هي عدد الأثواب المنتجة من المقاس الصغير. y هو عدد الأثواب المنتجة من المقاس الكبير.



الخطوة 2: $600 \leq x \leq 1500$

$800 \leq y \leq 1700$

$x + y \geq 2000$

الخطوتان 3 و 4: مثل نظام المتباينات بيانياً كما في الشكل المجاور، ثم حدّد رؤوس منطقة الحل.

الخطوة 5: الدالة التي تريد إيجاد قيمتها الصغرى هي:

$$f(x, y) = 55x + 70y$$

الخطوة 6:

(x, y)	$55x + 70y$	$f(x, y)$
(600, 1700)	$55(600) + 70(1700)$	152000
(600, 1400)	$55(600) + 70(1400)$	131000
(1500, 1700)	$55(1500) + 70(1700)$	201500
(1500, 800)	$55(1500) + 70(800)$	138500
(1200, 800)	$55(1200) + 70(800)$	122000

← قيمة عظمى

← قيمة صغرى

الخطوة 7: يجب إنتاج 1200 ثوب من المقاس الصغير، و 800 ثوب من المقاس الكبير لتكون التكلفة أقل ما يمكن.

تحقق من فهمك

- (3) مجوهرات:** تصوغ أسماء من 10 إلى 25 عقداً، ومن 15 إلى 40 سواراً شهرياً. فإذا كانت أجرة صياغة العقد 50 ريالاً. وأجرة صياغة السوار 30 ريالاً، وصاغت في أحد الأشهر 30 قطعة من العقود والأساور على الأقل، فكم قطعة من كلا النوعين عليها صياغتها لتحصل على أكبر أجر؟

إرشادات للدراسة

منطقية الحل

اختبر منطقية حلك بالتأمل في سياق المسألة.

المثالان 1, 2

مثل كل نظام مما يأتي بيانياً، ثم حدّد إحداثيات رؤوس منطقة الحل، وأوجد القيمة العظمى والقيمة الصغرى للدالة المعطاة في هذه المنطقة:

$y \geq -3x + 2$ (3)	$y \leq -3x + 6$ (2)	$y \leq 5$ (1)
$9x + 3y \leq 24$	$-y \leq x$	$x \leq 4$
$y \geq -4$	$y \leq 3$	$y \geq -x$
$f(x, y) = 2x + 14y$	$f(x, y) = 8x + 4y$	$f(x, y) = 5x - 2y$
$y \leq 2x + 6$ (6)	$-3 \leq y \leq 7$ (5)	$-2 \leq y \leq 6$ (4)
$y \geq 2x - 8$	$4y \geq 4x - 8$	$3y \leq 4x + 26$
$y \geq -2x - 18$	$6y + 3x \leq 24$	$y \leq -2x + 2$
$f(x, y) = 5x - 4y$	$f(x, y) = -12x + 9y$	$f(x, y) = -3x - 6y$

مثال 3

(7) **ثقافة مالية:** يبلغ مجموع ساعات العمل اليومي لعمال قسم الإنتاج في مصنع للغسالات 200 ساعة على الأكثر، ولعمال قسم ضبط الجودة 90 ساعة على الأكثر، ويبين الجدول الآتي عدد الساعات التي يتطلبها إنتاج وضبط جودة نوعين من الغسالات.

الزمن اللازم لتصنيع الغسالة		
قسم ضبط الجودة	قسم الإنتاج	
ساعتان	5 ساعات	النوع الأول
ساعتان	4 ساعات	النوع الثاني

- (a) اكتب نظام متباينات يمثل هذا الموقف.
 (b) مثل نظام المتباينات بيانياً، وحدّد منطقة الحل.
 (c) حدّد إحداثيات رؤوس منطقة الحل.
 (d) إذا كان ربح الغسالة من النوع الأول 80 ريالاً، ومن النوع الثاني 50 ريالاً، فاكتب دالة تمثل الربح الكلي لكلا النوعين.
 (e) ما عدد الغسالات التي يجب تصنيعها من كل نوع للحصول على أكبر ربح ممكن؟ وما هو هذا الربح؟

تدرب وحل المسائل

المثالان 1, 2

مثل كل نظام مما يأتي بيانياً، ثم حدّد إحداثيات رؤوس منطقة الحل، وأوجد القيمة العظمى والقيمة الصغرى للدالة المعطاة في هذه المنطقة:

$x + 4y \geq 2$ (10)	$-3 \leq x \leq 2$ (9)	$-8 \leq y \leq -2$ (8)
$2x + 4y \leq 24$	$y \geq -2x - 6$	$y \leq x$
$2 \leq x \leq 6$	$4y \leq 2x + 32$	$y \leq -3x + 10$
$f(x, y) = 6x + 7y$	$f(x, y) = -4x - 9y$	$f(x, y) = 5x + 14y$
$y \geq x - 2 $ (13)	$x \geq -8$ (12)	$x \geq -6$ (11)
$y \leq 8$	$3x + 6y \leq 36$	$y + x \leq -1$
$8y + 5x \leq 49$	$2y + 12 \geq 3x$	$2x + 3y \geq -9$
$f(x, y) = -5x - 15y$	$f(x, y) = 10x - 6y$	$f(x, y) = -10x - 12y$

$$\begin{array}{lll}
 y \geq |x + 1| - 2 & (16) & -4 \leq x \leq 8 & (15) & y \leq x + 4 & (14) \\
 0 \leq y \leq 6 & & -8 \leq y \leq 6 & & y \geq x - 4 & \\
 -6 \leq x \leq 2 & & y \geq x - 6 & & y \leq -x + 10 & \\
 x + 3y \leq 14 & & 4y + 7x \leq 31 & & y \geq -x - 10 & \\
 f(x, y) = 5x + 4y & & f(x, y) = 12x + 8y & & f(x, y) = -10x + 9y &
 \end{array}$$

مثال 3 (17) صناعة: ينتج مصنع نوعين من وحدات الإنارة؛ يباع النوع الأول بسعر 25 ريالاً، أما النوع الثاني فيباع بسعر 35 ريالاً. فإذا كانت الطاقة الإنتاجية للمصنع لا تزيد على 450 وحدة إنارة يومياً، وكان على المصنع أن ينتج ما لا يقل عن 100 وحدة إنارة من النوع الأول وما لا يزيد على 200 وحدة إنارة من النوع الثاني، فما عدد وحدات الإنارة اللازم إنتاجها من كل نوع ليكون دخل المصنع اليومي أكبر ما يمكن؟

(18) طلاء: إذا كان الوقت المتاح لمعاذ لطلاء 45 جداراً وسقفًا متساوون في المساحة في أحد المباني هو 20 يومًا، ويستطيع معاذ لطلاء 2.5 جدار، أو سقفين في اليوم الواحد.

(a) اكتب نظام متباينات خطية يمثل هذا الموقف.

(b) مثل نظام المتباينات بيانيًا، وحدد منطقة الحل وإحداثيات رؤوسها.

(c) إذا كان معاذ يتقاضى 26 ريالاً عن طلاء الجدار، و 30 ريالاً عن طلاء السقف، فاكتب دالة تمثل المبلغ الكلي الذي سيتقاضاه.

(d) ما عدد الجدران والأسقف التي عليه طلاؤها ليتقاضى أكبر مبلغ؟ وما هو هذا المبلغ؟

(19) عقوبات: اكتب العبارة التالية باستخدام المتباينات، ثم مثلها بيانيًا، وحدد مجموعة من الحلول الممكنة وفسرها.

«يُعاقب بالسجن مدة لا تقل عن خمس سنوات ولا تزيد عن خمس عشرة سنة، وبغرامة من ألف ريال إلى خمسين ألف ريال؛ كل من حاز مادة مخدرة أو باعها أو اشتراها أو نقلها».

(20) شحن: يشحن مزارع منتجاته بالتعاون مع شركة شحن مختصة، وذلك في حاويات مبردة تبلغ حمولة الواحدة منها 4200 kg، وحجم الحيز الذي توضع فيه البضائع بداخلها 480 ft^3 ، وتوضع المنتجات في أثناء الشحن في صناديق بمقاسين؛ صغيرة حجمها 3 ft^3 وتزن 25 kg، وكبيرة حجمها 5 ft^3 وتزن 50 kg، وأجرة شركة الشحن هي 5 ريالات عن كل صندوق من المقاس الصغير، و 8 ريالات عن كل صندوق من المقاس الكبير.

(a) جد عدد الصناديق المشحونة من كلا النوعين لتكون الأجرة أكبر ما يمكن.

(b) ما أكبر أجرة ممكنة لحاوية الشحن؟

(21) إعادة التدوير: يقوم مصنع بإعادة تدوير ما لا يزيد على 1200 طن من البلاستيك شهرياً لصنع حاويات بمقاسين صغير وكبير، وعلى المصنع أن يستعمل ما لا يقل عن 300 طن في صنع الحاويات الصغيرة وما لا يقل عن 450 طنًا في صنع الحاويات الكبيرة. إذا كان المصنع يحقق ربحاً قدره 175 ريالاً لكل طن بلاستيك تم استعماله لصنع الحاويات الصغيرة، و 200 ريال لكل طن تم استعماله لصنع الحاويات الكبيرة، فما أكبر ربح يمكن تحقيقه؟ وما عدد الأطنان المستعملة لكل نوع من الحاويات لتحقيق ذلك الربح؟



الربط مع الحياة

صدر نظام مكافحة المخدرات في المملكة العربية السعودية عام 1426 هـ.



الربط مع الحياة

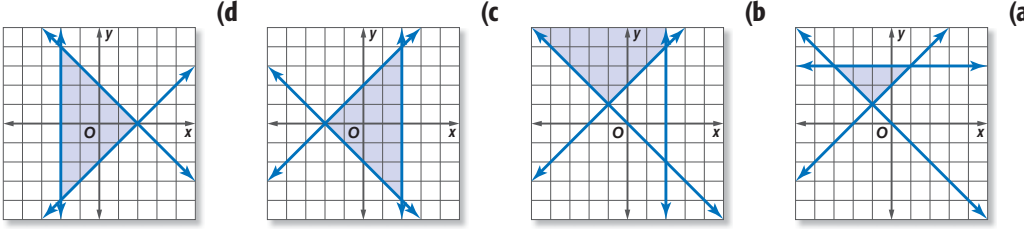
تدوير المواد يحمي الإنسان، ويقلل الاستهلاك، ويرشد الطاقة، ويقي البيئة من المخلفات والانبعاثات الضارة.

مسائل مهارات التفكير العليا

(22) **مسألة مفتوحة:** اكتب نظام متباينات خطية على أن تكون منطقة الحل محدودة وتقع في الربع الرابع فقط ومساحتها 20 وحدة مربعة.

(23) **تحديد:** جد مساحة المنطقة المحدودة بالمتباينات: $y \geq |x| - 3, y \leq -|x| + 3, x \geq |y|$.

(24) حدّد نظام المتباينات المختلف عن الأنظمة الثلاثة الأخرى فيما يأتي، وضح إجابتك.



(25) **تبرير:** حدّد إذا كانت الجملة الآتية صحيحة أحياناً أو صحيحة دائماً أو غير صحيحة أبداً. وضح إجابتك. "في المنطقة غير المحدودة لا يكون للدالة قيمة عظمى وقيمة صغرى في الوقت نفسه"

تدريب على اختبار

(27) **هندسة:** أي مما يأتي يُعد وصفاً مناسباً للتمثيل البياني للمعادلتين $y = 3x - 5, 4y = 12x + 16$ ؟

- A مستقيمان لهما المقطع y نفسه .
 B مستقيمان متعامدان.
 C مستقيمان لهما المقطع x نفسه .
 D مستقيمان متوازيان.

(26) حصل عامل على مبلغ 1950 ريالاً أجرة تبيط مساحة من الأرضيات والجدران في أحد البيوت، فإذا كانت أجرة تبيط المتر المربع من الأرضيات 12 ريالاً، وأجرة تبيط المتر المربع من الجدران 15 ريالاً وكان عدد أمتار بلاط الأرضيات يقل عن 3 أمثال عدد أمتار بلاط الجدران بـ 16m^2 ، فأى أنظمة المعادلات الآتية تمثل هذا الموقف؟

- A $x + y = 1950$
 B $12x + 15y = 1950$
 C $2x + 3y = 15$
 D $x - y = 1950$
 $x + 16 = 3y$
 $12x + 15y = 3$
 $x + y = 12$

مراجعة تراكمية

حل كل نظام مما يأتي بيانياً: (الدرس 1-5)

$$3y \leq 2x - 8 \quad (30)$$

$$y \geq \frac{2}{3}x - 1$$

$$4x - 3y < 7 \quad (29)$$

$$2y - x < -6$$

$$3x + 2y \geq 6 \quad (28)$$

$$4x - y \geq 2$$

حدّد مجموعة الأعداد التي ينتمي إليها كل عدد فيما يأتي: (الدرس 1-1)

$$-\frac{1}{3} \quad (32)$$

$$-7 \quad (31)$$



$$\sqrt{3} \quad (33)$$

المفردات

الدالة المتعددة التعريف	(12) الأعداد الحقيقية
الخطية (26)	(12) الأعداد النسبية
الدالة الدرجية (26)	(12) الأعداد غير النسبية
دالة أكبر عدد صحيح (26)	(12) الأعداد الصحيحة
دالة القيمة المطلقة (26)	(12) الأعداد الكلية
المتباينة الخطية (32)	(12) الأعداد الطبيعية
منطقة الحل (32)	(18) الدالة المتباينة
الحد (32)	(18) العلاقة المنفصلة
نظام المتباينات الخطية (37)	(18) العلاقة المتصلة
القيود (44)	اختبار الخط الرأسي (18)
البرمجة الخطية (44)	المتغير المستقل (21)
محدودة (44)	المتغير التابع (21)
غير محدودة (44)	رمز الدالة (21)
الحل الأمثل (46)	الدالة المتعددة التعريف (25)

اختبار المفردات

- حدد إذا كانت كل من العبارتين الآتيتين صحيحة أم خاطئة؟
- $\sqrt{12}$ ينتمي إلى مجموعة الأعداد النسبية.
 - تحتوي مجموعة الأعداد النسبية على الكسور العشرية المنتهية والدورية.
 - اختر المصطلح المناسب بين الأقواس لإكمال كل جملة فيما يأتي:
تكون الدالة (منفصلة، متباينة) إذا كان كل عنصر في المجال مرتبطاً بعنصر مختلف في المدى، على أن لا يكون لأكثر من عنصر في المجال الصورة نفسها.
 - (مجال، مدى) العلاقة هو مجموعة إحداثيات x للأزواج المرتبة التي تكوّن العلاقة.
 - تُسمى الدالة التي تكتب باستعمال تعبيرين أو أكثر دالة (خطية، متعددة التعريف).
- أكمل كل جملة فيما يأتي بالمصطلح المناسب:
- هي طريقة لإيجاد القيمة الصغرى أو العظمى لدالة تحت شروط معينة يُعبّر عنها بنظام من المتباينات.
 - إيجاد _____ يعني إيجاد السعر الأفضل أو التكلفة الأنسب باستعمال البرمجة الخطية.
 - تُسمى منطقة الحل المفتوحة _____.

ملخص الفصل

مفاهيم أساسية

خصائص الأعداد الحقيقية (الدرس 1-1)

- تُقسم مجموعة الأعداد الحقيقية إلى مجموعتين، هما: مجموعة الأعداد النسبية (Q)، ومجموعة الأعداد غير النسبية (I). أما مجموعة الأعداد النسبية فتحتوي: مجموعة الأعداد الصحيحة (Z)، ومجموعة الأعداد الكلية (W)، ومجموعة الأعداد الطبيعية (N).

العلاقات والدوال (الدرس 1-2)

- الدالة هي علاقة يرتبط فيها كل عنصر في المجال بعنصر واحد فقط في المدى.

دوال خاصة (الدرس 1-3)

- الدالة المتعددة التعريف: هي الدالة التي تكتب باستعمال أكثر من عبارة.

تمثيل المتباينات الخطية ومتباينات القيمة المطلقة

بيانياً (الدرس 1-4)

- يمكنك تمثيل المتباينة باتباع الخطوات الآتية:
الخطوة 1: مثل المعادلة الخطية المرتبطة بها، وحدد إذا كان حد المتباينة متقطعاً أو متصلًا.
الخطوة 2: اختر نقطة لا تقع على حد المتباينة واختبرها إن كانت تحقق المتباينة أم لا.
الخطوة 3: إذا كانت النقطة تحقق المتباينة، فظلّل المنطقة التي تحتوي على النقطة. وإلا فظلّل المنطقة الأخرى.

حل أنظمة المتباينات الخطية بيانياً (الدرس 1-5)

- يمكن إيجاد حل نظام متباينات خطية عن طريق تمثيل المتباينات بيانياً وإيجاد منطقة الحل، وهي المنطقة المشتركة بين حلول متباينات النظام، وإذا لم يكن هناك منطقة مشتركة فإن مجموعة الحل هي \emptyset .

البرمجة الخطية والحل الأمثل (الدرس 1-6)

- إيجاد القيمة الصغرى أو العظمى لدالة في منطقة على المستوى الإحداثي يحددها نظام متباينات يمثل قيوداً على الدالة.
- إيجاد الحل الأمثل يعني إيجاد السعر أو الكمية التي تجعل الربح أكبر ما يمكن، أو التكلفة أقل ما يمكن.

المطويات



تأكد من أن المفاهيم الأساسية مدونة في مطويتك.

مثال 1

حدّد مجموعات الأعداد التي ينتمي إليها العدد $\sqrt{50}$
 $\sqrt{50} = 5\sqrt{2}$ مجموعة الأعداد غير النسبية (I)، ومجموعة
 الأعداد الحقيقية (R)

مثال 2

بسّط العبارة: $-4(a + 3b) + 5b$

خاصية التوزيع $-4(a + 3b) + 5b = -4(a) + -4(3b) + 5b$

اضرب $= -4a - 12b + 5b$

بسّط $= -4a - 7b$

حدّد مجموعات الأعداد التي ينتمي إليها كل عدد مما يأتي :

(9) $1.\bar{3}$ (10) $\sqrt{4}$ (11) $-\frac{3}{4}$

بسّط كل عبارة مما يأتي :

(12) $4x - 3y + 7x + 5y$

(13) $2(a + 3) - 4a + 8b$

(14) $4(2m + 5n) - 3(m - 7n)$

(15) **مال:** اشترى سعد 3 شطائر بسعر 3.5 ريالاً للشطيرة

الواحدة، و 3 علب عصير بسعر 2.5 ريالاً للعلبة الواحدة.

(a) استعمل خاصية التوزيع لتكتب عبارتين تمثل كل منهما المبلغ الذي دفعه سعد.

(b) أوجد المبلغ الذي دفعه سعد باستعمال خاصية التوزيع.

مثال 3

حدد مجال العلاقة

$\{(2, 6), (3, -1), (-2, 4), (-1, 0), (-4, 3)\}$ ومداهها. ثم حدد

إن كانت تمثّل دالة أم لا. وهل هي متباينة أم لا؟

المجال: $\{-4, -2, -1, 2, 3\}$

المدى: $\{-1, 0, 3, 4, 6\}$

كل عنصر في المجال مرتبط بعنصر واحد فقط في المدى، مما يعني أن العلاقة تمثل دالة. العناصر المختلفة في المجال لها صور مختلفة في المدى، إذاً الدالة متباينة.

مثال 4

إذا كانت $f(x) = 4x - 3$ ، فأوجد $f(-2)$.

عوض عن x بـ -2 $f(-2) = 4(-2) - 3$

$= -8 - 3$

$= -11$



حدد مجال كلّ علاقة مما يأتي ومداهها، وبين ما إذا كانت دالة أم لا، وإذا كانت كذلك فهل هي متباينة أم لا؟

(16) $\{(1, 2), (3, 4), (5, 6), (7, 8)\}$

(17) $\{(-3, 0), (0, 2), (2, 4), (4, 5), (5, 2)\}$

(18) $\{(-4, 1), (3, 3), (1, 1), (-2, 5), (3, -4)\}$

(19) $\{(7, -4), (5, -2), (3, 0), (1, 2), (-1, 4)\}$

إذا كانت $f(x) = -3x + 2$ ، أوجد قيمة كل مما يأتي:

(20) $f(4)$ (21) $f(-3)$

(22) $f(0)$ (23) $f(y)$

(24) $f(-a)$ (25) $f(2w)$

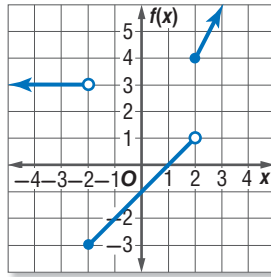
(26) **مناسبات:** تتقاضى مؤسسة لتجهيز المناسبات 100 ريالاً عن توصيل اللوازم لمكان المناسبة، و 4 ريالاً أجرة يومية عن كل كرسي. ويمكن تمثيل ما تتقاضاه هذه المؤسسة عند استئجار x كرسيًا بالمعادلة: $y = 100 + 4x$. أوجد مجال هذه المعادلة ومداهها، ثم حدد ما إذا كانت المعادلة دالة أم لا، وهل هي متصلة أم منفصلة؟

دوال خاصة (الصفحات: 25-30)

1-3

مثال 5

اكتب الدالة المتعددة التعريف الممثلة بيانياً في الشكل أدناه:



دالة الجزء الأيسر من التمثيل البياني هي $f(x) = 3$. الدائرة غير المظللة عند النقطة $(-2, 3)$ ، تعني أن الدالة الخطية معرّفة عندما $x < -2$.

دالة الجزء الأوسط من التمثيل البياني هي $f(x) = x - 1$. وتعني كل من الدائرة المظللة عند النقطة $(-2, -3)$ والدائرة غير المظللة عند النقطة $(2, 1)$ ، أن الدالة معرّفة عندما $-2 \leq x < 2$.

دالة الجزء الأيمن من التمثيل البياني هي $f(x) = 2x$. والدائرة المظللة عند النقطة $(2, 4)$ ، تعني أن الدالة معرّفة عندما $x \geq 2$.

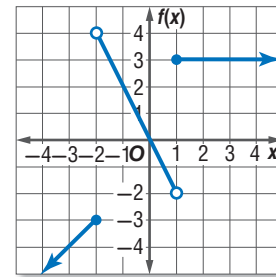
$$f(x) = \begin{cases} 3, & x < -2 \\ x - 1, & -2 \leq x < 2 \\ 2x, & x \geq 2 \end{cases}$$

مثّل كل دالة فيما يأتي بيانياً، ثم حدد مجالها ومداهما:

$$f(x) = \begin{cases} -2x, & x \leq -1 \\ x + 1, & -1 < x < 3 \\ x, & x \geq 3 \end{cases} \quad (27)$$

$$f(x) = \begin{cases} -3, & x < -1 \\ 4x - 3, & -1 \leq x \leq 3 \\ x, & x > 3 \end{cases} \quad (28)$$

29) اكتب الدالة المتعددة التعريف الممثلة بيانياً في الشكل أدناه:



مثّل كل دالة فيما يأتي بيانياً، ثم حدد كلاً من مجالها ومداهما:

$$f(x) = [x] + 2 \quad (30)$$

$$f(x) = [x + 3] \quad (31)$$

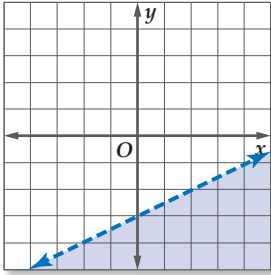


مثال 6

مثّل المتباينة $x - 2y > 6$ بيانياً.

بما أن المتباينة تحتوي على إشارة $>$ ، فإن حد المتباينة يكون متقطعاً، مثّل بيانياً المعادلة المرتبطة $x - 2y = 6$.

اختبر النقطة $(0, 0)$ التي لا تقع على حد المتباينة



$$x - 2y > 6$$

$$0 - 2(0) \stackrel{?}{>} 6$$

$$0 > 6$$

ظلّ المنطقة التي لا تحوي $(0, 0)$

مثّل كل متباينة فيما يأتي بيانياً:

$$y \geq 2x + 1 \quad (33) \quad x - 3y < 6 \quad (32)$$

$$y > -3x - 5 \quad (35) \quad 2x + 4y \leq 12 \quad (34)$$

$$y \geq |2x - 2| \quad (37) \quad y > |2x| \quad (36)$$

$$2y \leq |x - 3| \quad (39) \quad y + 3 < |x + 1| \quad (38)$$

(40) **شراء:** وفّر بندر 46 ريالاً لشراء مجموعة من الدفاتر، والأقراص المدمجة، فإذا كان سعر الدفتر الواحد 4 ريالات، وسعر القرص المدمج 3 ريالات، اكتب متباينة تمثّل عدد الدفاتر والأقراص المدمجة التي يمكن شراؤها، ثم مثّلها بيانياً.

1-5 حل أنظمة المتباينات الخطية بيانياً (الصفحات: 37-42)

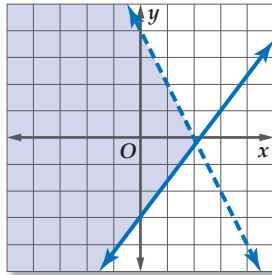
مثال 7

حل نظام المتباينات الآتي بيانياً:

$$y \geq \frac{3}{2}x - 3$$

$$y < 4 - 2x$$

منطقة الحل هي المنطقة التي كل نقطة من نقاطها تحقق كلتا المتباينتين، وهي المنطقة المظلّلة في الشكل أدناه.



حل كل نظام مما يأتي بيانياً:

$$|y| > 2 \quad (42) \quad y < 2x - 3 \quad (41)$$

$$x > 3$$

$$y \geq 4$$

$$y > x + 1 \quad (44) \quad y \geq x + 3 \quad (43)$$

$$x < -2 \quad 2y \leq x - 5$$

(45) **مجوهرات:** أمضى صائغ مجوهرات ما لا يزيد على 3 ساعات في صياغة الخواتم. فإذا كان الزمن الذي يتطلبه صياغة تجهيز المعدات 15 دقيقة، والزمن الذي يتطلبه صياغة الخاتم الواحد 25 دقيقة، فاكتب نظام متباينات يصف الموقف، ومثّله بيانياً.

مثال 8

زراعة: يزرع فيصل ما لا يزيد على 300 شتلة من نوعين من الأشجار في مزرعته التي مساحتها 5184 m^2 ، حيث تحتاج الشجرة الواحدة من النوع (A) إلى مساحة 6 m^2 ، ومن النوع (B) إلى 24 m^2 ، وذلك لتوفير مسافة كافية بين الأشجار. إذا كان سعر الشتلة الواحدة من النوع (A) 8 ريالات، وسعر الشتلة الواحدة من النوع (B) 12 ريالاً. فما عدد الشتلات من كل نوع الذي يجعل التكلفة أكبر ما يمكن؟

افرض أن x هي عدد الشتلات من النوع (A)، و y هي عدد الشتلات من النوع (B).

$$x \geq 0, y \geq 0$$

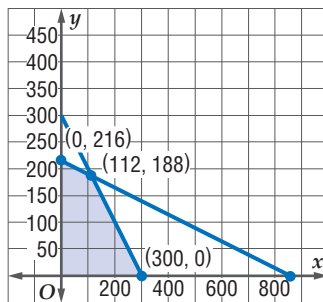
$$6x + 24y \leq 5184$$

$$x + y \leq 300$$

مثل المتباينات بيانياً، ولاحظ أن النقاط $(0, 0)$, $(300, 0)$, $(0, 216)$, $(112, 188)$ تمثل رؤوس منطقة الحل.

دالة التكلفة هي: $f(x, y) = 8x + 12y$.

القيمة 3152 ريالاً هي القيمة العظمى للتكلفة وتحصل عند النقطة $(112, 188)$. ولذلك إذا زرع فيصل 112 شتلة من النوع (A)، و 188 شتلة من النوع (B) فإن التكلفة تكون أكبر ما يمكن.



(46) تنسيق أزهار: يعمل جميل منسقاً للأزهار، ويقوم بتنسيق نوعين من باقات الأزهار. يحتاج النوع الأول منها إلى 18 دقيقة، والنوع الثاني إلى 10 دقائق. ولا يزيد عدد الباقات التي ينتجها أسبوعياً من النوع الثاني عن ضعف عدد باقات النوع الأول. فإذا كان جميل يعمل مدة لا تزيد على 40 ساعة أسبوعياً وكان ربحه في تنسيق الباقة من النوع الأول 10 ريالات، ومن النوع الثاني 25 ريالاً. فحدد عدد الباقات التي يجب عليه تنسيقها من كل نوع أسبوعياً ليحصل على أكبر ربح.

(47) صناعة: ينتج مصنع نوعين من الأحذية على مرحلتين، ويحتاج الحذاء من النوع الأول إلى ساعتين في المرحلة الأولى وساعة واحدة في المرحلة الثانية، ويحقق ربحاً قدره 20 ريالاً. أما الحذاء من النوع الثاني فيحتاج إلى ساعة واحدة في المرحلة الأولى و 3 ساعات في المرحلة الثانية ويحقق ربحاً قدره 15 ريالاً. فإذا كان مجموع ساعات العمل اليومي لموظفي المرحلة الأولى لا يزيد على 40 ساعة ولا يزيد على 60 ساعة لموظفي المرحلة الثانية، فما أكبر ربح يمكن أن تحققه الشركة يومياً؟ وما عدد الأحذية من كل نوع الذي يحقق هذا الربح؟

اختبار الفصل

حل كل نظام مما يأتي بيانياً :

$$2x + 3y > 12 \quad (13) \quad x + y \leq 4 \quad (12)$$

$$3x - y < 21 \quad y \geq x$$

$$2y - 5x \leq 6 \quad (15) \quad x - y > 0 \quad (14)$$

$$4x + y < -4 \quad 4 + y \leq 2x$$

(16) اختيار من متعدد: استأجر خالد سيارة ليوم واحد من إحدى الشركات، فدفع 100 ريال أجرة يومية وريالاً واحداً عن كل كيلومتر تقطعه السيارة بعد قطعها مسافة 200 كيلومتر، أما سعيد فاستأجر سيارة من شركة أخرى، ليوم واحد أيضاً فدفع 50 ريالاً أجرة يومية وريالين عن كل كيلومتر تقطعه السيارة بعد قطعها مسافة 200 كيلومتر. فما عدد الكيلومترات التي تجعل قيمة الاستئجار من الشركتين متساوية؟

$$304 \quad C \quad 292 \quad A$$

$$275 \quad D \quad 250 \quad B$$

(17) نجارة: تصنع ورشة نجارة طاولات ومقاعد ثم تقوم بطلائها. ويبين الجدول الآتي الزمن الذي تتطلبه صناعة وطلاء كل من الطاولة والمقعد:

المنتج	زمن الصناعة بالساعات	زمن الطلاء بالساعات
مقعد	3	0.5
طاولة	2	1

إذا كان مجموع ساعات عمل فنيي صناعة المنتجات 108 ساعات يومياً، ومجموع ساعات عمل فنيي دهان المنتجات 20 ساعة يومياً، وكان ربح الورشة من الطاولة الواحدة 35 ريالاً، ومن المقعد الواحد 25 ريالاً فكم طاولة ومقعداً يجب صنعهما يومياً ليكون الربح أكبر ما يمكن؟

(a) بفرض أن عدد الطاولات t ، وعدد الكراسي c ، اكتب نظام متباينات يمثل الموقف.

(b) مثل منطقة الحل بيانياً.

(c) جد عدد الطاولات وعدد المقاعد التي يجب صنعها ليكون الربح أكبر ما يمكن. وما أكبر ربح؟

مثل نظام المتباينات الآتي بيانياً، وحدد إحداثيات رؤوس منطقة الحل، ثم أوجد القيمة العظمى والصغرى للدالة المعطاة في منطقة الحل:

$$-3 \leq y \leq 5, \quad 4x + y \leq 5, \quad -2x + y \leq 5 \quad (18)$$

$$f(x, y) = 4x - 3y$$

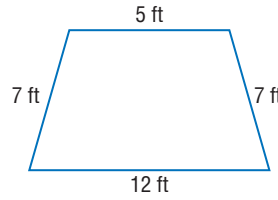
(1) بسّط العبارة: $-4(3a + b) - 2(a - 5b)$.

(2) اختيار من متعدد: إذا كان $3m + 5 = 23$ ، فما قيمة $2m - 3$ ؟

$$9 \quad C \quad 105 \quad A$$

$$6 \quad D \quad \frac{47}{3} \quad B$$

(3) بستنة: يريد عبد الله تصميم 3 أحواض للورود في حديقة منزله، فأحاط كلاً منها بسياج.



فإذا كانت الأحواض الثلاثة متطابقة ولها الشكل المجاور، فكم قدمًا من السياج يحتاج إليه لإحاطة الأحواض الثلاثة؟

(4) إذا كان $x = \frac{2}{3}$ ، $y = -2$ فأوجد قيمة $\frac{3(x+y)}{4xy^2}$.

(5) حدد مجال العلاقة المبيّنة في الجدول الآتي ومداهما، ثم حدد إذا كانت تمثل دالة أم لا، وهل هي متباينة أم لا؟

x	y
-2	3
4	-1
3	2
6	3

إذا كانت $f(x) = -2x + 3$ ، فأوجد قيمة كل مما يأتي:

$$f(-4) \quad (6) \quad f(3y) \quad (7)$$

(8) اختيار من متعدد: إذا كانت تكلفة إنتاج x فطيرة جبن في أحد المخابز يُعبّر عنها بالدالة $C(x) = 6 + 0.75x$ ، فأوجد تكلفة إنتاج 20 فطيرة.

$$21 \text{ ريالاً} \quad C \quad 13.5 \text{ ريالاً} \quad A$$

$$38.4 \text{ ريالاً} \quad D \quad 28.61 \text{ ريالاً} \quad B$$


(9) مثل الدالة $f(x)$ بيانياً.

$$f(x) = \begin{cases} -x, & x < -2 \\ x + 2, & -2 \leq x \leq 2 \\ 5, & x > 2 \end{cases}$$

مثل كل متباينة فيما يأتي بيانياً:

$$2x + 6y < -12 \quad (11)$$

$$y \geq 4x - 1 \quad (10)$$



الأسئلة ذات الإجابات القصيرة

تتطلب منك الأسئلة ذات الإجابات القصيرة أن تقدم لها حلاً، متضمناً الطريقة والتبريرات والتفسيرات التي استعملتها. وفي العادة يتم تصحيح هذه الأسئلة وتُحدّد درجاتها باستعمال سلالمة التقدير. وهذا مثال على تصحيح هذا النوع من الأسئلة.

سلالم التقدير		
الدرجة	المعايير	
2	الإجابة صحيحة مدعمة بتفسيرات كاملة توضح كل خطوة.	درجة كاملة
1	• الإجابة صحيحة، لكن التفسيرات ليست كاملة. • الإجابة غير صحيحة، لكن التفسيرات صحيحة.	درجة جزئية
0	لم يُقدم أي إجابة، أو أن الإجابة ليس لها معنى.	لا يستحق درجة

استراتيجيات حل الأسئلة ذات الإجابة القصيرة

خطوة 1

- اقرأ المسألة جيداً؛ كي تفهم الشيء الذي تحاول حله.
- حدد الحقائق ذات العلاقة.
- ابحث عن الكلمات المفتاحية والمصطلحات الرياضية.

خطوة 2

- ضع خطة وحل المسألة.
- فسّر تبريرك أو اعرض الطريقة التي ستتبعها لحل المسألة.
- اكتب الحل كاملاً مبيّناً الخطوات جميعها.
- تحقق من إجابتك إذا سمح الوقت بذلك.

مثال

اقرأ المسألة الآتية جيداً، وحدد المطلوب. ثم استعمل المعلومات الواردة في حل السؤال، وكتب خطوات الحل.

قدّمت شركتا اتصالات عروضاً للجمهور على النحو التالي: قيمة الاشتراك الشهري للشركة A هي 14.5 ريالاً مضافاً إليه 0.05 ريال عن كل دقيقة اتصال، وقيمة الاشتراك الشهري للشركة B هو 20.00 ريالاً مضافاً إليه 0.04 ريال عن كل دقيقة اتصال. أوجد عدد الدقائق التي يمكن أن يستخدمها المشترك، بحيث يدفع المبلغ نفسه شهرياً لكلا الشركتين.



اقرأ السؤال بعناية؛ لديك معلومات عن شركتين مختلفتين للاتصالات، والعروض للاشتراكات الشهرية المقدمة من كلٍّ منها. حيث إن قيمة الفاتورة تعتمد على قيمة ثابتة للاشتراك الشهري، بالإضافة إلى مبلغ متغير يعتمد على عدد دقائق الاتصال، والمطلوب منك تحديد عدد الدقائق التي يمكن استخدامها من قبل المشترك لكلٍّ من الشركتين بحيث يدفع المبلغ نفسه، ويمكنك تكوين نظام معادلتين آتيتين وحله.

إجابة تستحق الدرجة الكاملة (2).

كوّن نظامًا من معادلتين، وحلّه.

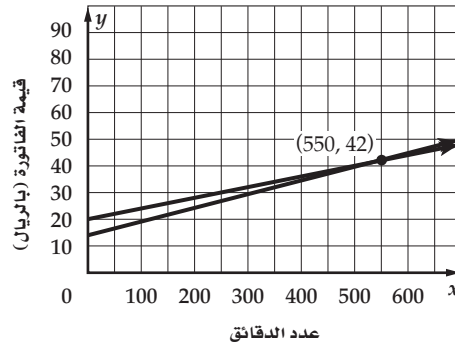
قيمة الفاتورة الشهرية = قيمة الاشتراك الشهري + تكلفة الدقيقة × عدد الدقائق.

افترض أن y = قيمة الفاتورة الشهرية، و x = عدد الدقائق المستعملة شهريًا.

$$y = 14.5 + 0.05x \quad (\text{الشركة } A)$$

$$y = 20 + 0.04x \quad (\text{الشركة } B)$$

حل النظام بيانيًا.



حل النظام هو (550, 42)، أي أن المشترك سيدفع 42 ريالاً إذا اتصل 550 دقيقة شهريًا، سواءً أكان مشتركاً في الشركة A أو B.

خطوات الحل والحسابات والتبريرات واضحة، وتوصل الطالب إلى الإجابة الصحيحة، إذن تستحق هذه الإجابة درجتين.

تمارين ومسائل

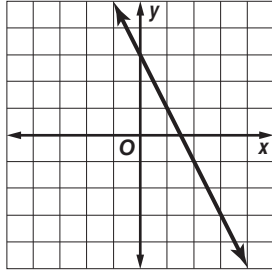
اقرأ كل سؤال فيما يأتي، وحدد المطلوب، ثم استعمل المعلومات الواردة في السؤال، واكتب خطوات الحل:

(2) يرغب خالد في شراء بعض الأدوات المدرسية بحيث لا يدفع أكثر من 50 ريالاً، فإذا كان ثمن المسطرة الواحدة 4.75 ريالاً، وثمان القلم الواحد 6.5 ريالاً، وأراد شراء قطعتين من كل نوع على الأقل، اكتب نظام المتباينات، ومثل منطقة الحل على المستوى الإحداثي. ثم أعط ثلاثة حلول مختلفة.

(1) اقترح عليّ ومحمود مبلغ 11000 ريال لشراء آلة زراعية لبدء مشروعهم التجاري لقص الحشائش في الحدائق، فإذا كانوا يتفاوضون مبلغ 245 ريالاً أجرة من كل زبون لقص حشائش الحديقة الواحدة، ويدفعون 20.5 ريالاً بدل صيانة وثماناً للمحروقات، فبعد كم حديقة سيبدوون في تحقيق الربح.

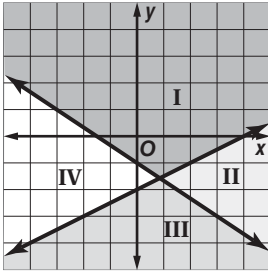
أسئلة الاختيار من متعدد

(5) ميل المستقيم الممثل بيانياً على المستوى الإحداثي الآتي هو:



- 1/2 C -2 A
2 D 1/2 B

(6) على الشكل أدناه منطقة حل النظام:



$$y \leq 1 - 2x - 2$$

$$y \leq -\frac{2}{3}x - 1$$

- I المنطقة A
II المنطقة B
III المنطقة C
IV المنطقة D

(7) النقطة التي لا تمثل رأساً لمنطقة حل النظام:

$$x \geq 0, y \geq 0, y \leq -2x + 6$$

- (0, 6) C (0, 0) A
(3, 0) D (0, 3) B

اختر رمز الإجابة الصحيحة فيما يأتي:

(1) إذا كانت $f(x) = \frac{1}{3}x^2 + \frac{4}{3}x$ ، فما قيمة $f(-3)$ ؟

- 6 C -7 A
4 D -1 B



(2) يمكن حساب حجم المخروط الدائري القائم الذي ارتفاعه h وطول نصف قطر قاعدته r بضرب ثلث π في الارتفاع في مربع نصف قطر القاعدة. فأأي المعادلات الآتية تمثل حجم المخروط المجاور؟

$$V = \frac{1}{3}\pi r h \quad C \qquad V = \frac{1}{3}\pi r^2 h \quad A$$

$$V = \frac{1}{3}\pi r h^2 \quad D \qquad V = 3\pi r^2 h \quad B$$

(3) أي مجموعات الأعداد الآتية لا ينتمي إليها العدد 25؟

- A الأعداد الصحيحة
B الأعداد النسبية
C الأعداد الحقيقية
D الأعداد الكلية

(4) مجال العلاقة الموضحة في الجدول الآتي هو:

x	y
-3	4
1	-1
2	0
6	-3

- {0, 1, 2, 4, 6} A
{-3, -1, 0, 4} B
{-3, 1, 2, 6} C
{-3, -1} D



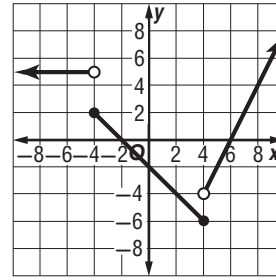
أسئلة ذات إجابات قصيرة

أجب عن كل مما يأتي:

(8) بسّط العبارة أدناه:

$$-4(3a - b) + 3(-2a + 5b)$$

(9) اكتب معادلة الدالة المتعددة التعريف الممثلة بيانياً في الشكل أدناه:



(10) جد قيمة الدالة المتعددة التعريف في التمرين (9) عند $x = -3$.

أسئلة ذات إجابات مطولة

أجب عن كل مما يأتي موضعاً خطوات الحل:

(11) مثل المتباينة $-2 \leq |x|$ بيانياً.

(12) قدّر مدير مخبز الربح في كل قطعة كعك يبيعها بـ 0.45 ريال، ولكل فطيرة 0.5 ريال.

(a) يأمل مدير المخبز أن يحصل على ربح لا يقل عن 150 ريالاً من بيع الكعك والفطائر يومياً. افترض أن x عدد قطع الكعك المبيعة، و y عدد الفطائر المبيعة، اكتب متباينة تمثل هذا الموقف.

(b) مثل المتباينة بيانياً.

(c) إذا باع المخبز 180 قطعة كعك و 160 فطيرة في يوم ما، فهل سيحصل على الربح المطلوب؟ فسر إجابتك.

(13) تُعد فاطمة نوعين من أطباق الحلوى؛ ويحتاج النوع الأول إلى 5 أكواب من الدقيق، وكوبين من السكر، أما النوع الثاني فيحتاج إلى 5 أكواب من الدقيق، وكوب واحد من السكر. فإذا كان لديها 40 كوباً من الدقيق، و 15 كوباً من السكر، وتكلفة إعداد طبق من النوع الأول 12 ريالاً، وطبق من النوع الثاني 8 ريالات.

(a) اكتب نظام متباينات خطية يمثل عدد الأطباق التي يمكن لفاطمة إعدادها باستعمال الكميات المتوفرة.

(b) مثل نظام المتباينات الخطية الذي حصلت عليه في (a) بيانياً، واكتب إحداثيات نقاط رؤوس منطقة الحل.

(c) اكتب دالة تمثل التكلفة.

(d) ما عدد الأطباق من كل نوع الذي يجعل التكلفة أكبر ما يمكن؟ وما التكلفة في هذه الحالة؟

هل تحتاج إلى مساعدة إضافية؟

13	12	11	10	9	8	7	6	5	4	3	2	1	إذا لم تستطع حل سؤال ...
1-6	1-6	1-4	1-3	1-3	1-1	1-6	1-5	مهارة سابقة	1-2	1-1	1-2	1-2	فعد إلى ...

المصفوفات Matrices

الفصل 2



فيما سبق:

درست حل نظام من المعادلات .

والآن:

- أنظم البيانات في مصفوفة.
- أجري العمليات على المصفوفات.
- أحسب المحددات.
- أجد النظير الضربي لمصفوفة من الرتبة 2×2 .
- أستعمل المصفوفات لحل نظام من المعادلات.

لماذا؟

تنظيم البيانات: غالباً

ما تستعمل المصفوفات لتنظيم البيانات، فمثلاً إذا نُظِم الطلاب المشاركون في الألعاب الرياضية المختلفة من مدرستين ثانويتين في مصفوفات مختلفة، فإن أعداد جميع الطلاب المشاركين في هذه الألعاب يمكن الحصول عليها بجمع المصفوفات.

منظم أفكار

المطويات


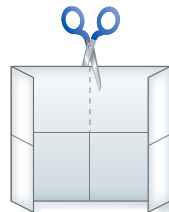
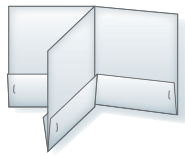
المصفوفات: اعمل هذه المطوية لتساعدك على تنظيم ملاحظتك حول المصفوفات، مبتدئاً بورقة A4.

4 اكتب على كل جيب عنواناً لدرس من دروس الفصل، و اكتب عنوان الفصل.

3 أعد الطي، ثم ثبت الجيوب مستعملاً الدباسة.

2 اطو الورقة الناتجة إلى أرباع، ثم قص كما في الشكل.

1 اثن حافة الورقة بعرض 2cm بموازية الضلعين القصيرين.





التهيئة للفصل 2

تشخيص الاستعداد:

أجب عن الاختبار الآتي، وارجع إلى "المراجعة السريعة"؛ لمساعدتك على ذلك.

مراجعة سريعة

مثال 1

أوجد كلاً من النظير الجمعي والنظير الضربي للعدد -5

النظير الجمعي للعدد -5 هو العدد x ، بحيث إن
 $-5 + x = 0$ ؛ لذا فإن $x = 5$.

النظير الضربي للعدد -5 هو العدد y ، حيث إن $-5y = 1$ ؛
 لذا فإن $y = -\frac{1}{5}$.

اختبار سريع

أوجد كلاً من النظير الجمعي والنظير الضربي لكل عدد مما يأتي: (يُستعمل مع الدروس 2-2 إلى 2-5)

(1) 4 (2) -15

(3) 0.2 (4) -1.35

(5) $-\frac{3}{4}$ (6) $2\frac{1}{3}$

مثال 2

بسّط العبارة: $\frac{3}{4}(8x - 4) + 3x$

$$\frac{3}{4}(8x - 4) + 3x$$

خاصية التوزيع $= \frac{3}{4}(8x) - \frac{3}{4}(4) + 3x$

بسّط $= 6x - 3 + 3x$

اجمع الحدود المتشابهة $= 9x - 3$

بسّط كل عبارة مما يأتي: (يُستعمل مع الدروس 2-1 إلى 2-5)

(7) $6(x + 2y)$

(8) $4(x + 5) - 3$

(9) $-4(3x) - (7x - 6)$

(10) $5(2x - 5) - \frac{1}{3}(4x + 1)$

(11) $6(2x - 1) - 3(y - x) + 0.5(4x - 6)$

مثال 3

حل نظام المعادلتين الآتي جبرياً:

$$3y = x - 9$$

$$4x + 5y = 2$$

بما أن معامل x في المعادلة الأولى هو 1، فاستعمل طريقة التعويض. أولاً: حل المعادلة بالنسبة للمتغير x .

$$3y = x - 9 \rightarrow x = 3y + 9$$

عوض $3y + 9$ بدلاً من x $4(3y + 9) + 5y = 2$

خاصية التوزيع $12y + 36 + 5y = 2$

اجمع الحدود المتشابهة $17y = -34$

بقسمة الطرفين على 17 $y = -2$

ولإيجاد قيمة x ، استعمل المساواة $-2 = y$ في المعادلة الأولى.

عوض عن y بـ -2 $3(-2) = x - 9$

بالضرب $-6 = x - 9$

اجمع 9 للطرفين $3 = x$

فيكون الحل $(3, -2)$.

حل نظام المعادلتين في كل مما يأتي جبرياً: (يُستعمل مع الدرس 2-5)

(12) $2x - y = -1$ (13) $2x - 5y = -18$

$y = x + 3$ (14) $4x + 2y = 4$

(15) $4y + 6x = -6$ (16) $5y - x = 35$

جوائز: توزع مدرسة جوائز (حقائب وأقلام) كل عام على المتفوقين، بلغ إجمالي ثمنها هذا العام 534 ريالاً، وكان سعر الحقيبة 30 ريالاً، وسعر القلم 9 ريالات، أما في العام السابق فبلغ إجمالي ثمن الجوائز 448 ريالاً، وكان سعر الحقيبة 25 ريالاً، وسعر القلم 8 ريالات. اكتب نظاماً من معادلتين، ثم حله لتجد عدد الحقائب والأقلام المشتراة في كل عام، علمًا بأن الحقائب والأقلام لها العدد نفسه في العامين.

مقدمة في المصفوفات

Introduction to Matrices

لماذا؟

هاتف محمول: حصل صالح على عدة عروض لشراء هاتف محمول حسب النوع، وسعة الذاكرة، والسعر. وحتى يكون قادرًا على المقارنة بين العروض بسهولة، نظم البيانات في مصفوفة كما يلي:

النوع	سعة الذاكرة	السعر	
العرض الأول	a	256	2600
العرض الثاني	b	256	2500
العرض الثالث	c	128	2420
العرض الرابع	d	64	2390

تنظيم البيانات: المصفوفة هي ترتيب على هيئة مستطيل لمتغيرات أو أعداد في صفوف أفقية وأعمدة رأسية، محصورة بين قوسين. وتُنظم الأعداد أو البيانات في المصفوفة بحيث يكون الموقع في المصفوفة ذا معنى. وتُسمى كل قيمة في المصفوفة **عنصرًا**. ويرمز إلى المصفوفة عادة باستعمال حرف كبير تحتها خط مثل \underline{A} و \underline{B} .

$$A = \begin{bmatrix} 8 & -2 & 5 & 6 \\ -1 & 3 & -3 & 6 \\ 7 & -8 & 1 & 4 \end{bmatrix}$$

ثلاثة صفوف
4 أعمدة

العنصر -1 موجود في الصف 2، والعمود 1، ويرمز إليه بالرمز a_{21} .

العنصر -8 موجود في الصف 3، والعمود 2، ويرمز إليه بالرمز a_{32} .

يمكنك تحديد نوع المصفوفة **بترتيبها**؛ فالمصفوفة المكونة من m صفًا و n عمودًا يقال عنها مصفوفة من الرتبة $m \times n$ أو من النوع $m \times n$ (تقرأ " m في n "). فالمصفوفة \underline{A} في الأعلى هي مصفوفة من النوع 3×4 أو من الرتبة 3×4 ؛ لأنها تحتوي على 3 صفوف، و 4 أعمدة. ويدل الرمز a_{12} على عنصر في المصفوفة \underline{A} ، على حين يدل الرمز b_{12} على عنصر في المصفوفة \underline{B} .

مثال 1 رتبة المصفوفة وعناصرها

استعمل المصفوفة $\underline{A} = \begin{bmatrix} -18 & 6 & 38 \\ 9 & -9 & 22 \end{bmatrix}$ للإجابة عن كلِّ ممَّا يأتي:

(a) حدد رتبة المصفوفة \underline{A} .

(b) ما قيمة العنصر a_{21} ؟

$$\begin{bmatrix} -18 & 6 & 38 \\ 9 & -9 & 22 \end{bmatrix}$$

صف 2
عمود 1

بما أن العنصر a_{21} موجود في الصف 2، والعمود 1، فإن قيمته هي 9.

$$\left\{ \begin{bmatrix} -18 & 6 & 38 \\ 9 & -9 & 22 \end{bmatrix} \right.$$

3 صفان
3 أعمدة

بما أن \underline{A} فيها صفان و 3 أعمدة، فإن رتبته 2×3 .

تحقق من فهمك

$$\underline{B} = \begin{bmatrix} 10 & -8 \\ -2 & 19 \\ 6 & -1 \end{bmatrix}$$

(1A) ما رتبة \underline{B} ؟

(1B) ما قيمة b_{32} ؟

فيما سبق:

درست حل مسائل باستعمال تنظيم البيانات في جداول. (مهارة سابقة)

والآن:

- أنظم بيانات في مصفوفة.
- أستعمل العمليات على عناصر صفوف أو أعمدة مصفوفة لتحليل البيانات.

المفردات:

المصفوفة matrix

العنصر element

الرتبة order

مصفوفة الصف row matrix

مصفوفة العمود column matrix

المصفوفة المربعة square matrix

المصفوفة الصفرية zero matrix

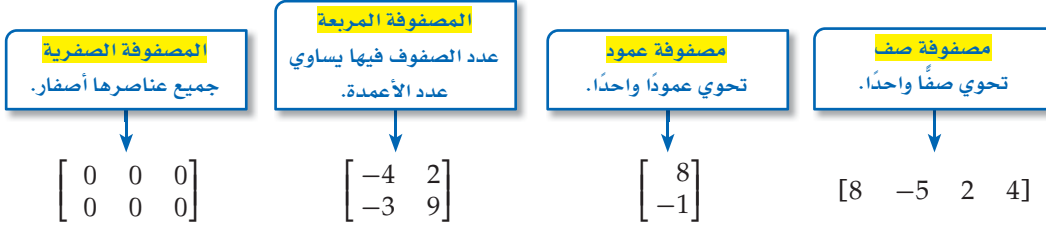
المصفوفات المتساوية equal matrices

قراءة الرياضيات

يدل الرمز a_{ij} على العنصر الواقع في الصف i والعمود j من المصفوفة \underline{A} .



بعض المصفوفات لها تسميات خاصة.



تكون **المصفوفتان متساويتين** إذا كانتا من الرتبة نفسها ، وتساوت عناصرهما المتناظرة.

$$\begin{bmatrix} 5 & 6 & 0 \\ 0 & 7 & 2 \\ 3 & 1 & 4 \end{bmatrix} = \begin{bmatrix} 5 & 6 & 0 \\ 0 & 7 & 2 \\ 3 & 1 & 4 \end{bmatrix} \quad \begin{bmatrix} 1 & 4 \\ 6 & -5 \end{bmatrix} \neq \begin{bmatrix} 1 & 6 \\ 4 & -5 \end{bmatrix} \quad \begin{bmatrix} -3 & 4 \\ 6 & 3 \\ 5 & 2 \end{bmatrix} \neq \begin{bmatrix} 4 & 3 & 2 \\ -3 & 6 & 5 \end{bmatrix}$$

المصفوفتان متساويتان.

ليست جميع العناصر المتناظرة متساوية.

المصفوفتان لهما رتبتان مختلفتان.

إرشادات للدراسة

العناصر المتناظرة

يدل التناظر على العناصر التي تقع بالضبط في الموقع نفسه من كل مصفوفة.

تستعمل المصفوفات لتنظيم البيانات وتحليلها.

تنظيم البيانات في مصفوفة

مثال 2 من واقع الحياة

كرة قدم: رصد مدرب أحد فرق كرة القدم إنجازات ثلاثة لاعبين في مباريات الموسم الحالي فكانت على النحو الآتي:

ياسر: 20 مباراة، 31 تسديدة، 20 تمريرة، 30 قطع تمريرات، 4 أهداف.

ماجد: 18 مباراة، 43 تسديدة، 170 تمريرة، 40 قطع تمريرات، 11 هدفاً.

معاذ: 12 مباراة، 24 تسديدة، 113 تمريرة، 15 قطع تمريرات، 4 أهداف.

(a) نظم البيانات في مصفوفة A ، على أن تُرتب أسماء اللاعبين تنازلياً حسب عدد التسديدات.

(b) حدد رتبة المصفوفة. وما قيمة a_{23} ؟

	الأهداف	قطع التمريرات	التمريرات	التسديدات	المباريات
ماجد	11	40	170	43	18
ياسر	4	30	20	31	20
معاذ	4	15	113	24	12

(b) هناك 3 صفوف، و 5 أعمدة؛ لذا فإن رتبة المصفوفة 5×3 وقيمة العنصر a_{23} الموجودة في الصف 2، والعمود 3، هي 20.

تحقق من فهمك

أسعار البيتزا (بالريال)

	كبيرة	وسط	صغيرة
فشار البحر	35	24	13
الحضار	34	23	12
المجاج	36	25	14
اللحم	37	27	15

(2) **بيتزا:** يبين الجدول المجاور الأسعار بالريال لأربعة أنواع من البيتزا بثلاثة أحجام في أحد المطاعم.

(A) نظم هذه البيانات في مصفوفة A ، على أن تكون الأسعار مرتبة تصاعدياً.

(B) حدد رتبة المصفوفة.

(C) ما قيمة العنصر a_{21} ؟

تحليل البيانات: عند تنظيم البيانات في مصفوفة، يسهل تحليلها وتفسيرها. وتعطي مجاميع عناصر الصفوف أو الأعمدة أحياناً معلومات ذات معنى. وفي أحيان أخرى لا تعطي أي معلومات ذات معنى.

مثال 3 تحليل البيانات باستعمال المصفوفات

كرة قدم: إذا أراد مدرب فريق كرة القدم، (في مثال 2) استعمال المصفوفة للحصول على تحليلات إضافية لإحصائيات لاعبيه الثلاثة:

الأهداف	قطع التمريرات	التمريرات التسديدات	المباريات
11	40	170	18
4	30	20	20
4	15	113	12

(a) اجمع عناصر كل من العمودين 2 و 3، وفسر النتائج.

مجموع عناصر عمود 2 يساوي 98، وهو يمثل العدد الكلي لتسديدات اللاعبين خلال جميع المباريات. مجموع عناصر عمود 3 يساوي 303، وهو يمثل العدد الكلي لتمريرات اللاعبين خلال جميع المباريات.

(b) أراد المدرب تحديد معدل تسديد اللاعب في المباراة الواحدة، فقرر أن يجمع عناصر العمود 2 ويقسم المجموع على 3، فما الناتج؟
الناتج هو 33 تقريباً.

(c) هل كانت طريقة المدرب في حساب معدل تسديد اللاعب في المباراة الواحدة صحيحة؟ فسّر إجابتك. لا؛ لأن مجموع التسديدات في العمود 2 ليس لثلاث مباريات، ويتعين على المدرب بدلاً من ذلك قسمة مجموع عناصر العمود 2 على مجموع عناصر العمود 1 حيث سيكون المعدل الدقيق $1.96 (98 \div 50)$.

(d) هل جمع عناصر الصفوف يزود المدرب ببيانات ذات معنى؟ فسّر إجابتك. لا؛ لأن عناصر الصف عبارة عن خمسة أنواع مختلفة من البيانات.

تحقق من فهمك

(3) **محافظات:** يبين الجدول المجاور عدد المحافظات من الفتيين أ، ب في 4 مناطق إدارية مختلفة في المملكة.

المنطقة	محافظة فئة أ	محافظة فئة ب
الرياض	12	8
مكة المكرمة	9	7
المدينة المنورة	4	4
القصيم	5	7

المصدر: المملكة العربية السعودية، حقائق وأرقام، هيئة المساحة الجيولوجية السعودية، 1433 هـ

(A) نظم البيانات في مصفوفة .

(B) اجمع عناصر كل عمود، وفسر النتائج.

(C) اجمع عناصر كل صف، وفسر النتائج.

(D) هل إيجاد معدل عناصر كل صف يعطي بيانات ذات معنى؟

تأكد

حدّد رتبة كل مصفوفة فيما يأتي:

مثال 1

$$(1) \begin{bmatrix} 1 & 4 & -4 & 0 \\ -2 & 3 & 6 & -8 \end{bmatrix} \quad (2) \begin{bmatrix} 1 \\ -2 \\ 5 \\ -7 \end{bmatrix}$$

$$(3) \begin{bmatrix} -1 & 4 \\ 2 & 9 \\ 17 & 21 \end{bmatrix}$$

إذا كانت $A = \begin{bmatrix} 1 & -6 & x & -4 \\ -2 & 3 & -1 & 9 \\ 5 & -8 & 2 & 12 \end{bmatrix}$ ، فما قيمة كل عنصر فيما يأتي:

- (4) a_{32} (5) a_{11} (6) a_{33} (7) a_{24}

المثالان 2, 3 (8) **زراعة:** يبين الجدول المجاور عدد صناديق الخضراوات المنتجة في مزرعتين مختلفتين في أحد المواسم:

المزرعة	خيار	كوسة	بادنجان	طماطم
1	540	570	488	500
2	850	1015	800	820

- (a) نظم البيانات في مصفوفة.
(b) ما النوع الأقل إنتاجًا؟
(c) اجمع عناصر كل صف، وهل لهذه المجموع معنى؟ فسّر إجابتك.
(d) اجمع عناصر كل عمود، وفسّر إجابتك.

تدرب وحل المسائل

مثال 1 حدد رتبة كل مصفوفة فيما يأتي:

(9) $[-9 \ 6]$ (10) $\begin{bmatrix} 15 & y \\ 8 & -9 \end{bmatrix}$ (11) $\begin{bmatrix} 6 & 11 & -4 & -2 \\ -8 & 5 & -1 & 0 \end{bmatrix}$

(12) $\begin{bmatrix} 4 & -3 & -1 \\ x & 3y & 0 \\ 8 & 12 & 11 \end{bmatrix}$ (13) $\begin{bmatrix} 2 \\ x \\ -3 \end{bmatrix}$ (14) $[115]$

إذا كانت $A = \begin{bmatrix} 6 & y \\ -9 & 31 \\ 11 & 5 \end{bmatrix}$ ، $B = \begin{bmatrix} 10 & -8 & 2x \\ -2 & 19 & 4 \end{bmatrix}$ ، فما قيمة كل عنصر فيما يأتي:

- (15) a_{21} (16) b_{22} (17) b_{13} (18) a_{12}

مثال 2 (19) يبين الجدول أدناه النقاط التي حصل عليها ثلاثة طلاب في مسابقة علمية تقدم على 3 جولات، نظم هذه البيانات في مصفوفة:

الاسم	الجولة 1	الجولة 2	الجولة 3	المجموع
سعود	221	201	185	607
علي	168	233	159	560
مروان	187	189	211	587

مثال 3 (20) **تخزين:** ثلاثة مخازن لتوريد التمور؛ الأول فيه 2000kg خلاص و 1200kg برحي و 500kg سكري، والثاني فيه 3000kg خلاص و 1175kg برحي و 2250kg سكري، والثالث فيه 2750kg خلاص و 1500kg برحي و 1700kg سكري.

- (a) نظم البيانات في مصفوفة، على أن تكون محتويات المخازن أعمدة المصفوفة.
(b) أوجد مجموع عناصر كل عمود، وماذا يمثل هذا المجموع؟
(c) أوجد مجموع عناصر كل صف، وماذا يمثل هذا المجموع؟



إذا كانت $\underline{A} = \begin{bmatrix} 23 & 11 \\ x & -5 \\ -12 & 15 \end{bmatrix}$ ، فحدد كل عنصر مما يأتي:

a_{21} (24)

b_{12} (23)

b_{21} (22)

a_{32} (21)

أسعار حديد التسليح (بالريال)		
المقاس	الرياض	جدة
8mm	2410	2455
14mm	2210	2255
16mm	2200	2245

(25) **حديد التسليح:** يبين الجدول المجاور أسعار حديد التسليح حسب تقرير وزارة التجارة والاستثمار في مدينتي الرياض وجدة لأحد الأيام.

(a) اكتب مصفوفة تمثل البيانات المعطاة.

(b) ما رتبة المصفوفة الناتجة في الفرع a ؟

إذا كانت $\underline{A} = \begin{bmatrix} x^2 + 4 & y + 6 \\ x - y & 2 - y \end{bmatrix}$ ، فحدد كل عنصر مما يأتي:

b_{23} (29)

b_{31} (28)

a_{22} (27)

a_{11} (26)

الكوكب	البعد عن الشمس (مليون ميل)	البعد عن الأرض (مليون ميل)
عطارد	36.00	57
الزهرة	67.24	26
المريخ	141.71	35
المشتري	483.88	370
زحل	887.14	744
أورانوس	1783.98	1607
نبتون	2796.46	2680


المصدر: fact Monster

(30) **فلك:** استعمل الجدول المجاور الذي يبين بُعد بعض الكواكب عن الأرض والشمس.

(a) نَظِّم المسافات في مصفوفة \underline{A} .

(b) ما رتبة المصفوفة الناتجة؟

(c) ما قيمة العنصر a_{42} ؟



الربط مع الحياة

بعد إعادة تعريف كلمة "كوكب" عام 2006 من قبل الاتحاد الفلكي الدولي، تبين أن بلوتو لم يعد يصنف كوكباً؛ وذلك بسبب حجمه الصغير.

الاسم	عدد التمريرات الحاسمة	عدد الأهداف
محمود	8	3
معاذ	6	5
صالح	1	8
عبدالله	4	2

(31) **تمثيلات متعددة:** ستكتشف في هذا

السؤال تأثير قلب الصفوف والأعمدة في المصفوفة.

يبين الجدول المجاور عدد كل من التمريرات الحاسمة وعدد الأهداف لأربعة لاعبين في مباراة لكرة اليد.

(a) **جدولياً:** نَظِّم البيانات في مصفوفة على أن يمثل عدد الأهداف وعدد التمريرات عموداً.

(b) **جبرياً:** أوجد مجاميع عناصر كل عمود.

(c) **جدولياً:** بدّل البيانات في المصفوفة على أن تصبح عناصر الأعمدة هي عناصر الصفوف.

(d) **جبرياً:** أوجد مجاميع عناصر كل صف.

(e) **تحليلياً:** هل هناك أي تأثير في البيانات عند تبديل عناصر الصفوف والأعمدة؟

مسائل مهارات التفكير العليا

تبرير: حدد إذا كانت الجملة الآتية صحيحة أم خاطئة. وفسّر إجابتك:

(32) المصفوفة \underline{C} مربعة ولها أربعة أعمدة، وتحوي العنصر c_{53} .



(33) **اكتشف الخطأ:** حددت كل من ياسمين وسارة العنصر b_{32} في المصفوفة B ،
 $B = \begin{bmatrix} -6 & 7 \\ 0 & 5 \\ 8 & 2 \end{bmatrix}$ فهل توصلت إحداهما للحل الصحيح؟ فسّر إجابتك.

سارة
 العنصر b_{32} غير موجود في
 المصفوفة B ، لأن B
 مصفوفة من النوع 2×3 .

ياسمين
 قيمة العنصر b_{32}
 هي 5.

(34) **تحّد:** جد قيمة كل من المتغيرات x, y, z التي تحقق المعادلة:

$$\begin{bmatrix} 2x - y & 3x + 4z \\ 7x - 8z & 5y + 12z \end{bmatrix} = \begin{bmatrix} 9z - 5x + 1 & 5y - 2x \\ 3y - 4z & 12x + 2y \end{bmatrix}$$

(35) **مسألة مفتوحة:** أنشئ مصفوفة باستعمال بيانات من واقع الحياة تكون مجاميع عناصر أعمدتها ذات معنى، ومجاميع عناصر صفوفها ليست ذات معنى.

(36) **اكتب:** اشرح كيف يمكن أن تساعدك المصفوفات عندما تقرر اختيار الجامعة التي ترغب في الالتحاق بها.

تدريب على اختبار

	مؤيد	ضد
المرشح الأول	1553	771
المرشح الثاني	689	1633
المرشح الثالث	2088	229

(37) **مسح:** نُظمت نتائج استطلاع للرأي في المصفوفة المجاورة:

بالاعتماد على هذه النتائج، أي استنتاج مما يأتي ليس صحيحاً؟

- A هناك 771 صوتاً ضد المرشح الأول.
 B عدد الأصوات المعارضة للمرشح الأول أكبر من تلك المؤيدة للمرشح الثاني.
 C فرصة المرشح الثاني للفوز ضئيلة.
 D عدد الأصوات المؤيدة للمرشح الأول أكبر من عدد الأصوات المؤيدة للمرشح الثالث.

مراجعة تراكمية

(38) **مجلس الإدارة:** ترشح مسفر لمنصب رئيس مجلس الإدارة في إحدى الشركات الكبرى، وكان المُقترح يكتب ثلاثة أسماء بالترتيب على ورقة الاقتراع، فيحصل المتنافس على 3 نقاط لكل مركز أول، ونقطتين لكل مركز ثان، ونقطة واحدة لكل مركز ثالث. وقد ورد اسم مسفر في 490 ورقة اقتراع للمراكز الثلاثة، وكان مجموع نقاطه 878 نقطة. فإذا علمت أن عدد الأصوات التي حصل عليها من المركز الثاني أكثر بأربع أصوات من ضعف عدد الأصوات التي حصل عليها من المركز الثالث، فكم عدد الأصوات التي حصل عليها من كل مركز؟ (مهارة سابقة)

النوع	كعكة الفواكه	كعكة الشوكولاتة
التكلفة	13 ريالاً	19 ريالاً
سعر البيع	39 ريالاً	44 ريالاً

(39) **ثقافة مالية:** يبين الجدول المجاور تكلفة إنتاج كل من الشوكولاتة وكعكة الفواكه وسعر بيعها لدى مخبز. إذا علمت أن المخبز يبيع كعكة الشوكولاتة وكعكة الفواكه معاً في صناديق تحوي من 6 إلى 12 كعكة من كلا النوعين، بحيث يحوي كل صندوق ثلاث كعكات على الأقل من كل نوع. فما عدد كعكات كل صندوق من كلا النوعين ليكون الربح أكبر ما يمكن؟ (الدرس 1-5)

احسب قيمة كل عبارة مما يأتي إذا كان $w = 3, x = -2, y = 4, z = 0.5$ (مهارة سابقة)

(42) $4[3(2z + y) - 2(w + x)]$

(41) $57w + 2(x - z) + 2y$

(40) $4x - 6y + 2z$



الهدف

أستعمل الجداول الإلكترونية لتنظيم البيانات وعرضها.

مثال

جمع محل لبيع التمور بيانات عن مبيعاته في أربعة أسابيع متتالية، ونظمها في الجدول المجاور. أدخل البيانات في برنامج الجداول الإلكترونية .

مبيعات محل تمور خلال 4 أسابيع متتالية بالكيلوجرامات				
نوع التمر	1	2	3	4
خلاص	17	22	11	23
مكتومي	31	34	22	29
سكري	55	61	44	71
سلج	41	36	60	77
عجوة	23	29	19	44
خضري	8	18	19	31
منيبي	22	18	30	32
صقعي	26	16	31	39

استعمل العمود A للنوع، والعمود B لمبيعات الأسبوع الأول، والعمود C لمبيعات الأسبوع الثاني، والعمود D لمبيعات الأسبوع الثالث، والعمود E لمبيعات الأسبوع الرابع.

	A	B	C	D	E
1	خلاص	17	22	11	23
2	مكتومي	31	34	22	29
3	سكري	55	61	44	71
4	سلج	41	36	60	77
5	عجوة	23	29	19	44
6	خضري	8	18	19	31
7	منيبي	22	18	30	32
8	صقعي	26	16	31	39

يحتوي كل صف مبيعات النوع نفسه من التمور ويمثل الصف 2 مبيعات التمر المكتومي.

تحتوي كل خلية في الجدول جزءاً واحداً من البيانات. حيث تحتوي الخلية D7 على القيمة 30 والتي تمثل عدد الكيلوجرامات المباعة في الأسبوع الثالث من تمور منيبي.

تمارين:

- أدخل البيانات الواردة في فقرة "لماذا؟" بداية الدرس في برنامج الجداول الإلكترونية.
- قارن بين تنظيم البيانات في الجداول الإلكترونية وتنظيمها في المصفوفة.
- يمكنك إيجاد مجاميع مدخلات الصفوف والأعمدة في الجداول الإلكترونية باستعمال الأمر (SUM)
 - يمكنك إيجاد مجموع مدخلات العمود B باستعمال الصيغة $=SUM(B1:B8)$. أدخل صيغاً مشابهة في الخلايا B9, C9, D9, E9 لتجد مجاميع مدخلات الأعمدة الأخرى. ماذا تمثل مجاميع مدخلات هذه الأعمدة؟
 - أدخل صيغاً مشابهة في الخلايا F1 حتى F8 لإيجاد مجاميع مدخلات الصفوف 1 إلى 8. ماذا تمثل هذه المجاميع في هذه الحالة؟
 - أوجد مجموع مدخلات الصف 9، ومجموع مدخلات العمود F. ماذا تلاحظ؟ فسّر إجابتك.



العمليات على المصفوفات

Operations with Matrices

2-2

لماذا؟

لدى مؤسسة تجارية للمعدات الثقيلة فروع في كل من: الرياض، والشرقية، وجدة، يتبع كلاً منها ثلاثة معارض. وتبين المصفوفات الآتية معدل النفقات والمبيعات الأسبوعية في معارض المناطق الثلاث:

	الرياض		الشرقية		جدة	
	المبيعات	النفقات	المبيعات	النفقات	المبيعات	النفقات
(1) المعرض	145000	1900	122000	1700	109500	1050
(2) المعرض	225000	2400	145500	1800	135000	1800
(3) المعرض	290000	2700	160000	1800	150500	1800

جمع المصفوفات وطرحها: يمكن جمع مصفوفتين أو طرحهما إذا فقط إذا كان لهما الرتبة نفسها، حيث تجمع العناصر المتناظرة في حالة الجمع، وتطرح في حالة الطرح.

فيما سبق:

درست تنظيم البيانات في مصفوفات. (الدرس 2-1)

والآن:

- أجمع المصفوفات وأطرحها.
- أضرب مصفوفة في عدد ثابت.

المضردات:

جمع مصفوفتين
adding matrices

طرح مصفوفتين
subtracting matrices

ضرب المصفوفة في عدد ثابت
scalar multiplication

أضف إلى

مطويتك

جمع المصفوفات وطرحها

مفهوم أساسي

التعبير اللفظي: إذا كانت A, B مصفوفتين من الرتبة $m \times n$ فإن $A + B$ هي مصفوفة أيضاً من الرتبة $m \times n$ ويكون كل عنصر فيها هو مجموع العنصرين المتناظرين في A و B ، وكذلك $A - B$ هي مصفوفة من الرتبة $m \times n$ أيضاً، وتحصل عليها بطرح العناصر المتناظرة.

$$\underline{A} = \begin{bmatrix} a & b \\ c & d \end{bmatrix}, \underline{B} = \begin{bmatrix} e & f \\ g & h \end{bmatrix} \quad \text{لتكن: الرموز:}$$

$$\underline{A} + \underline{B} = \begin{bmatrix} a+e & b+f \\ c+g & d+h \end{bmatrix}, \underline{A} - \underline{B} = \begin{bmatrix} a-e & b-f \\ c-g & d-h \end{bmatrix} \quad \text{فإن:}$$

$$\begin{bmatrix} 3 & -5 \\ 1 & 7 \end{bmatrix} + \begin{bmatrix} 2 & 0 \\ -9 & 10 \end{bmatrix} = \begin{bmatrix} 3+2 & -5+0 \\ 1+(-9) & 7+10 \end{bmatrix} \quad \text{مثال:}$$

إرشادات للدراسة

إذا كان $\underline{A} + \underline{B} = \underline{C}$ فإن $c_{ij} = a_{ij} + b_{ij}$

مثال 1 جمع المصفوفات وطرحها

إذا كانت $\underline{A} = \begin{bmatrix} 16 & 2 \\ -9 & 8 \end{bmatrix}, \underline{B} = \begin{bmatrix} -4 & -1 \\ -3 & -7 \end{bmatrix}, \underline{C} = \begin{bmatrix} 8 \\ 6 \end{bmatrix}$ ، فأوجد كلاً مما يأتي إن أمكن:

$$\underline{A} + \underline{B} \quad \text{(a)}$$

$$\text{عوض} \quad \underline{A} + \underline{B} = \begin{bmatrix} 16 & 2 \\ -9 & 8 \end{bmatrix} + \begin{bmatrix} -4 & -1 \\ -3 & -7 \end{bmatrix}$$

$$\text{اجمع العناصر المتناظرة} = \begin{bmatrix} 16 + (-4) & 2 + (-1) \\ -9 + (-3) & 8 + (-7) \end{bmatrix}$$

$$\text{بسّط} = \begin{bmatrix} 12 & 1 \\ -12 & 1 \end{bmatrix}$$

$$\underline{B} - \underline{C} \quad \text{(b)}$$

$$\text{عوض} \quad \underline{B} - \underline{C} = \begin{bmatrix} -4 & -1 \\ -3 & -7 \end{bmatrix} - \begin{bmatrix} 8 \\ 6 \end{bmatrix}$$

بما أن المصفوفتين $\underline{B}, \underline{C}$ لهما رتبتين مختلفتين، فلا يمكن إجراء عملية الطرح $\underline{B} - \underline{C}$.

تحقق من فهمك

$$\begin{bmatrix} -9 & 8 & 3 \\ -2 & 4 & -7 \end{bmatrix} + \begin{bmatrix} -4 & -3 & 6 \\ -9 & -5 & 18 \end{bmatrix} \quad \text{(1B)}$$

$$\begin{bmatrix} -3 & 4 \\ -9 & -5 \end{bmatrix} - \begin{bmatrix} -4 & 12 \\ 8 & -7 \end{bmatrix} \quad \text{(1A)}$$

الضرب في عدد ثابت: يمكنك ضرب أي مصفوفة في عدد ثابت، وهذا يعني ضرب كل عنصر من عناصر المصفوفة في ذلك العدد الثابت. وتسمى هذه العملية ضرب المصفوفة في عدد ثابت.

مفهوم أساسي **الضرب في عدد ثابت**

أضف إلى مطوبتك

التعبير اللفظي: حاصل ضرب مصفوفة A من الرتبة $m \times n$ في عدد ثابت k هي مصفوفة kA من الرتبة $m \times n$ وكل عنصر فيها يساوي العنصر المناظر له في المصفوفة A مضروباً في العدد الثابت k

الرموز: إذا كانت $A = \begin{bmatrix} a & b \\ c & d \end{bmatrix}$ و k عدد ثابت فإن:

$$k \cdot A = k \begin{bmatrix} a & b \\ c & d \end{bmatrix} = \begin{bmatrix} ka & kb \\ kc & kd \end{bmatrix}$$

مثال: $-3 \begin{bmatrix} 4 & 1 \\ 7 & -2 \end{bmatrix} = \begin{bmatrix} -3(4) & -3(1) \\ -3(7) & -3(-2) \end{bmatrix}$

إرشادات للدراسة

ضرب المصفوفة في عدد ثابت

إذا كان $kA = B$
فإن: $ka_{ij} = b_{ij}$

مثال 2 **ضرب مصفوفة في عدد ثابت**

إذا كانت $R = \begin{bmatrix} -12 & 8 & 6 \\ -16 & 4 & 19 \end{bmatrix}$ ، فجد $5R$.

عوض $5R = 5 \begin{bmatrix} -12 & 8 & 6 \\ -16 & 4 & 19 \end{bmatrix}$

اضرب كل عنصر في المصفوفة في العدد 5

$$= \begin{bmatrix} 5(-12) & 5(8) & 5(6) \\ 5(-16) & 5(4) & 5(19) \end{bmatrix}$$

بسّط $= \begin{bmatrix} -60 & 40 & 30 \\ -80 & 20 & 95 \end{bmatrix}$

تحقق من فهمك ✓

2) إذا كانت $T = \begin{bmatrix} 8 & 0 & 3 & -2 \\ -1 & -4 & -2 & 9 \end{bmatrix}$ ، فأوجد $-4T$

تنطبق كثير من خصائص العمليات التي تُجرى على الأعداد الحقيقية على المصفوفات. وفيما يأتي ملخص لهذه الخصائص:

مفهوم أساسي **خصائص جمع المصفوفات**

أضف إلى مطوبتك

الخصائص الآتية صحيحة لأي ثلاث مصفوفات A, B, C لها الرتبة نفسها ولأي عدد ثابت k :

الخاصية الإبدالية لجمع المصفوفات $A + B = B + A$

الخاصية التجميعية لجمع المصفوفات $(A + B) + C = A + (B + C)$

خاصية التوزيع للضرب في عدد $k(A + B) = kA + kB$



يمكنك إجراء عمليات متعددة الخطوات على المصفوفات. وترتيب تلك العمليات شبيه بترتيب العمليات على الأعداد الحقيقية.

مثال 3 العمليات على المصفوفات

إذا كانت $\underline{A} = \begin{bmatrix} -9 & 12 \\ 2 & -6 \end{bmatrix}$, $\underline{B} = \begin{bmatrix} -4 & -8 \\ 2 & -3 \end{bmatrix}$ ، فأوجد $-4\underline{B} - 3\underline{A}$.

$$\text{عوض} \quad -4\underline{B} - 3\underline{A} = -4 \begin{bmatrix} -4 & -8 \\ 2 & -3 \end{bmatrix} - 3 \begin{bmatrix} -9 & 12 \\ 2 & -6 \end{bmatrix}$$

أوجد ناتج ضرب المصفوفات في الثوابت

$$= \begin{bmatrix} -4(-4) & -4(-8) \\ -4(2) & -4(-3) \end{bmatrix} - \begin{bmatrix} 3(-9) & 3(12) \\ 3(2) & 3(-6) \end{bmatrix}$$

بسّط

$$= \begin{bmatrix} 16 & 32 \\ -8 & 12 \end{bmatrix} - \begin{bmatrix} -27 & 36 \\ 6 & -18 \end{bmatrix}$$

اطرح العناصر المتناظرة


$$= \begin{bmatrix} 16 - (-27) & 32 - 36 \\ -8 - 6 & 12 - (-18) \end{bmatrix}$$

بسّط

$$= \begin{bmatrix} 43 & -4 \\ -14 & 30 \end{bmatrix}$$

تحقق من فهمك

(3) إذا كانت $\underline{A} = \begin{bmatrix} -5 & 3 \\ 6 & -8 \\ 2 & 9 \end{bmatrix}$, $\underline{B} = \begin{bmatrix} 12 & 5 \\ 5 & -4 \\ 4 & -7 \end{bmatrix}$ ، فأوجد $-6\underline{B} + 7\underline{A}$



الربط مع الحياة

يمكنك استعمال المصفوفات في الكثير من الأعمال التجارية.

المخطط المالي

يستعمل المخطط المالي المصفوفات لتنظيم البيانات التي يستعملها، ووصفها.

مثال 4 استعمال العمليات على المصفوفات

أعمال: ارجع إلى فقرة "لماذا" في بداية الدرس، وعبر عن معدل المبيعات والنفقات لجميع المعارض في خمسة أسابيع.

حتى يتم حساب المبيعات في خمسة أسابيع، يجب ضرب كل مصفوفة في العدد 5 وجمع المصفوفات الناتجة معاً.

$$\begin{aligned} & \text{ضرب كل مصفوفة في 5 ثم الجمع} \quad 5 \begin{bmatrix} 1900 & 145000 \\ 2400 & 225000 \\ 2700 & 290000 \end{bmatrix} + 5 \begin{bmatrix} 1700 & 122000 \\ 1800 & 145500 \\ 1800 & 160000 \end{bmatrix} + 5 \begin{bmatrix} 1050 & 109500 \\ 1800 & 135000 \\ 1800 & 150500 \end{bmatrix} \\ & \text{تطبيق قاعدة الضرب في ثابت} \quad = \begin{bmatrix} 9500 & 725000 \\ 12000 & 1125000 \\ 13500 & 1450000 \end{bmatrix} + \begin{bmatrix} 8500 & 610000 \\ 9000 & 727500 \\ 9000 & 800000 \end{bmatrix} + \begin{bmatrix} 5250 & 547500 \\ 9000 & 675000 \\ 9000 & 752500 \end{bmatrix} \\ & \text{اجمع المصفوفات} \quad = \begin{array}{cc} \text{المبيعات} & \text{النفقات} \\ \begin{bmatrix} 23250 & 1882500 \\ 30000 & 2527500 \\ 31500 & 3002500 \end{bmatrix} & \end{array} \end{aligned}$$

تدل المصفوفة النهائية على معدل المبيعات والنفقات في خمسة أسابيع.

تحقق من فهمك

(4) **أعمال:** استعمل البيانات أعلاه لحساب معدل المبيعات والنفقات الشهري لجميع المعارض على فرض أن الشهر 30 يوماً.

إرشادات للدراسة

العناصر المتناظرة

عند تمثيل البيانات بمصفوفات متعددة، تأكد أن العناصر المتناظرة تمثل البيانات المتناظرة.

مثال 1 أوجد الناتج في كلِّ مما يأتي إذا كان ذلك ممكناً:

$$(1) \quad [-8 \ 2 \ 6] + [11 \ -7 \ 1] \quad (2) \quad [9 \ -8 \ 4] + [12 \ 2]$$

$$(3) \quad \begin{bmatrix} 7 & -12 \\ 15 & 4 \end{bmatrix} - \begin{bmatrix} 9 & 6 \\ 4 & -9 \end{bmatrix} \quad (4) \quad \begin{bmatrix} 5 & 13 & -6 \\ 3 & -17 & 2 \end{bmatrix} - \begin{bmatrix} -2 & -18 & 8 \\ 2 & -11 & 0 \end{bmatrix}$$

مثال 2 أوجد الناتج في كلِّ مما يأتي:

$$(5) \quad 3 \begin{bmatrix} 6 & 4 & 0 \\ -2 & 14 & -8 \\ -4 & -6 & 7 \end{bmatrix} \quad (6) \quad -6 \begin{bmatrix} 15 & -9 & 2 & 3 \\ 6 & -11 & 14 & -2 \\ 4 & -8 & -10 & 27 \end{bmatrix}$$

$$\text{مثال 3} \quad \text{إذا كانت } \underline{A} = \begin{bmatrix} 6 & -4 \\ 3 & -5 \end{bmatrix} \quad \underline{B} = \begin{bmatrix} 8 & -1 \\ -2 & 7 \end{bmatrix} \quad \underline{C} = \begin{bmatrix} -4 & -6 \\ 12 & -7 \end{bmatrix}$$

فأوجد ناتج كلِّ مما يلي:

$$(7) \quad 4\underline{B} - 2\underline{A} \quad (8) \quad -8\underline{C} + 3\underline{A}$$

مثال 4 (9) درجات حرارة: تبين المصفوفة \underline{L} المعدل الشهري لدرجات الحرارة الصغرى (بالفهرنهايت) في مدينة ما. وتبين المصفوفة \underline{H} المعدل الشهري لدرجات الحرارة العظمى (بالفهرنهايت) في تلك المدينة.

$$\underline{H} = \begin{bmatrix} 39.9 & 45.2 & 55.3 \\ 65.1 & 74.0 & 82.3 \\ 85.9 & 84.6 & 78.1 \\ 66.9 & 54.5 & 44.3 \end{bmatrix} \quad \underline{L} = \begin{bmatrix} 24.1 & 27.7 & 35.9 \\ 44.1 & 53.6 & 62.2 \\ 66.4 & 64.9 & 57.9 \\ 46.4 & 37.3 & 28.4 \end{bmatrix}$$

أوجد المصفوفة التي تمثل الفرق بين المعدل الشهري لدرجات الحرارة العظمى والمعدل الشهري لدرجات الحرارة الصغرى في تلك المدينة؟

تدرب وحل المسائل

مثال 1 أوجد الناتج في كلِّ مما يأتي إذا كان ذلك ممكناً.

$$(10) \quad \begin{bmatrix} 12 & -5 \\ -8 & -3 \end{bmatrix} + \begin{bmatrix} -6 & 11 \\ -7 & 2 \end{bmatrix} \quad (11) \quad \begin{bmatrix} 9 & 5 \\ -2 & 16 \end{bmatrix} + \begin{bmatrix} -6 & -3 & 7 \\ 12 & 2 & -4 \end{bmatrix}$$

المشروب	صغير	وسط	كبير
غازي	3	4	5
شاي	2	3	4
قهوة	2	3	4
عصير	4	5	6

(12) مشروبات: يبين الجدول المجاور قائمة أسعار المشروبات في مطعم، إذا رفع المطعم أسعار جميع المشروبات بنسبة 50%.

(a) اكتب المصفوفة \underline{C} التي تمثل الأسعار الحالية.

(b) ما العدد الذي يمكن أن تضرب المصفوفة \underline{C} فيه لإيجاد المصفوفة \underline{N} التي تمثل الأسعار الجديدة؟

(c) جد المصفوفة \underline{N} .

(d) جد المصفوفة $\underline{N} - \underline{C}$. ماذا تمثل هذه المصفوفة في هذه الحالة؟



أوجد الناتج في كل مما يأتي إن أمكن، وإذا تعذر ذلك فاكتب "لا يمكن" مع ذكر السبب:

$$\begin{bmatrix} 4 & -3 & 3 \\ -8 & 12 & 1 \\ 0 & -1 & 5 \\ 7 & -9 & 4 \end{bmatrix} - \begin{bmatrix} -3 & -8 & 12 \\ -11 & -5 & 3 \\ -1 & 22 & -9 \\ -6 & 31 & 9 \end{bmatrix} \quad (14) \quad \begin{bmatrix} 19 \\ -2 \\ 4 \\ 7 \end{bmatrix} - \begin{bmatrix} -5 \\ 8 \\ 1 \\ 0 \end{bmatrix} \quad (13)$$

$$\begin{bmatrix} 2 & 4 & 11 \\ -6 & 12 & -3 \end{bmatrix} - \begin{bmatrix} 8 & -9 & -3 \\ 5 & 14 & 0 \end{bmatrix} \quad (16) \quad \begin{bmatrix} 62 \\ -37 \\ -4 \end{bmatrix} + [34 \quad 76 \quad -13] \quad (15)$$

$$\begin{bmatrix} 5 \\ 3 \end{bmatrix} - \begin{bmatrix} -4 \\ 2 \end{bmatrix} + \begin{bmatrix} -2 & 3 \\ 8 & -3 \end{bmatrix} \quad (18) \quad \begin{bmatrix} 5 \\ -9 \end{bmatrix} + \begin{bmatrix} -3 \\ -7 \end{bmatrix} - \begin{bmatrix} 9 \\ 16 \end{bmatrix} \quad (17)$$

(19) **كتب:** تحتوي المكتبة A على 10000 كتاب علمي، و 5000 كتاب تاريخي و 5000 كتاب أدبي. وتحتوي المكتبة B على 15000 كتاب علمي، و 10000 كتاب تاريخي و 2500 كتاب أدبي. وتحتوي المكتبة C على 4000 كتاب علمي، و 700 كتاب تاريخي، و 800 كتاب أدبي.

- (a) رتب أعداد الكتب في كل مكتبة في مصفوفات، وارمز إليها بالرموز A, B, C .
- (b) أوجد العدد الكلي للكتب من كل نوع في المكتبات الثلاث، وعبر عن ذلك بمصفوفة.
- (c) كم يزيد عدد الكتب من كل نوع في المكتبة A على التي في المكتبة C?
- (d) أوجد المصفوفة $A + B$. هل لهذه المصفوفة معنى في هذه الحالة؟ فسّر إجابتك.

أوجد الناتج في كل مما يأتي إن أمكن، وإذا تعذر ذلك فاكتب "لا يمكن" مع ذكر السبب:

$$-4 \begin{bmatrix} -7 \\ 4 \\ -3 \end{bmatrix} + 3 \begin{bmatrix} -8 \\ 3x \\ -9 \end{bmatrix} - 5 \begin{bmatrix} 4 \\ x-6 \\ 12 \end{bmatrix} \quad (21) \quad -3 \begin{bmatrix} 18 & -6 & -8 \\ -5 & -3 & 12 \\ 0 & 3x & -y \end{bmatrix} \quad (20)$$

$$-6 \left(\begin{bmatrix} 6 & 3y \\ 4x+1 & -2 \\ -9 & xy \end{bmatrix} + \begin{bmatrix} -5 & -6 \\ 8 & -7 \\ x+2 & 2x \end{bmatrix} \right) \quad (23) \quad -5 \left(\begin{bmatrix} 4 & -8 \\ 8 & -9 \end{bmatrix} + \begin{bmatrix} 4 & -2 \\ -3 & -6 \end{bmatrix} \right) \quad (22)$$

أجر العمليات على المصفوفات الآتية إن أمكن، وإذا تعذر ذلك فاكتب "لا يمكن" مع ذكر السبب:

$$-\frac{3}{4} \begin{bmatrix} 12 & -16 \\ 15 & 8 \end{bmatrix} + \frac{2}{3} \begin{bmatrix} 21 & 18 \\ -4 & -6 \end{bmatrix} \quad (25) \quad -2 \begin{bmatrix} -9.2 & -8.4 \\ 5.6 & -4.3 \end{bmatrix} - 4 \begin{bmatrix} 4.1 & -2.9 \\ 7.2 & -8.2 \end{bmatrix} \quad (24)$$



الرابط مع الحياة

وصل عدد مقتنيات مكتبات
جامعة الملك سعود 874971
عنواناً تقع في 2065863 مجلداً
ومادة من مختلف أوعية
المعلومات، وبلغت المساحة
الإجمالية للمكتبات 62634m²،
مجهزة بكل تقنيات المكتبات
الحديثة وتدير خدماتها ألياً.

مسائل مهارات التفكير العليا

(26) **برهان:** برهن على أن عملية جمع المصفوفات من النوع 2×2 تبديلية.

(27) **برهان:** برهن على أن عملية جمع المصفوفات من النوع 2×2 تجميعية.

(28) **تحديد:** إذا كانت:

$$A = \begin{bmatrix} -3 & -4 \\ 8 & 6 \end{bmatrix}, B = \begin{bmatrix} 5 & -1 \\ 2 & -4 \end{bmatrix}, 3A - 4B + 6C = \begin{bmatrix} 13 & 22 \\ 10 & 4 \end{bmatrix}$$

فأوجد عناصر المصفوفة C.



(29) **تبرير:** حدّد إذا كانت كل جملة مما يأتي صحيحة أحياناً، أو صحيحة دائماً، أو غير صحيحة أبداً للمصفوفتين A, B ، ثم فسّر إجابتك.

- (a) إذا كانت $A + B$ معرفة، فإن $A - B$ معرفة.
 (b) إذا كان k عدداً حقيقياً، فإن kA و kB معرفتان.
 (c) إذا كانت $A - B$ غير معرفة، فإن $B - A$ غير معرفة.
 (d) إذا كانت A و B لهما عدد العناصر نفسه، فإن $A + B$ معرفة.
 (e) إذا كانت kA و kB معرفتين، فإن $kA + kB$ معرفة.

(30) **مسألة مفتوحة:** أعط مثلاً على مصفوفتين A و B ، على أن تكون $4B - 3A = \begin{bmatrix} -6 & 5 \\ -2 & -1 \end{bmatrix}$.

(31) **اكتب:** اشرح كيف تجد $4D - 3C$ لأي مصفوفتين C, D لهما الرتبة نفسها.

تدريب على اختبار

(32) حل النظام الآتي:

$$0.06p + 4q = 0.88$$

$$p - q = -2.25$$

(-2, 0.25) **C** (-0.912, -1.338) **A**

(-2, -4.25) **D** (0.912, -3.162) **B**

(33) **رتبة المصفوفة:** إذا كانت A, B مصفوفتين من الرتبة

5×3 ، فإن رتبة المصفوفة $A - B$ هي:

3×2 **C** 3×5 **A**

3×3 **D** 5×3 **B**

مراجعة تراكمية

إذا كانت $A = \begin{bmatrix} -3 & 6 \\ -5 & x \\ 8 & 4y \end{bmatrix}$ ، فحدّد كل عنصر مما يأتي: (الدرس 2-1)

b_{23} (36) c_{13} (35) a_{32} (34)

حل بيانياً النظام أدناه: (الدرس 5-1)

$$4x + 2y > 8 \quad (37)$$

$$4y - 3x \leq 12$$

(38) **سكان:** في إحصائية عام 1435هـ لأكثر من 20 مدينة سعودية من حيث عدد السكان، بلغ عدد سكان مدينة الدمام 903597 نسمة، بما يزيد 333800 على عدد سكان مدينة تبوك. اكتب معادلة لإيجاد عدد سكان مدينة تبوك، ثم حلّها. (مهارة سابقة)

بسّط كل عبارة مما يأتي: (الدرس 1-1)

$$4(2x - 3y) + 2(5x - 6y) \quad (39)$$

$$-3(2a - 5b) - 4(4b + a) \quad (40)$$

$$-7(x - y) + 5(y - x) \quad (41)$$



ضرب المصفوفات Multiplying Matrices

رابطه الدرس الرقمي



www.ien.edu.sa

لماذا؟

يبين الجدول المجاور أنواع الأقلام وعددها التي باعتها مكتبة في 4 أشهر متتالية.

نوع القلم	الشهر وعدد الأقلام			
	المحرم	صفر	ربيع 1	ربيع 2
رصاص	153	217	197	249
حبر سائل	12	6	7	8
حبر جاف	82	146	102	158

إذا علمت أن سعر بيع قلم الرصاص ريال واحد، وقلم الحبر السائل 3 ريالات، وقلم الحبر الجاف ريالان، فإنه يمكنك تلخيص الجدول بمصفوفة عدد الأقلام B ، كما يمكنك التعبير عن مصفوفة سعر بيع كل نوع من الأقلام بالمصفوفة P .

مصفوفة الأسعار P

$$\begin{bmatrix} \text{الحبر الجاف} & \text{الحبر السائل} & \text{قلم الرصاص} \\ 1 & 3 & 2 \end{bmatrix}$$

مصفوفة عدد الأقلام B

$$\begin{bmatrix} 153 & 217 & 197 & 249 \\ 12 & 6 & 7 & 8 \\ 82 & 146 & 102 & 158 \end{bmatrix}$$

وباستعمال ضرب المصفوفات، تجد سعر بيع الأقلام في كل شهر.

ضرب المصفوفات: يمكنك ضرب مصفوفتين إذا فقط إذا كان عدد أعمدة المصفوفة الأولى يساوي عدد صفوف المصفوفة الثانية. وعند ضرب المصفوفة A ذات الرتبة $m \times r$ في المصفوفة B ذات الرتبة $r \times t$ ، فإن الناتج هو المصفوفة AB ذات الرتبة $m \times t$.

$$\begin{array}{c} \underline{A} \quad \cdot \quad \underline{B} \quad = \quad \underline{AB} \\ \begin{array}{ccc} m \times r & & r \times t \\ \uparrow & \text{متساويان} & \uparrow \\ \uparrow & & \uparrow \\ & \text{رتبة } AB & \end{array} \end{array} \quad m \times t$$

مثال 1 رتبة مصفوفة ناتج الضرب

هل يمكن إيجاد $A \cdot B$ في كل مما يأتي، وإن كانت كذلك، فأوجد رتبة المصفوفة الناتجة:

$$(a) \quad \underline{A}_{3 \times 4} \cdot \underline{B}_{4 \times 2}$$

بما أن عدد أعمدة المصفوفة A يساوي عدد صفوف المصفوفة B ، فإن مصفوفة حاصل الضرب $A \cdot B$ معرّفة، ورتبتها 3×2 .

$$\begin{array}{c} \underline{A} \quad \cdot \quad \underline{B} \quad = \quad \underline{AB} \\ \begin{array}{ccc} 3 \times 4 & & 4 \times 2 \\ \uparrow & & \uparrow \\ \uparrow & & \uparrow \\ & & 3 \times 2 \end{array} \end{array}$$

$$(b) \quad \underline{A}_{5 \times 3} \cdot \underline{B}_{5 \times 4}$$

بما أن عدد أعمدة المصفوفة A لا يساوي عدد صفوف المصفوفة B ، فإن مصفوفة حاصل الضرب $A \cdot B$ غير معرّفة.

$$\begin{array}{c} \underline{A} \quad \cdot \quad \underline{B} \\ \begin{array}{ccc} 5 \times 3 & & 5 \times 4 \\ \uparrow & & \uparrow \end{array} \end{array}$$

تحقق من فهمك

$$(1B) \quad \underline{A}_{3 \times 2} \cdot \underline{B}_{3 \times 2}$$

$$(1A) \quad \underline{A}_{4 \times 6} \cdot \underline{B}_{6 \times 2}$$

إرشادات للدراسة

رمز المصفوفة

أحياناً تكتب $A_{m \times n}$ لتعبر عن مصفوفة A رتبته $m \times n$.



يمكنك إيجاد ناتج ضرب مصفوفتين بضرب عناصر صفوف الأولى في عناصر أعمدة الثانية بالترتيب ثم جمع النواتج.

مفهوم أساسي ضرب المصفوفات

أضف إلى مطوبتك

التعبير اللفظي: العنصر في الصف m والعمود r من المصفوفة AB هو مجموع نواتج ضرب العناصر في الصف m من المصفوفة A ، بعناصر العمود r من المصفوفة B بالترتيب.

$$A \cdot B = AB$$

$$\begin{bmatrix} a & b \\ c & d \end{bmatrix} \cdot \begin{bmatrix} e & f \\ g & h \end{bmatrix} = \begin{bmatrix} ae+bg & af+bh \\ ce+dg & cf+dh \end{bmatrix}$$

الرموز:

$$\begin{bmatrix} 2 & 3 \\ 1 & 4 \end{bmatrix} \cdot \begin{bmatrix} 5 & 6 \\ 7 & 8 \end{bmatrix} = \begin{bmatrix} 2 \times 5 + 3 \times 7 & 2 \times 6 + 3 \times 8 \\ 1 \times 5 + 4 \times 7 & 1 \times 6 + 4 \times 8 \end{bmatrix}$$

مثال:

مثال 2 ضرب المصفوفات المربعة

أوجد $\underline{X} \underline{Y}$ إذا كانت $\underline{X} = \begin{bmatrix} 6 & -3 \\ -10 & -2 \end{bmatrix}$ ، $\underline{Y} = \begin{bmatrix} -5 & -4 \\ 3 & 3 \end{bmatrix}$

$$\underline{X} \underline{Y} = \begin{bmatrix} 6 & -3 \\ -10 & -2 \end{bmatrix} \cdot \begin{bmatrix} -5 & -4 \\ 3 & 3 \end{bmatrix}$$

الخطوة 1: اضرب عناصر الصف الأول في المصفوفة \underline{X} في عناصر العمود الأول في المصفوفة \underline{Y} بالترتيب، ثم اجمع نواتج الضرب، وضع النتيجة في الصف الأول، العمود الأول من المصفوفة $\underline{X} \underline{Y}$.

$$\begin{bmatrix} 6 & -3 \\ -10 & -2 \end{bmatrix} \cdot \begin{bmatrix} -5 & -4 \\ 3 & 3 \end{bmatrix} = \begin{bmatrix} 6(-5) + (-3)(3) & 6(-4) + (-3)(3) \\ -10(-5) + (-2)(3) & -10(-4) + (-2)(3) \end{bmatrix}$$

الخطوة 2: اتبع الخطوات نفسها مع عناصر الصف الأول والعمود الثاني، وكتب النتيجة في الصف الأول والعمود الثاني.

$$\begin{bmatrix} 6 & -3 \\ -10 & -2 \end{bmatrix} \cdot \begin{bmatrix} -5 & -4 \\ 3 & 3 \end{bmatrix} = \begin{bmatrix} 6(-5) + (-3)(3) & 6(-4) + (-3)(3) \\ -10(-5) + (-2)(3) & -10(-4) + (-2)(3) \end{bmatrix}$$

الخطوة 3: اتبع الخطوات نفسها مع عناصر الصف الثاني والعمود الأول، وكتب النتيجة في الصف الثاني، العمود الأول.

$$\begin{bmatrix} 6 & -3 \\ -10 & -2 \end{bmatrix} \cdot \begin{bmatrix} -5 & -4 \\ 3 & 3 \end{bmatrix} = \begin{bmatrix} 6(-5) + (-3)(3) & 6(-4) + (-3)(3) \\ -10(-5) + (-2)(3) & -10(-4) + (-2)(3) \end{bmatrix}$$

الخطوة 4: اتبع الخطوات السابقة نفسها مع عناصر الصف الثاني والعمود الثاني.

$$\begin{bmatrix} 6 & -3 \\ -10 & -2 \end{bmatrix} \cdot \begin{bmatrix} -5 & -4 \\ 3 & 3 \end{bmatrix} = \begin{bmatrix} 6(-5) + (-3)(3) & 6(-4) + (-3)(3) \\ -10(-5) + (-2)(3) & -10(-4) + (-2)(3) \end{bmatrix}$$

الخطوة 5: بسّط المصفوفة الناتجة.

$$\begin{bmatrix} 6(-5) + (-3)(3) & 6(-4) + (-3)(3) \\ -10(-5) + (-2)(3) & -10(-4) + (-2)(3) \end{bmatrix} = \begin{bmatrix} -39 & -33 \\ 44 & 34 \end{bmatrix}$$

تحقق من فهمك

(2) إذا كانت $\underline{U} = \begin{bmatrix} 5 & 9 \\ -3 & -2 \end{bmatrix}$ ، $\underline{V} = \begin{bmatrix} 2 & -1 \\ 6 & -5 \end{bmatrix}$ ، فأوجد $\underline{U} \underline{V}$.

تنبيه!

المحافظة على التركيز

من السهل أن تفقد التركيز عند ضرب المصفوفات، وربما تساعدك تغطية الصفوف أو الأعمدة التي لا تقوم بضربها عند إيجاد عناصر مصفوفة الضرب.

مثال 3 من واقع الحياة ضرب المصفوفات

المركز الثالث	المركز الثاني	المركز الأول	الفريق
3	7	4	A
1	9	8	B
3	5	10	C
6	3	3	D

سباحة: في مسابقة للسباحة بين أربع فرق سجلت 7 نقاط لمن يحل في المركز الأول، و 4 نقاط لمن يحل في المركز الثاني، ونقطتان لمن يحل في المركز الثالث. استعمل الجدول المجاور الذي يبين نتائج مسابقة السباحة لكل فريق لتحديد الفريق الفائز في المسابقة.

افهم: المعطيات:

- جدول يبين عدد مرات حصول 4 فرق على المراكز الثلاثة الأولى في مسابقة للسباحة.
- عدد النقاط التي تحتسب للفريق في كل مركز.

المطلوب:

- تحديد الفريق الفائز.

خطط: يمكن إيجاد النقاط النهائية التي أحرزها كل فريق بضرب مصفوفة النتائج للفريق في مصفوفة عدد النقاط التي تحتسب لكل من المراكز (الأول والثاني والثالث).

حل: اكتب كلاً من النتائج والنقاط التي تم الحصول عليها في مصفوفتين، ورتب المصفوفتين على أن يكون عدد الصفوف في مصفوفة النقاط يساوي عدد الأعمدة في مصفوفة النتائج.

$$\underline{R} = \begin{bmatrix} 4 & 7 & 3 \\ 8 & 9 & 1 \\ 10 & 5 & 3 \\ 3 & 3 & 6 \end{bmatrix} \quad \underline{P} = \begin{bmatrix} 7 \\ 4 \\ 2 \end{bmatrix}$$

اضرب المصفوفتين $\underline{R}\underline{P}$.

$$\underline{R}\underline{P} = \begin{bmatrix} 4 & 7 & 3 \\ 8 & 9 & 1 \\ 10 & 5 & 3 \\ 3 & 3 & 6 \end{bmatrix} \cdot \begin{bmatrix} 7 \\ 4 \\ 2 \end{bmatrix} = \begin{bmatrix} 4(7) + 7(4) + 3(2) \\ 8(7) + 9(4) + 1(2) \\ 10(7) + 5(4) + 3(2) \\ 3(7) + 3(4) + 6(2) \end{bmatrix} = \begin{bmatrix} 62 \\ 94 \\ 96 \\ 45 \end{bmatrix}$$

تبين مصفوفة حاصل ضرب عدد النقاط التي أحرزها كل من الفرق A, B, C, D على الترتيب؛ لذا فالفريق C هو الفائز في المسابقة؛ لأنه حصل على أكبر مجموع من النقاط وهو 96 نقطة.

تحقق: المصفوفة \underline{R} من الرتبة 4×3 ، والمصفوفة \underline{P} من الرتبة 3×1 ؛ لذا فإن حاصل الضرب سيكون مصفوفة من الرتبة 4×1 .

تحقق من فهمك

(3) مبيعات: ارجع إلى فقرة "لماذا؟" بداية الدرس، واستعمل ضرب المصفوفات لتحديد سعر الأقسام في كل شهر.

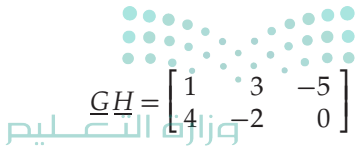
خصائص ضرب المصفوفات: تذكر أن خصائص جمع الأعداد الحقيقية تبقى صحيحة أيضاً عند جمع المصفوفات، إلا أن بعض خصائص ضرب الأعداد الحقيقية لا تكون صحيحة دائماً عند ضرب المصفوفات.

مثال 4 اختبار الخاصية الإبدائية

إذا كانت $\underline{G} = \begin{bmatrix} 1 & 3 & -5 \\ 4 & -2 & 0 \end{bmatrix}$ ، $\underline{H} = \begin{bmatrix} 2 & 3 \\ -2 & -8 \\ 1 & 7 \end{bmatrix}$ ، فأوجد ناتج كل مما يأتي:

$\underline{G}\underline{H}$ (a)

$$\underline{G}\underline{H} = \begin{bmatrix} 1 & 3 & -5 \\ 4 & -2 & 0 \end{bmatrix} \cdot \begin{bmatrix} 2 & 3 \\ -2 & -8 \\ 1 & 7 \end{bmatrix} = \begin{bmatrix} 2 - 6 - 5 & 3 - 24 - 35 \\ 8 + 4 + 0 & 12 + 16 + 0 \end{bmatrix} = \begin{bmatrix} -9 & -56 \\ 12 & 28 \end{bmatrix}$$



الربط مع الحياة

تدل البحوث الصحية والرياضية أن ممارسة السباحة نصف ساعة يومياً تخفض ضغط الدم وتقوي القلب وتقلل معدل الكولسترول في الدم وتزيد كفاءة الدورة الدموية، وتحرق 500 : 250 سعرة حرارية؛ لذا تعدّ من أفضل الرياضات لتخفيض الوزن.

HG (b)

$$\underline{HG} = \begin{bmatrix} 2 & 3 \\ -2 & -8 \\ 1 & 7 \end{bmatrix} \cdot \begin{bmatrix} 1 & 3 & -5 \\ 4 & -2 & 0 \end{bmatrix} = \begin{bmatrix} 2+12 & 6-6 & -10+0 \\ -2-32 & -6+16 & 10+0 \\ 1+28 & 3-14 & -5+0 \end{bmatrix} = \begin{bmatrix} 14 & 0 & -10 \\ -34 & 10 & 10 \\ 29 & -11 & -5 \end{bmatrix}$$

لاحظ أن $\underline{GH} \neq \underline{HG}$.

تحقق من فهمك

(4) إذا كانت $\underline{A} = \begin{bmatrix} 4 & -1 \\ 5 & -2 \end{bmatrix}$ ، $\underline{B} = \begin{bmatrix} -3 & 6 \\ -4 & 5 \end{bmatrix}$ ، فهل $\underline{AB} = \underline{BA}$ ؟

اتضح في المثال 4 أن الخاصية الإبدالية لا تتحقق في ضرب المصفوفات. لذا فإن الترتيب يُعدّ في غاية الأهمية عند ضرب المصفوفات.

إرشادات للدراسة

البرهان والأمثلة

المضادة

لإثبات صحة خاصية في جميع الحالات، يجب إثبات صحتها في الحالة العامة. ولبيان أن خاصية ما ليست صحيحة يكفي إعطاء مثال مضاد لها.

مثال 5

اختبار خاصية التوزيع

إذا كانت $\underline{J} = \begin{bmatrix} 2 & 4 \\ -5 & -2 \end{bmatrix}$ ، $\underline{K} = \begin{bmatrix} 3 & 2 \\ -1 & 3 \end{bmatrix}$ ، $\underline{L} = \begin{bmatrix} -4 & -1 \\ 3 & 0 \end{bmatrix}$ ، فجد ناتج كل مما يأتي:

(a) $\underline{J}(\underline{K} + \underline{L})$

عوض $\underline{J}(\underline{K} + \underline{L}) = \begin{bmatrix} 2 & 4 \\ -5 & -2 \end{bmatrix} \cdot \left(\begin{bmatrix} 3 & 2 \\ -1 & 3 \end{bmatrix} + \begin{bmatrix} -4 & -1 \\ 3 & 0 \end{bmatrix} \right)$

اجمع المصفوفتين $= \begin{bmatrix} 2 & 4 \\ -5 & -2 \end{bmatrix} \cdot \begin{bmatrix} -1 & 1 \\ 2 & 3 \end{bmatrix}$

اضرب المصفوفتين $= \begin{bmatrix} -2+8 & 2+12 \\ 5-4 & -5-6 \end{bmatrix} = \begin{bmatrix} 6 & 14 \\ 1 & -11 \end{bmatrix}$

(b) $\underline{JK} + \underline{JL}$

$$\underline{JK} + \underline{JL} = \begin{bmatrix} 2 & 4 \\ -5 & -2 \end{bmatrix} \cdot \begin{bmatrix} 3 & 2 \\ -1 & 3 \end{bmatrix} + \begin{bmatrix} 2 & 4 \\ -5 & -2 \end{bmatrix} \cdot \begin{bmatrix} -4 & -1 \\ 3 & 0 \end{bmatrix}$$

$$= \begin{bmatrix} 2(3) + 4(-1) & 2(2) + 4(3) \\ -5(3) + (-2)(-1) & -5(2) + (-2)(3) \end{bmatrix} + \begin{bmatrix} 2(-4) + 4(3) & 2(-1) + 4(0) \\ -5(-4) + (-2)(3) & -5(-1) + (-2)(0) \end{bmatrix}$$

$$= \begin{bmatrix} 2 & 16 \\ -13 & -16 \end{bmatrix} + \begin{bmatrix} 4 & -2 \\ 14 & 5 \end{bmatrix} = \begin{bmatrix} 6 & 14 \\ 1 & -11 \end{bmatrix}$$

لاحظ أن $\underline{J}(\underline{K} + \underline{L}) = \underline{JK} + \underline{JL}$.

تحقق من فهمك

(5) إذا كانت $\underline{R} = \begin{bmatrix} 2 & -1 \\ 1 & 3 \end{bmatrix}$ ، $\underline{S} = \begin{bmatrix} 4 & 6 \\ -2 & 5 \end{bmatrix}$ ، $\underline{T} = \begin{bmatrix} -3 & 7 \\ -4 & 8 \end{bmatrix}$ ، فحدّد ما إذا كانت المعادلة

$(\underline{S} + \underline{T})\underline{R} = \underline{SR} + \underline{TR}$ صحيحة للمصفوفات المعطاة أم لا.

في المثال السابق كانت خاصية توزيع الضرب على الجمع صحيحة، ويمكنك إثبات أن هذه الخاصية صحيحة دائماً إذا كانت عمليتا الضرب والجمع معرفتين.

وزارة التعليم

Ministry of Education

2024 - 1446

تُعد الخصائص الآتية صحيحة لأي ثلاث مصفوفات A, B, C ، ولأي عدد k ، على أن تكون عمليتا ضرب أو جمع أيٍّ منها معرفتين:

$$\begin{aligned} (AB)C &= A(BC) && \text{الخاصية التجميعية لضرب المصفوفات} \\ k(AB) &= (kA)B = A(kB) && \text{الخاصية التجميعية لضرب المصفوفات في عدد} \\ C(A+B) &= CA + CB && \text{خاصية التوزيع من اليسار للمصفوفات} \\ (A+B)C &= AC + BC && \text{خاصية التوزيع من اليمين للمصفوفات} \end{aligned}$$



تأكد

حدد إذا كانت عملية الضرب معرفة في كلٍّ مما يأتي أم لا، وإن كانت معرفة فأوجد رتبة المصفوفة الناتجة:

$$(1) \quad A_{2 \times 4} \cdot B_{4 \times 3} \quad (2) \quad C_{5 \times 4} \cdot D_{5 \times 4} \quad (3) \quad E_{8 \times 6} \cdot F_{6 \times 10}$$

مثال 1

أوجد الناتج في كلٍّ مما يأتي إذا كان ذلك ممكنًا:

$$(4) \quad \begin{bmatrix} 2 & 1 \\ 7 & -5 \end{bmatrix} \cdot \begin{bmatrix} -6 & 3 \\ -2 & -4 \end{bmatrix} \quad (5) \quad \begin{bmatrix} 10 & -2 \\ -7 & 3 \end{bmatrix} \cdot \begin{bmatrix} 1 & 4 \\ 5 & -2 \end{bmatrix}$$

$$(6) \quad [9 \quad -2] \cdot \begin{bmatrix} -2 & 4 \\ 6 & -7 \end{bmatrix} \quad (7) \quad \begin{bmatrix} -9 \\ 6 \end{bmatrix} \cdot [-1 \quad -10 \quad 1]$$

$$(8) \quad \begin{bmatrix} -8 & 7 & 4 \\ -5 & -3 & 8 \end{bmatrix} \cdot \begin{bmatrix} 10 & 6 \\ 8 & 4 \end{bmatrix} \quad (9) \quad \begin{bmatrix} 2 & 8 \\ 3 & -1 \end{bmatrix} \cdot \begin{bmatrix} 6 \\ -7 \end{bmatrix}$$

$$(10) \quad \begin{bmatrix} -4 & 3 & 2 \\ -1 & -5 & 4 \end{bmatrix} \cdot \begin{bmatrix} 2 & 1 & 6 \\ 8 & 4 & -1 \\ 5 & 3 & -2 \end{bmatrix} \quad (11) \quad \begin{bmatrix} 2 & 5 & 3 & -1 \\ -3 & 1 & 8 & -3 \end{bmatrix} \cdot \begin{bmatrix} 6 & -3 \\ -7 & 1 \\ 2 & 0 \\ -1 & 0 \end{bmatrix}$$

مثال 2

مثال 3

عدد المشتركين في دورات اللياقة البدنية		
الاشتراك	المستوى الأول	المستوى الثاني
الأسبوعي	35	28
الشهري	32	17
السنوي	18	12

(12) **لياقة بدنية:** يبين الجدول المجاور عدد المشتركين في دورات اللياقة البدنية في المستويين الأول والثاني لدى أحد مراكز اللياقة البدنية في مدينة الرياض .

إذا كانت رسوم الاشتراك الأسبوعي 110 ريالاً، ورسوم الاشتراك الشهري 165 ريالاً، ورسوم الاشتراك السنوي 439 ريالاً.

(a) اكتب مصفوفة تمثل عدد الأشخاص المسجلين في المستويات كلها، ومصفوفة تمثل رسوم الاشتراك فيها.

(b) ما المبلغ الكلي الذي يحصل عليه المركز من اشتراكات المستويين الأول والثاني.

المثالان 4 , 5 إذا كانت $X = \begin{bmatrix} -10 & -3 \\ 2 & -8 \end{bmatrix}$, $Y = \begin{bmatrix} -5 & 6 \\ -1 & 9 \end{bmatrix}$, $Z = \begin{bmatrix} -5 & -1 \\ -8 & -4 \end{bmatrix}$ ، فحدّد ما إذا كانت المعادلات الآتية صحيحة للمصفوفات المعطاة أم لا:

$$X(YZ) = (XY)Z \quad (14)$$

$$XY = YX \quad (13)$$

تدرب وحل المسائل

حدد إذا كانت عملية الضرب معرفة في كل مما يأتي أم لا، وإن كانت معرفة فأوجد رتبة المصفوفة الناتجة:

$$\underline{M}_{3 \times 1} \cdot \underline{N}_{2 \times 3} \quad (17)$$

$$\underline{A}_{5 \times 5} \cdot \underline{B}_{5 \times 5} \quad (16)$$

$$\underline{P}_{2 \times 3} \cdot \underline{Q}_{3 \times 4} \quad (15)$$

$$\underline{S}_{5 \times 2} \cdot \underline{T}_{2 \times 4} \quad (20)$$

$$\underline{J}_{2 \times 1} \cdot \underline{K}_{2 \times 1} \quad (19)$$

$$\underline{X}_{2 \times 6} \cdot \underline{Y}_{6 \times 3} \quad (18)$$

مثال 1

أوجد الناتج في كل مما يأتي إذا كان ذلك ممكنًا:

$$\begin{bmatrix} 6 \\ -3 \end{bmatrix} \cdot [2 \quad -7] \quad (22) \quad [1 \quad 6] \cdot \begin{bmatrix} -10 \\ 6 \end{bmatrix} \quad (21)$$

$$\begin{bmatrix} -1 & 0 \\ 5 & 2 \end{bmatrix} \cdot \begin{bmatrix} 6 & -3 \\ 7 & -2 \end{bmatrix} \quad (24) \quad \begin{bmatrix} -3 & -7 \\ -2 & -1 \end{bmatrix} \cdot \begin{bmatrix} 4 & 4 \\ 9 & -3 \end{bmatrix} \quad (23)$$

$$\begin{bmatrix} -6 & 4 & -9 \\ 2 & 8 & 7 \end{bmatrix} \cdot \begin{bmatrix} 7 \\ 2 \\ 4 \end{bmatrix} \quad (26) \quad \begin{bmatrix} -1 & 0 & 6 \\ -4 & -10 & 4 \end{bmatrix} \cdot \begin{bmatrix} 5 & -7 \\ -2 & -9 \end{bmatrix} \quad (25)$$

$$\begin{bmatrix} -4 \\ 8 \end{bmatrix} \cdot [-3 \quad -1] \quad (28) \quad \begin{bmatrix} 2 & 9 & -3 \\ 4 & -1 & 0 \end{bmatrix} \cdot \begin{bmatrix} 4 & 2 \\ -6 & 7 \\ -2 & 1 \end{bmatrix} \quad (27)$$

مثال 2

عدد الغرف			
المبنى	غرفة بسريير واحد	غرفة بسرييرين	غرفة بثلاث أسرة
1	3	2	2
2	2	3	1
3	4	3	0

(29) **أجنحة فندقية:** لدى مؤسسة للأجنحة الفندقية 3 مباني للإيجار، ويبين الجدول المجاور عدد الغرف في كل مبنى. فإذا كانت الأجرة اليومية للغرفة التي تحوي سريراً واحداً 220 ريالاً، وللغرفة التي تحوي سريرين 250 ريالاً، وللغرفة التي تحوي ثلاثة أسرة 360 ريالاً.

مثال 3

(a) اكتب مصفوفة تمثل عدد الغرف، ثم اكتب مصفوفة أسعار الغرف.

(b) اكتب مصفوفة تمثل الدخل اليومي للمؤسسة، على فرض أن جميع الغرف تم تأجيرها.

(c) ما مقدار الدخل اليومي الكلي، على فرض أن جميع الغرف تم تأجيرها.

إذا كانت $k = 2$ ، $\underline{P} = \begin{bmatrix} 4 & -1 \\ 1 & 2 \end{bmatrix}$ ، $\underline{Q} = \begin{bmatrix} 6 & 4 \\ -2 & -5 \end{bmatrix}$ ، $\underline{R} = \begin{bmatrix} 4 & 6 \\ -6 & 4 \end{bmatrix}$ ، فحدد ما إذا كانت المعادلات

المثالان 4, 5

الآتية صحيحة للمصفوفات المعطاة أم لا:

$$\underline{PQR} = \underline{RQP} \quad (31) \quad k(\underline{PQ}) = \underline{P}(k\underline{Q}) \quad (30)$$

$$\underline{R}(\underline{P} + \underline{Q}) = \underline{PR} + \underline{QR} \quad (33) \quad \underline{PR} + \underline{QR} = (\underline{P} + \underline{Q})\underline{R} \quad (32)$$

الزهور	سعر الشراء	سعر البيع
جوري	0.50 ريال	3.00 ريالات
نرجس	1.5 ريال	6 ريالات
زنبق	2 ريال	7 ريالات

(34) **تنسيق زهور:** اشترى محل تنسيق زهور 200 زهرة جوري، و 150 زهرة نرجس، و 100 زهرة زنبق، وسعر شراء الزهرة من كل نوع مبين في الجدول المجاور، وكذلك سعر بيع الزهرة بعد تغليفها وتنسيقها في باقة.

(a) استعمل ضرب المصفوفات؛ لإيجاد المبلغ الكلي لشراء الزهور.

(b) استعمل ضرب المصفوفات لإيجاد المبلغ الكلي الذي حصل عليه صاحب المحل من بيع الزهور.

(c) أوجد مقدار ربح المحل من بيع الزهور.



الربط مع الحياة

الزنبق يضم حوالي 110 أنواع أهمها الزنبق الأبيض. وتنمو الأزهار من بصيالات محرشفة، وتأخذ شكل الأبواق ولها ست بتلات.

استعمل المصفوفات $\underline{X} = \begin{bmatrix} 2 & -6 \\ 3y & -4.5 \end{bmatrix}$ ، لإيجاد ناتج $\underline{Y} = \begin{bmatrix} -5 & -1.5 \\ x+2 & y \\ 13 & 1.2 \end{bmatrix}$ ، $\underline{Z} = \begin{bmatrix} -3 \\ x+y \end{bmatrix}$

الضرب في كلِّ مما يأتي إذا كان ذلك ممكناً:

- (38) \underline{YZ} (37) \underline{ZY} (36) \underline{YX} (35) \underline{XY}
 (42) $(\underline{XX})\underline{Z}$ (41) $\underline{X}(\underline{ZZ})$ (40) $(\underline{XZ})\underline{X}$ (39) $(\underline{YX})\underline{Z}$

مسائل مهارات التفكير العليا

(43) **تبرير:** إذا كانت رتبة المصفوفة \underline{AB} هي 5×8 ، ورتبة المصفوفة \underline{A} هي 5×6 ، فما رتبة المصفوفة \underline{B} ؟

(44) **برهان:** بين أن الخصائص الآتية صحيحة للمصفوفات من النوع 2×2 .

- (a) خاصية التوزيع للضرب في عدد.
 (b) خاصية التوزيع للضرب على الجمع.
 (c) الخاصية التجميعية للضرب.
 (d) الخاصية التجميعية للضرب في عدد.

(45) **مسألة مفتوحة:** اكتب مصفوفتين \underline{A} و \underline{B} على أن تكون $\underline{AB} = \underline{BA}$.

(46) **تحذُّ:** جد قيم a, b, c, d التي تجعل العبارة $\begin{bmatrix} a & b \\ c & d \end{bmatrix} \cdot \begin{bmatrix} 4 & 3 \\ 2 & 5 \end{bmatrix} = \begin{bmatrix} 10 & 11 \\ 20 & 29 \end{bmatrix}$ صحيحة.

(47) **اكتب:** ارجع إلى فقرة "لماذا؟" بداية الدرس، واستعمل البيانات المعطاة لشرح كيفية استعمال المصفوفات في إحصاءات المبيعات للمكتبة.

تدريب على اختبار

(49) **رتبة المصفوفة:** ما رتبة المصفوفة الناتجة عن عملية الضرب الآتية؟

$$\begin{bmatrix} a & b & c \\ d & e & f \\ g & h & i \\ j & k & l \end{bmatrix} \cdot \begin{bmatrix} 7 \\ 4 \\ 6 \end{bmatrix}$$

- A 1×4
 B 3×3
 C 4×1
 D 4×3

(48) في مشغل ثلاث آلات حياكة، فإذا كان إنتاج كل آلة في 3 أشهر كما في الجدول أدناه، وسعر بيع القطعة الواحدة من إنتاج كل آلة معطى أيضاً، فما المبلغ الذي سيحصل عليه المشغل من مبيعات الأشهر الثلاثة؟

	الشهر 1	الشهر 2	الشهر 3	سعر بيع القطعة
الآلة 1	26	19	36	28
الآلة 2	48	27	16	19
الآلة 3	36	11	18	31

- A 6012 ريالاً
 B 5400 ريالاً
 C 1221 ريالاً
 D 2320 ريالاً

مراجعة تراكمية

أوجد الناتج في كلِّ مما يأتي إذا كان ذلك ممكناً: (الدرس 2-2)

(50) $4 \begin{bmatrix} 8 & -1 \\ -3 & -4 \end{bmatrix} - 5 \begin{bmatrix} -2 & 4 \\ 6 & 3 \end{bmatrix}$ (51) $5 \left(2 \begin{bmatrix} -2 & -5 \\ -1 & 3 \end{bmatrix} - 3 \begin{bmatrix} -1 & -2 \\ 6 & 4 \end{bmatrix} \right)$ (52) $-4 \left(\begin{bmatrix} 8 & 9 \\ -5 & 5 \end{bmatrix} \cdot -2 \begin{bmatrix} -6 & -1 \\ 6 & 3 \end{bmatrix} \right)$

حدد رتبة كل مصفوفة فيما يأتي:

$$(1) \begin{bmatrix} 3 & 4 & 5 & 6 & 7 \end{bmatrix} \quad (2) \begin{bmatrix} 10 & -6 & 18 & 0 \\ -7 & 5 & 2 & 4 \\ 3 & 11 & 9 & 7 \end{bmatrix}$$

إذا كانت $\underline{A} = \begin{bmatrix} 4 & 3 \\ -5 & 1 \\ -3 & 7 \end{bmatrix}$, $\underline{B} = \begin{bmatrix} 1 & -9 & 2 \\ 0 & 10 & 4 \end{bmatrix}$ فحدد:

$$a_{21} \quad (3) \quad b_{22} \quad (4)$$

(5) **مبيعات:** يبين الجدول الآتي مبيعات محلّي ألبسة أطفال في أسبوعين مختلفين:

المحل	الأسبوع	الملابس المباعة			
		قميص	بلوزة	قبعة	بنطال
A	1	25	14	18	5
	2	32	26	15	4
B	1	44	10	13	8
	2	18	38	17	2

(a) اكتب مصفوفة تمثل مبيعات كل أسبوع.

(b) جد مجموع مبيعات الأسبوعين باستعمال جمع المصفوفات.

أوجد الناتج في كل مما يأتي إذا كان ذلك ممكناً:

$$(6) \begin{bmatrix} 0 & 15 \\ -6 & -10 \end{bmatrix} - \begin{bmatrix} 8 & 0 \\ -3 & 5 \end{bmatrix}$$

$$(7) -3 \begin{bmatrix} 3 & 5 & 12 \\ 0 & -1 & 3 \\ 9 & 6 & -5 \end{bmatrix}$$

$$(8) 2 \begin{bmatrix} -1 & 5 \\ 5 & -6 \end{bmatrix} + 4 \begin{bmatrix} -3x & 2 \\ 2 & x \end{bmatrix} - 3 \begin{bmatrix} x-2 & 3 \\ 3 & 1 \end{bmatrix}$$

(9) **اختيار من متعدد:** أوجد ناتج:

$$.2 \begin{bmatrix} 3 & 5 \\ -6 & 0 \end{bmatrix} + 4 \begin{bmatrix} 9 & -1 \\ 2 & 3 \end{bmatrix}$$

$$\begin{bmatrix} 12 & 4 \\ -4 & 3 \end{bmatrix} \quad \text{C} \quad \begin{bmatrix} 42 & 6 \\ -4 & 12 \end{bmatrix} \quad \text{A}$$

$$\begin{bmatrix} 27 & -5 \\ -12 & 0 \end{bmatrix} \quad \text{D} \quad \begin{bmatrix} 21 & 3 \\ -2 & 6 \end{bmatrix} \quad \text{B}$$

أوجد الناتج في كل مما يأتي إذا كان ذلك ممكناً:

$$(10) \begin{bmatrix} -2 & 3 \\ 1 & 6 \end{bmatrix} \cdot \begin{bmatrix} 3 & -1 & 4 \\ 0 & 5 & -6 \end{bmatrix}$$

$$(11) \begin{bmatrix} -4 & 0 & -1 \\ 0 & 1 & 8 \end{bmatrix} \cdot \begin{bmatrix} -1 & 0 \\ 0 & 4 \end{bmatrix}$$

$$(12) \begin{bmatrix} 4 & -2 & -7 \\ 6 & 3 & 5 \end{bmatrix} \cdot \begin{bmatrix} -2 \\ 5 \\ 3 \end{bmatrix}$$

(13) **اختيار من متعدد:** إذا كانت المصفوفة \underline{XY} من النوع 3×2 ، والمصفوفة \underline{X} من النوع 3×4 ، فما رتبة المصفوفة \underline{Y} ؟

$$2 \times 3 \quad \text{A} \quad 3 \times 4 \quad \text{C}$$

$$3 \times 2 \quad \text{B} \quad 4 \times 2 \quad \text{D}$$

(14) **مبيعات:** يبين الجدول الآتي موجودات محل ألبسة رياضية من القمصان والبناطيل بالدسته، وقد قرر صاحب المحل مضاعفة عدد القمصان والبناطيل قبيل فصل الصيف.

النوع	صغير	وسط	كبير
قميص	10	10	15
بنطال	25	35	45

(a) اكتب مصفوفة \underline{A} تمثل عدد القمصان والبناطيل في المحل قبل مضاعفة العدد.

(b) ما العدد الذي يمكن أن نضرب فيه المصفوفة \underline{A} لإيجاد المصفوفة \underline{M} التي تمثل عدد القمصان والبناطيل بعد مضاعفته؟ جد \underline{M} .

(c) ماذا تمثل المصفوفة $\underline{A} - \underline{M}$ في هذه الحالة؟

(15) **اختيار من متعدد:** ناتج الضرب:

$$\begin{bmatrix} 2 & -1 \\ -3 & 0 \\ 0 & 4 \end{bmatrix} \cdot \begin{bmatrix} 4 & 0 & -2 \end{bmatrix} \text{ يساوي:}$$

$$\begin{bmatrix} 8 & -4 \\ 0 & 0 \\ 0 & -8 \end{bmatrix} \quad \text{C} \quad \begin{bmatrix} 8 & -12 \end{bmatrix} \quad \text{A}$$

$$\begin{bmatrix} 8 \\ -12 \end{bmatrix} \quad \text{B} \quad \text{عملية الضرب غير معرّفة} \quad \text{D}$$

المحددات وقاعدة كرامر

Determinants and Cramer's Rule

رابط الدرس الرقمي



www.iem.edu.sa



لماذا؟

لتحديد الإقليم الذي يعيش فيه أحد النمور، قام عالم حيوانات بتتبعه بواسطة جهاز GPS، وبعد عدة أيام، تأكد العالم أن الإقليم مثلث الشكل. وأنه من الممكن بعد تحديد إحداثيات رؤوس المنطقة استعمال المصفوفات والمحددات لحساب مساحتها.

فيما سبق:

درست حل أنظمة من المعادلات جبرياً.
(مهارة سابقة)

والآن:

- أحسب المحددات.
- أحل أنظمة معادلات خطية باستعمال قاعدة كرامر.

المفردات:

المحددة

determinant

محددة الدرجة الثانية

second-order determinant

محددة الدرجة الثالثة

third-order determinant

قاعدة الأقطار

diagonal rule

مصفوفة المعاملات

coefficient matrix

قاعدة كرامر

Cramer's Rule

قراءة الرياضيات

المحددات:

يرمز لمحددة المصفوفة

بالرمز $|A|$

أضف إلى

مطويتك

محددة الدرجة الثانية

مفهوم أساسي

التعبير اللفظي: يرمز لمحددة المصفوفة $\begin{bmatrix} a & b \\ c & d \end{bmatrix}$ بالرمز $\begin{vmatrix} a & b \\ c & d \end{vmatrix}$ وقيمتها تساوي حاصل ضرب عنصري القطر الرئيس مطروحاً منه حاصل ضرب عنصري القطر الآخر.

$$\begin{vmatrix} a & b \\ c & d \end{vmatrix} = ad - cb \quad \text{بالرموز:}$$

$$\begin{vmatrix} 4 & 5 \\ -3 & 6 \end{vmatrix} = 4(6) - (-3)(5) = 39 \quad \text{مثال:}$$

محددة الدرجة الثانية

مثال 1

أوجد قيمة كل محددة فيما يأتي:

$$(a) \begin{vmatrix} 5 & -4 \\ 8 & 9 \end{vmatrix}$$

$$\begin{aligned} \text{تعريف محددة الدرجة الثانية} \quad \begin{vmatrix} 5 & -4 \\ 8 & 9 \end{vmatrix} &= 5(9) - 8(-4) \\ \text{بسّط} &= 45 + 32 \\ &= 77 \end{aligned}$$

$$(b) \begin{vmatrix} 0 & 6 \\ 4 & -11 \end{vmatrix}$$

$$\begin{aligned} \text{تعريف محددة الدرجة الثانية} \quad \begin{vmatrix} 0 & 6 \\ 4 & -11 \end{vmatrix} &= 0(-11) - 4(6) \\ \text{بسّط} &= 0 - 24 \\ &= -24 \end{aligned}$$

تحقق من فهمك ✓

$$(1B) \begin{vmatrix} 7 & 5 \\ 9 & -4 \end{vmatrix}$$

$$(1A) \begin{vmatrix} -6 & -7 \\ 10 & 8 \end{vmatrix}$$



وزارة التعليم

Ministry of Education

تُسمى محددات المصفوفات من الرتبة 3×3 **محددات الدرجة الثالثة**. ويمكنك حساب هذه المحددات باستخدام **قاعدة الأقطار** أو باستخدام محددة المصفوفة 2×2 .

إرشادات للدراسة

قاعدة الأقطار

يمكن استعمال قاعدة الأقطار فقط للمصفوفات من الرتبة 3×3 .

أضف إلى مطويتك

حساب محددة المصفوفة 3×3

مفهوم أساسي

الطريقة الأولى: باستخدام قاعدة الأقطار

$$\begin{vmatrix} a & b & c & | & a & b \\ d & e & f & | & d & e \\ g & h & i & | & g & h \end{vmatrix}$$

خطوة 1: أعد كتابة العمود الأول والثاني عن يمين المحددة.

خطوة 2: أوجد حاصل ضرب عناصر القطر الرئيس

وثلاثيات العناصر على الموازيات المبيّنة ثم اجمع.

$$\begin{vmatrix} a & b & c & | & a & b \\ d & e & f & | & d & e \\ g & h & i & | & g & h \end{vmatrix}$$

خطوة 3: أوجد حاصل ضرب عناصر القطر الآخر وثلاثيات

العناصر على الموازيات المبيّنة ثم اجمع.

خطوة 4: لإيجاد قيمة المحددة نطرح ناتج الخطوة 3 من ناتج الخطوة 2.

الطريقة الثانية: باستخدام محددة المصفوفة 2×2 .

$$a \cdot \begin{vmatrix} e & f \\ h & i \end{vmatrix} - b \begin{vmatrix} d & f \\ g & i \end{vmatrix} + c \begin{vmatrix} d & e \\ g & h \end{vmatrix}$$

حساب محددة المصفوفة 3×3

مثال 2

أوجد قيمة $\begin{vmatrix} 4 & -8 & 3 \\ -3 & 2 & 6 \\ -4 & 5 & 9 \end{vmatrix}$ باستخدام قاعدة الأقطار، ثم باستخدام محددة المصفوفة 2×2 .

أولاً: باستخدام قاعدة الأقطار:

الخطوة 1: أعد كتابة العمود الأول والثاني عن يمين المحددة.

$$\begin{vmatrix} 4 & -8 & 3 & | & 4 & -8 \\ -3 & 2 & 6 & | & -3 & 2 \\ -4 & 5 & 9 & | & -4 & 5 \end{vmatrix}$$

الخطوة 2: جد حاصل ضرب عناصر الأقطار وموازياتها.

$$\begin{vmatrix} 4 & -8 & 3 & | & 4 & -8 \\ -3 & 2 & 6 & | & -3 & 2 \\ -4 & 5 & 9 & | & -4 & 5 \end{vmatrix}$$

$$4(2)(9) = 72$$

$$-4(2)(3) = -24$$

$$-8(6)(-4) = 192$$

$$5(6)(4) = 120$$

$$3(-3)(5) = -45$$

$$9(-3)(-8) = 216$$

الخطوة 3: اجمع نواتج الضرب في كل مجموعة.

$$72 + 192 + (-45) = 219$$

$$-24 + 120 + 216 = 312$$

الخطوة 4: اطرح المجموع الثاني من المجموع الأول.

$$219 - 312 = -93$$

فتكون قيمة المحددة هي -93



ثانياً: باستعمال محدّدة المصفوفة 2×2 :

$$\begin{vmatrix} 4 & -8 & 3 \\ -3 & 2 & 6 \\ -4 & 5 & 9 \end{vmatrix} = 4 \begin{vmatrix} 2 & 6 \\ 5 & 9 \end{vmatrix} - (-8) \begin{vmatrix} -3 & 6 \\ -4 & 9 \end{vmatrix} + 3 \begin{vmatrix} -3 & 2 \\ -4 & 5 \end{vmatrix}$$

$$= 4 \times (-12) + 8 \times (-3) + 3 \times (-7) = -93$$

تحقق من فهمك ✓

$$\begin{vmatrix} -8 & -4 & 4 \\ 0 & -5 & -8 \\ 3 & 4 & 1 \end{vmatrix} \quad (2B) \qquad \begin{vmatrix} -5 & 9 & 4 \\ -2 & -1 & 5 \\ -4 & 6 & 2 \end{vmatrix} \quad (2A)$$

تستعمل المحدّدات أيضاً لإيجاد مساحة المثلث. فإذا كانت إحداثيات رؤوس المثلث معلومة، فيمكنك استعمال الصيغة أدناه لإيجاد مساحة المثلث.

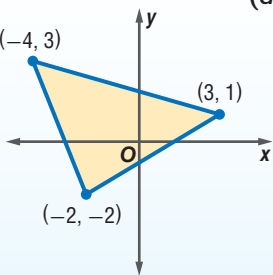
مفهوم أساسي مساحة المثلث

أضف إلى

التعبير اللفظي: مساحة المثلث الذي إحداثيات رؤوسه (a, b) , (c, d) , (e, f) هي القيمة المطلقة للمقدار A ، حيث:

$$A = \frac{1}{2} \begin{vmatrix} a & b & 1 \\ c & d & 1 \\ e & f & 1 \end{vmatrix}$$

مثال: مساحة المثلث في الشكل المجاور هي:

$$A = \frac{1}{2} \begin{vmatrix} -4 & 3 & 1 \\ 3 & 1 & 1 \\ -2 & -2 & 1 \end{vmatrix}$$


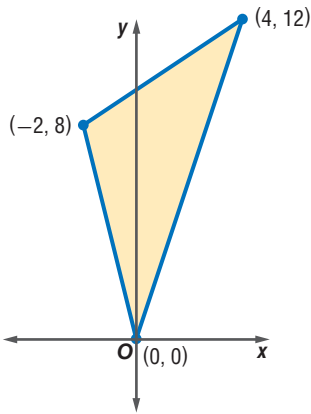
إرشادات للدراسة

صيغة المساحة

لاحظ أنه يجب أن تستعمل القيمة المطلقة للمقدار A حتى تضمن أن المساحة غير سالبة.

مثال 3 من واقع الحياة

حساب مساحة المثلث باستعمال المحدّدات



عالم الحيوان: عُد إلى فقرة "الماذا؟" بداية الدرس. إذا كانت إحداثيات رؤوس الإقليم الذي يعيش فيه النمر موضحة في الشكل المجاور بالكيلومترات، فاستعمل المحدّدات لإيجاد مساحة الإقليم.

$$A = \frac{1}{2} \begin{vmatrix} a & b & 1 \\ c & d & 1 \\ e & f & 1 \end{vmatrix}$$

$$(a, b) = (0, 0)$$

$$(c, d) = (4, 12)$$

$$(e, f) = (-2, 8)$$

$$= \frac{1}{2} \begin{vmatrix} 0 & 0 & 1 \\ 4 & 12 & 1 \\ -2 & 8 & 1 \end{vmatrix}$$

قاعدة الأقطار

$$\begin{vmatrix} 0 & 0 & 1 & 0 & 0 \\ 4 & 12 & 1 & 4 & 12 \\ -2 & 8 & 1 & -2 & 8 \end{vmatrix} \qquad \begin{vmatrix} 0 & 0 & 1 & 0 & 0 \\ 4 & 12 & 1 & 4 & 12 \\ -2 & 8 & 1 & -2 & 8 \end{vmatrix}$$

$$0 + 0 + 32 = 32 \qquad -24 + 0 + 0 = -24$$

$$A = \frac{1}{2} \begin{vmatrix} 0 & 0 & 1 \\ 4 & 12 & 1 \\ -2 & 8 & 1 \end{vmatrix}$$

اجمع نواتج ضرب عناصر الأقطار

قيمة A



الربط مع الحياة

يعيش النمر في أقاليم قد تصل مساحتها إلى 100 km^2 ، ويحرس النمر إقليمه الذي يعيش فيه ويعرفه بتتبع أثره وأماكن روثه.

وزارة التعليم

Ministry of Education

الدرس 2-4 المحدّدات وقاعدة كرامر 144هـ - 85

$$\text{بسط} \quad = \left(\frac{1}{2}\right) [32 - (-24)] = 28$$

فتكون مساحة الإقليم الذي يعيش فيه النمر هي 28 km^2 .

تحقق من فهمك

3 خرائط: يقف خالد وسعد ورضوان عند ثلاث نقاط مختلفة على خريطة المدينة التي يسكنونها، فإذا كانت إحداثيات هذه النقاط هي: $(11, 9)$, $(6, 4)$, $(3, 15)$ ، بحيث تمثل كل وحدة على الخريطة 0.5 km . فما مساحة المنطقة المثلثة التي يقفون عند رؤوسها؟

إرشادات للدراسة

مساحة المثلث

لا تختلف قيمة مساحة المثلث باختلاف ترتيب الرؤوس في المحددة، أو بتبديل الصفوف فيها.

إرشادات للدراسة

المحددات

تستعمل المحددات لتحديد ما إذا كان لنظام من المعادلات الخطية حل وحيد أم لا.

تسمى المصفوفة التي عناصرها معاملات المتغيرات في نظام معادلات بعدة متغيرات بعد ترتيب النظام **مصفوفة المعاملات**.

قاعدة كرامر: يمكنك استعمال المحددات لحل أنظمة معادلات، فإذا كانت قيمة المحددة لمصفوفة المعاملات لا تساوي صفرًا، فإن للنظام حلًا وحيدًا. وإذا كانت قيمة المحددة صفرًا، فإما أن يكون للنظام عدد لانهائي من الحلول أو لا حل له، وهناك طريقة لحل أنظمة المعادلات الخطية تُسمى **قاعدة كرامر**.

أضف إلى

مطويتك

مفهوم أساسي

قاعدة كرامر

إذا كانت C مصفوفة المعاملات للنظام $ax + by = m$ ، $fx + gy = n$ ، حيث $C = \begin{bmatrix} a & b \\ f & g \end{bmatrix}$

فإن حل هذا النظام هو $x = \frac{\begin{vmatrix} m & b \\ n & g \end{vmatrix}}{|C|}$ و $y = \frac{\begin{vmatrix} a & m \\ f & n \end{vmatrix}}{|C|}$ ، وذلك إذا كانت $|C| \neq 0$.

مثال 4

حل نظام من معادلتين

حل النظام الآتي باستعمال قاعدة كرامر: $5x - 6y = 15$

$$3x + 4y = -29$$

احسب محددة مصفوفة المعاملات

$$|C| = \begin{vmatrix} 5 & -6 \\ 3 & 4 \end{vmatrix} = 5(4) - (3)(-6) = 38$$

$$x = \frac{\begin{vmatrix} m & b \\ n & g \end{vmatrix}}{|C|}$$

قاعدة كرامر

$$y = \frac{\begin{vmatrix} a & m \\ f & n \end{vmatrix}}{|C|}$$

$$= \frac{\begin{vmatrix} 15 & -6 \\ -29 & 4 \end{vmatrix}}{38}$$

عوض

$$= \frac{\begin{vmatrix} 5 & 15 \\ 3 & -29 \end{vmatrix}}{38}$$

$$= \frac{15(4) - (-29)(-6)}{38}$$

احسب المحددات

$$= \frac{5(-29) - 3(15)}{38}$$

$$= \frac{60 - 174}{38}$$

اضرب

$$= \frac{-145 - 45}{38}$$

$$= -\frac{114}{38}$$

اجمع وا طرح

$$= -\frac{190}{38}$$

$$= -3$$

بسط

$$= -5$$

إرشادات للدراسة

قاعدة كرامر

عندما تكون قيمة محددة مصفوفة المعاملات C صفرًا، فإنه لا يكون للنظام حل وحيد.



حل النظام هو: $(-3, -5)$

تحقق: $x = -3, y = -5$ $5(-3) - 6(-5) \stackrel{?}{=} 15$

بسّط $-15 + 30 \stackrel{?}{=} 15$

✓ $15 = 15$

$x = -3, y = -5$ $3(-3) + 4(-5) \stackrel{?}{=} -29$

بسّط $-9 - 20 \stackrel{?}{=} -29$

✓ $-29 = -29$

تحقق من فهمك ✓

$8x - 5y = 70$ (4B)

$7x + 3y = 37$ (4A)

$9x + 7y = 3$

$-5x - 7y = -41$

يمكنك استعمال قاعدة كرامر لحل نظام من ثلاث معادلات أيضًا.

مفهوم أساسي استعمال قاعدة كرامر لحل نظام من ثلاث معادلات

أضف إلى مطويتك

إذا كانت C مصفوفة المعاملات للنظام $ax + by + cz = m$ ، $fx + gy + hz = n$ ، $ix + jy + kz = p$ حيث $C = \begin{bmatrix} a & b & c \\ f & g & h \\ i & j & k \end{bmatrix}$

فإن حل هذا النظام هو $x = \frac{\begin{vmatrix} m & b & c \\ n & g & h \\ p & k & \ell \end{vmatrix}}{|C|}$ ، $y = \frac{\begin{vmatrix} a & m & c \\ f & n & h \\ j & p & \ell \end{vmatrix}}{|C|}$ ، $z = \frac{\begin{vmatrix} a & b & m \\ f & g & n \\ j & k & p \end{vmatrix}}{|C|}$ وذلك إذا كانت $|C| \neq 0$.

مثال 5 حل نظام من ثلاث معادلات

حل النظام الآتي باستعمال قاعدة كرامر: $4x + 5y - 6z = -14$

$3x - 2y + 7z = 47$

$7x - 6y - 8z = 15$

احسب محدّدة مصفوفة المعاملات

$|C| = \begin{vmatrix} 4 & 5 & -6 \\ 3 & -2 & 7 \\ 7 & -6 & -8 \end{vmatrix} = 621$

$x = \frac{\begin{vmatrix} m & b & c \\ n & g & h \\ p & k & \ell \end{vmatrix}}{|C|}$ ، $y = \frac{\begin{vmatrix} a & m & c \\ f & n & h \\ j & p & \ell \end{vmatrix}}{|C|}$ ، $z = \frac{\begin{vmatrix} a & b & m \\ f & g & n \\ j & k & p \end{vmatrix}}{|C|}$

$= \frac{\begin{vmatrix} -14 & 5 & -6 \\ 47 & -2 & 7 \\ 15 & -6 & -8 \end{vmatrix}}{621}$ ، $= \frac{\begin{vmatrix} 4 & -14 & -6 \\ 3 & 47 & 7 \\ 7 & 15 & -8 \end{vmatrix}}{621}$ ، $= \frac{\begin{vmatrix} 4 & 5 & -14 \\ 3 & -2 & 47 \\ 7 & -6 & 15 \end{vmatrix}}{621}$

$= \frac{3105}{621} = 5$ ، $= -\frac{1242}{621} = -2$ ، $= \frac{2484}{621} = 4$

$$3(5) - 2(-2) + 7(4) \stackrel{?}{=} 47$$

$$15 + 4 + 28 \stackrel{?}{=} 47$$

$$\checkmark 47 = 47$$

وعليه يكون حل النظام هو (5, -2, 4)

تحقق : $4(5) + 5(-2) - 6(4) \stackrel{?}{=} -14$

$$20 - 10 - 24 \stackrel{?}{=} -14$$

$$\checkmark -14 = -14$$

$7(5) - 6(-2) - 8(4) \stackrel{?}{=} 15$

$$35 + 12 - 32 \stackrel{?}{=} 15$$

$$\checkmark 15 = 15$$

تحقق من فهمك ✓

$$6x + 5y + 2z = -1 \quad (5B)$$

$$-x + 3y + 7z = 12$$

$$5x - 7y - 3z = -52$$

$$3x + 5y + 2z = -7 \quad (5A)$$

$$-4x + 3y - 5z = -19$$

$$5x + 4y - 7z = -15$$

إرشادات للدراسة

التحقق من الحل
للتحقق من الحل،
عوض القيم في
المعادلات الأصلية.

تأكد ✓

أوجد قيمة كل محدّدة مما يأتي:

المثالان 1, 2

$$\begin{vmatrix} -6 & -6 \\ 8 & 10 \end{vmatrix} \quad (2)$$

$$\begin{vmatrix} 8 & 6 \\ 5 & 7 \end{vmatrix} \quad (1)$$

$$\begin{vmatrix} 16 & -10 \\ -8 & 5 \end{vmatrix} \quad (4)$$

$$\begin{vmatrix} -4 & 12 \\ 9 & 5 \end{vmatrix} \quad (3)$$

$$\begin{vmatrix} 2 & -3 & 5 \\ -4 & 6 & -2 \\ 4 & -1 & -6 \end{vmatrix} \quad (6)$$

$$\begin{vmatrix} 3 & -2 & 2 \\ -4 & 2 & -5 \\ -3 & 1 & 4 \end{vmatrix} \quad (5)$$

$$\begin{vmatrix} -5 & -3 & 4 \\ -2 & -4 & -3 \\ 8 & -2 & 4 \end{vmatrix} \quad (8)$$

$$\begin{vmatrix} 8 & 4 & 0 \\ -2 & -6 & -1 \\ 5 & -3 & 6 \end{vmatrix} \quad (7)$$

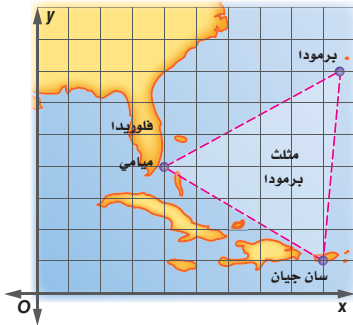
$$\begin{vmatrix} -4 & 3 & 0 \\ 1 & 5 & -2 \\ -1 & -8 & -3 \end{vmatrix} \quad (10)$$

$$\begin{vmatrix} 8 & 3 & 4 \\ 2 & 4 & 2 \\ 1 & 6 & 5 \end{vmatrix} \quad (9)$$



الربط مع الحياة

مثلث برمودا منطقة جغرافية في المحيط الأطلسي على شكل مثلث متساوي الأضلاع (كل ضلع نحو 1500 km)، ومساحته حوالي 1000000 km². وهي منطقة شهيرة بسبب مزاعم عن مخاطر وحوادث وقعت فيها ولم يُحلّ اللغز حتى الآن.



11) جغرافيا: استعمل الخريطة الإحداثية المجاورة،

التي تظهر منطقة مثلث برمودا، للإجابة عما يأتي:

(a) احسب مساحة منطقة مثلث برمودا على الخريطة.

(b) إذا كان طول كل وحدة على الخريطة تمثل 175 ميلاً في الواقع،

فأوجد مساحة منطقة مثلث برمودا الحقيقية.

مثال 3

استعمل قاعدة كرامر لحل كل نظام معادلات مما يأتي:

مثال 4

$$10c - 7d = -59 \quad (13)$$

$$4x - 5y = 39 \quad (12)$$

$$6c + 5d = -63$$

$$3x + 8y = -6$$



مثال 5 استعمال قاعدة كرامر لحل كل نظام معادلات مما يأتي:

$$\begin{aligned} 6x - 5y + 2z &= -49 & (15) & & 4x - 2y + 7z &= 26 & (14) \\ -5x - 3y - 8z &= -22 & & & 5x + 3y - 5z &= -50 \\ -3x + 8y - 5z &= 55 & & & -7x - 8y - 3z &= 49 \end{aligned}$$

تدرب وحل المسائل

المثالان 1, 2 أوجد قيمة كل محدد مما يأتي:

$$\begin{aligned} \begin{vmatrix} -5 & 8 \\ -6 & -7 \end{vmatrix} & (18) & \begin{vmatrix} -8 & -9 \\ 11 & 12 \end{vmatrix} & (17) & \begin{vmatrix} -7 & 12 \\ 5 & 6 \end{vmatrix} & (16) \\ \begin{vmatrix} -5 & -1 & -2 \\ 1 & 8 & 4 \\ 0 & -6 & 9 \end{vmatrix} & (21) & \begin{vmatrix} 2 & 0 & -6 \\ -3 & -4 & -5 \\ -2 & 5 & 8 \end{vmatrix} & (20) & \begin{vmatrix} 3 & 5 & -2 \\ -1 & -4 & 6 \\ -6 & -2 & 5 \end{vmatrix} & (19) \end{aligned}$$

مثال 3 (22) علم الآثار: وجد عالم آثار عظام حوت عند الإحداثيات (0, 3), (4, 7), (5, 9) على الخريطة. فإذا كانت الإحداثيات بالأمتار. فجد مساحة المثلث الذي رؤوسه تلك النقاط.

استعمل قاعدة كرامر لحل كل نظام معادلات مما يأتي:

$$\begin{aligned} 10a - 3b &= -34 & (24) & & 6x - 5y &= 73 & (23) \\ 3a + 8b &= -28 & & & -7x + 3y &= -71 \end{aligned}$$

$$\begin{aligned} 8x - 4y + 7z &= 34 & (26) & & 5x - 4y + 6z &= 58 & (25) \\ 5x + 6y + 3z &= -21 & & & -4x + 6y + 3z &= -13 \\ 3x + 7y - 8z &= -85 & & & 6x + 3y + 7z &= 53 \end{aligned}$$

(27) رحلة مدرسية: نظمت مدرسة ثانوية رحلة إلى المدينة المنورة التي تبعد 615 km عن المدرسة. فإذا كان معدل سرعة الحافلة على الطريق السريع 105 km/h، ومعدل سرعتها داخل المدن 45 km/h، وكان زمن سير الحافلة 7 ساعات. فاستعمل قاعدة كرامر لإيجاد عدد ساعات سيرها على الطريق السريع، وعدد ساعات سيرها داخل المدن.

استعمل قاعدة كرامر لحل كل نظام معادلات مما يأتي:

$$\begin{aligned} 7x + 8y + 9z &= -149 & (29) & & 3a - 5b - 9c &= 17 & (28) \\ -6x + 7y - 5z &= 54 & & & 4a - 3c &= 31 \\ 4x + 5y - 2z &= -44 & & & -5a - 4b - 2c &= -42 \end{aligned}$$

(30) صناعة: ينتج مصنع 3 أحجام من علب الطلاء الفارغة، حجم صغير بتكلفة 1.15 ريال للعبلة، وحجم متوسط بتكلفة 1.75 ريال للعبلة، وحجم كبير بتكلفة 2.25 ريال للعبلة، وفي أحد الأيام أنتج من علب الحجم الصغير ضعف ما أنتجه من علب الحجم المتوسط، وكان مجموع ما أنتجه في ذلك اليوم 1385 عبلة من جميع الأحجام، بتكلفة إجمالية قدرها 2238.75 ريالاً.

(a) استعمل قاعدة كرامر لإيجاد عدد العلب التي أنتجها المصنع من كل حجم في ذلك اليوم.

(b) إذا زادت تكلفة إنتاج علب الحجم الصغير فقط في اليوم التالي لتصبح 1.25 ريال بعد زيادة قليلة في الحجم، فأوجد تكلفة الإنتاج في اليوم التالي إذا كان إنتاج المصنع مقارنة باليوم السابق أقل بـ 140 عبلة من الحجم الصغير، وأكثر بـ 125 عبلة من الحجم المتوسط، وأكثر بـ 35 عبلة من الحجم الكبير.



الربط مع الحياة

عشر الباحثون أثناء التنقيب في أحد الكهوف على بقايا بشرية، وقدروا أنها ترجع إلى ما قبل 200000 سنة.

31) بـسـتـة : أراد حمد إنشاء حديقة مثلثة الشكل في فناء منزله، فرسم لها مخططاً على المستوى الإحداثي، فكانت إحداثيات رؤوس الحديقة على المستوى $(-1, 7), (2, 6), (4, -3)$. جد المساحة الحقيقية للحديقة إذا كانت كل وحدة على المستوى الإحداثي تمثل متراً على الأرض.

مسائل مهارات التفكير العليا

32) تحدّ: أوجد قيمة محدّدة مصفوفة من النوع 3×3 ، على أن تكون عناصرها على النحو الآتي:

$$a_{mn} = \begin{cases} 0 & \text{إذا كان } m + n \text{ زوجياً} \\ m + n & \text{إذا كان } m + n \text{ فردياً} \end{cases}$$

33) مسألة مفتوحة: أعط مثلاً لمصفوفة من الرتبة 2×2 تحقق الشرط المذكور في كل مما يأتي:

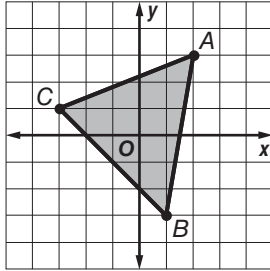
(a) المحدّدة تساوي صفراً.

(b) المحدّدة تساوي 25

(c) جميع العناصر أعداد سالبة والمحدّدة تساوي -32

34) اكتب: صف التمثيلات البيانية الممكنة لنظام من معادلتين خطيتين بمتغيرين إذا كانت محدّدة مصفوفة المعاملات تساوي صفراً.

تدريب على اختبار



36) أوجد مساحة المثلث المبيّن في الشكل المجاور.

- A 10 وحدات مربعة
B 14 وحدة مربعة
C 12 وحدة مربعة
D 16 وحدة مربعة

35) إجابة قصيرة: أعط مثلاً لمصفوفة من الرتبة 2×2 ، بحيث تكون جميع عناصرها أعداداً سالبةً ومحدّتها تساوي 20.

مراجعة تراكمية

حدّد إذا كانت مصفوفة الضرب معرفة في كل مما يأتي أم لا، وإذا كانت كذلك، فأوجد رتبة المصفوفة الناتجة: (الدرس 3-2)

39) $E_{2 \times 7} \cdot F_{7 \times 1}$

38) $C_{5 \times 4} \cdot D_{5 \times 3}$

37) $A_{4 \times 2} \cdot B_{2 \times 6}$

حل كل نظام مما يأتي: (مهارة سابقة)

41) $4y + 6x = 10$

40) $2x - 5y = -26$

$2x - 7y = 22$

$5x + 3y = -34$





النظير الضربي للمصفوفة وأنظمة المعادلات الخطية

Inverse Matrices and Systems of Linear Equations



لماذا؟

يبين الشكل المجاور أسعار وجبة الغداء في مطعم. ولتحديد سعر كل من الشطيرة، وعلبة المقبلات، وعلبة العصير، يمكنك إيجاد قيم المتغيرات w, s, d التي تحقق المساواة:

$$\begin{bmatrix} 1 & 2 & 0 \\ 2 & 2 & 2 \\ 4 & 3 & 4 \end{bmatrix} \begin{bmatrix} w \\ s \\ d \end{bmatrix} = \begin{bmatrix} 10 \\ 19 \\ 38 \end{bmatrix}$$

حيث w تمثل سعر الشطيرة، و s تمثل سعر علبة المقبلات، و d تمثل سعر علبة العصير.

فيما سبق:

درست حل نظام معادلات خطية جبرياً. (مهارة سابقة)

والآن:

- أجد النظير الضربي لمصفوفة من النوع 2×2 .
- أكتب معادلات مصفوفية لنظام من معادلتين وأحلها.

المفردات:

مصفوفة الوحدة
identity matrix

النظير الضربي للمصفوفة
inverse matrix

المعادلة المصفوفية
matrix equation

مصفوفة الثوابت
constant matrix

مصفوفة المتغيرات
variable matrix

مصفوفة الوحدة ونظير المصفوفة الضربي: تذكر أن عددين من الأعداد الحقيقية يكون كل منهما نظيراً ضربياً للآخر إذا كان حاصل ضربهما هو العنصر المحايد لعملية الضرب. وكذلك الحال في المصفوفات، فإن **مصفوفة الوحدة** هي مصفوفة مربعة جميع عناصر قطرها الرئيس تساوي واحداً، والباقي أصفار.

مصفوفة وحدة من النوع 3×3

$$\begin{bmatrix} 1 & 0 & 0 \\ 0 & 1 & 0 \\ 0 & 0 & 1 \end{bmatrix}$$

مصفوفة وحدة من النوع 2×2

$$\begin{bmatrix} 1 & 0 \\ 0 & 1 \end{bmatrix}$$

أضف إلى

مطوبتك

المصفوفة المحايدة لعملية الضرب

مفهوم أساسي

التعبير اللفظي: المصفوفة المحايدة لعملية الضرب ورمزها I هي مصفوفة الوحدة، والتي إذا ضربت في أي مصفوفة أخرى من الرتبة نفسها كان الناتج هو المصفوفة الأخرى.

لأي مصفوفة مربعة A لها رتبة مصفوفة الوحدة I نفسها،
فإن $A \cdot I = I \cdot A = A$.

الرموز: إذا كانت $A = \begin{bmatrix} a & b \\ c & d \end{bmatrix}$ ، و $I = \begin{bmatrix} 1 & 0 \\ 0 & 1 \end{bmatrix}$ فإن

$$\begin{bmatrix} a & b \\ c & d \end{bmatrix} \cdot \begin{bmatrix} 1 & 0 \\ 0 & 1 \end{bmatrix} = \begin{bmatrix} 1 & 0 \\ 0 & 1 \end{bmatrix} \cdot \begin{bmatrix} a & b \\ c & d \end{bmatrix} = \begin{bmatrix} a & b \\ c & d \end{bmatrix}$$

$$\begin{bmatrix} -1 & 2 \\ 3 & -4 \end{bmatrix} \cdot \begin{bmatrix} 1 & 0 \\ 0 & 1 \end{bmatrix} = \begin{bmatrix} 1 & 0 \\ 0 & 1 \end{bmatrix} \cdot \begin{bmatrix} -1 & 2 \\ 3 & -4 \end{bmatrix} = \begin{bmatrix} -1 & 2 \\ 3 & -4 \end{bmatrix} \quad \text{مثال:}$$

إذا كانت المصفوفتان A, B مربعيتين ولهما الرتبة نفسها، وكان $AB = BA = I$ فإن المصفوفة B تسمى **نظيراً ضربياً للمصفوفة A** ، وكذلك تسمى المصفوفة A نظيراً ضربياً للمصفوفة B . وإذا كان للمصفوفة A نظير

ضربي فإنه يرمز إليه بالرمز A^{-1} ، حيث $A \cdot A^{-1} = A^{-1} \cdot A = I$

التحقق من النظير الضربي

بما أن عملية ضرب المصفوفات ليست عملية إبدالية، فمن الضروري التأكد من الضرب في الاتجاهين.

مثال 1

التحقق من النظير الضربي

حدد ما إذا كانت كل من المصفوفتين تمثل نظيراً ضربياً للأخرى أم لا فيما يأتي:

$$\underline{A} = \begin{bmatrix} -4 & 2 \\ -2 & 1 \end{bmatrix}, \underline{B} = \begin{bmatrix} \frac{1}{4} & -\frac{1}{2} \\ \frac{1}{2} & -1 \end{bmatrix} \quad (\text{a})$$

كل من المصفوفتين \underline{A} , \underline{B} تمثل نظيراً ضربياً للأخرى إذا فقط إذا كان $\underline{A} \cdot \underline{B} = \underline{B} \cdot \underline{A} = \underline{I}$.

$$\underline{A} \cdot \underline{B} = \begin{bmatrix} -4 & 2 \\ -2 & 1 \end{bmatrix} \cdot \begin{bmatrix} \frac{1}{4} & -\frac{1}{2} \\ \frac{1}{2} & -1 \end{bmatrix}$$

$$= \begin{bmatrix} -1+1 & 2-2 \\ -\frac{1}{2}+\frac{1}{2} & 1-1 \end{bmatrix} = \begin{bmatrix} 0 & 0 \\ 0 & 0 \end{bmatrix}$$

بما أن $\underline{A} \cdot \underline{B} \neq \underline{I}$ ، فإن أيًا منهما لا تمثل نظيراً ضربياً للأخرى.

$$\underline{F} = \begin{bmatrix} 3 & -5 \\ -2 & 6 \end{bmatrix}, \underline{G} = \begin{bmatrix} \frac{3}{4} & \frac{5}{8} \\ \frac{1}{4} & \frac{3}{8} \end{bmatrix} \quad (\text{b})$$

كل من المصفوفتين \underline{F} , \underline{G} تمثل نظيراً ضربياً للأخرى إذا فقط إذا كان $\underline{F} \cdot \underline{G} = \underline{G} \cdot \underline{F} = \underline{I}$.

$$\underline{F} \cdot \underline{G} = \begin{bmatrix} 3 & -5 \\ -2 & 6 \end{bmatrix} \cdot \begin{bmatrix} \frac{3}{4} & \frac{5}{8} \\ \frac{1}{4} & \frac{3}{8} \end{bmatrix}$$

$$= \begin{bmatrix} \frac{9}{4}-\frac{5}{4} & \frac{15}{8}-\frac{15}{8} \\ -\frac{6}{4}+\frac{6}{4} & -\frac{10}{8}+\frac{18}{8} \end{bmatrix} = \begin{bmatrix} 1 & 0 \\ 0 & 1 \end{bmatrix}$$

$$\underline{G} \cdot \underline{F} = \begin{bmatrix} \frac{3}{4} & \frac{5}{8} \\ \frac{1}{4} & \frac{3}{8} \end{bmatrix} \cdot \begin{bmatrix} 3 & -5 \\ -2 & 6 \end{bmatrix}$$

$$= \begin{bmatrix} \frac{9}{4}-\frac{10}{8} & -\frac{15}{4}+\frac{30}{8} \\ \frac{3}{4}-\frac{6}{8} & -\frac{5}{4}+\frac{18}{8} \end{bmatrix} = \begin{bmatrix} 1 & 0 \\ 0 & 1 \end{bmatrix}$$

بما أن $\underline{F} \cdot \underline{G} = \underline{G} \cdot \underline{F} = \underline{I}$ ، فإن كلاً من المصفوفتين \underline{F} , \underline{G} نظير ضربياً للأخرى.

تحقق من فهمك

$$\underline{X} = \begin{bmatrix} 4 & -1 \\ 2 & -2 \end{bmatrix}, \underline{Y} = \begin{bmatrix} \frac{1}{3} & -\frac{1}{6} \\ \frac{1}{3} & -\frac{2}{3} \end{bmatrix} \quad (\text{1})$$

يمكنك استعمال المحددات؛ لإيجاد النظير الضربي لمصفوفة ما.

لاحظ تبديل موضعي عنصري القطر الرئيس، وتغيير إشارتي عنصري القطر الآخر عند حساب \underline{A}^{-1} .

أضف إلى

مطوبتك

النظير الضربي للمصفوفة من النوع 2×2

مفهوم أساسي

النظير الضربي للمصفوفة $\underline{A} = \begin{bmatrix} a & b \\ c & d \end{bmatrix}$ هو $\underline{A}^{-1} = \frac{1}{|\underline{A}|} \begin{bmatrix} d & -b \\ -c & a \end{bmatrix}$ وذلك إذا كانت $|\underline{A}| \neq 0$.

لاحظ أنه إذا كانت قيمة محدّدة مصفوفة ما تساوي صفراً، فليس للمصفوفة نظير ضربي.

أوجد النظير الضربي لكل مصفوفة فيما يأتي، إن وجد:

$$P = \begin{bmatrix} 7 & -5 \\ 2 & -1 \end{bmatrix} \quad (a)$$

$$|P| = \begin{vmatrix} 7 & -5 \\ 2 & -1 \end{vmatrix} = -7 - (-10) = 3$$

احسب المحددة

بما أن قيمة المحددة لا تساوي صفرًا، فإن P^{-1} موجودة .

$$\text{تعريف النظير الضربي للمصفوفة من الرتبة } 2 \times 2 \quad P^{-1} = \frac{1}{|P|} \begin{bmatrix} d & -b \\ -c & a \end{bmatrix}$$

$$|P| = 3 = \frac{1}{3} \begin{bmatrix} -1 & 5 \\ -2 & 7 \end{bmatrix}$$

$$\text{بسط} = \begin{bmatrix} -\frac{1}{3} & \frac{5}{3} \\ -\frac{2}{3} & \frac{7}{3} \end{bmatrix}$$

تأكد: أوجد ناتج ضرب المصفوفتين. وإذا كان كل من ناتج الضرب يساوي I، فإن كلتا المصفوفتين نظير ضربي للأخرى.

$$\checkmark \begin{bmatrix} 7 & -5 \\ 2 & -1 \end{bmatrix} \cdot \begin{bmatrix} -\frac{1}{3} & \frac{5}{3} \\ -\frac{2}{3} & \frac{7}{3} \end{bmatrix} = \begin{bmatrix} -\frac{7}{3} + \frac{10}{3} & \frac{35}{3} - \frac{35}{3} \\ -\frac{2}{3} + \frac{2}{3} & \frac{10}{3} - \frac{7}{3} \end{bmatrix} = \begin{bmatrix} 1 & 0 \\ 0 & 1 \end{bmatrix} = \begin{bmatrix} -\frac{1}{3} & \frac{5}{3} \\ -\frac{2}{3} & \frac{7}{3} \end{bmatrix} \cdot \begin{bmatrix} 7 & -5 \\ 2 & -1 \end{bmatrix}$$

$$Q = \begin{bmatrix} -8 & -6 \\ 12 & 9 \end{bmatrix} \quad (b)$$

$$\text{احسب المحددة} \quad |Q| = \begin{vmatrix} -8 & -6 \\ 12 & 9 \end{vmatrix} = -72 - (-72) = 0$$

بما أن قيمة المحددة تساوي صفرًا، فإن Q^{-1} ليس موجودًا.

تحقق من فهمك

$$T = \begin{bmatrix} 2 & 1 \\ -4 & 3 \end{bmatrix} \quad (2B)$$

$$D = \begin{bmatrix} 3 & 7 \\ 1 & -4 \end{bmatrix} \quad (2A)$$

المعادلات المصفوفية: يمكنك استعمال المصفوفات لتمثيل نظام من المعادلات وحله. فمثلاً، يمكنك

كتابة معادلة مصفوفية لحل نظام معادلتين خطيتين:

$$\begin{cases} ax + by = m \\ fx + gy = n \end{cases} \rightarrow \begin{bmatrix} ax + by \\ fx + gy \end{bmatrix} = \begin{bmatrix} m \\ n \end{bmatrix}$$

ويمكنك التعبير عما سبق بالمعادلة المصفوفية الآتية:

$$\begin{bmatrix} a & b \\ f & g \end{bmatrix} \cdot \begin{bmatrix} x \\ y \end{bmatrix} = \begin{bmatrix} m \\ n \end{bmatrix}$$

مصفوفة المعاملات

مصفوفة المتغيرات

مصفوفة الثوابت

المتغيرات في النظام فقط

في النظام فقط

خطوات إيجاد النظير

الضربي للمصفوفة A

من الرتبة 2×2 .

(1) أوجد قيمة $|A|$ ، فإذا

كان $|A| = 0$ ، فإنه

ليس للمصفوفة A نظير

ضربي، وإذا كان

$|A| \neq 0$ ، فإن

للمصفوفة A نظيراً

ضربياً نجده كما في

الخطوات 4-2.

(2) بادل بين موضعي

عنصري القطر الرئيس.

(3) غير إشارتي عنصري

القطر الآخر.

(4) اضرب المصفوفة

الناتجة بعد إجراء

الخطوتين 3، 2 في

العدد $\frac{1}{|A|}$

فتحصل على A^{-1} .

إرشادات للدراسة

المعادلات المصفوفية

يمكنك استعمال هذه

الطريقة لحل نظام

معادلات فقط إذا كان

لمصفوفة المعاملات

A نظير ضربي، أما

إذا لم يكن لها نظير

ضربي، فيمكن أن يكون

للنظام عدد لانهائي

من الحلول، أو لا يوجد

له حل.

ثم حُلَّ المعادلة المصفوفية بالطريقة نفسها التي تُحَلُّ بها أي معادلة أخرى من الشكل $ax = b$.

$$\begin{array}{lcl} \underline{A}\underline{X} = \underline{B} & \text{المعادلة} & ax = b \\ \underline{A}^{-1}\underline{A}\underline{X} = \underline{A}^{-1}\underline{B} & \text{اضرب كل طرف في النظير الضربي} & \left(\frac{1}{a}\right)ax = \left(\frac{1}{a}\right)b \\ & \text{لمصفوفة المعاملات إن وجد} & \\ \underline{I}\underline{X} = \underline{A}^{-1}\underline{B} & \underline{A}^{-1}\underline{A} = \underline{I}, \left(\frac{1}{a}\right)a = 1 & 1x = \frac{b}{a} \\ \underline{X} = \underline{A}^{-1}\underline{B} & \underline{I}\underline{X} = \underline{X}, 1x = x & x = \frac{b}{a} \end{array}$$

لاحظ أن حَلَّ المعادلة المصفوفية من الشكل $\underline{A}\underline{X} = \underline{B}$ هو حاصل ضرب النظير الضربي لمصفوفة المعاملات في مصفوفة الثوابت.

حل نظام من معادلتين باستعمال المعادلة المصفوفية

مثال 3 من واقع الحياة

سفر: زوّد سلمان سيارته بالوقود مرتين في أثناء سفره إلى الرياض قادمًا من جدة، إذا كان سعر البنزين في المحطة الأولى 1.50 ريال لكل لتر، وفي المحطة الثانية كان السعر 1.45 ريال لكل لتر، وكان مجموع ما زوّد به سيارته من البنزين 100 لتر، بسعر إجمالي 149 ريال، فكم لتر بنزين زوّد به سيارته من كل محطة؟

يكتب نظام المعادلتين الذي يمثل هذه الحالة على النحو الآتي:

$$x + y = 100$$

$$1.50x + 1.45y = 149$$

الخطوة 1: اكتب المعادلة المصفوفية بافتراض أن x عدد لترات البنزين من المحطة الأولى، و y عدد لترات البنزين من المحطة الثانية:

$$\begin{bmatrix} 1 & 1 \\ 1.50 & 1.45 \end{bmatrix} \cdot \begin{bmatrix} x \\ y \end{bmatrix} = \begin{bmatrix} 100 \\ 149 \end{bmatrix}$$

الخطوة 2: أوجد النظير الضربي لمصفوفة المعاملات.

$$\underline{A}^{-1} = \frac{1}{1.45 - 1.50} \begin{bmatrix} 1.45 & -1 \\ -1.50 & 1 \end{bmatrix} = -\frac{1}{0.05} \begin{bmatrix} 1.45 & -1 \\ -1.50 & 1 \end{bmatrix} = \begin{bmatrix} -29 & 20 \\ 30 & -20 \end{bmatrix}$$

الخطوة 3: حُلَّ المعادلة المصفوفية باستعمال $\underline{X} = \underline{A}^{-1}\underline{B}$

$$\begin{bmatrix} x \\ y \end{bmatrix} = \begin{bmatrix} -29 & 20 \\ 30 & -20 \end{bmatrix} \cdot \begin{bmatrix} 100 \\ 149 \end{bmatrix}$$

$$\begin{bmatrix} x \\ y \end{bmatrix} = \begin{bmatrix} 80 \\ 20 \end{bmatrix}$$

إذن الحل هو $(80, 20)$ ، وهذا يعني أن سلمان زوّد سيارته بـ 80 لترًا من المحطة الأولى و 20 لترًا من الثانية.



الربط مع الحياة

هناك 90% من محطات الوقود العاملة في المملكة يُديرها أفراد يمتلكون هذه المحطات، بينما 10% فقط من هذه المحطات تُديرها شركات متخصصة في مجال تشغيل وإدارة محطات الوقود.



مثال 1

حدّد ما إذا كانت كلٌّ من المصفوفتين تمثل نظيراً ضربياً للأخرى أم لا فيما يأتي:

$$\underline{F} = \begin{bmatrix} -1 & 1 \\ 0 & -1 \end{bmatrix}, \underline{G} = \begin{bmatrix} -1 & -1 \\ 0 & -1 \end{bmatrix} \quad (2) \quad \underline{A} = \begin{bmatrix} 2 & 1 \\ -1 & 0 \end{bmatrix}, \underline{B} = \begin{bmatrix} 1 & 2 \\ 2 & 1 \end{bmatrix} \quad (1)$$

مثال 2

أوجد النظير الضربي لكل مصفوفة فيما يأتي إن وجد:

$$\begin{bmatrix} -3 & 0 \\ 5 & 2 \end{bmatrix} \quad (4) \quad \begin{bmatrix} 6 & -3 \\ -1 & 0 \end{bmatrix} \quad (3)$$

مثال 3

(5) **نقود:** مع أحمد 25 قطعة نقدية من فئة أرباع وأنصاف الريالات، بحيث تبلغ قيمة ما معه 8.5 ريالاً. فما عدد الأرباع والأنصاف التي معه؟

استعمل معادلة مصفوفية لحل كل نظام فيما يأتي:

$$\begin{array}{l} -2x + y = -4 \quad (8) \\ 3x + y = 1 \end{array} \quad \begin{array}{l} 4x - 2y = 22 \quad (7) \\ 6x + 9y = -3 \end{array} \quad \begin{array}{l} -2x + y = 9 \quad (6) \\ x + y = 3 \end{array}$$

تدرب وحل المسائل

مثال 1

حدّد ما إذا كانت كلٌّ من المصفوفتين تمثل نظيراً ضربياً للأخرى أم لا فيما يأتي:

$$\underline{R} = \begin{bmatrix} \frac{1}{2} & -\frac{1}{4} \\ \frac{1}{4} & -\frac{1}{2} \end{bmatrix}, \underline{S} = \begin{bmatrix} 2 & 4 \\ 4 & 2 \end{bmatrix} \quad (11) \quad \underline{M} = \begin{bmatrix} 0 & 2 \\ 4 & 5 \end{bmatrix}, \underline{N} = \begin{bmatrix} 1 & 1 \\ 0 & 0 \end{bmatrix} \quad (10) \quad \underline{K} = \begin{bmatrix} 1 & 2 \\ 3 & 0 \end{bmatrix}, \underline{L} = \begin{bmatrix} 0 & 1 \\ 2 & -1 \end{bmatrix} \quad (9)$$

مثال 2

أوجد النظير الضربي لكل مصفوفة فيما يأتي إن وجد:

$$\begin{bmatrix} -5 & -4 \\ 4 & 2 \end{bmatrix} \quad (15) \quad \begin{bmatrix} 1 & -1 \\ -6 & -1 \end{bmatrix} \quad (14) \quad \begin{bmatrix} 2 & 3 \\ 3 & 2 \end{bmatrix} \quad (13) \quad \begin{bmatrix} 3 & 0 \\ 0 & 2 \end{bmatrix} \quad (12)$$

مثال 3

(16) **مشتريات:** دفع سعد 225 ريالاً لشراء 5 أقلام حبر جافة و 6 أقلام حبر سائلة، بينما دفع ماجد 120 ريالاً لشراء 3 أقلام جافة من النوع نفسه و 3 أقلام سائلة من النوع نفسه. فإذا كان سعر القلم الجاف x . وسعر القلم السائل y ، فاستعمل معادلة مصفوفية؛ لإيجاد سعر القلم الجاف.

(17) **سكان:** يبين الشكل الآتي نسبة الهجرة السنوية بين إحدى المدن وضواحيها.



اكتب مصفوفة تبين نسبة المهاجرين والباقيين في كلٍّ من المدينة والضواحي.

استعمل معادلة مصفوفية لحل كل نظام إن أمكن فيما يأتي:

$$\begin{array}{l} x + y = 4 \quad (20) \\ -4x + y = 9 \end{array} \quad \begin{array}{l} -x + y = 3 \quad (19) \\ -2x + y = 6 \end{array} \quad \begin{array}{l} -x + y = 4 \quad (18) \\ -x + y = -4 \end{array}$$

$$\begin{array}{l} 4x + 2y = 6 \quad (23) \\ 6x - 3y = 9 \end{array} \quad \begin{array}{l} y - x = 5 \quad (22) \\ 2y - 2x = 8 \end{array} \quad \begin{array}{l} 3x + y = 3 \quad (21) \\ 5x + 3y = 6 \end{array}$$

$$\begin{array}{l} 2y - 4x = 3 \quad (26) \\ 4x - 3y = -6 \end{array} \quad \begin{array}{l} 4y - x = -2 \quad (25) \\ 3y - x = 6 \end{array} \quad \begin{array}{l} 1.6y - 0.2x = 1 \quad (24) \\ 0.4y - 0.1x = 0.5 \end{array}$$



الرابط مع الحياة

تسعى حكومتنا الرشيدة إلى إقامة العديد من المشاريع في الضواحي بهدف وضع بنية تحتية فاعلة، مما يشجع على الهجرة العكسية أو هجرة السكان من المدن إلى الضواحي.

مسائل مهارات التفكير العليا

(27) **اكتشف الخطأ:** أنشأت كل من هاجر وفاطمة معادلة مصفوفية لنظام المعادلتين $5x + 7y = 19$, $3y + 4x = 10$. فهل حل أحدهما أو كليهما صحيح؟ فسّر إجابتك.

فاطمة

$$\begin{bmatrix} 5 & 7 \\ 3 & 4 \end{bmatrix} \begin{bmatrix} x \\ y \end{bmatrix} = \begin{bmatrix} 19 \\ 10 \end{bmatrix}$$

هاجر

$$\begin{bmatrix} 5 & 7 \\ 4 & 3 \end{bmatrix} \begin{bmatrix} x \\ y \end{bmatrix} = \begin{bmatrix} 19 \\ 10 \end{bmatrix}$$

- (28) **تحّد:** صِفِ المعادلة المصفوفية لنظام معادلتين خطيتين بمتغيرين ذات العدد اللانهائي من الحلول.
- (29) **تبرير:** حدّد إذا كانت الجملة الآتية صحيحة دائماً، أو صحيحة أحياناً، أو غير صحيحة أبداً، وفسّر إجابتك. "المصفوفة المربعة لها نظير ضربي".
- (30) **مسألة مفتوحة:** اكتب معادلة مصفوفية ليس لها حل.
- (31) **اكتب:** اشرح كيف يمكن استعمال معادلات مصفوفية لحل أنظمة معادلات، ومتى يكون استعماله أكثر فاعلية.

تدريب على اختبار

(32) **إجابة قصيرة:** تتبع مكتبة 3 أحجام من الدفاتر: حجم صغير بسعر 2 ريال، وحجم متوسط بسعر 3 ريالات، وحجم كبير بسعر 4 ريالات. فإذا باعت المكتبة 52 دفترًا في أحد الأشهر، وكان عدد الدفاتر المباعة من الحجم المتوسط يزيد على عدد الدفاتر المباعة من الحجم الصغير بـ 7 دفاتر، وكان إجمالي المبيعات 150 ريالاً. فما عدد الدفاتر المباعة من الحجم المتوسط؟

36 D 24 C 17 B 11 A

مراجعة تراكمية

جد قيمة كل محدّدة فيما يأتي: (الدرس 2-4)

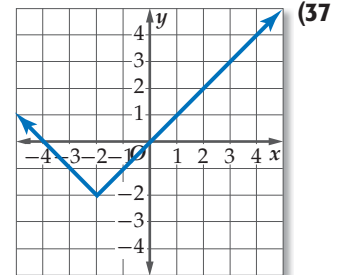
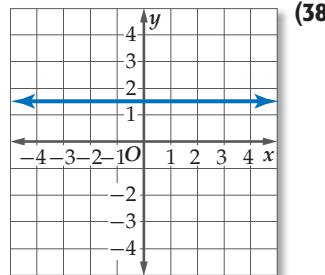
$$\begin{vmatrix} 8 & 6 & -1 \\ -4 & 5 & 1 \\ -3 & -2 & 9 \end{vmatrix} \quad (35)$$

$$\begin{vmatrix} 9 & -7 \\ -5 & -3 \end{vmatrix} \quad (34)$$

$$\begin{vmatrix} 8 & -3 \\ 6 & -9 \end{vmatrix} \quad (33)$$

(36) **حليب:** تنتج مزرعة أبقار 200 جالون على الأكثر من الحليب الطازج والحليب المبستر يوميًا. فإذا كان كل زبون من زبائن المزرعة يحتاج إلى 15 جالونًا على الأقل من الحليب المبستر، و21 جالونًا على الأقل من الحليب الطازج يوميًا، وكان ربح المزرعة في الجالون الواحد من الحليب المبستر 8.2 ريالات، ومن الحليب الطازج 7.5 ريالات. فكم عدد الجالونات التي يجب إنتاجها من كلا النوعين ليكون الربح أكبر ما يمكن؟ (الدرس 1-6)

حدّد نوع الدالة الممثلة بيانيًا في كلٍّ مما يأتي: (الدرس 1-3)



معمل الحاسبة البيانية المصفوفات الموسعة

رابطه الدرس الرقمي



www.iien.edu.sa

الهدف

أستعمل الحاسبة
البيانية TI-nspire
والمصفوفة الموسعة
لحل نظام معادلات
خطية.

يُمكنك حلُّ نظام معادلات خطية باستعمال الحاسبة البيانية TI-nspire، إذ تحتوي **المصفوفة الموسعة** على مصفوفة المعاملات مع عمود إضافي إلى اليمين يحوي الثوابت، وباختزال المصفوفة الموسعة يصبح من السهل تحديد حل نظام المعادلات.

مثال

اكتب مصفوفةً موسعةً لنظام المعادلات الآتي، ثم حل هذا النظام باستعمال الحاسبة البيانية:

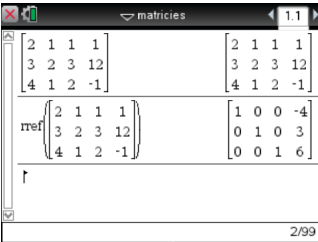
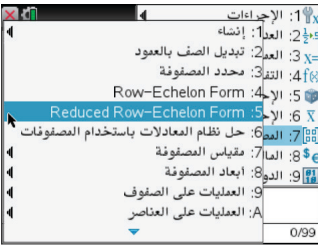
$$2x + y + z = 1$$

$$3x + 2y + 3z = 12$$

$$4x + y + 2z = -1$$

الخطوات:

- افتح الآلة الحاسبة بالضغط على **(on)**.
- من الشاشة الظاهرة اختر **A العليات الحسابية** ومنها اختر **1 مستند جديد**.
- اختر **1: إضافة تطبيق الحاسبة**.
- اضغط على مفتاح **(menu)** ثم اختر **7: المصفوفات والمتجهات** ومنها اختر **1: إنشاء** ومنها **1: المصفوفة** فتظهر شاشة نحدّد من خلالها عدد الصفوف وعدد الأعمدة.
- أدخل عدد الصفوف ثم اضغط **(tab)** وأدخل عدد الأعمدة اضغط **(enter)**.
- أدخل معاملات المتغيّرات والثوابت مستعملاً **(tab)** للتنقل، ثم اضغط **(enter)**.
- اضغط **(doc)** واختر منها **1: ملف** ثم **5: حفظ باسم...** ثم سمّ الملف واضغط **حفظ**.
- اضغط **(menu)**، ثم اختر **7: المصفوفات والمتجهات** ومنها اختر **5: Reduced Row-Echelon Form**.
- استعمل السهم لأعلى **(↑)** لتظلّل المصفوفة الموسعة التي كتبتها ثم اضغط **(enter)** ثم **(enter)** مرة أخرى فيظهر الحل.



ادرس الشكل المختزل للمصفوفة، ولاحظ أن الأعمدة الثلاثة الأولى تشكّل مصفوفة محايدة من الرتبة 3×3 ، وتستنتج من الصف الأول أن $x = -4$ ، ومن الصف الثاني أن $y = 3$ ، ومن الصف الثالث أن $z = 6$ ، وعليه يكون الحل $(-4, 3, 6)$.

تمارين:

اكتب مصفوفةً موسعةً لكل نظام معادلات فيما يأتي، ثم حلّه باستعمال الحاسبة البيانية:

$$6x - 4y + 2z = -4 \quad (3)$$

$$4x + 6y = 0 \quad (2)$$

$$3x + 2y = -4 \quad (1)$$

$$2x - 2y + 6z = 10$$

$$8x - 2y = 7$$

$$4x + 7y = 13$$

$$2x + 2y + 2z = -2$$

المفردات

- (83) محددة الدرجة الثانية المصفوفة (62)
 (84) محددة الدرجة الثالثة العنصر (62)
 قاعدة الأقطار (84) الرتبة (62)
 مصفوفة المعاملات (86) مصفوفة الصف (63)
 قاعدة كرامر (86) مصفوفة العمود (63)
 مصفوفة الوحدة (91) المصفوفة المربعة (63)
 التنظير الضربي للمصفوفة (91) المصفوفات المتساوية (63)
 المعادلة المصفوفية (93) جمع مصفوفتين (69)
 مصفوفة الثوابت (93) طرح مصفوفتين (69)
 مصفوفة المتغيرات (93) ضرب المصفوفة في عدد ثابت (70)
 المحددة (83)

اختبر مفرداتك

- اختر الكلمة المناسبة من المفردات أعلاه لتكمل كل جملة فيما يأتي:
- الترتيب على هيئة مستطيل لمتغيرات أو أعداد في صفوف أفقية وأعمدة رأسية تكتب بين قوسين يسمى _____ .
 - عملية ضرب جميع عناصر المصفوفة في عدد تسمى _____ .
 - تسمى المصفوفة التي تحوي الثوابت في نظام المعادلات _____ .
 - كل قيمة في المصفوفة تسمى _____ .
 - يسمى عدد الصفوف \times عدد الأعمدة في المصفوفة _____ المصفوفة.
 - المصفوفة المربعة التي عناصر القطر الرئيس فيها العدد 1 وباقي العناصر أصفار هي _____ .
 - المصفوفة التي جميع عناصرها أصفار هي _____ .
 - قيمة _____ المصفوفة $\begin{bmatrix} -1 & 2 \\ 2 & -3 \end{bmatrix}$ تساوي -1.
 - إذا كان حاصل ضرب مصفوفتين هو مصفوفة الوحدة، فإن كلتا المصفوفتين تكون _____ للأخرى.

ملخص الفصل

المفاهيم الأساسية

المصفوفات (الدرس 2-1)

- المصفوفة: هي ترتيب على هيئة مستطيل لمتغيرات أو أعداد في صفوف أفقية وأعمدة رأسية بين قوسين.
- المصفوفات المتساوية لها الرتبة نفسها، وعناصرها المتناظرة متساوية.
- العمليات على المصفوفات (الدرسان 2-2 و 2-3)
- يمكن جمع المصفوفات أو طرحها إذا كان لهما الرتبة نفسها. وذلك بجمع العناصر المتناظرة أو طرحها.
- لضرب مصفوفة في عدد ثابت k ، اضرب كل عنصر من عناصر المصفوفة في هذا العدد.
- يمكن ضرب مصفوفتين إذا كان عدد أعمدة الأولى يساوي عدد صفوف الثانية.

المحددات وقاعدة كرامر (الدرس 2-4)

- قيمة محددة المصفوفة المربعة من الرتبة 2×2 تساوي حاصل ضرب عنصري القطر الرئيس مطروحاً منه حاصل ضرب عنصري القطر الآخر.
- تستعمل المحددات في حل أنظمة المعادلات الخطية، وفي إيجاد مساحة مثلث عُلِّمت إحداثيات رؤوسه.

التنظير الضربي للمصفوفة وأنظمة المعادلات

الخطية (الدرس 2-5)

- مصفوفة الوحدة هي مصفوفة مربعة عناصر القطر الرئيس فيها العدد 1 وباقي العناصر أصفار.
- تكون كل من المصفوفتين نظيراً ضربياً للأخرى إذا كان حاصل ضربهما يعطي مصفوفة الوحدة.
- لحل معادلة مصفوفية من الشكل $AX = B$ ، أوجد التنظير الضربي لمصفوفة المعاملات، ثم اضرب طرفي المعادلة فيه.

المطويات

منظم أفكار



تأكد من أن المفاهيم الأساسية مدونة في مطوبتك.

مثال 1

متحف: يبين الجدول الآتي عدد زوار متحف في الفترة الصباحية والفترة المسائية خلال 3 أيام:

	اليوم الأول	اليوم الثاني	اليوم الثالث
الفترة الصباحية	37	19	26
الفترة المسائية	69	58	75

- (a) اكتب مصفوفة تمثل عدد الزوار.
 (b) ما رتبة المصفوفة؟ 2×3
 (c) اجمع عناصر كل من الصفين 1 و 2، وفسّر النتائج.
 مجموع عناصر الصف 1 هو 82، ويمثل عدد الزوار في الفترة الصباحية للأيام الثلاثة. ومجموع عناصر الصف 2 هو 202، ويمثل عدد الزوار في الفترة المسائية للأيام الثلاثة.

(10) **ناد رياضي:** يبين الجدول الآتي عدد المشتركين شهرياً وسنوياً في نادٍ رياضي في 3 رياضات مختلفة:

	تخفيض الوزن	السباحة	اللياقة البدنية
اشتراك شهري	64	108	31
اشتراك سنوي	42	9	68

- (a) نظم بيانات الجدول في المصفوفة A .
 (b) ما رتبة المصفوفة A ?
 (c) ما قيمة العنصر a_{23} ?
 (d) ما قيمة العنصر a_{11} ?
 (e) اجمع عناصر كل من الصفين الأول والثاني، وفسّر النتائج.

مثال 2

أوجد ناتج $2B + 3A$ إذا كانت $A = \begin{bmatrix} 9 & 1 \\ 1 & 2 \end{bmatrix}$, $B = \begin{bmatrix} 1 & 4 \\ 3 & 7 \end{bmatrix}$

$$3A = 3 \begin{bmatrix} 9 & 1 \\ 1 & 2 \end{bmatrix} = \begin{bmatrix} 27 & 3 \\ 3 & 6 \end{bmatrix}, 2B = 2 \begin{bmatrix} 1 & 4 \\ 3 & 7 \end{bmatrix} = \begin{bmatrix} 2 & 8 \\ 6 & 14 \end{bmatrix}$$

$$2B + 3A = \begin{bmatrix} 2 & 8 \\ 6 & 14 \end{bmatrix} + \begin{bmatrix} 27 & 3 \\ 3 & 6 \end{bmatrix} = \begin{bmatrix} 29 & 11 \\ 9 & 20 \end{bmatrix}$$

أوجد الناتج في كل مما يأتي، إذا كان ذلك ممكناً:

$$\begin{bmatrix} 2 \\ -6 \end{bmatrix} - \begin{bmatrix} -3 \\ 2 \end{bmatrix} + \begin{bmatrix} 6 \\ 0 \end{bmatrix} \quad (11)$$

$$3 \left(\begin{bmatrix} -2 & 0 \\ 6 & 8 \end{bmatrix} + \begin{bmatrix} 1 & 9 \\ -3 & -4 \end{bmatrix} \right) \quad (12)$$

مثال 3

أوجد XY إذا كانت $X = \begin{bmatrix} 0 & -6 \\ 3 & 5 \end{bmatrix}$, $Y = \begin{bmatrix} 8 \\ -1 \end{bmatrix}$

$$XY = \begin{bmatrix} 0 & -6 \\ 3 & 5 \end{bmatrix} \cdot \begin{bmatrix} 8 \\ -1 \end{bmatrix}$$

اضرب الصفوف في الأعمدة

$$= \begin{bmatrix} 0(8) + (-6)(-1) \\ 3(8) + 5(-1) \end{bmatrix}$$

بسّط

$$= \begin{bmatrix} 6 \\ 19 \end{bmatrix}$$



أوجد الناتج في كل مما يأتي، إذا كان ذلك ممكناً:

$$[3 \quad -7] \cdot \begin{bmatrix} 9 \\ -5 \end{bmatrix} \quad (13)$$

$$\begin{bmatrix} 2 & 11 \end{bmatrix} \cdot \begin{bmatrix} 0 & 8 & -5 \end{bmatrix} \quad (14)$$

- (15) **مشتريات** اشترى راشد 4 علب حليب، و 2kg تفاحاً، و 3kg بطاطس، و كيساً واحداً من الأرز، وتبين المصفوفة أدناه سعر علبة الحليب، والكيلوجرام الواحد من التفاح، والكيلوجرام الواحد من البطاطس، وكذلك سعر كيس الأرز.
- أرز بطاطس تفاح حليب
- $$\begin{bmatrix} 15 & 10 & 3 & 25 \end{bmatrix}$$

استعمل ضرب المصفوفات لإيجاد إجمالي المبلغ الذي دفعه راشد.

2-4 المحددات وقاعدة كرامر (الصفحات: 85-92)

مثال 4

أوجد قيمة: $\begin{vmatrix} 4 & -6 \\ 2 & 5 \end{vmatrix}$

تعريف محددة الدرجة الثانية

$$\begin{vmatrix} 4 & -6 \\ 2 & 5 \end{vmatrix} = 4(5) - 2(-6)$$

بسّط

$$= 20 + 12 = 32$$

مثال 5

استعمل قاعدة كرامر لحل النظام:
 $2a + 6b = -1$, $a + 8b = 2$

$$b = \frac{\begin{vmatrix} 2 & -1 \\ 1 & 2 \end{vmatrix}}{\begin{vmatrix} 2 & 6 \\ 1 & 8 \end{vmatrix}}$$

قاعدة كرامر

$$= \frac{4 + 1}{16 - 6}$$

احسب المحددات

$$= \frac{5}{10} = \frac{1}{2}$$

بسّط

$$a = \frac{\begin{vmatrix} -1 & 6 \\ 2 & 8 \end{vmatrix}}{\begin{vmatrix} 2 & 6 \\ 1 & 8 \end{vmatrix}}$$

$$= \frac{-8 - 12}{16 - 6}$$

$$= \frac{-20}{10} = -2$$

الحل هو $(-2, \frac{1}{2})$.

أوجد قيمة كل محددة فيما يأتي:

$$\begin{vmatrix} 2 & 3 & -1 \\ 0 & 2 & 4 \\ -2 & 5 & 6 \end{vmatrix} \quad (17) \quad \begin{vmatrix} 2 & 4 \\ 7 & -3 \end{vmatrix} \quad (16)$$

استعمل قاعدة كرامر لحل كل نظام معادلات فيما يأتي:

$$3x - y = 0 \quad (18)$$

$$5x + 2y = 22$$

$$5x + 2y = 4 \quad (19)$$

$$3x + 4y + 2z = 6$$

$$7x + 3y + 4z = 29$$

(20) **حرف يدوية:** صنعت شيما 3 أساور، وعقدين بتكلفة مقدارها 85 ريالاً، وصنعت ليلي سوارين و 4 عقود بتكلفة مقدارها 110 ريالاً. فإذا كان للعقود التي صنعتها كل منهما التكلفة نفسها، وكذلك الأساور. فجد تكلفة كل من العقد، والسوار.

2-5 النظرير الضربي للمصفوفة وأنظمة المعادلات الخطية (الصفحات: 93-98)

مثال 6

حل المعادلة المصفوفية: $\begin{bmatrix} 2 & -5 \\ 3 & -6 \end{bmatrix} \cdot \begin{bmatrix} x \\ y \end{bmatrix} = \begin{bmatrix} 15 \\ 36 \end{bmatrix}$

الخطوة 1: جد النظرير الضربي لمصفوفة المعاملات.

$$\underline{A}^{-1} = \frac{1}{-12 - (-15)} \begin{bmatrix} -6 & 5 \\ -3 & 2 \end{bmatrix} = \frac{1}{3} \begin{bmatrix} -6 & 5 \\ -3 & 2 \end{bmatrix}$$

الخطوة 2: حل المعادلة المصفوفية باستعمال $\underline{X} = \underline{A}^{-1} \underline{B}$

$$\begin{bmatrix} x \\ y \end{bmatrix} = \frac{1}{3} \begin{bmatrix} -6 & 5 \\ -3 & 2 \end{bmatrix} \cdot \begin{bmatrix} 15 \\ 36 \end{bmatrix}$$

$$\begin{bmatrix} x \\ y \end{bmatrix} = \frac{1}{3} \begin{bmatrix} 90 \\ 27 \end{bmatrix}$$

$$\begin{bmatrix} x \\ y \end{bmatrix} = \begin{bmatrix} 30 \\ 9 \end{bmatrix}$$

إذن الحل هو (30, 9).

أوجد النظرير الضربي لكل مصفوفة فيما يأتي، إن وجد:

$$\begin{bmatrix} 2 & 5 \\ -5 & -13 \end{bmatrix} \quad (22) \quad \begin{bmatrix} 7 & 4 \\ 3 & 2 \end{bmatrix} \quad (21)$$

$$\begin{bmatrix} 6 & -3 \\ -8 & 4 \end{bmatrix} \quad (23)$$

حل المعادلة المصفوفية فيما يأتي:

$$\begin{bmatrix} 5 & 3 \\ 3 & 2 \end{bmatrix} \cdot \begin{bmatrix} x \\ y \end{bmatrix} = \begin{bmatrix} 4 \\ 0 \end{bmatrix} \quad (24)$$

$$\begin{bmatrix} 3 & -1 \\ 1 & 2 \end{bmatrix} \cdot \begin{bmatrix} a \\ b \end{bmatrix} = \begin{bmatrix} 5 \\ 4 \end{bmatrix} \quad (25)$$

(26) **مشتريات:** اشترى سعود 2 kg مكسرات و 2 kg قهوة بمبلغ 140 ريالاً. واشترى ناصر 3 kg مكسرات و كيلو جراماً قهوة بمبلغ 170 ريالاً. فما سعر الكيلو جرام الواحد من كلا النوعين؟



(8) إذا كان $A = \begin{bmatrix} 3 & 8 \\ -3 & -4 \end{bmatrix}$, $B = \begin{bmatrix} -7 & 5 \\ 5 & -4 \end{bmatrix}$, $C = \begin{bmatrix} -4 & 7 \\ 2 & 0 \end{bmatrix}$

فأوجد ناتج $\underline{AB} - \underline{AC}$

(9) استعمل المحددات لإيجاد مساحة Δxyz الذي رؤوسه $x(1, 2)$, $y(3, 6)$, $z(-1, 4)$.

(10) اختيار من متعدد: أوجد قيمة محددة المصفوفة:

$$\begin{bmatrix} 2 & 3 & -1 \\ 0 & 2 & 4 \\ -2 & 5 & 6 \end{bmatrix}$$

$\frac{1}{44}$ C -44 A

$-\frac{1}{44}$ D 44 B

أوجد النظير الضربي لكل مصفوفة فيما يأتي، إن وجد:

$\begin{bmatrix} 1 & 2 \\ 2 & 1 \end{bmatrix}$ (12) $\begin{bmatrix} 5 & 0 \\ 0 & 1 \end{bmatrix}$ (11)

$\begin{bmatrix} -3 & -2 \\ 6 & 4 \end{bmatrix}$ (14) $\begin{bmatrix} 6 & 3 \\ 8 & 4 \end{bmatrix}$ (13)

استعمل معادلة مصفوفية لحل نظام المعادلتين الآتي:

$$2x - y = -9 \quad (15)$$

$$x + 2y = 8$$

استعمل قاعدة كرامر لحل كل نظام معادلات فيما يأتي:

$$x - y + 2z = 0 \quad (16)$$

$$3x + z = 11$$

$$-x + 2y = 0$$

$$6x + 2y + 4z = 2 \quad (17)$$

$$3x + 4y - 8z = -3$$

$$-3x - 6y + 12z = 5$$

إذا كانت $A = \begin{bmatrix} 2 & 2 & 7 \\ 9 & 1 & 1 \\ 8 & 0 & 8 \end{bmatrix}$ ، فحدد قيمة كل عنصر مما يأتي:

a_{31} (2) a_{22} (1)

أوجد الناتج في كل مما يأتي، إذا كان ذلك ممكناً:

$$-3 \begin{bmatrix} 4a \\ 0 \\ -3 \end{bmatrix} + 4 \begin{bmatrix} -2 \\ 3 \\ -1 \end{bmatrix} \quad (3)$$

$$\begin{bmatrix} -3 & 0 \\ 1 & 5 \end{bmatrix} \cdot \begin{bmatrix} 2 & 4 \\ -6 & 0 \end{bmatrix} \quad (4)$$

$$\begin{bmatrix} 2 & 0 \\ -3 & 5 \\ 1 & 4 \end{bmatrix} \cdot \begin{bmatrix} 3 \\ -2 \end{bmatrix} \quad (5)$$

$$\begin{bmatrix} -5 & 7 \\ 6 & 8 \end{bmatrix} - \begin{bmatrix} 4 & 0 & -2 \\ 9 & 0 & 1 \end{bmatrix} \quad (6)$$

(7) مبيعات: تتبع مكتبة 3 مجموعات من كتب الأطفال. وبيّن الجدول الآتي تكلفة كل مجموعة وسعر بيعها. فإذا باعت المكتبة 20 مجموعة من الكتب التربوية، و 32 مجموعة من الكتب العلمية، و 14 مجموعة من القصص.

المجموعة	التكلفة	سعر البيع (ريال)
تربوية	100	120
علمية	90	110
قصص	130	150

(a) نظّم البيانات في مصفوفات، ثم استعمل ضرب المصفوفات لإيجاد تكلفة الكتب الكلية.

(b) استعمل ضرب المصفوفات لإيجاد المبلغ الكلي الذي تحصلت عليه المكتبة من بيع ذلك العدد من مجموعات الكتب.

(c) استعمل العمليات على المصفوفات لمعرفة ربح المكتبة.



اقرأ المسألة جيداً، إذ يمكن حلُّها باستعمال نظامٍ من معادلتين.

لتكن x تمثل عدد اللترات من المحطة الأولى، و y تمثل عدد اللترات من المحطة الثانية، لذا يكتب نظام المعادلتين الذي يمثل هذه الحالة على النحو الآتي:

$$x + y = 100$$

$$1.50x + 1.45y = 147.25$$

من الممكن حل هذا النظام جبرياً، ولكن يمكن حلُّه بشكل أسرع وبطريقة أسهل باستعمال المصفوفات والحاسبة البيانية.

حل المسألة

أدخل كلاً من مصفوفة المعاملات ومصفوفة الثوابت إلى الحاسبة البيانية، ثم أوجد الحل باستعمال النظير الضربي.

	4	5
0	0	0
1	1	1
2	2	2
3	3	3
4	4	4
5	5	5
6	6	6
7	7	7
8	8	8
9	9	9

$$\begin{bmatrix} 1 & 1 \\ 1.50 & 1.45 \end{bmatrix} \begin{bmatrix} x \\ y \end{bmatrix} = \begin{bmatrix} 100 \\ 147.25 \end{bmatrix}, \quad \begin{bmatrix} x \\ y \end{bmatrix} = \begin{bmatrix} 45 \\ 55 \end{bmatrix}$$

إذن زوّد محمد سيارته بـ 45 لترًا من المحطة الأولى، و 55 لترًا من المحطة الثانية.

تمارين ومسائل

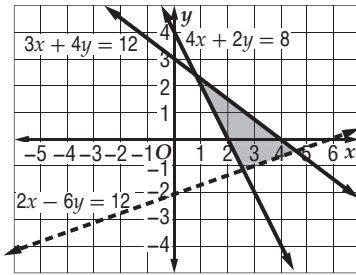
اقرأ كل مسألة، وحدّد ما تحتاج إلى معرفته، ثم استعمل المعطيات لحلّها. انسخ نموذج الإجابة، واستعمله في الإجابة.

$$\begin{array}{l} (2) \text{ أوجد محدد المصفوفة:} \\ \underline{H} = \begin{bmatrix} -2 & 0 & 3 \\ -5 & -7 & -1 \\ 4 & -8 & 1 \end{bmatrix} \end{array} \quad \left| \quad \begin{array}{l} (1) \text{ أوجد محدد المصفوفة} \\ \begin{bmatrix} -1 & 4 \\ -3 & 20 \end{bmatrix} \end{array} \right.$$



أسئلة الاختيار من متعدد

5 ما النظام الذي تمثل حله المنطقة المظللة في الشكل أدناه؟



- $4x + 2y \geq 8, 3x + 4y \leq 12, 2x - 6y < 12$ A
 $4x + 2y \geq 8, 3x + 4y \geq 12, 2x - 6y < 12$ B
 $4x + 2y \leq 8, 3x + 4y \leq 12, 2x - 6y < 12$ C
 $4x + 2y \leq 8, 3x + 4y \geq 12, 2x - 6y < 12$ D

6 ما رتبة المصفوفة: $D = \begin{bmatrix} 4 & -6 \\ 9 & 2 \\ 1 & 0 \\ -3 & -5 \end{bmatrix}$ ؟

- 4×8 C 4×2 A
 8×4 D 2×4 B

7 أي من الدوال الآتية يكون مداها: $\{f(x) | f(x) \geq 0\}$ ؟

- $f(x) = [x]$ A
 $f(x) = |-x + 1|$ B
 $f(x) = -|x|$ C
 $f(x) = -[x] + 1$ D

8 إذا كان $X = \begin{bmatrix} a+b & 2 \\ 7 & c+d \end{bmatrix}, Y = \begin{bmatrix} 8 & d \\ b & a \end{bmatrix}$ وكانت $X = Y$ فإن قيمة c تساوي:

- -1 A
 2 B
 -2 C
 1 D

اختر الإجابة الصحيحة فيما يأتي:

1 إذا كانت $A = \begin{bmatrix} -2 & 1 & 3 \\ 0 & 3 & 2 \end{bmatrix}$,

$B = \begin{bmatrix} 1 & 2 & 3 \\ 3 & 2 & 1 \end{bmatrix}$

فما قيمة $2A + 3B$ ؟

$\begin{bmatrix} -5 & 15 & 30 \\ 15 & 25 & 15 \end{bmatrix}$ C $\begin{bmatrix} -6 & 3 & 9 \\ 0 & 9 & 5 \end{bmatrix}$ A

$\begin{bmatrix} -1 & 8 & 15 \\ 9 & 12 & 7 \end{bmatrix}$ D $\begin{bmatrix} -4 & 2 & 6 \\ 0 & 6 & 4 \end{bmatrix}$ B

2 أوجد ناتج: $\begin{bmatrix} 2 \\ 5 \end{bmatrix} \cdot \begin{bmatrix} 3 & 1 \end{bmatrix}$ ، إذا كان ذلك ممكناً.

$\begin{bmatrix} 8 & -4 \\ 12 & 6 \end{bmatrix}$ C $[-3]$ A

$[11]$ B D الضرب غير معرف

3 في أي من الدوال الآتية يكون $f\left(\frac{-1}{3}\right) \neq 0$ ؟

$f(x) = -|3x| + 1$ A

$f(x) = [3x + 1]$ B

$f(x) = |3x| + 1$ C

$f(x) = [3x] + 1$ D

4 النقاط $D(-6, 2), E(3, 5), F(8, -7)$ هي رؤوس $\triangle DEF$.

احسب مساحة هذا المثلث:

54.5 وحدة مربعة. A 60 وحدة مربعة. C

58 وحدة مربعة. B 61.5 وحدة مربعة. D



أسئلة ذات إجابات قصيرة

أجب عن كل مما يأتي:

(9) هل يوجد للمصفوفة B نظير ضربي؟ فسّر إجابتك.

$$B = \begin{bmatrix} 3 & -2 \\ -9 & 6 \end{bmatrix}$$

(10) احسب قيمة محددة المصفوفة:

$$\underline{W} = \begin{bmatrix} 3 & 1 & 0 \\ 2 & 5 & -4 \\ 0 & -1 & 1 \end{bmatrix}$$

أسئلة ذات إجابات مطولة

أجب عن كل مما يأتي موضحاً خطوات الحل:

(11) يستعمل حمد شبكة إحداثيات ليصمم أرضية جديدة في فناء منزله. فإذا كانت الأرضية تمثل حل نظام المتباينات $x \geq 0, y \geq 0, x \leq 16, y \leq 20, x \leq -x + 32$ وكانت كل وحدة على شبكة الإحداثيات تمثل قدمًا واحدة على الأرض، فما مساحة الأرضية بالقدم المربعة؟

(12) مع عمر 14 قطعة نقدية من فئة الريال، ونصف الريال. فإذا كانت القيمة الكلية لهذه القطع النقدية هي 10.5 ريالات، فاستعمل هذه المعلومات للإجابة عن كل سؤال مما يأتي:

(a) افرض أن d تمثل عدد الريالات التي يملكها عمر، و q عدد أنصاف الريالات التي يملكها. اكتب نظام معادلات يمثل هذه الحالة.

(b) اكتب معادلة مصفوفية يمكن أن تستعمل لإيجاد قيم كل من d و q .

(c) حل المعادلة المصفوفية في الفرع b باستعمال النظير الضربي. ما عدد الريالات وأنصاف الريالات التي يملكها عمر؟

(13) مثل بيانيًا نظام المتباينات الآتي، ثم حدد رؤوس منطقة الحل وجد القيمة العظمى للدالة المعطاة في منطقة الحل:

$$\begin{aligned} x &\geq 0, y \geq 0 \\ x + 2y &\leq 14 \\ 3x + 4y &\leq 36 \\ f(x, y) &= 8x + 12y \end{aligned}$$

(14) صف بالكلمات متى يمكن ضرب مصفوفتين، ومتى لا يمكن ضربيهما، وأعط مثالاً على ذلك.

هل تحتاج إلى مساعدة إضافية؟

14	13	12	11	10	9	8	7	6	5	4	3	2	1	إذا لم تستطع حل سؤال...
2-3	1-6	2-5	1-5	2-4	2-5	2-1	1-4	2-1	1-5	2-4	1-3	2-3	2-2	فعد إلى...

كثيرات الحدود ودوالها

Polynomials and Polynomial Functions



فيما سبق:

درست تمثيل الدوال التربيعية بيانياً، وحل المعادلات التربيعية.

والآن:

- أتعرف الأعداد المركبة، وأجري العمليات عليها.
- أحل معادلات تربيعية.
- أجمع كثيرات الحدود وأطرحها وأضربها وأقسمها.
- أحل دوال كثيرات الحدود.
- أصف التمثيل البياني لدوال كثيرات الحدود.
- أجد قيم دوال كثيرات الحدود، وأحل معادلات كثيرات الحدود.
- أجد عوامل دوال كثيرات الحدود وأصغارها.
- أحدد عدد جذور معادلة كثيرة حدود وأنواعها.

لماذا؟


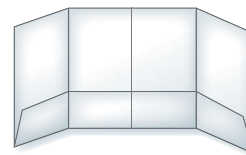
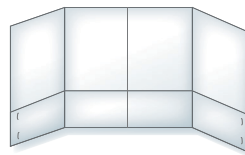
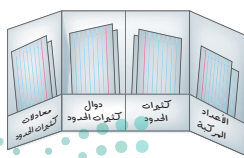
مواصلات: يمكن استعمال دوال كثيرات الحدود لتحديد جداول انطلاق الحافلات، والطاقة الاستيعابية للطرق السريعة، والأنماط المرورية، ومتوسط تكاليف الوقود، وأسعار كل من السيارات الجديدة والمستعملة.

منظم أفكار

المطويات

كثيرات الحدود ودوالها: اعمل المطوية لتساعدك على تنظيم ملاحظتك حول كثيرات الحدود ودوالها، ابدأ بورقة A4.

- 1 اثن الورقة بعرض 5cm بصورة موازية للضلع الأطول.
- 2 اثن الورقة بصورة موازية للضلع الأقصر إلى أربعة أقسام متساوية العرض.
- 3 ثبّت الحافتين الطرفيتين للشبه كما يظهر في الشكل أدناه.
- 4 عنون الأقسام الأربعة بالعناوين: الأعداد المركبة، كثيرات الحدود، دوال كثيرات الحدود، معادلات كثيرات الحدود.





التهيئة للفصل 3

تشخيص الاستعداد:

أجب عن الاختبار الآتي، وارجع إلى "المراجعة السريعة"؛ لمساعدتك على ذلك.

مراجعة سريعة

مثال 1

أعد كتابة العبارة $2xy - 3 - z$ على صورة جمع.

العبارة الأصلية	$2xy - 3 - z$
أعد الكتابة باستعمال الجمع	$= 2xy + (-3) + (-z)$

مثال 2

استعمل خاصية التوزيع لإعادة كتابة العبارة الآتية دون أقواس:

	$-3(a + b - c)$
العبارة الأصلية	$-3(a + b - c)$
خاصية التوزيع	$= -3(a) + (-3)(b) + (-3)(-c)$
بسّط	$= -3a - 3b + 3c$

مثال 3

حل المعادلة: $x^2 - 6x + 12 = 19$.

يمكن استعمال طريقة إكمال المربع.

المعادلة الأصلية	$x^2 - 6x + 12 = 19$
اطرح 12 من كلا الطرفين	$x^2 - 6x = 7$
أضف 9 لكلا الطرفين	$x^2 - 6x + 9 = 7 + 9$
حلّل $x^2 - 6x + 9$	$(x - 3)^2 = 16$
أوجد الجذر التربيعي لكلا الطرفين	$x - 3 = \pm 4$
أضف 3 لكلا الطرفين	$x = 3 \pm 4$
	الحلان هما: 7, -1

اختبار سريع

أعد كتابة كل من العبارات الآتية في صورة جمع:

(يستعمل مع الدرس 3-4)

$5 - 3y$ (2)	$-5 - 13$ (1)
$3x^2y - 14xy^2$ (4)	$5mr - 7mp$ (3)

(5) **محاضرات:** حضر 20 شخصًا محاضرة، ثم غادروا القاعة في مجموعات ثنائية، فغادرت منهم x مجموعة. اكتب عدد الأشخاص الباقين على صورة جمع.

استعمل خاصية التوزيع لإعادة كتابة كل عبارة فيما يأتي دون أقواس:

(يستعمل مع الدرس 3-4)

$-1(3b^2 + 2b - 1)$ (7)	$-4(a + 5)$ (6)
$-\frac{3}{4}(3z + 5)$ (9)	$-\frac{1}{2}(2m - 5)$ (8)

(10) **هدايا:** وزع معلم قلمًا وحقبة على كل طالب في صفٍّ يضم 15 طالبًا. إذا كان ثمن القلم 8 ريالات، والحقبة 18 ريالاً، فاكتب عبارة تمثل ثمن الأقلام والحقائب. استعمل خاصية التوزيع لحساب الثمن.

حل كل معادلة فيما يأتي: (يستعمل مع الدرس 3-7)

$x^2 - 5x + 6 = 0$ (12)	$x^2 + 2x - 8 = 0$ (11)
-------------------------	-------------------------

$x^2 - x = 0$ (14)	$x^2 - x - 20 = 0$ (13)
--------------------	-------------------------

(15) **فيزياء:** إذا سقط جسم من ارتفاع 50ft عن سطح الأرض فإن ارتفاعه عن سطحها بعد t ثانية يعبر عنه بالصيغة $h = -16t^2 + 50$. استعمل المعادلة $0 = -16t^2 + 50$ لحساب الزمن الذي يستغرقه الجسم حتى يصل إلى الأرض.

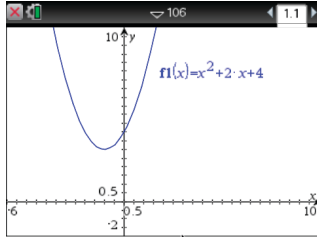
الأعداد المركبة

Complex Numbers

رابط الدرس الرقمي



www.iem.edu.sa



[-6, 10] scl: 0.5 by [-2, 10] scl: 0.5



لماذا؟

بالنظر إلى الشكل المجاور، تلاحظ أن التمثيل البياني للمعادلة $y = x^2 + 2x + 4$ لا يقطع المحور x ، لذا ليس للمعادلة جذور حقيقية، فهل يعني ذلك أنه ليس للمعادلة حلول؟

للتأكد من ذلك استعمل الآلة الحاسبة بالضغط على مفتاح **(on)**، ومنها اختر **1** مستند جديد ثم اختر **1** إضافة تطبيق الحاسبة ثم اضغط **(menu)** واختر منها

2: الجذور الحقيقية لكثيرات الحدود **3**: أدوات كثيرات الحدود **4**: العمليات الجبرية

ثم أدخل $x^2 + 2x + 4$ واضغط **(enter)** **(enter)** فيظهر على الشاشة كلمة خطأ، وهذا يعني أنه لا توجد حلول حقيقية للمعادلة، ولكن هناك حلول تخيلية.

فيما سبق:

درست تبسيط الجذور التربيعية.
(مهارة سابقة)

والآن:

- أجري العمليات على الأعداد التخيلية البحتة.
- أجري العمليات على الأعداد المركبة.

المفردات

الوحدة التخيلية

imaginary unit

العدد التخيلي البحت

pure imaginary number

العدد المركب

complex number

المركبان المترافقان

complex conjugates

الأعداد التخيلية البحتة: قادت المعادلات "كالمعادلة السابقة" الرياضيين إلى تعريف الأعداد التخيلية، ووحدتها التخيلية i ، حيث تعرف **الوحدة التخيلية** i على أنها الجذر التربيعي الموجب للعدد -1 ، وبعبارة أخرى فإن $i = \sqrt{-1}$ ، وهذا يعني أن $i^2 = -1$ والأعداد في الصورة $i\sqrt{3}$ ، $-2i$ ، $6i$ ، تسمى **أعدادًا تخيلية بحتة**، وهي جذور تربيعية لأعداد حقيقية سالبة. لأي عدد حقيقي موجب مثل b ، فإن: $\sqrt{-b^2} = \sqrt{b^2} \cdot \sqrt{-1} = bi$.

الجذور التربيعية للأعداد السالبة

مثال 1

بسّط كلاً مما يأتي:

$$\begin{aligned} &= \sqrt{-216} \quad (b) \\ \sqrt{-216} &= \sqrt{-1 \cdot 6^2 \cdot 6} \\ &= \sqrt{-1} \cdot \sqrt{6^2} \cdot \sqrt{6} \\ &= i \cdot 6 \cdot \sqrt{6} \\ &= 6i\sqrt{6} \end{aligned}$$

$$\begin{aligned} &= \sqrt{-27} \quad (a) \\ \sqrt{-27} &= \sqrt{-1 \cdot 3^2 \cdot 3} \\ &= \sqrt{-1} \cdot \sqrt{3^2} \cdot \sqrt{3} \\ &= i \cdot 3 \cdot \sqrt{3} \\ &= 3i\sqrt{3} \end{aligned}$$

تحقق من فهمك

$$\sqrt{-125} \quad (1B)$$

$$\sqrt{-18} \quad (1A)$$

تُحقق الأعداد التخيلية البحتة كلاً من الخاصيتين (التجمعية والتبديلية) على الضرب، ويبين الجدول الآتي بعض قوى الوحدة التخيلية i :

$i^1 = i$	$i^2 = -1$	$i^3 = i^2 \cdot i = -i$	$i^4 = (i^2)^2 = 1$
$i^5 = (i^2)^2 \cdot i = i$	$i^6 = (i^2)^3 = -1$	$i^7 = (i^2)^3 \cdot i = -i$	$i^8 = (i^2)^4 = 1$

مثال 2

ضرب الأعداد التخيلية البحتة

أوجد ناتج كل مما يأتي :

$$(a) -5i \cdot 3i$$

$$\begin{array}{l} \text{اضرب} \\ i^2 = -1 \\ \text{بسّط} \end{array} \quad \begin{array}{l} -5i \cdot 3i = -15i^2 \\ = -15(-1) \\ = 15 \end{array}$$

$$(b) \sqrt{-6} \cdot \sqrt{-15}$$

$$\begin{array}{l} i = \sqrt{-1} \\ \text{اضرب} \\ \text{بسّط} \\ \text{اضرب} \end{array} \quad \begin{array}{l} \sqrt{-6} \cdot \sqrt{-15} = i\sqrt{6} \cdot i\sqrt{15} \\ = i^2\sqrt{90} \\ = -1 \cdot \sqrt{9} \cdot \sqrt{10} \\ = -3\sqrt{10} \end{array}$$

تحقق من فهمك

$$i^{31} \quad (2C)$$

$$\sqrt{-20} \cdot \sqrt{-12} \quad (2B)$$

$$3i \cdot 4i \quad (2A)$$

يمكنك حل بعض المعادلات التربيعية باستعمال خصائص الجذر التربيعي .

إرشادات للدراسة

خصائص الجذر التربيعي

راجع خصائص الجذر التربيعي التي درستها في الصف الثالث المتوسط.

مثال 3

معادلة حلولها أعداد تخيلية بحتة

حل المعادلة : $4x^2 + 256 = 0$

$$\begin{array}{l} \text{المعادلة الأصلية} \\ \text{اطرح 256 من كلا الطرفين} \\ \text{اقسم كلا الطرفين على 4} \\ \text{خاصية الجذر التربيعي} \end{array} \quad \begin{array}{l} 4x^2 + 256 = 0 \\ 4x^2 = -256 \\ x^2 = -64 \\ x = \pm\sqrt{-64} \\ x = \pm 8i \end{array}$$

$$\sqrt{-64} = \sqrt{64} \cdot \sqrt{-1} = 8i$$

تحقق من فهمك

$$x^2 + 4 = 0 \quad (3B)$$

$$4x^2 + 100 = 0 \quad (3A)$$

العمليات على الأعداد المركبة : تتكون العبارة $2+3i$ من حدين غير متشابهين ولا يمكن جمعهما، وهما العدد الحقيقي 2 والعدد التخيلي $3i$ ، ويسمى هذا النوع من العبارات **العدد المركب**.

أضف إلى
مطوبتك

الأعداد المركبة (C)

مفهوم أساسي

التعبير اللفظي: العدد المركب هو أي عدد يمكن كتابته على الصورة $a + bi$ ؛ حيث a و b عدنان حقيقيان، و i الوحدة التخيلية، ويسمى a الجزء الحقيقي، و b الجزء التخيلي.

$$1 - 3i = 1 + (-3)i$$

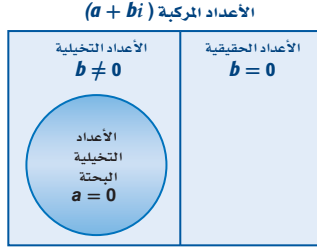
$$5 + 2i$$

مثالان:

وزارة التعليم

Ministry of Education

يوضح شكل فن المجاور مجموعة الأعداد المركبة .



- إذا كانت $b = 0$ فإن العدد المركب يكون عددًا حقيقيًا.
- إذا كانت $b \neq 0$ فإن العدد المركب يكون عددًا تخيليًا.
- إذا كانت $a = 0, b \neq 0$ فإن العدد المركب يكون عددًا تخيليًا بحتًا.

يتساوى عدداً مركبان إذا فقط إذا تساوى الجزأين الحقيقيين، والجزأين التخيليين؛ أي أن:
 $a + bi = c + di$ إذا فقط إذا كان $a = c, b = d$.

مثال 4 تساوي الأعداد المركبة

أوجد قيمتي x, y الحقيقيتين اللتين تجعلان المعادلة: $3x - 5 + (y - 3)i = 7 + 6i$ صحيحة.
ساو الجزأين الحقيقيين أحدهما بالآخر، وكذلك الجزأين التخيليين.

الجزآن الحقيقيان	$3x - 5 = 7$	الجزآن التخيليان	$y - 3 = 6$
اجمع 5 لكلا الطرفين	$3x = 12$	اجمع 3 لكلا الطرفين.	$y = 9$
اقسم كلا الطرفين على 3	$x = 4$		

تحقق من فهمك

(4) أوجد قيمتي x, y الحقيقيتين اللتين تجعلان المعادلة: $5x + 1 + (3 + 2y)i = 2x - 2 + (y - 6)i$ صحيحة.

ويمكنك استعمال كل من الخاصية التبديلية والخاصية التجميعية وخاصية التوزيع عند جمع الأعداد المركبة وضربها، ولكي تجمع أو تطرح أعداداً مركبة، جمع الأجزاء المتشابهة؛ أي جمع الأجزاء الحقيقية معاً وجمع الأجزاء التخيلية معاً.

مثال 5 جمع الأعداد المركبة وطرحها

أوجد ناتج كل مما يأتي :

(a) $(5 - 7i) + (2 + 4i)$

خواص التبديل والتجميع والتوزيع
بسّط $(5 - 7i) + (2 + 4i) = (5 + 2) + (-7 + 4)i$
 $= 7 - 3i$

(b) $(4 - 8i) - (3 - 6i)$

خواص التبديل والتجميع والتوزيع
بسّط $(4 - 8i) - (3 - 6i) = (4 - 3) + [-8 - (-6)]i$
 $= 1 - 2i$

تحقق من فهمك

(5B) $(4 + 6i) - (-1 + 2i)$

(5A) $(-2 + 5i) + (1 - 7i)$

تستعمل الأعداد المركبة في مسائل الكهرباء، ففي الدوائر الكهربائية ذات التيار المتناوب يمكنك تمثيل فرق الجهد، وشدة التيار، والمعاوقة بأعداد مركبة، ولضرب هذه الأعداد تستعمل طريقة التوزيع بالترتيب.

إرشادات للدراسة

المعاوقة :

في الأعداد المركبة تستعمل كلمة المعاوقة بدلاً من المقاومة.

مثال 6 من واقع الحياة

ضرب الأعداد المركبة

كهرباء: يرتبط فرق الجهد V ، وشدة التيار C ، والمعاوقة I في الدوائر الكهربائية ذات التيار المتناوب بالصيغة $V = C \cdot I$. أوجد فرق الجهد في دائرة كهربائية ذات تيار متردد إذا كانت شدة تيارها $2 + 4i$ أمبير، ومعاوقتها $9 - 3i$ أوم.

$$V = C \cdot I \quad \text{الصيغة الرياضية}$$

$$C = 2 + 4i, I = 9 - 3i \quad = (2 + 4i) \cdot (9 - 3i)$$

$$\text{باستخدام طريقة التوزيع بالترتيب} \quad = 2(9) + 2(-3i) + 4i(9) + 4i(-3i)$$

$$\text{اضرب} \quad = 18 - 6i + 36i - 12i^2$$

$$i^2 = -1 \quad = 18 + 30i - 12(-1)$$


$$\text{اجمع} \quad = 30 + 30i$$

وعليه فإن فرق الجهد هو $30 + 30i$ فولت.

تحقق من فهمك

(6) **كهرباء:** أوجد فرق الجهد لتيار متناوب شدته $4i - 2$ أمبير، ومعاوقته $3 - 2i$ أوم.

يسمى العددان المركبان $a - bi$ ، $a + bi$ **مركبين مترافقين**، وناتج ضربهما هو عدد حقيقي دائمًا على الصورة $a^2 + b^2$. ويمكنك استعمال هذه الحقيقة لإيجاد ناتج قسمة عددين مركبين.



الربط مع الحياة

مصابيح الزينة من الأمثلة على الدوائر الكهربائية الموصولة على التوالي، ويؤثر عدد المصابيح فيها في شدة التيار، فينعكس هذا على شدة الإضاءة.

مثال 7 قسمة الأعداد المركبة

مثال 7

أوجد ناتج كل مما يأتي:

$$\frac{2i}{3 + 6i} \quad (a)$$

$$\frac{2i}{3 + 6i} = \frac{2i}{3 + 6i} \cdot \frac{3 - 6i}{3 - 6i}$$

$$\text{اضرب} \quad = \frac{6i - 12i^2}{9 - 36i^2}$$

$$i^2 = -1 \quad = \frac{6i - 12(-1)}{9 - 36(-1)}$$

$$\text{بسط} \quad = \frac{6i + 12}{45}$$

$$\text{اكتب الناتج على الصورة } a + bi \quad = \frac{4}{15} + \frac{2}{15}i$$

$$\frac{4 + i}{5i} \quad (b)$$

$$\frac{4 + i}{5i} = \frac{4 + i}{5i} \cdot \frac{i}{i}$$

$$\text{اضرب في } i \quad = \frac{4i + i^2}{5i^2}$$

اضرب

$$i^2 = -1 \quad = \frac{4i - 1}{-5}$$

اضرب

$$\text{اكتب الناتج على الصورة } a + bi \quad = \frac{1}{5} - \frac{4}{5}i$$

$$\frac{2 + i}{1 - i} \quad (7B)$$

$$\frac{-2i}{3 + 5i} \quad (7A)$$

تحقق من فهمك

إرشادات للدراسة

قراءة الرياضيات

يمكنك حل الفرع b من المثال 7 بضرب كل من البسط والمقام في العدد $5i$ ، ولكن للاختصار تم الضرب في العدد i فقط.



أوجد ناتج كل مما يأتي:

- المثالان 1, 2
- (1) $\sqrt{-81}$ (2) $\sqrt{-32}$
- (3) $(4i)(-3i)$ (4) $3\sqrt{-24} \cdot 2\sqrt{-18}$
- (5) i^{40} (6) i^{63}

حل كل معادلة مما يأتي:

- مثال 3
- (7) $4x^2 + 32 = 0$ (8) $2x^2 + 24 = 0$
- مثال 4
- (9) $3a + (4b + 2)i = 9 - 6i$ (10) $4b - 5 + (-a - 3)i = 7 - 8i$

بسّط كلاً مما يأتي:

- الأمثلة 5, 6, 7
- (11) $(-1 + 5i) + (-2 - 3i)$ (12) $(7 + 4i) - (1 + 2i)$
- (13) $(6 - 8i)(9 + 2i)$ (14) $(3 + 2i)(-2 + 4i)$
- (15) $\frac{3 - i}{4 + 2i}$ (16) $\frac{2 + i}{5 + 6i}$

(17) **كهرباء:** تبلغ شدة التيار في أحد أجزاء دائرة كهربائية موصولة على التوالي $5 - 3i$ أمبير، وفي الجزء الآخر من الدائرة $7 + 9i$ أمبير. اجمع هذين العددين المركبين لإيجاد شدة التيار الكلية في الدائرة.

تدرب وحل المسائل

أوجد ناتج كل مما يأتي:

- المثالان 1, 2
- (18) $\sqrt{-121}$ (19) $\sqrt{-169}$
- (20) $\sqrt{-100}$ (21) $\sqrt{-75}$
- (22) $(-3i)(-7i)(2i)$ (23) $4i(-6i)^2$
- (24) i^{11} (25) i^{25}
- (26) $\sqrt{-10} \cdot \sqrt{-24}$ (27) $4i\left(\frac{1}{2}i\right)^2(-2i)^2$

حل كل معادلة مما يأتي:

- مثال 3
- (28) $4x^2 + 4 = 0$ (29) $3x^2 + 48 = 0$
- (30) $2x^2 + 10 = 0$ (31) $6x^2 + 108 = 0$

في كل معادلة مما يأتي أوجد قيمتي x, y الحقيقيتين اللتين تجعلانها صحيحة:

- مثال 4
- (32) $x + 1 + 2yi = 3 - 6i$ (33) $2x + 7 + (3 - y)i = -4 + 6i$
- (34) $5 + y + (3x - 7)i = 9 - 3i$ (35) $(2x - 4y)i + x + 5y = 15 + 58i$



أوجد ناتج كل مما يأتي :

(37) $(11 - 8i) - (2 - 8i)$

(36) $(-3 + i) + (-4 - i)$

(39) $(3 + 5i)(5 - 3i)$

(38) $(1 + 2i)(1 - 2i)$

(41) $\frac{2i}{1+i}$

(40) $(4 - i)(6 - 6i)$

(43) $\frac{5+i}{3i}$

(42) $\frac{5}{2+4i}$

(45) $(8 - 5i) - (7 + i)$

(44) $(4 - 6i) + (4 + 6i)$

(47) $(1 + i)(2 + 3i)(4 - 3i)$

(46) $(-6 - i)(3 - 3i)$

(49) $\frac{2 - i\sqrt{3}}{2 + i\sqrt{3}}$

(48) $\frac{4 - i\sqrt{2}}{4 + i\sqrt{2}}$

(50) **كهرباء:** تبلغ المعاوقة في أحد أجزاء دائرة كهربائية $7 + 8i$ أوم، وفي الجزء الآخر منها $13 - 4i$ أوم. اجمع هذين العددين المركبين لإيجاد المعاوقة الكلية في الدائرة الكهربائية.

كهرباء: استعمل الصيغة $V = C \cdot I$ ، حيث V فرق الجهد، و C شدة التيار، و I المعاوقة في حل السؤالين 51, 52 :

(51) إذا كانت شدة التيار في دائرة كهربائية $3 + 6i$ أمبير، والمعاوقة $5 - i$ أوم، فكم يكون فرق الجهد؟

(52) إذا كان فرق الجهد في دائرة كهربائية $20 - 12i$ فولت، والمعاوقة $6 - 4i$ أوم، فكم تكون شدة التيار؟

(53) أوجد ناتج جمع $ix^2 - (4 + 5i)x + 7$ إلى $3x^2 + (2 + 6i)x - 8i$

(54) بسّط العبارة: $[(2 + i)x^2 - ix + 5 + i] - [(-3 + 4i)x^2 + (5 - 5i)x - 6]$

(55) **تمثيلات متعددة:** ستكتشف في هذه المسألة جمع الأعداد المركبة في المستوى المركب. فالمستوى المركب يشبه إلى حد بعيد المستوى الحقيقي، وفيه تكون الأعداد الحقيقية على المحور الأفقي والأعداد التخيلية البحتة على المحور الرأسي.

(a) **بيانياً:** مثل العدد $3 + 4i$ بيانياً في المستوى المركب، وذلك برسم قطعة مستقيمة من نقطة الأصل إلى النقطة $(3, 4)$ ، وسمّها النقطة A .

(b) **بيانياً:** مثل العدد $-2 - 5i$ بيانياً في المستوى المركب وذلك برسم قطعة مستقيمة من نقطة الأصل إلى النقطة $(-2, -5)$ ، وسمّها B .

(c) **بيانياً:** إذا كانت النقطتان A, B ونقطة الأصل ثلاثة رؤوس لمتوازي أضلاع فأكمل رسمه بإضافة النقطة الرابعة C .

(d) **تحليلياً:** ما العدد المركب الذي تمثله النقطة C ؟ وما العلاقة بين النقاط A, B, C ؟

الأمثلة 5, 6, 7



الربط مع الحياة

الكهرباء هي عدد من التأثيرات الفيزيائية تشمل مجموعة متنوعة من الظواهر الناتجة عن وجود شحنة كهربائية وتدفقها. وتضم هذه الظواهر: البرق، والكهرباء الساكنة، والمجال والحث الكهرومغناطيسيين.

مسائل مهارات التفكير العليا

(56) **اكتشف الخطأ:** قامت كلٌّ من صفاء ومنال بتبسيط $(2i)(3i)(4i)$ ، فأَيُّ منهما على صواب؟ وضح إجابتك.

منال	صفاء
$24i^3 = -24$	$24i^3 = -24i$

(57) **تحذّر:** بسّط العدد المركب $(1 + 2i)^3$.

(58) **تبرير:** حدد إذا كانت الجملة الآتية صحيحة دائماً، أو صحيحة أحياناً، أو غير صحيحة أبداً. وضح إجابتك:

"يتكون كل عدد مركب من جزء حقيقي وجزء تخيلي"

(59) **مسألة مفتوحة:** اكتب عددين مركبين يكون ناتج ضربهما يساوي 20.

(60) **اكتب:** وضح كيف ترتبط الأعداد المركبة بالمعادلات التربيعية، وكيف تحدد إذا كان للمعادلة التربيعية حلول مركبة فقط أم لا؟

تدريب على اختبار

(62) قيمة $(3 + 6i)^2$ تساوي:

(A) $36 - 27i$

(B) $9 + 36$

(C) $9 - 36$

(D) $-27 + 36i$

(61) ما قيمتا x, y الحقيقيتان اللتان تجعلان

$(5 + 4i) - (x + yi) = (-1 - 3i)$ صحيحة؟

(A) $x = 6, y = 7$

(B) $x = 4, y = i$

(C) $x = 4, y = i$

(D) $x = 4, y = 7$

مراجعة تراكمية

حلّ كل معادلة مما يأتي مستعملاً التحليل إلى العوامل: (مهارة سابقة)

(65) $6x^2 = 5x + 4$

(64) $4x^2 - 12 = 22x$

(63) $2x^2 + 7x = 15$

نظرية الأعداد: استعمل معادلة تربيعية لإيجاد عددين حقيقيين يحققان كلاً ممّا يأتي، (إذا كان ذلك ممكناً): (مهارة سابقة)

(67) مجموعهما -21، وناتج ضربهما 108.

(66) مجموعهما -3، وناتج ضربهما -40.

هل تمثّل كلٌّ من ثلاثيات الحدود الآتية مربعاً كاملاً أم لا؟ (مهارة سابقة)

(69) $x^2 - 12x + 36$

(68) $x^2 + 16x + 64$


(71) $x^2 + 5x + 6.25$

(70) $x^2 + 8x - 16$





القانون العام والمميز The Quadratic Formula and the Discriminant



لماذا؟

أطلق سهم نحو هدف على الأرض، ويمكن التعبير عن ارتفاعه عن الأرض بالدالة التربيعية:

$$h = -4.9t^2 + 117t + 42$$

حيث h ارتفاع السهم بعد t ثانية من إطلاقه، وللتنبؤ بالزمن اللازم لوصول السهم إلى الهدف، نحل المعادلة:

$$-4.9t^2 + 117t + 42 = 0$$

ومن الصعب حل هذه المعادلة باستعمال التحليل إلى العوامل، أو التمثيل البياني، أو إكمال المربع.

فيما سبق:

درست حل معادلات تربيعية بإكمال المربع.
(مهارة سابقة)

والآن:

- أحل معادلات تربيعية باستعمال القانون العام.
- أستعمل المميز لأحدد عدد جذور معادلة تربيعية وأنواعها.

المضردات

القانون العام

Quadratic Formula

المميز

discriminant

القانون العام: تمكنت سابقاً من حل بعض المعادلات التربيعية بالتمثيل البياني، أو بالتحليل إلى العوامل، أو باستعمال خاصية الجذر التربيعي، أو بإكمال المربع، أو باستعمال القانون العام؛ وهو قانون يمكن استعماله لحل أية معادلة تربيعية، ويمكن اشتقاق هذا القانون من خلال حل معادلة تربيعية على الصورة القياسية.

مثال

$$2x^2 + 8x + 1 = 0$$

معادلة تربيعية على الصورة القياسية

$$ax^2 + bx + c = 0$$

$$x^2 + 4x + \frac{1}{2} = 0$$

اقسم كلا الطرفين على a

$$x^2 + \frac{b}{a}x + \frac{c}{a} = 0$$

$$x^2 + 4x = -\frac{1}{2}$$

اطرح $\frac{c}{a}$ من كلا الطرفين

$$x^2 + \frac{b}{a}x = -\frac{c}{a}$$

$$x^2 + 4x + \left(\frac{4}{2}\right)^2 = -\frac{1}{2} + \left(\frac{4}{2}\right)^2$$

أكمل المربع

$$x^2 + \frac{b}{a}x + \left(\frac{b}{2a}\right)^2 = -\frac{c}{a} + \left(\frac{b}{2a}\right)^2$$

$$(x + 2)^2 = -\frac{1}{2} + \left(\frac{4}{2}\right)^2$$

حل الطرف الأيسر

$$\left(x + \frac{b}{2a}\right)^2 = -\frac{c}{a} + \frac{b^2}{4a^2}$$

$$(x + 2)^2 = \frac{7}{2}$$

بسّط الطرف الأيمن

$$\left(x + \frac{b}{2a}\right)^2 = \frac{b^2 - 4ac}{4a^2}$$

$$x + 2 = \pm\sqrt{\frac{7}{2}}$$

خاصية الجذر التربيعي

$$x + \frac{b}{2a} = \pm\sqrt{\frac{b^2 - 4ac}{4a^2}}$$

$$x = -2 \pm\sqrt{\frac{7}{2}}$$

اطرح $\frac{b}{2a}$ من كلا الطرفين

$$x = -\frac{b}{2a} \pm\sqrt{\frac{b^2 - 4ac}{4a^2}}$$

$$x = \frac{-4 \pm\sqrt{14}}{2}$$

بسّط

$$x = \frac{-b \pm\sqrt{b^2 - 4ac}}{2a}$$

تعرف المعادلة: $x = \frac{-b \pm\sqrt{b^2 - 4ac}}{2a}$ **بالقانون العام** لحل المعادلات التربيعية.

القانون العام

على الرغم من أن طريقة التحليل إلى العوامل قد تكون الأسهل لحل بعض المعادلات التربيعية، إلا أن القانون العام يحل أي معادلة تربيعية.

التعبير اللفظي: يمكن حل المعادلة التربيعية المكتوبة على الصورة: $ax^2 + bx + c = 0, a \neq 0$ باستعمال القانون:

$$x = \frac{-b \pm \sqrt{b^2 - 4ac}}{2a}$$

$$x^2 + 5x + 6 = 0 \rightarrow x = \frac{-5 \pm \sqrt{5^2 - 4(1)(6)}}{2(1)}$$

مثال:

معادلة لها جذران نسبيان

مثال 1

حل المعادلة: $x^2 - 10x = 11$ باستعمال القانون العام.

أولاً اكتب المعادلة على الصورة $ax^2 + bx + c = 0$ ، وحدد قيم كل من a, b, c .

$$ax^2 + bx + c = 0$$

↓ ↓ ↓

$$x^2 - 10x = 11 \rightarrow 1x^2 - 10x - 11 = 0$$

ثم عوض بعد ذلك بتلك القيم في القانون العام.

$$\text{القانون العام} \quad x = \frac{-b \pm \sqrt{b^2 - 4ac}}{2a}$$

$$\text{عوض عن: } a \text{ بالعدد } 1, b \text{ بالعدد } -10, c \text{ بالعدد } -11 \quad = \frac{-(-10) \pm \sqrt{(-10)^2 - 4(1)(-11)}}{2(1)}$$

$$\text{اضرب} \quad = \frac{10 \pm \sqrt{100 + 44}}{2}$$

$$\text{بسّط} \quad = \frac{10 \pm \sqrt{144}}{2}$$

$$\sqrt{144} = 12 \quad = \frac{10 \pm 12}{2}$$

$$\text{اكتب } x \text{ على صورة معادلتين} \quad x = \frac{10 - 12}{2} \quad \text{أو} \quad x = \frac{10 + 12}{2}$$

$$\text{بسّط} \quad = -1 \quad = 11$$

وعليه يكون الحلان هما: 11، -1.

تحقق: عوض كلتا القيمتين في المعادلة الأصلية.

$$\begin{array}{ll} x^2 - 10x = 11 & x^2 - 10x = 11 \\ (11)^2 - 10(11) \stackrel{?}{=} 11 & (-1)^2 - 10(-1) \stackrel{?}{=} 11 \\ 121 - 110 \stackrel{?}{=} 11 & 1 + 10 \stackrel{?}{=} 11 \\ \checkmark \quad 11 = 11 & \checkmark \quad 11 = 11 \end{array}$$

تحقق من فهمك

$$2x^2 + 25x + 33 = 0 \quad \text{(IB)}$$

$$x^2 + 6x = 16 \quad \text{(IA)}$$

عندما يكون ما تحت الجذر في القانون العام صفراً، فإننا نحصل على جذرٍ نسبيٍّ واحدٍ، ويكون حل المعادلة في هذه الحالة هو هذا الجذر النسبي، ولكنه مكرر مرتين.



تاريخ الرياضيات

براهام جويتا

(598-668 م) عالم رياضيات هندي، وهو أول من أوجد حلاً عاماً للمعادلة التربيعية في الصورة $ax^2 + bx = c$ ، وهو ما يُسمى الآن القانون العام لحل المعادلة التربيعية.

مثال 2 معادلة لها جذر نسبي واحد (مكرر مرتين)

حل المعادلة: $x^2 + 8x + 16 = 0$ باستعمال القانون العام.
حدّد قيم كل من a, b, c ، وعوّض هذه القيم في القانون العام.

$$\begin{aligned} \text{القانون العام} \quad x &= \frac{-b \pm \sqrt{b^2 - 4ac}}{2a} \\ &= \frac{-(-8) \pm \sqrt{(8)^2 - 4(1)(16)}}{2(1)} \end{aligned}$$

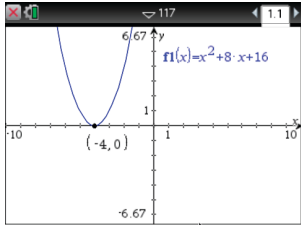
عوّض عن a بالعدد 1، وعن b بالعدد 8، وعن c بالعدد 16

$$\text{بسّط} \quad = \frac{-8 \pm \sqrt{0}}{2}$$

$$\sqrt{0} = 0 \quad = \frac{-8}{2} = -4$$

الحل هو -4 (مكرر مرتين).

تحقق: تحقق من صحة الحل بتمثيل الدالة المرتبطة بالمعادلة $y = x^2 + 8x + 16$ بيانياً. مستعملاً خاصية الصفر في الحاسبة البيانية للحصول على قيمة صفر الدالة المرتبطة وهو: $x = -4$



[-10, 10] scl: 1 by [-6.67, 6.67] scl: 1

تحقق من فهمك

$$x^2 + 34x + 289 = 0 \quad (2B)$$

$$x^2 - 16x + 64 = 0 \quad (2A)$$

يمكنك التعبير عن الجذور غير النسبية بكتابتها في الصورة الجذرية.

مثال 3 الجذور غير النسبية

حل المعادلة: $2x^2 + 6x - 7 = 0$ باستعمال القانون العام.

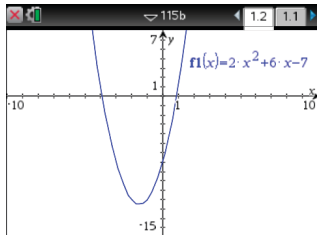
$$\begin{aligned} \text{القانون العام} \quad x &= \frac{-b \pm \sqrt{b^2 - 4ac}}{2a} \\ &= \frac{-(-6) \pm \sqrt{(6)^2 - 4(2)(-7)}}{2(2)} \end{aligned}$$

عوّض عن a بالعدد 2، وعن b بالعدد 6، وعن c بالعدد -7

$$\text{بسّط} \quad = \frac{-6 \pm \sqrt{92}}{4}$$

$$\sqrt{92} = \sqrt{4(23)} = 2\sqrt{23} \quad = \frac{-6 \pm 2\sqrt{23}}{4} = \frac{-3 \pm \sqrt{23}}{2}$$

الحلان التقريبيان هما: 0.9 ، -3.9



[-10, 10] scl: 1 by [-15, 7] scl: 1

تحقق: تحقق من صحة الحل بتمثيل الدالة المرتبطة بالمعادلة $y = 2x^2 + 6x - 7$ بيانياً. مستعملاً خاصية الصفر في الحاسبة البيانية للحصول على القيمتين التقريبتين لصفري الدالة المرتبطة وهما: -3.9 ، 0.9

تحقق من فهمك

$$x^2 - 8x + 9 = 0 \quad (3B)$$

$$3x^2 + 5x + 1 = 0 \quad (3A)$$

إرشادات للدراسة

إظهار كامل التمثيل البياني:

لاظهار التمثيل البياني للدالة كاملاً على الشاشة، اضغط مفتاح **menu** ومنها

اختر **4**: تكبير/تصغير النافذة

ثم اختر **1**: إعدادات النافذة

لتحدد التدرج المناسب

للمتغير y فاختر مثلاً

القيمة الصفري y : -15

و القيمة العظمى y : 7

الأعداد المركبة

تذكر أن تكتب حلك في الصورة $a + bi$ ، وهذه الصورة تُسمى الصورة القياسية للعدد المركب.

مثال 4

الجدور المركبة

حلّ المعادلة: $x^2 - 6x = -10$ باستعمال القانون العام.

$$\text{القانون العام} \quad x = \frac{-b \pm \sqrt{b^2 - 4ac}}{2a}$$

عوض عن a بالعدد 1، وعن b بالعدد -6، وعن c بالعدد 10

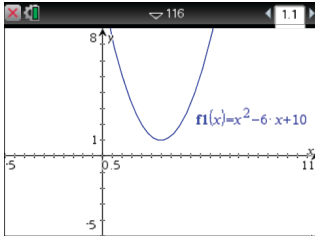
$$= \frac{-(-6) \pm \sqrt{(-6)^2 - 4(1)(10)}}{2(1)}$$

$$\text{بسّط} \quad = \frac{6 \pm \sqrt{-4}}{2}$$

$$\sqrt{-4} = \sqrt{4 \cdot (-1)} = 2i \quad = \frac{6 \pm 2i}{2}$$

$$\text{بسّط} \quad = 3 \pm i$$

الحلّان هما: $3 + i$ ، $3 - i$ وهما عددان مركبان مترافقان.



[−5, 11] scl: 0.5 by [−5, 8] scl: 1

تحقق: يظهر التمثيل البياني للدالة المرتبطة بالمعادلة أن الحلين عددان مركبان، ولكن لا يساعدك التمثيل البياني على إيجادهما. وللتحقق من صحة الحلين المركبين، عوضهما في المعادلة الأصلية.

المعادلة الأصلية

$$x^2 - 6x = -10$$

$$x = 3 + i$$

$$(3 + i)^2 - 6(3 + i) \stackrel{?}{=} -10$$

أوجد مفكوك $(3 + i)^2$ وخاصية التوزيع

$$9 + 6i + i^2 - 18 - 6i \stackrel{?}{=} -10$$

بسّط

$$-9 + i^2 \stackrel{?}{=} -10$$

$$i^2 = -1$$

$$\checkmark -9 - 1 = -10$$

المعادلة الأصلية

$$x^2 - 6x = -10$$

$$x = 3 - i$$

$$(3 - i)^2 - 6(3 - i) \stackrel{?}{=} -10$$

أوجد مفكوك $(3 - i)^2$ وخاصية التوزيع

$$9 - 6i + i^2 - 18 + 6i \stackrel{?}{=} -10$$

بسّط.

$$-9 + i^2 \stackrel{?}{=} -10$$

$$i^2 = -1$$

$$\checkmark -9 - 1 = -10$$

تحقق من فهمك

$$x^2 - 4x = -13 \quad (4B)$$

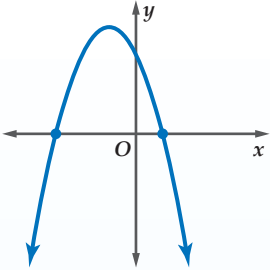
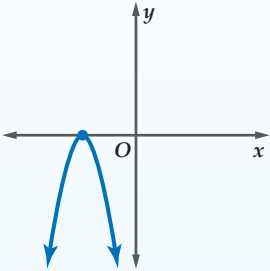
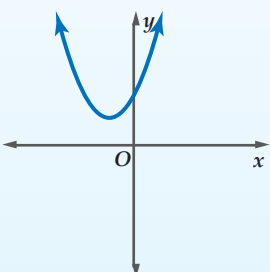
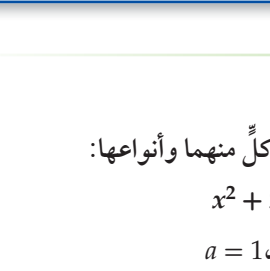
$$3x^2 + 5x + 4 = 0 \quad (4A)$$

الجدور والمميز: في المعادلة التربيعية، لاحظ العلاقة بين قيمة ما تحت الجذر وجذور المعادلة التربيعية في الأمثلة السابقة. العبارة $b^2 - 4ac$ تسمى **المميز**.

$$x = \frac{-b \pm \sqrt{b^2 - 4ac}}{2a} \leftarrow \text{المميز}$$

ويمكنك استعمال المميز لتحديد عدد جذور المعادلة التربيعية وأنواعها، والجدول في الصفحة الآتية يلخص الأنواع الممكنة للجذور، وذلك للتأكد من صحة حلك.

في المعادلة $ax^2 + bx + c = 0$ ، حيث a, b, c أعداد نسبية، $a \neq 0$.

مثال على التمثيل البياني للدالة المرتبطة بالمعادلة	عدد الجذور وأنواعها	قيمة التمييز
	جذران حقيقيان نسبيا	$b^2 - 4ac > 0$ والعبارة $b^2 - 4ac$ مربع كامل.
	جذران حقيقيان غير نسبيا	$b^2 - 4ac > 0$ والعبارة $b^2 - 4ac$ ليست مربعاً كاملاً.
	جذر حقيقي مكرر مرتين	$b^2 - 4ac = 0$
	جذران مركبان مترافقان	$b^2 - 4ac < 0$

الجذور

تذكر أن حلول المعادلة تسمى جذوراً وهي قيم X التي يقطع عندها التمثيل البياني للدالة المرتبطة بالمعادلة المحور X .

مثال 5

وصف الجذور

أوجد قيمة التمييز لكل من المعادلتين التربيعيتين الآتيتين، وحدد عدد جذور كلٍّ منهما وأنواعها:

$$x^2 + 22x + 121 = 0 \quad (b)$$

$$a = 1, b = 22, c = 121$$

$$b^2 - 4ac = (22)^2 - 4(1)(121)$$

$$= 484 - 484$$

$$= 0$$

التمييز يساوي صفراً؛ لذا يوجد جذر حقيقي واحد مكرر مرتين.

$$7x^2 - 11x + 5 = 0 \quad (a)$$

$$a = 7, b = -11, c = 5$$

$$b^2 - 4ac = (-11)^2 - 4(7)(5)$$

$$= 121 - 140$$

$$= -19$$

التمييز سالب؛ لذا يوجد جذران مركبان مترافقان.

تحقق من فهمك



$$-7x + 15x^2 - 4 = 0 \quad (5B)$$

$$-5x^2 + 8x - 1 = 0 \quad (5A)$$

درست فيما سبق طرائق مختلفة لحل المعادلات التربيعية، والجدول أدناه يلخص تلك الطرائق.

حالات استعمالها	إمكانية استعمالها	الطريقة
عندما لا يطلب إيجاد الحل الدقيق، وأفضل استعمال لها عند التحقق من معقولية الحلول التي يتم إيجادها بالطرائق الجبرية.	أحياناً	التمثيل البياني
عندما يساوي الحد الثابت صفراً مثال: $x^2 - 7x = 0$ أو عندما يكون من السهل إيجاد العوامل. مثال: $x^2 - 5x + 6 = 0$	أحياناً	التحليل إلى العوامل
مع المعادلات المكتوبة على صورة مربع كامل يساوي ثابتاً. مثال: $(x - 5)^2 = 18$	أحياناً	خاصية الجذر التربيعي
مع المعادلات المكتوبة على الصورة: $x^2 + bx + c = 0$. مثال: $x^2 + 6x - 14 = 0$	دائماً	إكمال المربع
عندما لا يمكن استعمال بقية الطرائق أو عندما يكون من الصعب استعمالها. مثال: $2.3x^2 - 1.8x + 9.7 = 0$	دائماً	القانون العام

تأكد 

حلّ كل معادلة مما يأتي باستعمال القانون العام:

$$x^2 + 8x + 5 = 0 \quad (2)$$

$$9x^2 + 6x - 4 = 0 \quad (4)$$

$$22x = 12x^2 + 6 \quad (6)$$

$$x^2 + 3 = -6x + 8 \quad (8)$$

$$x^2 + 12x - 9 = 0 \quad (1)$$

$$4x^2 - 5x - 2 = 0 \quad (3)$$

$$10x^2 - 3 = 13x \quad (5)$$

$$-3x^2 + 4x = -8 \quad (7)$$

الأمثلة 1,4

أجب عن الفرعين a، b لكل معادلة تربيعية مما يأتي:

مثال 5

(a) أوجد قيمة المميز.

(b) أوجد عدد الجذور، وحدد أنواعها.

$$2x^2 - 6x + 9 = 0 \quad (10)$$

$$5x^2 + 2x + 4 = 0 \quad (12)$$

$$3x^2 + 8x + 2 = 0 \quad (9)$$

$$-16x^2 + 8x - 1 = 0 \quad (11)$$



تدرب وحل المسائل

حل كل معادلة مما يأتي باستعمال القانون العام:

$$4x^2 - 6 = -12x \quad (14)$$

$$x^2 + 45x = -200 \quad (13)$$

الأمثلة 1,4

$$12x^2 + 9x - 2 = -17 \quad (16)$$

$$5x^2 - 9 = 11x \quad (15)$$

أجب عن الفرعين a ، b لكل معادلة تربيعية مما يأتي:

(a) أوجد قيمة المميز.

مثال 5

(b) أوجد عدد الجذور، وحدد أنواعها.

$$2x^2 + 4x + 7 = 0 \quad (19)$$

$$3x^2 - 3x + 8 = 0 \quad (18)$$

$$2x^2 + 3x - 3 = 0 \quad (17)$$

$$x^2 + 2x - 4 = -9 \quad (22)$$

$$x^2 - 6x = -9 \quad (21)$$

$$-5x^2 + 4x + 1 = 0 \quad (20)$$

$$8x^2 = -2x + 1 \quad (25)$$

$$5x^2 + 8x = 0 \quad (24)$$

$$-6x^2 + 5 = -4x + 8 \quad (23)$$

$$0.6x^2 + 1.4x = 4.8 \quad (28)$$

$$0.8x^2 + 2.6x = -3.2 \quad (27)$$

$$4x - 3 = -12x^2 \quad (26)$$

عدد الإصابات لكل 100000	العام
92	2000
90	2002
85	2004
?	2010
?	2017

(29) **التدخين:** تبذل دول العالم جهودًا مكثفة للتوعية بأخطار التدخين، وقد أثمرت عن تناقص أعداد المدخنين. وفي إحدى البلدان أجريت دراسة حول الإصابات بمرض سرطان الرئة بين كل 100000 شخص في بعض الأعوام، وكانت نتائجها التقريبية كما في الجدول المجاور. ويمكن تمثيل العدد التقريبي للمصابين بالدالة $y = -0.26x^2 - 0.55x + 91.81$ ، حيث x عدد السنوات بعد عام 2000.

(a) احسب عدد المصابين بسرطان الرئة لكل 100000 شخص في عامي 2017, 2010.

(b) استعمل القانون العام لإيجاد قيمة x عندما $y = 50$.

(c) اعتمادًا على الدالة التربيعية، متى يصبح معدل الإصابة يساوي صفرًا؟ وهل هذا التوقع معقول؟ فسّر إجابتك.

(30) **نظرية الأعداد:** يعطى مجموع الأعداد الصحيحة المتتالية $1, 2, 3, \dots, n$ بالقانون

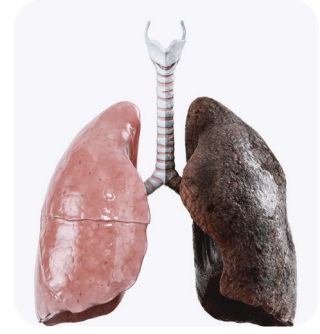
$$S = \frac{1}{2} n (n + 1)$$

فكم عددًا صحيحًا متتاليًا بدءًا بالعدد 1 مجموعها يساوي 666؟

(31) **ترفيه:** يُعطى ارتفاع لعبة ترفيهية عن سطح الأرض وهي تتحرك بسرعة تصل إلى 80 ft/s بالدالة:

$$h = -16t^2 - 64t + 60$$

حيث h الارتفاع بالأقدام، و t الزمن بالثواني. فإذا علمت أنها ترتفع مسافة 60 ft ، فما الزمن الذي يستغرقه هبوطها من ارتفاع 60 ft إلى 0 ft ؟



الربط مع الحياة

تأسس برنامج مكافحة التدخين التابع لوزارة الصحة في المملكة العربية السعودية في 1423/2/23هـ؛ لمكافحة التدخين بكافة أنواعه ووسائله. ويقدم خدماته في كافة المجالات التوعوية والعلمية والاستشارية المتعلقة بالتدخين وأضراره وطرق مكافحته في مدن ومحافظات المملكة.

المصدر: البوابة الإلكترونية لوزارة الصحة
www.moh.gov.sa/depts/TCP/Pages/About.aspx



مسائل مهارات التفكير العليا

(32) اكتشف الخطأ: حددت كل من هدى وندى عدد حلول للمعادلة $3x^2 - 5x = 7$. فمن منهما إجابتها صحيحة؟ وضح إجابتك.

ندى	هدى
$3x^2 - 5x = 7$	$3x^2 - 5x = 7$
$b^2 - 4ac = (-5)^2 - 4(3)(7)$	$3x^2 - 5x - 7 = 0$
$= -59$	$b^2 - 4ac = (-5)^2 - 4(3)(-7)$
وبما أن المميز سالب فلا توجد للمعادلة حلول حقيقية.	$= 109$
	وبما أن المميز موجب فالمعادلة حلان حقيقيان.

(33) تحد: حل المعادلة $4ix^2 - 4ix + 5i = 0$ باستعمال القانون العام.

(34) تبرير: حدد ما إذا كانت كل جملة مما يأتي صحيحة دائماً أو صحيحة أحياناً أو غير صحيحة أبداً. وضح إجابتك:

(a) إذا كانت إشارتا كل من المعاملين a, c في المعادلة التربيعية المكتوبة على الصورة القياسية مختلفتين، فإن جذري المعادلة حقيقيان.

(b) إذا كان مميز المعادلة التربيعية أكبر من 1، فإن لها جذرين حقيقيين غير نسبيين.

(35) اكتب: صف ثلاث طرائق مختلفة لحل المعادلة: $x^2 - 2x - 15 = 0$. وأيها تفضل؟ ولماذا؟

تدريب على اختبار

(37) قيمة المميز للمعادلة $x^2 - 8x = 0$ هي:

- A -64
- B -8
- C 8
- D 64

(36) أي المعادلات الآتية لها جذر حقيقي مكرر مرتين؟

- A $x^2 - 2x + 5 = 0$
- B $x^2 - 2x - 5 = 0$
- C $x^2 = 19$
- D $x^2 - 8x = -16$

مراجعة تراكمية

أوجد قيمة c التي تجعل كل ثلاثية حدود مما يأتي مربعاً كاملاً. ثم اكتبها على صورة مربع كامل: (مهارة سابقة)

$x^2 + \frac{4}{5}x + c$ (40)

$x^2 + 2.4x + c$ (39)

$x^2 + 13x + c$ (38)

بسّط كلاً مما يأتي: (الدرس 3-1)

$(4\sqrt{-9}) \cdot (2\sqrt{-25})$ (43)

$\sqrt{-16}$ (42)

i^{26} (41)



مجموع الجذرين وحاصل ضربهما

3-2

رابط الدرس الرقمي



www.ien.edu.sa

الهدف

أكتب المعادلة
التربيعية بمعرفة
مجموع جذريها
وحاصل ضربهما.

إذا علمت جذري معادلة تربيعية فإنه يمكنك كتابتها باستعمال مجموع جذريها وحاصل ضربهما.

للمعادلة التربيعية: $x^2 + 5x - 24 = 0$ جذران هما -8 , 3 ،
ومجموعهما -5 ، وحاصل ضربهما -24 .

مجموع الجذرين: $3 + (-8) = -5$ -5 هو النظير الجمعي لمعامل x

$$x^2 + 5x - 24 = 0$$

حاصل ضرب الجذرين: $3(-8) = -24$ -24 هو الحد الثابت

ويمكن تعميم ذلك لأية معادلة تربيعية باستعمال القانون العام لحل المعادلة التربيعية، فإذا كان جذرا المعادلة التربيعية r_1, r_2 فإن:

$$r_1 = \frac{-b + \sqrt{b^2 - 4ac}}{2a} \quad r_2 = \frac{-b - \sqrt{b^2 - 4ac}}{2a}$$

مجموع الجذرين

$$r_1 + r_2 = \frac{-b + \sqrt{b^2 - 4ac}}{2a} + \frac{-b - \sqrt{b^2 - 4ac}}{2a}$$

بسّط

$$= \frac{-2b + 0}{2a} = -\frac{b}{a}$$

مجموع الجذرين يساوي $-\frac{b}{a}$

حاصل ضرب الجذرين

$$r_1 \cdot r_2 = \frac{-b + \sqrt{b^2 - 4ac}}{2a} \cdot \frac{-b - \sqrt{b^2 - 4ac}}{2a}$$

اضرب

$$= \frac{b^2 - (b^2 - 4ac)}{4a^2}$$

الخاصية التوزيعية

$$= \frac{b^2 - b^2 + 4ac}{4a^2}$$

بسّط

$$= \frac{4ac}{4a^2} = \frac{c}{a}$$

حاصل ضرب الجذرين يساوي $\frac{c}{a}$

مما سبق يمكن التوصل للقانون الآتي الذي يستعمل لكتابة أية معادلة تربيعية علم جذراها.

أضف إلى

مطويتك

مفهوم أساسي

مجموع جذري معادلة وحاصل ضربهما

إذا كان r_1, r_2 جذري المعادلة $ax^2 + bx + c = 0$, $a \neq 0$

$$\text{فإن } r_1 + r_2 = -\frac{b}{a} \text{ , } r_1 \cdot r_2 = \frac{c}{a}$$

النشاط 1

استعمال مجموع جذرين وحاصل ضربيهما

اكتب المعادلة التربيعية التي جذراها -7 ، 2 .

الخطوة 1 : أوجد مجموع الجذرين:

$$\begin{aligned}r_1 + r_2 &= 2 + (-7) \\ &= -5\end{aligned}$$

الخطوة 2 : أوجد حاصل ضرب الجذرين:

$$\begin{aligned}r_1 \cdot r_2 &= 2(-7) \\ &= -14\end{aligned}$$

الخطوة 3 : اكتب المعادلة:

$$\text{بما أن } -14 = \frac{c}{a}, -5 = -\frac{b}{a}, \text{ فإذا كانت } a = 1 \text{ فإن: } c = -14, b = 5.$$

وبالتالي المعادلة: $x^2 + 5x - 14 = 0$ تحقق المطلوب.

النشاط 2

استعمال مجموع جذرين وحاصل ضربيهما

اكتب المعادلة التربيعية التي جذراها $-\frac{12}{5}$ ، $\frac{3}{4}$.

الخطوة 1 : أوجد مجموع الجذرين:

$$\begin{aligned}r_1 + r_2 &= \frac{3}{4} + \left(-\frac{12}{5}\right) \\ &= \frac{15}{20} - \frac{48}{20} = -\frac{33}{20}\end{aligned}$$

الخطوة 2 : أوجد حاصل ضرب الجذرين:

$$\begin{aligned}r_1 \cdot r_2 &= \frac{3}{4} \left(-\frac{12}{5}\right) \\ &= -\frac{36}{20}\end{aligned}$$

الخطوة 3 : اكتب المعادلة:

$$\text{بما أن } -\frac{36}{20} = \frac{c}{a}, -\frac{33}{20} = -\frac{b}{a}, \text{ فإذا كانت } a = 20 \text{ فإن: } c = -36, b = 33.$$

وبالتالي المعادلة: $20x^2 + 33x - 36 = 0$ تحقق المطلوب.

تمارين:

اكتب المعادلة التربيعية التي جذراها العدان المعطيان في كل مما يأتي:

$$(1) \quad -\frac{3}{4}, \frac{5}{8} \quad (2) \quad -7, \frac{2}{3} \quad (3) \quad \pm \frac{2}{5} \quad (4) \quad 4 \pm \sqrt{3}$$

$$(5) \quad 1 \pm \sqrt{6} \quad (6) \quad \frac{-2 \pm 3\sqrt{5}}{7} \quad (7) \quad 7 \pm 3i \quad (8) \quad \bar{5} \pm 8i$$

اكتب المعادلة التربيعية التي تحقق كلاً مما يأتي:

(9) مجموع جذريها 4 ، وحاصل ضربيهما $\frac{13}{12}$.

(10) مجموع جذريها $\frac{1}{6}$ ، وحاصل ضربيهما $\frac{5}{21}$.



العمليات على كثيرات الحدود

Operations with Polynomials

3-3

لماذا؟

يستغرق وصول ضوء الشمس إلى الأرض 8 دقائق تقريباً؛ إذ يسير الضوء بسرعة كبيرة تصل إلى 3×10^8 m/s تقريباً.

ما الوقت الذي سيستغرقه وصول الضوء إلينا من مجرة تبعد مسافة 2.367×10^{21} m تقريباً؟



ضرب وحيدات الحد وقسمتها تذكر أن وحيدة الحد هي: عدد، أو متغير، أو حاصل ضرب عدد في متغير واحد أو أكثر بأسس صحيحة غير سالبة، وتتكون من حد واحد فقط. والجدول الآتي يلخص خصائص الأسس التي تساعد على ضرب وقسمة وحيدات الحد وتبسيطها، حيث إن عملية **تبسيط** عبارات تتضمن قوى تعني إعادة كتابتها دون أقواس أو أسس سالبة.

فيما سبق:

درست إيجاد قيم القوى.
(مهارة سابقة)

والآن:

- أضرب وحيدات حد وعبارات تتضمن قوى، وأقسمها وأبسطها.
- أجمع كثيرات حدود، وأطرحها وأضربها.

المفردات:

التبسيط

simplifying

درجة كثيرة الحدود

Degree of a polynomial

مثال	التعريف	الخاصية
$3^2 \cdot 3^4 = 3^{2+4} = 3^6$ $p^2 \cdot p^9 = p^{2+9} = p^{11}$	$x^a \cdot x^b = x^{a+b}$	ضرب القوى
$\frac{9^5}{9^2} = 9^{5-2} = 9^3$ $\frac{b^6}{b^4} = b^{6-4} = b^2$	حيث $x \neq 0$ ، $\frac{x^a}{x^b} = x^{a-b}$	قسمة القوى
$3^{-5} = \frac{1}{3^5}$ $\frac{1}{b^{-7}} = b^7$	حيث $x \neq 0$ ، $x^{-a} = \frac{1}{x^a}$ ، $\frac{1}{x^{-a}} = x^a$	الأسس السالبة
$(3^3)^2 = 3^{3 \cdot 2} = 3^6$ $(d^2)^4 = d^{2 \cdot 4} = d^8$	$(x^a)^b = x^{ab}$	قوة القوة
$(2k)^4 = 2^4 k^4 = 16k^4$ $(ab)^3 = a^3 b^3$	$(xy)^a = x^a y^a$	قوة ناتج الضرب
$\left(\frac{x}{y}\right)^2 = \frac{x^2}{y^2}$ $\left(\frac{a}{b}\right)^{-5} = \frac{b^5}{a^5}$	$\left(\frac{x}{y}\right)^a = \frac{x^a}{y^a}$ ، $y \neq 0$ ، $\left(\frac{x}{y}\right)^{-a} = \left(\frac{y}{x}\right)^a = \frac{y^a}{x^a}$ ، $x \neq 0$ ، $y \neq 0$	قوة ناتج القسمة
$7^0 = 1$	$x^0 = 1$ ، $x \neq 0$	القوة الصفرية

عند تبسيط وحيدة الحد، تأكد من أنك قد كتبتها في أبسط صورة.

أضف إلى

مطوبتك

تبسيط وحيدات الحد

مفهوم أساسي

تكون وحيدة الحد في أبسط صورة عندما:

- لا تتضمن قوى قوة.
- يظهر كل أساس مرة واحدة.
- تكون جميع الكسور المتضمنة في أبسط صورة.
- لا تتضمن أقواساً أو أسساً سالبة.

تبسيط العبارات

مثال 1

بسّط كل عبارة فيما يأتي مفترضاً أن أيّاً من المتغيرات لا يساوي صفراً:

$$(2a^{-2})(3a^3b^2)(c^{-2}) \quad \text{(a)}$$

$$\text{اضرب 2 في 3، واضرب } a^{-2} \text{ في } a^3 \quad (2a^{-2})(3a^3b^2)(c^{-2}) = 6ab^2c^{-2}$$

$$\text{تعريف الأسس السالبة} \quad = 6ab^2 \left(\frac{1}{c^2}\right)$$

$$\text{بسّط} \quad = \frac{6ab^2}{c^2}$$

$$\frac{q^2r^4}{q^7r^3} \quad \text{(b)}$$

$$\text{قسمة القوى} \quad \frac{q^2r^4}{q^7r^3} = q^{2-7} \cdot r^{4-3}$$

$$\text{اطرح الأسس} \quad = q^{-5}r$$

$$\text{تعريف الأسس السالبة} \quad = \frac{r}{q^5}$$

$$\left(\frac{-2a^4}{b^2}\right)^3 \quad \text{(c)}$$

$$\text{قوة ناتج القسمة} \quad \left(\frac{-2a^4}{b^2}\right)^3 = \frac{(-2a^4)^3}{(b^2)^3}$$

$$\text{قوة ناتج الضرب} \quad = \frac{(-2)^3(a^4)^3}{(b^2)^3}$$

$$\text{قوة القوة} \quad = \frac{-8a^{12}}{b^6}$$

تحقق من فهمك

$$\frac{15c^5d^3}{-3c^2d^7} \quad \text{(1B)}$$

$$(-2x^3y^2)^5 \quad \text{(1D)}$$

$$(2x^{-3}y^3)(-7x^5y^{-6}) \quad \text{(1A)}$$

$$\left(\frac{a}{4}\right)^{-3} \quad \text{(1C)}$$

إرشادات للدراسة

تحقق

يمكنك التحقق من إجابتك دائماً باستعمال تعريف الأسس، فمثلاً:

$$\frac{q^2}{q^7} = \frac{q \cdot q}{q \cdot q \cdot q \cdot q \cdot q \cdot q \cdot q} = \frac{1}{q^5}$$



العمليات على كثيرات الحدود: درجة كثيرة الحدود المبسطة هي أكبر درجة لوحيدات الحد المكوّنة لها. فمثلاً درجة كثيرة الحدود $x^2 + 4x + 58$ هي 2.

إرشادات للدراسة

كثيرات الحدود

تذكّر أن كثيرة الحدود هي وحيدة حد أو مجموع وحيدات حد، وتُسمى كل وحيدة حد منها حداً في كثيرة الحدود. ودرجة وحيدة الحد هي مجموع أسس كل متغيراتها.

مثال 2 درجة كثيرة الحدود

حدد ما إذا كانت كل عبارة فيما يأتي كثيرة حدود أم لا، وإن كانت كذلك فاذكر درجتها:

$$(a) \frac{1}{4}x^4y^3 - 8x^5$$

تعدّ هذه العبارة كثيرة حدود؛ لأن كل حد فيها هو وحيدة حد؛ ودرجة الحد الأول فيها تساوي $4 + 3 = 7$ ، ودرجة الحد الثاني 5؛ لذا فإن درجة كثيرة الحدود 7.

$$(b) \sqrt{x} + x + 4$$

هذه العبارة ليست كثيرة حدود؛ لأن \sqrt{x} ليست وحيدة حد.

$$(c) x^{-3} + 2x^{-2} + 6$$

هذه العبارة ليست كثيرة حدود؛ لأن كلاً من x^{-3} ، x^{-2} ليست وحيدة حد؛ حيث $x^{-3} = \frac{1}{x^3}$ ، $x^{-2} = \frac{1}{x^2}$ ، ووحيدات الحد لا تتضمن متغيرات في المقام.

تحقق من فهمك

$$(2B) x^5y + 9x^4y^3 - 2xy$$

$$(2A) \frac{x}{y} + 3x^2$$

يمكنك إجراء العمليات المطلوبة على كثيرات الحدود وتبسيطها تماماً كما تبسط وحيدة الحد، ثم تجمع الحدود المتشابهة.

إرشادات للدراسة

طرائق بديلة

لاحظ أن المثال 3a يستعمل طريقة الجمع الأفقي. على حين يستعمل المثال 3b طريقة الجمع الرأسية، وكلتاها تؤدي إلى الإجابة الصحيحة.

مثال 3 جمع كثيرات الحدود وطرحها

أوجد ناتج كل مما يأتي، واكتبه في أبسط صورة:

$$(a) (4x^2 - 5x + 6) - (2x^2 + 3x - 1)$$

تخلّص من الأقواس وجمع الحدود المتشابهة.

$$\text{العبارة الأصلية} \quad (4x^2 - 5x + 6) - (2x^2 + 3x - 1)$$

$$\text{وزّع العدد -1} \quad = 4x^2 - 5x + 6 - 2x^2 - 3x + 1$$

$$\text{جمع الحدود المتشابهة} \quad = (4x^2 - 2x^2) + (-5x - 3x) + (6 + 1)$$

$$\text{اجمع الحدود المتشابهة} \quad = 2x^2 - 8x + 7$$

$$(b) (6x^2 - 7x + 8) + (-4x^2 + 9x - 5)$$

رتّب الحدود المتشابهة رأسياً، وأوجد ناتج الجمع.

$$6x^2 - 7x + 8$$

$$(+)\quad -4x^2 + 9x - 5$$

$$2x^2 + 2x + 3$$

تحقق من فهمك

$$(3B) (3x^2 - 6) + (-x + 1)$$

$$(3A) (-x^2 - 3x + 4) - (x^2 + 2x + 5)$$

يمكنك استعمال خاصية التوزيع لضرب كثيرات الحدود.

مثال 4 ضرب وحيدة حد في كثيرة حدود

أوجد ناتج: $3x(2x^2 - 4x + 6)$ ، واكتبه في أبسط صورة.

خاصية التوزيع $3x(2x^2 - 4x + 6) = 3x(2x^2) + 3x(-4x) + 3x(6)$

اضرب في وحيدة الحد $= 6x^3 - 12x^2 + 18x$

تحقق من فهمك

$-2a(-3a^2 - 11a + 20)$ (4B)

$\frac{4}{3}x^2(6x^2 + 9x - 12)$ (4A)

مثال 5 ضرب كثيرات الحدود

أوجد ناتج: $(n^2 + 4n - 6)(n + 2)$ ، واكتبه في أبسط صورة.

خاصية التوزيع $(n^2 + 4n - 6)(n + 2) = n^2(n + 2) + 4n(n + 2) + (-6)(n + 2)$

خاصية التوزيع $= n^2 \cdot n + n^2 \cdot 2 + 4n \cdot n + 4n \cdot 2 + (-6) \cdot n + (-6) \cdot 2$

اضرب وحيدات الحد $= n^3 + 2n^2 + 4n^2 + 8n - 6n - 12$

اجمع الحدود المتشابهة $= n^3 + 6n^2 + 2n - 12$

تحقق من فهمك

$(2x^2 - 4x + 5)(3x - 1)$ (5B)

$(x^2 + 4x + 16)(x - 4)$ (5A)

يمكنك استعمال كثيرات الحدود لتمثيل مواقف من واقع الحياة.

مثال 6 من واقع الحياة كتابة عبارة كثيرة حدود

قيادة: تتطلب أنظمة إحدى شركات النقل البري أن تكون مدة قيادة سائقي الشاحنات 10 ساعات يومياً، تتخللها فترة استراحة، فإذا قاد أحد سائقي الشركة شاحنته في فترة ما قبل الاستراحة بسرعة 90km/h، وبعد الاستراحة بسرعة 100km/h، فاكتب كثيرة حدود تمثل المسافة التي قطعها.

التعبير اللفظي قاد السائق سيارته بسرعة 90 km/h في فترة ما قبل الاستراحة، و 100 km/h في فترة ما بعد الاستراحة.

المتغير ليكن x عدد ساعات القيادة قبل الاستراحة.

العبارة $90x + 100(10 - x)$

خاصية التوزيع $90x + 100(10 - x) = 90x + 1000 - 100x$

اجمع الحدود المتشابهة $= 1000 - 10x$

فتكون كثيرة الحدود هي $1000 - 10x$

تحقق من فهمك

6 استثمار: استثمر فيصل مبلغ 90000 ريال في مشروعين أحدهما صناعي نسبة ربحه السنوي 18%،

والآخر مشروع عقاري نسبة ربحه السنوي 42%، فإذا كانت x تمثل المبلغ الذي استثمره فيصل في المشروع العقاري، فاكتب كثيرة حدود تمثل ربحه في المشروعين بعد عام واحد.

إرشادات للدراسة

قانون المسافة

تذكر أن:

المسافة = السرعة × الزمن



الربط مع الحياة

تعقد معظم الدول دورات تدريبية متخصصة واختبارات مشددة لقائدي الشاحنات للتأكد من مستوى تأهيلهم لقيادتها، وتوعيتهم بكيفية التعامل مع الطرق السريعة، بما يقلل المخاطر ويؤمن حركة السير.

مثال 1 بسّط كلاً مما يأتي مفترضاً أن أيّاً من المتغيرات لا يساوي صفراً:

$$(1) \quad (2a^3b^{-2})(-4a^2b^4) \quad (2) \quad \frac{12x^4y^2}{2xy^5} \quad (3) \quad \left(\frac{2a^2}{3b}\right)^3 \quad (4) \quad (6g^5h^{-4})^3$$

مثال 2 حدد ما إذا كانت كل عبارة فيما يأتي كثيرة حدود أم لا، وإن كانت كذلك فاذكر درجتها:

$$(5) \quad 3x + 4y \quad (6) \quad \frac{1}{2}x^2 - 7y \quad (7) \quad x^2 + \sqrt{x} \quad (8) \quad \frac{ab^3 - 1}{az^4 + 3}$$

الأمثلة 3, 4, 5 أوجد ناتج كل مما يأتي واكتبه في أبسط صورة:

$$(9) \quad (x^2 - 5x + 2) - (3x^2 + x - 1) \quad (10) \quad (3a + 4b) + (6a - 6b) \quad (11) \quad 3x^2(2xy - 3xy^2 + 4x^2y^3) \quad (12) \quad (n - 9)(n + 7)$$

مثال 6 **رياضة:** يمارس عثمان رياضتي الركض السريع ورفع الأثقال مدة 75 دقيقة يومياً. وعند ركضه يحرق 10 سعرات حرارية في الدقيقة، أما عندما يرفع الأثقال فيحرق 7.5 سعرات حرارية في الدقيقة. فإذا مارس رفع الأثقال x دقيقة في أحد الأيام، فاكتب كثيرة حدود تمثل عدد السعرات الحرارية التي حرقها في ممارسته للرياضتين ذلك اليوم.

تمارين ومسائل

مثال 1 بسّط كلاً مما يأتي مفترضاً أن أيّاً من المتغيرات لا يساوي صفراً:

$$(14) \quad (5x^3y^{-5})(4xy^3) \quad (15) \quad \frac{-y^3z^5}{y^2z^3} \quad (16) \quad \frac{-7x^5y^5z^4}{21x^7y^5z^2} \quad (17) \quad (n^5)^4$$

مثال 2 حدد ما إذا كانت كل عبارة فيما يأتي كثيرة حدود أم لا، وإن كانت كذلك فاذكر درجتها:

$$(18) \quad 2x^2 - 3x + 5 \quad (19) \quad a^3 - 11 \quad (20) \quad \frac{5np}{n^2} - \frac{2g}{h} \quad (21) \quad \sqrt{m - 7}$$

الأمثلة 3, 4, 5 أوجد ناتج كل مما يأتي، واكتبه في أبسط صورة:

$$(22) \quad (6a^2 + 5a + 10) - (4a^2 + 6a + 12) \quad (23) \quad 4x(2x^2 + y) \quad (24) \quad (x - y)(x^2 + 2xy + y^2) \quad (25) \quad (a + b)(a^3 - 3ab - b^2)$$

مثال 6 **مزرعة:** استأجر سلمان عاملين بالتناوب لتنسيق مزرعته، فإذا تقاضى الأول 200 ريال عن كل يوم عمل، وتقاضى الثاني 150 ريالاً عن كل يوم عمل، واحتاجت المزرعة إلى 15 يوم عمل لتنسيقها، فاكتب كثيرة حدود تمثل تكلفة تنسيق المزرعة إذا عمل الأول مدة x يوماً.

بسّط كلاً مما يأتي مفترضاً أن أيّاً من المتغيرات لا يساوي صفراً:

$$(27) \quad \left(\frac{8x^2y^3}{24x^3y^2}\right)^4 \quad (28) \quad \left(\frac{4x^{-2}y^3}{xy^{-4}}\right)^{-2} \quad (29) \quad (a^2b^3)(ab)^{-2}$$

$$(30) \quad (-3x^3y)^2(4xy^2) \quad (31) \quad \frac{3c^2d(2c^3d^5)}{15c^4d^2} \quad (32) \quad \frac{1}{4}g^2(8g + 12h - 16gh^2)$$



$$(33) \quad x^{-2}(x^4 - 3x^3 + x^{-1}) \quad (34) \quad a^{-3}b^2(ba^3 + b^{-1}a^2 + b^{-2}a)$$

$$(35) \quad (n^2 - 7)(2n^3 + 4) \quad (36) \quad (2x - 2y)^3$$



الربط مع الحياة

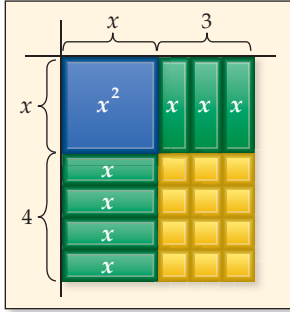
يصعب التنبؤ بالطقس على كوكب المريخ، نظراً إلى بيئته المتقلبة. ويبدو أن فيه أعماق واد، وأكبر بركان في المجموعة الشمسية.

37) فلك: ارجع إلى فقرة "لماذا" في بداية هذا الدرس.

(a) ما الوقت الذي يستغرقه الضوء حتى يصل من المجرة المذكورة إلى الأرض؟
(b) ما الوقت الذي يستغرقه الضوء حتى يصل من الشمس إلى المريخ إذا كانت المسافة بينهما $2.28 \times 10^{11}m$ ؟

38) إذا كان $5^k + 7 = 52^k - 3$ ، فما قيمة k ؟

39) ما قيمة k التي تجعل $q^{41} = q^{4k} \cdot q^5$ صحيحة؟



40) تمثيلات متعددة: استعمل النموذج المجاور الذي يمثل حاصل ضرب $x + 3$ في $x + 4$.

(a) هندسياً: مساحة المستطيل تساوي حاصل ضرب طوله في عرضه، أو جد حاصل ضرب $x + 3$ في $x + 4$ باستعمال النموذج.

(b) جبرياً: استعمل طريقة التوزيع بالترتيب لإيجاد حاصل ضرب $x + 3$ في $x + 4$.

(c) لفظياً: وضح كيف يمثل النموذج كل حد في حاصل الضرب.

مسائل مهارات التفكير العليا

41) برهان: وضح كيف يمكن برهنة خاصية الأسس السالبة باستعمال خاصيتي قسمة القوى والقوة الصفرية؟

42) تحد: ما الذي يحدث للمقدار x^{-y} عندما تزداد قيمة y لكل $y > 0, x > 1$ ؟

43) تبرير: فسّر لماذا تكون العبارة 0^{-2} غير معرفة؟

44) مسألة مفتوحة: اكتب ثلاث عبارات مختلفة مكافئة لـ x^{12} .

45) اكتب: وضح لماذا تُعد خصائص الأسس مهمة في الفلك؟ وضح توضيحك طريقة إيجاد الزمن اللازم لوصول الضوء من مصدر ما إلى أحد الكواكب.

تدريب على اختبار

47) أي مما يأتي ليس عاملاً لكثير الحدود $x^3 - x^2 - 2x$ ؟

A x C $x - 1$

B $x + 1$ D $x - 2$

46) إجابة قصيرة: بسّط المقدار $\frac{(2x^2)^3}{12x^4}$.

مراجعة تراكمية

حلّل كل كثيرة حدود فيما يأتي: (مهارة سابقة)

49) $x^2 + 2x + 6 + 3x$

48) $12ax^3 + 20bx^2 + 32cx$

51) $2my + 7x + 7m + 2xy$

50) $12y^2 + 9y + 8y + 6$

53) $10x^2 - 14xy - 15x + 21y$

52) $8ax - 6x - 12a + 9$





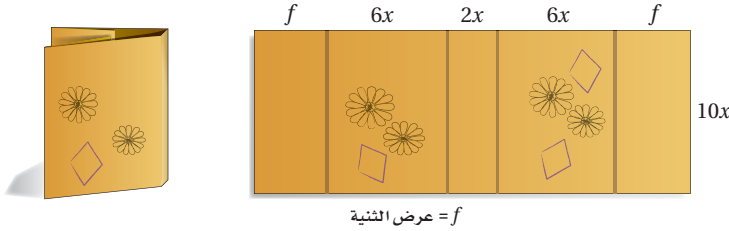
قسمة كثيرات الحدود

Dividing Polynomials

3-4

لماذا؟

تحتاج سلمى إلى $(140x^2 + 60x)$ بوصة مربعة من الورق لعمل غلاف لكتاب طوله $10x$ بوصات. ويظهر الشكل أدناه الجزء الذي تركته للثني على جانبي الغلاف. فإذا كان عرض كعب الغلاف $2x$ بوصة، وعرض كل من الغلاف الأمامي والخلفي $6x$ بوصة، فما عرض كل من جزأي الثني؟ يمكنك استعمال قسمة كثيرات الحدود لمساعدتك على إيجاد الجواب.



القسمة الطويلة: تعلمت في الدرس (3-3) قسمة وحيدات الحد، لذا يمكنك قسمة كثيرة حدود على وحيدة حد مستعملاً المهارات نفسها.

فيما سبق:

درست قسمة وحيدات الحد. (الدرس 3-3)

والآن:

- أقسم كثيرات الحدود مستعملاً القسمة الطويلة.
- أقسم كثيرات الحدود مستعملاً القسمة التركيبية.

المضردات:

القسمة التركيبية
Synthetic division

إرشادات للدراسة

خطوات خوارزمية قسمة كثيرة حدود على أخرى:

- اكتب كثيرة الحدود في كل من المقسوم والمقسوم عليه، بحيث تكون حدودها مرتبة ترتيباً تنازلياً حسب درجتها.
- ابدأ بقسمة الحد الأول في المقسوم على الحد الأول في المقسوم عليه، وضع الإجابة في المكان المخصص لذلك.
- اضرب ناتج القسمة في الخطوة السابقة في المقسوم عليه، وكتب الإجابة تحت المقسوم، واطرحه من المقسوم.
- استمر بقسمة الحد الثاني ... إلخ، حتى تصل إلى أن يكون باقي القسمة 0، أو كثيرة حدود درجتها أقل من درجة المقسوم عليه.

مثال 1 قسمة كثيرة حدود على وحيدة حد

$$\text{بسّط العبارة: } \frac{6x^4y^3 + 12x^3y^2 - 18x^2y}{3xy}$$

$$\begin{aligned} \text{اقسم كل حد في البسط على المقام} \quad \frac{6x^4y^3 + 12x^3y^2 - 18x^2y}{3xy} &= \frac{6x^4y^3}{3xy} + \frac{12x^3y^2}{3xy} - \frac{18x^2y}{3xy} \\ \text{اقسم} \quad &= \frac{6}{3} \cdot x^4 - 1y^3 - 1 + \frac{12}{3} \cdot x^3 - 1y^2 - 1 - \frac{18}{3} \cdot x^2 - 1y^1 - 1 \\ y^{1-1} = y^0 = 1 \quad &= 2x^3y^2 + 4x^2y - 6x \end{aligned}$$

تحقق من فهمك

$$(1A) \quad (20c^4d^2f - 16cdf^2 + 4cdf) \div (4cdf) \quad (1B) \quad (18x^2y + 27x^3y^2z)(3xy)^{-1}$$

يمكنك استعمال عملية مشابهة للقسمة الطويلة لقسمة كثيرة حدود على كثيرة حدود أخرى. وتسمى خطواتها خوارزمية القسمة.

مثال 2 قسمة كثيرة حدود على كثيرة حدود أخرى

استعمل القسمة الطويلة لإيجاد ناتج: $(x^2 + 3x - 40) \div (x - 5)$.

$$\begin{array}{r} x + 8 \\ x - 5 \overline{) x^2 + 3x - 40} \\ \underline{-(x^2 - 5x)} \\ 8x - 40 \\ \underline{-(8x - 40)} \\ 0 \end{array}$$

ناتج القسمة هو $x + 8$ ، والباقي 0.

تحقق من فهمك

$$(2B) \quad (x^2 - 13x + 12) \div (x - 1)$$

$$(2A) \quad (x^2 + 7x - 30) \div (x - 3)$$

قد ينتج باقٍ عن قسمة كثيرتي حدود كما في قسمة الأعداد الكلية، فمثلاً عند إيجاد $11 \div 3$ يكون الناتج 3 والباقي 2، وتكتب عادةً على الصورة $3 + \frac{2}{3}$. ويمكنك كتابة نتيجة قسمة كثيرتي حدود مع باقٍ بالطريقة نفسها.

مثال 3 على اختبار

أي مما يأتي يكافئ العبارة: $(a^2 + 7a - 11)(3 - a)^{-1}$ ؟

- A $a + 10 - \frac{19}{3 - a}$ B $-a + 10$
 C $-a - 10 + \frac{19}{3 - a}$ D $-a - 10 - \frac{19}{3 - a}$

اقرأ فقرة الاختبار

بما أن العامل الثاني مرفوع للأس -1 ، فهذه إذن مسألة قسمة.

$$(a^2 + 7a - 11)(3 - a)^{-1} = \frac{a^2 + 7a - 11}{3 - a}$$

حل فقرة الاختبار

$$\begin{array}{r} -a - 10 \\ -a + 3 \overline{) a^2 + 7a - 11} \\ \underline{(-) a^2 - 3a} \\ 10a - 11 \\ \underline{(-) 10a - 30} \\ 19 \end{array}$$

لتسهيل عملية القسمة، أعد كتابة $3 - a$ على الصورة $3 - a + 3$

$$-a(-a + 3) = a^2 - 3a$$

$$7a - (-3a) = 10a$$

$$-10(-a + 3) = 10a - 30$$

$$-11 - (-30) = 19$$

ناتج القسمة هو $-a - 10$ ، والباقي 19.

لذا فإن $(a^2 + 7a - 11)(3 - a)^{-1} = -a - 10 + \frac{19}{3 - a}$ ، ومن ثم تكون الإجابة هي البديل C.

تحقق من فهمك

3) أي مما يأتي يكافئ العبارة: $(r^2 + 5r + 7)(1 - r)^{-1}$ ؟

- A $-r - 6 + \frac{13}{1 - r}$ B $r + 6$
 C $r - 6 + \frac{13}{1 - r}$ D $r + 6 - \frac{13}{1 - r}$

القسمة التركيبية: القسمة التركيبية هي طريقة مبسطة لقسمة كثيرة حدود على ثنائية حد.

أضف إلى

طويبتك

القسمة التركيبية

مفهوم أساسي

- الخطوة 1:** اكتب معاملات المقسوم بعد ترتيب حدوده تنازلياً بحسب درجتها. تأكد من أن المقسوم عليه على الصورة $X - f$ ، ثم اكتب الثابت f في الصندوق، واطب المعامل الأول أسفل الخط الأفقي.
- الخطوة 2:** اضرب المعامل الأول في f ، واطب الناتج أسفل المعامل الذي يليه.
- الخطوة 3:** اجمع ناتج الضرب مع المعامل الذي فوقه.
- الخطوة 4:** كرر الخطوات 2، 3، على ناتج الجمع في الخطوة السابقة حتى تصل إلى ناتج جمع العددين في العمود الأخير. الأعداد في الصف الأخير تمثل معاملات ناتج القسمة، ودرجة الحد الأول أقل بواحد من درجة المقسوم، والعدد الأخير هو الباقي.

وزارة التعليم

Ministry of Education

2024 - 1446

ولإجراء القسمة التركيبية يجب أن يكون المقسوم عليه على الصورة $x - r$ ، وإذا كان معامل x في المقسوم عليه لا يساوي الواحد، فيجب إعادة كتابة عبارة القسمة بحيث يمكنك استعمال القسمة التركيبية.

مثال 5 معامل x في المقسوم عليه لا يساوي 1

استعمل القسمة التركيبية؛ لإيجاد ناتج: $(3x^4 - 5x^3 + x^2 + 7x) \div (3x + 1)$.

أعد كتابة العبارة ليكون معامل x في المقسوم عليه 1 وذلك بقسمة كل من البسط والمقام على 3.

$$\frac{3x^4 - 5x^3 + x^2 + 7x}{3x + 1} = \frac{(3x^4 - 5x^3 + x^2 + 7x) \div 3}{(3x + 1) \div 3}$$

$$= \frac{x^4 - \frac{5}{3}x^3 + \frac{1}{3}x^2 + \frac{7}{3}x}{x + \frac{1}{3}}$$

بسّط كلاً من البسط والمقام

وبما أن المقسوم لا يحتوي حدًا ثابتًا، فضع صفرًا مكانه.

$$x-r = x + \frac{1}{3}, r = -\frac{1}{3} \rightarrow \begin{array}{r|rrrrr} -\frac{1}{3} & 1 & -\frac{5}{3} & \frac{1}{3} & \frac{7}{3} & 0 \\ & & -\frac{1}{3} & \frac{2}{3} & -\frac{1}{3} & -\frac{2}{3} \\ \hline & 1 & -2 & 1 & 2 & -\frac{2}{3} \end{array}$$

وعليه فإن الناتج هو $x + \frac{1}{3} - \frac{2}{3(x + \frac{1}{3})}$ وأخيرًا بسّط الكسر

$$\frac{\frac{2}{3}}{x + \frac{1}{3}} = \frac{3 \times \frac{2}{3}}{3 \times (x + \frac{1}{3})}$$

$$= \frac{2}{3x + 1}$$

بسّط

وعليه يكون الناتج هو: $x^3 - 2x^2 + x + 2 - \frac{2}{3x + 1}$.

تحقق: أوجد ناتج القسمة مستعملًا القسمة الطويلة.

$$\begin{array}{r} x^3 - 2x^2 + x + 2 \\ 3x + 1 \overline{) 3x^4 - 5x^3 + x^2 + 7x} \\ \underline{(-) 3x^4 + x^3} \\ (-) -6x^3 + x^2 + 7x \\ \underline{(-) -6x^3 - 2x^2} \\ 3x^2 + 7x \\ \underline{(-) 3x^2 + x} \\ 6x \\ \underline{(-) 6x + 2} \\ -2 \end{array}$$

وعليه يكون الناتج هو $x^3 - 2x^2 + x + 2 - \frac{2}{3x + 1}$. ✓

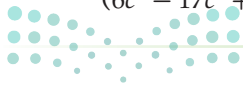
تحقق من فهمك ✓

(8y⁵ - 2y⁴ - 16y² + 4) ÷ (4y - 1) **(5B)**

(8x⁴ - 4x² + x + 4) ÷ (2x + 1) **(5A)**

(6c³ - 17c² + 6c + 8) ÷ (3c - 4) **(5D)**

(15b³ + 8b² - 21b + 6) ÷ (5b - 4) **(5C)**



مثال 1

بسّط كلّ عبارة فيما يأتي :
(1) $\frac{4xy^2 - 2xy + 2x^2y}{xy}$

(2) $(3a^2b - 6ab + 5ab^2)(ab)^{-1}$

المثالان 2, 4

استعمل القسمة الطويلة (خوارزمية القسمة) أو القسمة التركيبية؛ لإيجاد الناتج في كلّ ممّا يأتي:

(3) $(x^2 - 6x - 20) \div (x + 2)$ (4) $(2a^2 - 4a - 8) \div (a + 1)$

(5) $(3z^4 - 6z^3 - 9z^2 + 3z - 6) \div (z + 3)$ (6) $(y^5 - 3y^2 - 20) \div (y - 2)$

مثال 3

(7) اختيار من متعدد: أيّ مما يأتي يكافئ العبارة: $(x^2 + 3x - 9)(4 - x)^{-1}$ ؟

A $-x - 7 + \frac{19}{4 - x}$ B $-x - 7$ C $x + 7 - \frac{19}{4 - x}$ D $-x - 7 - \frac{19}{4 - x}$

مثال 5

استعمل القسمة التركيبية؛ لإيجاد الناتج في كلّ مما يأتي :

(8) $(10x^2 + 15x + 20) \div (5x + 5)$ (9) $(18a^2 + 6a + 9) \div (3a - 2)$

(10) $\frac{12b^2 + 23b + 15}{3b + 8}$ (11) $\frac{27y^2 + 27y - 30}{9y - 6}$

تدرب وحل المسائل

مثال 1

بسّط كلّ عبارة فيما يأتي :
(12) $\frac{24a^3b^2 - 16a^2b^3}{8ab}$

(14) $\frac{7g^3h^2 + 3g^2h - 2gh^3}{gh}$

(13) $\frac{5x^2y - 10xy + 15xy^2}{5xy}$

(17) $\frac{9n^3p^3 - 18n^2p^2 + 21n^2p^3}{3n^2p^2}$

(16) $\frac{16c^4d^4 - 24c^2d^2}{4c^2d^2}$

(15) $\frac{4a^3b - 6ab + 2ab^2}{2ab}$

المثالان 2, 4

استعمل القسمة الطويلة (خوارزمية القسمة) أو القسمة التركيبية؛ لإيجاد الناتج في كلّ ممّا يأتي:

(18) $(a^2 - 8a - 26) \div (a + 2)$ (19) $(b^3 - 4b^2 + b - 2) \div (b + 1)$

(20) $(z^4 - 3z^3 + 2z^2 - 4z + 4)(z - 1)^{-1}$ (21) $(x^5 - 4x^3 + 4x^2) \div (x - 4)$

(22) $\frac{y^3 + 11y^2 - 10y + 6}{y + 2}$ (23) $(g^4 - 3g^2 - 18) \div (g - 2)$

مثال 3

(24) أيّ مما يأتي يكافئ العبارة: $(x^2 + x - 6)(2 - x)^{-1}$ ؟

A $x + 3$ B $-x - 1$ C $-x + 1$ D $-x - 3$

مثال 5

استعمل القسمة التركيبية؛ لإيجاد الناتج في كلّ مما يأتي :

(25) $(6a^2 - 3a + 9) \div (3a - 2)$ (26) $\frac{6x^5 + 5x^4 + x^3 - 3x^2 + x}{3x + 1}$

(27) هندسة: صمّم صندوق على شكل متوازي مستطيلات بحيث ترتبط أبعاده بعلاقة معينة بدلالة المتغير x .

فإذا كان حجم الصندوق $6x^3 + 31x^2 + 53x + 30$ ، وارتفاعه $x + 2$ ، فما عرض قاعدته، وما طولها؟

(28) فيزياء: يرتبط فرق جهد التيار V بشدة التيار C ، والقوة P بالمعادلة $V = \frac{P}{C}$. فإذا عبّر عن القوة بالدالة

$P(t) = t^3 + 9t^2 + 26t + 24$ ، وشدة التيار بالمعادلة $C = t + 4$ ، فاكتب عبارة تمثل فرق الجهد V .

بسّط كلّ عبارة فيما يأتي:

(29) $(x^4 - y^4) \div (x - y)$ (30) $(28c^3d^2 - 21cd^2) \div (14cd)$ (31) $(a^3b^2 - a^2b + 2b)(-ab)^{-1}$

35 أعمال: يمكن تقدير عدد النسخ المبيعة من مجلة باستعمال المعادلة $n = \frac{3500a^2}{a^2 + 100}$ ؛ حيث a المبلغ الذي تنفقه المجلة على الإعلان بمئات الريالات، و n عدد النسخ المبيعة من المجلة.

(a) أجرِ عملية القسمة المعبر عنها بالمقدار: $\frac{3500a^2}{a^2 + 100}$

(b) كم نسخة يبعث من المجلة إذا أنفق على الدعاية والإعلان 6000 ريال؟

36 تمثيلات متعددة: افترض أن مساحة مستطيل هي $2x^2 + 7x + 3$ ، وطوله $2x + 1$.

(a) حسيًا: مثل الموقف باستعمال البطاقات الجبرية، ثم استعمالها لإيجاد عرض المستطيل.

(b) رمزيًا: اكتب عبارة جبرية تمثل إيجاد عرض المستطيل.

(c) جبريًا: حل المسألة جبريًا باستعمال القسمة التركيبية أو القسمة الطويلة، وهل يتفق الحل باستعمال البطاقات الجبرية مع الحل الجبري؟



الربط مع الحياة

فن الإعلان جزء من النشاط الترويجي المتعدد العناصر، ولكنه يتفوق من حيث إمكانية تحقيقه اتصالاً على نطاق واسع جداً في وقت محدود. ومع التطور التقني تطوّر تصميم وإخراج الدعاية والإعلانات. ومن أنواع الإعلانات: الإعلان المطبوع، الإعلان المباشر، الإعلان الخارجي، الإعلان المسموع/ المرئي، الإعلان التفاعلي.

مسائل مهارات التفكير العليا

37 اكتشف الخطأ: قسّم كلٌّ من خليفة وجمال $2x^3 - 4x^2 + 3x - 1$ على $x - 3$ ، فقال خليفة: إن الباقي 26، وقال جمال: إن الباقي -100. فأيهما إجابته صحيحة؟ فسّر إجابتك.

38 تحدّ: إذا قُسمت كثيرة حدود على ثنائية حد وكان الباقي 0، فما الذي تستنتج عن العلاقة بينهما؟

39 تبرير: راجع أحد أسئلة القسمة في هذا الدرس، وبيّن العلاقة بين درجة كل من: المقسوم، والمقسوم عليه، ونتج القسمة.

40 مسألة مفتوحة: اكتب عبارة تتضمن قسمة كثيرتي حدود، بحيث يكون الباقي 3.

41 حدد العبارة المختلفة عن العبارات الثلاث الأخرى، وفسّر إجابتك.

$$3xy + 6x^2$$

$$\frac{5}{x^2}$$

$$x + 5$$

$$5b + 11c - 9ad^2$$

42 اكتب: استعن بالمعلومات المعطاة في فقرة "لماذا؟" في بداية هذا الدرس، واكتب تعليمات متسلسلة لعمل غلاف لكتاب الرياضيات باستعمال قسمة كثيرات الحدود.

تدريب على اختبار

43 أيٌّ مما يأتي يكافئ العبارة:

$$(-4x^2 + 2x + 3) - 3(2x^2 - 5x + 1)$$

$$-10x^2 + 17x \quad \text{C} \quad 2x^2 \quad \text{A}$$

$$2x^2 + 17x \quad \text{D} \quad -10x^2 \quad \text{B}$$

44 أيُّ كثيرات الحدود الآتية درجتها 3؟

$$x^2 + x + 12^3 \quad \text{C} \quad x^3 + x^2 - 2x^4 \quad \text{A}$$

$$1 + x + x^3 \quad \text{D} \quad -2x^2 - 3x + 4 \quad \text{B}$$

مراجعة تراكمية

بسّط كلَّ عبارة فيما يأتي: (الدرس 3-3)

$$4a(2a - 3) + 3a(5a - 4) \quad \text{(45)}$$

$$(xy)^2(2xy^2z)^3 \quad \text{(46)}$$

$$(3ab^2)^{-2}(2a^2b)^2 \quad \text{(47)}$$

إذا كان $h(x) = -2x^2 - 2x + 4$ ، $f(x) = 4x + 3$ ، فأوجد قيمة كل مما يأتي: (الدرس 1-2)

$$h(2b + 1) \quad \text{(51)}$$

$$f(c) \quad \text{(50)}$$

$$h(3) \quad \text{(49)}$$

$$f(-6) \quad \text{(48)}$$

استعمل القسمة الطويلة (خوارزمية القسمة)؛ لإيجاد الناتج في كلِّ ممَّا يأتي:

$$(4r^3 - 8r^2 - 13r + 20) \div (2r - 5) \quad (13)$$

$$\frac{3x^3 - 16x^2 + 9x - 24}{x - 5} \quad (14)$$

استعمل القسمة التركيبية؛ لإيجاد الناتج في كلِّ ممَّا يأتي:

$$(4x^3 - 6x^2 + 6x - 3) \div (2x - 1) \quad (15)$$

$$(x^4 + 3x^3 - 2x^2 - 4x + 10) \div (x + 3) \quad (16)$$

استعمل القسمة الطويلة لإيجاد ناتج:

$$(x^2 + 2x - 24) \div (x - 4)$$

بسط كلًّا مما يأتي:

$$(15-3i)-(4-12i) \quad (2) \quad \sqrt{-81} \quad (1)$$

$$\frac{3-i}{2+5i} \quad (4) \quad i^{37} \quad (3)$$

حل كلًّا من المعادلتين الآتيتين:

$$x^2 - 8x - 9 = 0 \quad (5)$$

$$-4.8x^2 + 1.6x + 24 = 0 \quad (6)$$

بسط كلًّا مما يأتي مفترضًا أن أيًّا من المتغيرات لا يساوي صفرًا:

$$4t(3rt - r) \quad (8) \quad (3x^2y^{-3})(-2x^3y^5) \quad (7)$$

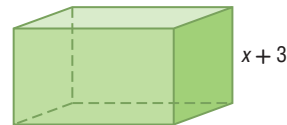
$$(p^2r^3 - pr^4) \cdot 2 \quad (10) \quad 3a^4b^3c - 6a^2b^5c^3 \quad (9)$$

$$(4m^2 - 6m + 5) - (6m^2 + 3m - 1) \quad (11)$$

اختيار من متعدد: إذا علمت أن حجم متوازي المستطيلات

في الشكل أدناه هو $6x^3 + 19x^2 + 2x - 3$ ، فأبني كثيرة حدود

فيما يأتي تمثل مساحة قاعدته؟



$$6x^4 + 37x^3 + 59x^2 + 3x - 9 \quad \text{A}$$

$$6x^2 + x + 1 \quad \text{B}$$

$$6x^2 + x - 1 \quad \text{C}$$

$$6x + 1 \quad \text{D}$$

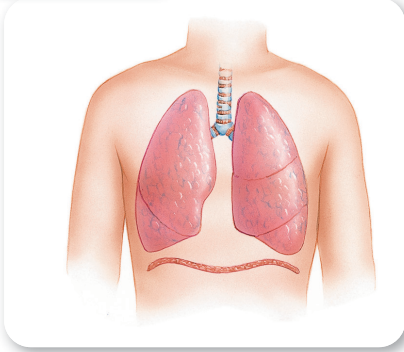


دوال كثيرات الحدود Polynomial Functions

رابط الدرس الرقمي



www.iem.edu.sa



لماذا؟

يمكن تمثيل حجم الهواء في رئتي الإنسان خلال دورة تنفس مدتها t ثانية بالدالة: $v(t) = -0.037t^3 + 0.152t^2 + 0.173t$ ، حيث v الحجم بالترتات، t الزمن بالثواني. وهذه الدالة مثال على دالة كثيرة حدود.

فيما سبق:

درست تحليل التمثيل البياني للدوال التربيعية. (مهارة سابقة)

والآن:

- أجد قيم دوال كثيرات الحدود.
- أتعرف الأشكال العامة للتمثيل البياني لدوال كثيرات الحدود، وأحدد عدد أصفارها الحقيقية.

المضردات:

كثيرة حدود بمتغير واحد
polynomial in one variable

المعامل الرئيس
leading coefficient

دالة كثيرة الحدود
polynomial function

دالة القوة
power function

سلوك طرفي التمثيل
البياني

end behavior

صفر الدالة

zero of a function

دوال كثيرات الحدود: كثيرة الحدود بمتغير واحد هي عبارة

جبرية على الصورة:

$a_n x^n + a_{n-1} x^{n-1} + \dots + a_2 x^2 + a_1 x + a_0$ ، حيث $a_0, a_1, a_2, \dots, a_{n-1}, a_n$ أعداد حقيقية، $a_n \neq 0$ ، n عدد صحيح غير سالب. وتكون كثيرة الحدود مكتوبة بالصيغة القياسية إذا كانت أسس المتغير في حدودها مرتبة ترتيباً تنازلياً، ودرجة كثيرة الحدود هي أس المتغير ذي أكبر أس فيها، ويُسمى معامل الحد الأول في كثيرة الحدود المكتوبة بالصيغة القياسية **المعامل الرئيس**.

المعامل الرئيس	الدرجة	مثال	كثيرة الحدود
12	0	12	الثابتة
4	1	$4x - 9$	الخطية
5	2	$5x^2 - 6x - 9$	التربيعية
8	3	$8x^3 + 12x^2 - 3x + 1$	التكعيبية
a_n	n	$a_n x^n + a_{n-1} x^{n-1} + \dots + a_1 x + a_0$	الصيغة العامة

مثال 1 درجة كثيرة الحدود ومعاملها الرئيس

حدد الدرجة والمعامل الرئيس لكل كثيرة حدود بمتغير واحد فيما يأتي، وإذا لم تكن كثيرة حدود بمتغير واحد، فاذكر السبب:

$$(a) \quad 8x^5 - 4x^3 + 2x^2 - x - 3$$

هذه كثيرة حدود بمتغير واحد، وأكبر أس للمتغير فيها 5، لذا درجتها 5، والمعامل الرئيس 8.

$$(b) \quad 12x^2 - 3xy + 8x$$

هذه ليست كثيرة حدود بمتغير واحد؛ فهناك متغيران هما x, y .

$$(c) \quad 3x^4 + 6x^3 - 4x^8 + 2x$$

هذه كثيرة حدود بمتغير واحد، وأكبر أس للمتغير فيها 8، لذا درجتها 8، والمعامل الرئيس -4.

تحقق من فهمك

$$(1A) \quad 5x^3 - 4x^2 - 8x + \frac{4}{x} \quad (1B) \quad 5x^6 - 3x^4 + 12x^3 - 14 \quad (1C) \quad 8x^4 - 2x^3 - x^6 + 3$$

دالة كثيرة الحدود هي دالة متصلة يمكن وصفها بمعادلة كثيرة حدود بمتغير واحد، فمثلاً $f(x) = 3x^3 - 4x + 6$ دالة كثيرة حدود تكعيبية. وتكتب أبسط دوال كثيرات الحدود على الصورة $f(x) = ax^b$ ، حيث a عدد حقيقي، b عدد صحيح غير سالب، وتسمى عندئذٍ **دوال القوة**.
إذا علمت عنصرًا في مجال دالة كثيرة حدود، تستطيع معرفة القيمة المقابلة له في المدى.



الرابط مع الحياة

تصل سعة الرئة لدى الشخص البالغ السليم إلى 6 لترات تقريبًا.

مثال 2 من واقع الحياة

التنفس: ارجع إلى الفقرة في بداية الدرس، وأوجد حجم الهواء في الرئتين خلال دورة تنفس مدتها ثانيان. بتعويض العدد 2 في الدالة نجد $v(2)$ ، وهو حجم الهواء في الرئتين خلال دورة تنفس مدتها ثانيين.

الدالة الأصلية	$v(t) = -0.037t^3 + 0.152t^2 + 0.173t$
عوض 2 بدلاً من t	$v(2) = -0.037(2)^3 + 0.152(2)^2 + 0.173(2)$
بسّط	$= -0.296 + 0.608 + 0.346$
اجمع	$= 0.658 \text{ L}$

تحقق من فهمك

(2) **تنفس:** أوجد حجم الهواء في الرئتين خلال دورة تنفس مدتها 4 ثوانٍ.

يمكنك إيجاد قيم الدوال عند متغيرات وعبارات جبرية.

مثال 3

قيمة دالة كثيرة الحدود عند متغير

إذا كانت $f(x) = x^2 + 2x - 3$ ، فأوجد: $f(3c - 4) - 5f(c)$.

لإيجاد قيمة $f(3c - 4)$ ، عوض $3c - 4$ بدلاً من x في الدالة $f(x)$

الدالة الأصلية	$f(x) = x^2 + 2x - 3$
عوض $3c - 4$ بدلاً من x	$f(3c - 4) = (3c - 4)^2 + 2(3c - 4) - 3$
اضرب	$= 9c^2 - 24c + 16 + 6c - 8 - 3$
بسّط	$= 9c^2 - 18c + 5$

لإيجاد قيمة $5f(c)$ ، عوض c بدلاً من x في الدالة $f(x)$ ، واضرب الناتج في العدد 5.

الدالة الأصلية	$f(x) = x^2 + 2x - 3$
عوض c بدلاً من x	$5f(c) = 5(c^2 + 2c - 3)$
خاصية التوزيع	$= 5c^2 + 10c - 15$

والآن أوجد قيمة $f(3c - 4) - 5f(c)$.

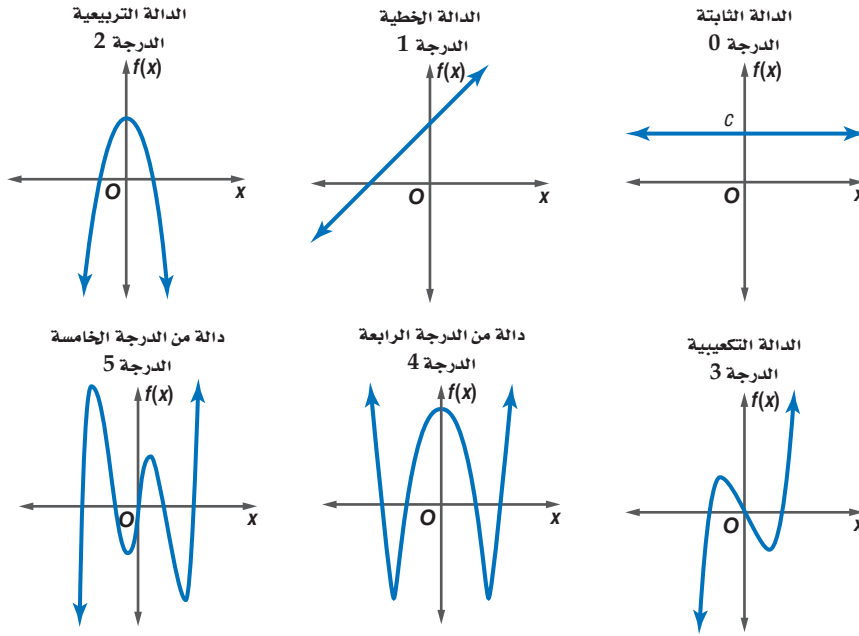
	$f(3c - 4) - 5f(c) = (9c^2 - 18c + 5) - (5c^2 + 10c - 15)$
خاصية التوزيع	$= 9c^2 - 18c + 5 - 5c^2 - 10c + 15$
بسّط	$= 4c^2 - 28c + 20$

تحقق من فهمك

(3A) إذا كانت $g(x) = x^2 - 5x + 8$ ، فأوجد $g(5a - 2) + 3g(2a)$.

(3B) إذا كانت $h(x) = 2x^2 + 5x + 3$ ، فأوجد $h(-4d + 3) - 0.5h(d)$.

التمثيل البياني لدوال كثيرات الحدود: إن التمثيل البياني لدالة كثيرة حدود يظهر عدد المرات التي قد يقطع فيها هذا التمثيل المحور x ، وهذا العدد يمثل درجة كثيرة الحدود.



مجال دالة كثيرة الحدود هو مجموعة الأعداد الحقيقية ويُحدد سلوك طرفي التمثيل البياني للدالة $f(x)$ عندما تقترب x من المالانهاية $(x \rightarrow +\infty)$ ، أو سالب المالانهاية $(x \rightarrow -\infty)$ بكل من: درجة دالة كثيرة الحدود والمعامل الرئيس لها.

قراءة الرياضيات

الرمزان $+\infty$, $-\infty$

نعبر عن التزايد غير المحدود لقيم المتغير x ، باستعمال الرمز $+\infty$ ويُقرأ ما لا نهاية ويكتب $x \rightarrow +\infty$ ، كما نعبر عن التناقص غير المحدود لقيم المتغير x ، باستعمال الرمز $-\infty$ ويُقرأ سالب ما لا نهاية ويكتب $x \rightarrow -\infty$.

أضف إلى

مطوبتك

سلوك طرفي التمثيل البياني لدالة كثيرة الحدود

مفهوم أساسي

الدرجة: فردية
المعامل الرئيس: موجب

المجال: مجموعة الأعداد الحقيقية
المدى: مجموعة الأعداد الحقيقية

سلوك طرفي التمثيل البياني: (في اتجاهين مختلفين)

عندما $x \rightarrow -\infty$ فإن $f(x) \rightarrow -\infty$
عندما $x \rightarrow +\infty$ فإن $f(x) \rightarrow +\infty$

الدرجة: زوجية
المعامل الرئيس: موجب

المجال: مجموعة الأعداد الحقيقية
المدى: مجموعة الأعداد الحقيقية الأكبر من أو التي تساوي القيمة الصغرى.

سلوك طرفي التمثيل البياني: (في الاتجاه نفسه)

عندما $x \rightarrow -\infty$ فإن $f(x) \rightarrow +\infty$
عندما $x \rightarrow +\infty$ فإن $f(x) \rightarrow +\infty$

الدرجة: فردية
المعامل الرئيس: سالب

المجال: مجموعة الأعداد الحقيقية
المدى: مجموعة الأعداد الحقيقية

سلوك طرفي التمثيل البياني: (في اتجاهين مختلفين)

عندما $x \rightarrow -\infty$ فإن $f(x) \rightarrow +\infty$
عندما $x \rightarrow +\infty$ فإن $f(x) \rightarrow -\infty$

الدرجة: زوجية
المعامل الرئيس: سالب

المجال: مجموعة الأعداد الحقيقية
المدى: مجموعة الأعداد الحقيقية الأقل من أو التي تساوي القيمة العظمى.

سلوك طرفي التمثيل البياني: (في الاتجاه نفسه)

عندما $x \rightarrow -\infty$ فإن $f(x) \rightarrow -\infty$
عندما $x \rightarrow +\infty$ فإن $f(x) \rightarrow -\infty$

إرشادات للدراسة

سلوك طرفي التمثيل البياني

المعامل الرئيس ودرجة كثيرة الحدود هما العاملان الوحيدان في تحديد سلوك طرفي التمثيل البياني.

صفر الدالة هو الإحداثي x لنقطة تقاطع التمثيل البياني للدالة مع المحور x ، لذا فإنه يمكن تحديد عدد الأصفار المنتمية لمجموعة الأعداد الحقيقية لمعادلة كثيرة الحدود من التمثيل البياني لدالة كثيرة الحدود المرتبطة بها. تذكّر أن مقاطع x تحدد هذه الأصفار؛ ولذا فإن عدد مرات تقاطع التمثيل البياني مع محور x يساوي عدد هذه الأصفار.

إرشادات للدراسة

الصفر المكرر

عندما يمس التمثيل البياني المحور x ، يكون للدالة صفران متساويان (صفر مكرر).

مفهوم أساسي

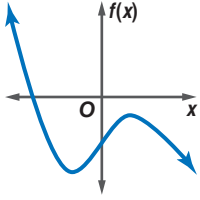
أصفار الدوال الضربية الدرجة والزوجية الدرجة

أضف إلى

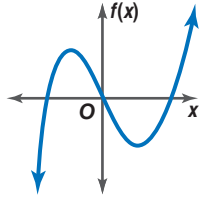
مطويتك

يكون للدوال الضربية الدرجة عدد فردي من الأصفار المنتمية لمجموعة الأعداد الحقيقية، ويكون للدوال الزوجية الدرجة عدد زوجي من الأصفار أو لا يكون لها أصفار تنتمي إلى مجموعة الأعداد الحقيقية.

كثيرتا حدود فرديتا الدرجة

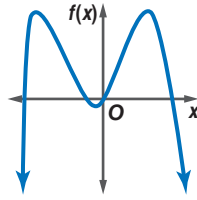


لها صفر واحد حقيقي

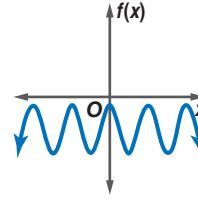


لها 3 أصفار حقيقية

كثيرتا حدود زوجيتا الدرجة



لها 4 أصفار حقيقية



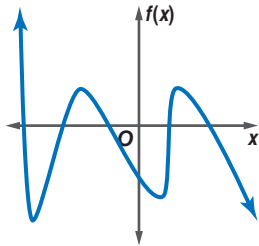
ليس لها أصفار حقيقية

وصف دالة كثيرة الحدود من تمثيلها البياني

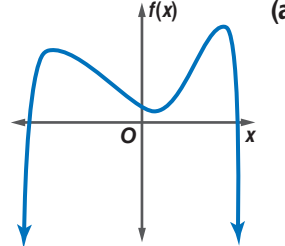
مثال 4

أجب عن الأسئلة الآتية لكل من التمثيلين البيانيين أدناه:

- صف سلوك طرفي التمثيل البياني.
- حدد ما إذا كانت درجة دالة كثيرة الحدود فردية أم زوجية.
- اذكر عدد الأصفار الحقيقية للدالة.



(b)
عندما $x \rightarrow -\infty$ $f(x) \rightarrow +\infty$
عندما $x \rightarrow +\infty$ $f(x) \rightarrow -\infty$

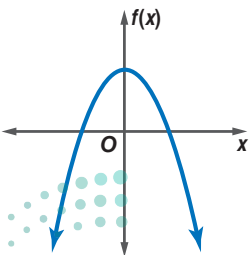


(a)
عندما $x \rightarrow -\infty$ $f(x) \rightarrow -\infty$
عندما $x \rightarrow +\infty$ $f(x) \rightarrow -\infty$

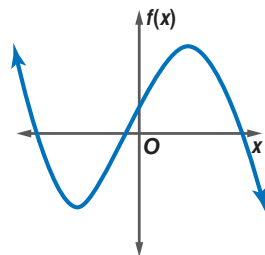
بما أن سلوك طرفي التمثيل البياني في اتجاهين مختلفين، فالدالة فردية الدرجة، وبما أن التمثيل البياني للدالة يقطع المحور x في 5 نقاط؛ لذا فللدالة 5 أصفار حقيقية.

بما أن سلوك طرفي التمثيل البياني في الاتجاه نفسه، فالدالة زوجية الدرجة، وبما أن التمثيل البياني للدالة يقطع المحور x في نقطتين؛ لذا فللدالة صفران حقيقيان.

تحقق من فهمك



(4B)



(4A)

مثال 1 حدد الدرجة والمعامل الرئيس لكل كثيرة حدود بمتغير واحد فيما يأتي، وإذا لم تكن كثيرة حدود بمتغير واحد فاذكر السبب:

$$11x^6 - 5x^5 + 4x^2 \quad (1) \quad -10x^7 - 5x^3 + 4x - 22 \quad (2)$$

$$14x^4 - 9x^3 + 3x - 4y \quad (3) \quad 8x^5 - 3x^2 + 4xy - 5 \quad (4)$$

مثال 2 أوجد $w(5)$, $w(-4)$ لكل من الدالتين الآتيتين:

$$w(x) = -2x^3 + 3x - 12 \quad (5) \quad w(x) = 2x^4 - 5x^3 + 3x^2 - 2x + 8 \quad (6)$$

مثال 3 إذا كانت $d(x) = 3x^2 + 6x - 10$, $c(x) = 4x^3 - 5x^2 + 2$, فأوجد كلاً مما يأتي:

$$c(y^3) \quad (7) \quad -4[d(3z)] \quad (8)$$

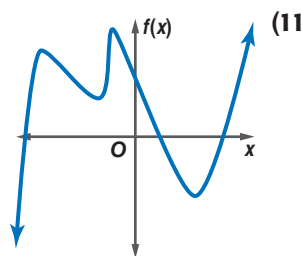
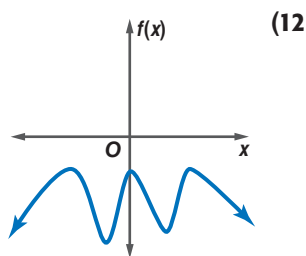
$$6c(4a) + 2d(3a - 5) \quad (9) \quad -3c(2b) + 6d(4b - 3) \quad (10)$$

مثال 4 أجب عن الفروع $a - c$ لكل من التمثيلين البيانيين أدناه:

(a) صف سلوك طرفي التمثيل البياني.

(b) حدد ما إذا كانت درجة دالة كثيرة الحدود فردية أم زوجية.

(c) اذكر عدد الأصفار الحقيقية للدالة.



تمارين ومسائل

مثال 1 حدد الدرجة والمعامل الرئيس لكل كثيرة حدود بمتغير واحد فيما يأتي، وإذا لم تكن كثيرة حدود بمتغير واحد فاذكر السبب:

$$-6x^6 - 4x^5 + 13xy \quad (13) \quad 3a^7 - 4a^4 + \frac{3}{a} \quad (14)$$

$$8x^5 - 12x^6 + 14x^3 - 9 \quad (15) \quad -12 - 8x^2 + 5x - 21x^7 \quad (16)$$

$$13b^3 - 9b + 3b^5 - 18 \quad (17) \quad (5 - 2y)(4 + 3y) \quad (18)$$

$$6x^5 - 5x^4 + 2x^9 - 3x^2 \quad (19) \quad 7x^4 + 3x^7 - 2x^8 + 7 \quad (20)$$

مثال 2 أوجد $p(3)$, $p(-6)$ لكل دالة مما يأتي:

$$p(x) = x^4 - 2x^2 + 3 \quad (21) \quad p(x) = x^4 - 4x^3 + 3x^2 - 5x + 24 \quad (22)$$

$$p(x) = -x^3 + 3x^2 - 5 \quad (23) \quad p(x) = 2x^4 + x^3 - 4x^2 \quad (24)$$

مثال 3 إذا كانت $d(x) = -x^3 + x + 1$, $c(x) = 2x^2 - 4x + 3$, فأوجد كلاً مما يأتي:

$$c(3a) \quad (25) \quad c(b^2) \quad (27) \quad 5d(2a) \quad (26)$$

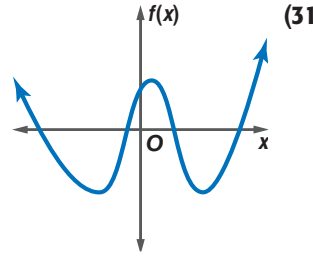
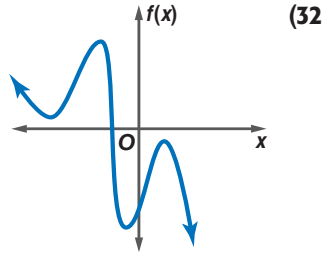
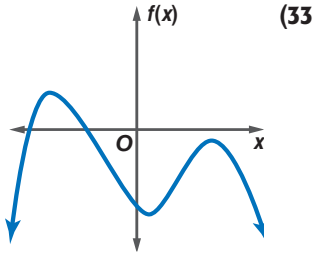
$$d(4a^2) \quad (28) \quad c(y^2 - 1) \quad (30) \quad d(4y - 3) \quad (29)$$



مثال 4

أجب عن الفروع من a-c لكل التمثيلات البيانية الآتية:

- (a) صف سلوك طرفي التمثيل البياني.
 (b) حدد ما إذا كانت درجة دالة كثيرة الحدود فردية أم زوجية.
 (c) اذكر عدد الأصفار الحقيقية للدالة.



(34) **فيزياء:** تعطى الطاقة الحركية KE بالجول لجسم متحرك كتلته m kg بالدالة $KE(v) = 0.5mv^2$ ، حيث تمثل v سرعة الجسم بالأمتار لكل ثانية. أوجد الطاقة الحركية لعربة كتلتها 171 kg تسير بسرعة $11m/s$.

أوجد $f(-2)$, $f(8)$ لكل دالة مما يأتي:

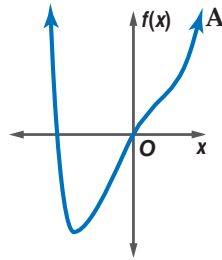
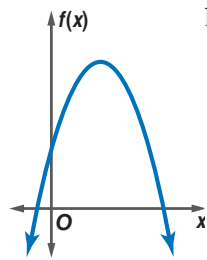
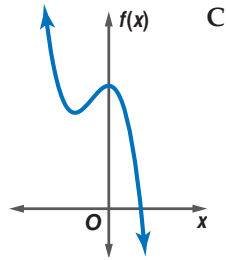
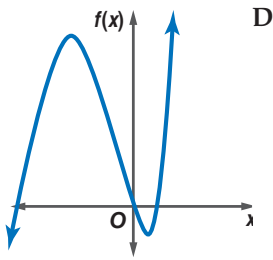
$$f(x) = \frac{1}{8}x^4 - \frac{3}{2}x^3 + 12x - 18 \quad (36)$$

$$f(x) = \frac{1}{4}x^4 + \frac{1}{2}x^3 - 4x^2 \quad (35)$$

$$f(x) = \frac{5}{8}x^3 - \frac{1}{2}x^2 + \frac{3}{4}x + 10 \quad (38)$$

$$f(x) = \frac{3}{4}x^4 - \frac{1}{8}x^2 + 6x \quad (37)$$

حدّد التمثيل البياني المناسب لكل دالة في الأسئلة (39-42) مستعملًا درجة كثيرة الحدود وسلوك طرفي التمثيل البياني لها.



$$f(x) = -2x^2 + 8x + 5 \quad (40)$$

$$f(x) = x^3 + 3x^2 - 4x \quad (39)$$

$$f(x) = -4x^3 - 4x^2 + 8 \quad (42)$$

$$f(x) = x^4 - 3x^2 + 6x \quad (41)$$

إذا كانت $c(x) = x^3 - 2x$, $d(x) = 4x^2 - 6x + 8$ فأوجد كلاً مما يأتي:

$$-2d(2a + 3) - 4c(a^2 + 1) \quad (44)$$

$$3c(a - 4) + 3d(a + 5) \quad (43)$$

$$-7d(a^3) + 6c(a^4 + 1) \quad (46)$$

$$5c(a^2) - 8d(6 - 3a) \quad (45)$$

(47) **ملايس:** تُمثّل أرباح مصنع للملابس بدالة كثيرة الحدود $w(x) = -x^4 + 40x^2 - 144$ ، حيث x عدد قطع الملابس المبيعة بالألوف، و $w(x)$ ربح المصنع بألوف الريالات.

- (a) أنشئ جدولاً لتمثيل الدالة بيانياً، ثم مثّلها (استعمل قيم x التالية: 7, 6, 4, 2, 0, -2, -3, -4, -6, -7).
 (b) أوجد أصفار الدالة.



(c) بين أي قيمتين يجب أن يبيع المصنع من قطع الملابس ليحقق ربحاً.

(d) وضح لماذا أخذ صفران فقط بعين الاعتبار في الفرع c.



الرابط مع الحياة

فن صناعة تصميم الملابس يعتمد على العلم والجمال، ويقوم على عدة عناصر تتكامل من حيث الخط والشكل واللون والنسيج، وتتناسق من حيث التصميم والابتكار ليحصل الفرد في النهاية على زي يُشعره بالتناسق، ويراعى مراحل ترتيب قياسية في مراحل إنتاج الملابس الجاهزة. وتنتج الملابس من الألياف الصناعية بجانب الألياف الطبيعية والمخلوطة ذات الطبيعة الخاصة.

48 تمثيلات متعددة: افترض أن $g(x) = (x-2)(x+1)(x-3)(x+4)$.

- (a) تحليلياً: حدد المقطع x والمقطع y والجذور، ودرجة الدالة $g(x)$ ، وصف سلوك طرفي تمثيلها البياني.
 (b) جبرياً: اكتب الدالة بالصيغة القياسية.
 (c) جدولياً: أنشئ جدولاً لتمثيل الدالة بيانياً، ثم مثلها.
 (d) بيانياً: مثل الدالة بيانياً بتعيين نقاط، والتوصيل بينها بمنحنى.

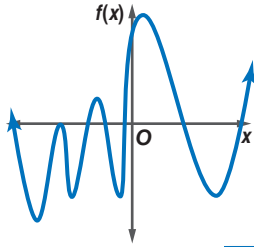
صف سلوك طرفي التمثيل البياني لكل دالة فيما يأتي:

$$h(x) = -4x^7 + 8x^6 - 4x \quad (51)$$

$$g(x) = 2x^5 + 6x^4 \quad (50)$$

$$f(x) = -5x^4 + 3x^2 \quad (49)$$

مسائل مهارات التفكير العليا



52 **اكتشف الخطأ:** حدّد كل من ماجد وبدر عدد أصفار التمثيل البياني المجاور. فأيهما إجابته صحيحة؟ فسّر إجابتك.

بدر	ماجد
يوجد 7 أصفار؛ لأن التمثيل البياني يقطع المحور x سبع مرات.	يوجد 8 أصفار؛ لأن التمثيل البياني يقطع المحور x 7 مرات، وأحد الجذور مكرر مرتين.

- 53 **تحّد:** إذا كانت $g(x)$ من عوامل $f(x)$ ، وكانت درجة $f(x)$ تساوي 5، ومعاملها الرئيس موجباً، وكانت درجة $g(x)$ تساوي 3 ومعاملها الرئيس موجباً، فصف سلوك طرفي التمثيل البياني للدالة $\frac{f(x)}{g(x)}$ ، وفسّر إجابتك.
 54 **مسألة مفتوحة:** مثل بيانياً كثيرة حدود زوجية الدرجة عدد جذورها 8، وأحدها مكرر مرتين.
 55 **اكتب:** صف المقصود بسلوك طرفي التمثيل البياني لدالة كثيرة حدود، وكيف يتم تحديده؟

تدريب على اختبار

57 إذا كان $i = \sqrt{-1}$ ، فإن $5i(7i)$ يساوي:

- 70 **A**
35 **B**
-35 **C**
-70 **D**

58 ما باقي قسمة: $5 - 7x + x^3$ على $x + 3$ ؟

- 11 **A**
1 **B**
-1 **C**
11 **D**

مراجعة تراكمية

بسّط كل عبارة مما يأتي: (الدرس 3-4)

$$\frac{18c^5d^2 - 3c^2d^2 + 12a^5c^3d^4}{3c^2d^2} \quad (60)$$

$$\frac{18ab^4c^5 - 30a^4b^3c^2 + 12a^5bc^3}{6abc^2} \quad (59)$$

$$\frac{16x^4y^3 + 32x^6y^5z^2}{8x^2y} \quad (58)$$

حدد ما إذا كانت كل عبارة مما يأتي كثيرة حدود أم لا، وإن كانت كذلك فاذكر درجتها: (الدرس 3-3)

$$3x^4 + 2x^2 - x^{-1} \quad (63)$$

$$9x^4 + 12x^6 - 16 \quad (62)$$

$$8x^2 + 5x^4 - 6x + 4 \quad (61)$$

حل كلاً من المعادلات الآتية مستعملاً القانون العام لحل المعادلة التربيعية: (الدرس 3-2)

$$x^2 - 13x + 12 = 0 \quad (66)$$

$$x + x^2 + 1 = 0 \quad (65)$$

$$x^2 - x - 3 = 0 \quad (64)$$

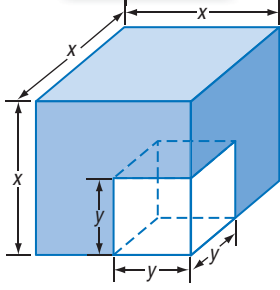
حل معادلات كثيرات الحدود

Solving Polynomial Equations

رابط الدرس الرقمي



www.ien.edu.sa



لماذا؟

قُطع مكعب صغير من آخر كبير كما في الشكل المجاور، وأُعطِيَ حجم الجزء المتبقي والعلاقة بين بعدي المكعبين، والمطلوب إيجاد أبعاد المكعبين الصغير والكبير. لاحظ أنه يمكن إيجادها بتحليل كثيرة الحدود التكعيبة $x^3 - y^3$.

تحليل كثيرات الحدود:

تعلمت سابقاً أنه يمكنك تحليل كثيرات الحدود التربيعية تمامًا كما تحلل الأعداد الكلية، ولكن عواملها ستكون كثيرات حدود أخرى، وكما هو الحال في كثيرات الحدود التربيعية يمكنك تحليل بعض كثيرات الحدود التكعيبة بقوانين خاصة.

فيما سبق:

درست حل معادلات تربيعية بالتحليل إلى العوامل.
(الدرس 2-3)

والآن:

- أحلل كثيرات الحدود.
- أحل معادلات كثيرات الحدود بالتحليل إلى العوامل.

المفردات:

كثيرة حدود أولية
prime polynomial
الصورة التربيعية
quadratic form

أضف إلى

مطويتك

مجموع مكعبين والفرق بينهما

مفهوم أساسي

الحالة العامة	طريقة التحليل
$a^3 + b^3 = (a + b)(a^2 - ab + b^2)$	مجموع مكعبين
$a^3 - b^3 = (a - b)(a^2 + ab + b^2)$	الفرق بين مكعبين

تُسمى كثيرة الحدود التي لا يمكن تحليلها إلى كثيرتي حدود درجة كل منهما أقل من درجة كثيرة الحدود المُعطاة **كثيرة حدود أولية**.

مجموع مكعبين والفرق بينهما

مثال 1

حلل كلاً من كثيرتي الحدود الآتيتين تحليلًا تامًا، وإذا لم يكن ذلك ممكنًا، فاكتب كثيرة حدود أولية:

$$16x^4 + 54xy^3 \quad \text{(a)}$$

أخرج العامل المشترك الأكبر

$$16x^4 + 54xy^3 = 2x(8x^3 + 27y^3)$$

كل من $8x^3$ و $27y^3$ مكعب كامل، لذا تستطيع استعمال طريقة مجموع مكعبين.

$$8x^3 = (2x)^3; 27y^3 = (3y)^3$$

$$8x^3 + 27y^3 = (2x)^3 + (3y)^3$$

مجموع مكعبين

$$= (2x + 3y)[(2x)^2 - (2x)(3y) + (3y)^2]$$

بسّط

$$= (2x + 3y)(4x^2 - 6xy + 9y^2)$$

اكتب العامل المشترك الأكبر

$$16x^4 + 54xy^3 = 2x(2x + 3y)(4x^2 - 6xy + 9y^2)$$

$$8y^3 + 5x^2 \quad \text{(b)}$$

الحد الأول مكعب كامل، لكن الحد الثاني ليس كذلك، لذا لا يمكن تحليل كثيرة الحدود باستعمال طريقة مجموع مكعبين، ولا يمكن تحليلها كذلك بطرائق تحليل كثيرات الحدود التربيعية، أو بإخراج العامل المشترك الأكبر؛ لذا فهي كثيرة حدود أولية.

تحقق من فهمك

$$-54w^4 - 250wz^3 \quad \text{(1B)}$$

$$5y^4 - 320yz^3 \quad \text{(1A)}$$

يلخص الجدول الآتي معظم الطرائق المستعملة لتحليل كثيرات الحدود، وعندما تريد تحليل كثيرة حدود ابحث أولاً عن العامل المشترك الأكبر، ثم حدد ما إذا كانت كثيرة الحدود الناتجة بعد إخراج العامل المشترك الأكبر قابلة للتحليل أم لا مستعملاً واحدة أو أكثر من الطرائق المذكورة في الجدول أدناه:

أضف إلى مطوبتك	ملخص المفهوم	طرائق التحليل
	عدد الحدود	طريقة التحليل
	أي عدد	إخراج العامل المشترك الأكبر
	حدان	الفرق بين مربعين مجموع مكعبين الفرق بين مكعبين
	ثلاثة حدود	ثلاثية حدود المربع الكامل
	أربعة حدود أو أكثر	تجميع الحدود
		ثلاثية الحدود بالصورة العامة
		نموذج
	$4a^3b^2 - 8ab = 4ab(a^2b - 2)$	
	$a^2 - b^2 = (a + b)(a - b)$ $a^3 + b^3 = (a + b)(a^2 - ab + b^2)$ $a^3 - b^3 = (a - b)(a^2 + ab + b^2)$	
	$a^2 + 2ab + b^2 = (a + b)^2$ $a^2 - 2ab + b^2 = (a - b)^2$	
	$acx^2 + (ad + bc)x + bd = (ax + b)(cx + d)$	
	$ax + bx + ay + by = x(a + b) + y(a + b) = (a + b)(x + y)$	

مثال 2

التحليل بتجميع الحدود

حلل كلاً من كثيرتي الحدود الآتيتين تحليلاً تاماً، وإذا لم يكن ذلك ممكناً، فاكتب كثيرة حدود أولية:

$$8ax + 4bx + 4cx + 6ay + 3by + 3cy \quad (a)$$

العبارة الأصلية
جمع لإخراج العامل المشترك الأكبر
أخرج العامل المشترك الأكبر لكل تجميع
خاصية التوزيع

$$\begin{aligned} &8ax + 4bx + 4cx + 6ay + 3by + 3cy \\ &= (8ax + 4bx + 4cx) + (6ay + 3by + 3cy) \\ &= 4x(2a + b + c) + 3y(2a + b + c) \\ &= (4x + 3y)(2a + b + c) \end{aligned}$$

$$20fy - 16fz + 15gy + 8hz - 10hy - 12gz \quad (b)$$

العبارة الأصلية
جمع لإخراج العامل المشترك الأكبر
أخرج العامل المشترك الأكبر لكل تجميع
خاصية التوزيع

$$\begin{aligned} &20fy - 16fz + 15gy + 8hz - 10hy - 12gz \\ &= (20fy + 15gy - 10hy) + (-16fz - 12gz + 8hz) \\ &= 5y(4f + 3g - 2h) - 4z(4f + 3g - 2h) \\ &= (5y - 4z)(4f + 3g - 2h) \end{aligned}$$

تحقق من فهمك

$$30ax - 24bx + 6cx - 5ay^2 + 4by^2 - cy^2 \quad (2A)$$

$$13ax + 18bz - 15by - 14az \quad (2B)$$

إرشادات للدراسة

التحقق من الإجابة:
للتحقق من صحة إجابتك، اضرب العوامل لتتحقق من صحة تحليل كثيرة الحدود.

تعد طريقة التحليل بتجميع الحدود هي الطريقة الأساسية لتحليل كثيرات الحدود المكونة من أربعة حدود أو أكثر، أما كثيرات الحدود المتضمنة حدين أو ثلاثة حدود فيمكنك تحليلها اعتماداً على إحدى الطرائق الموجودة في الجدول أعلاه.

إرشادات للدراسة

التحليل باستعمال

الفرق بين مكعبين:

في مثال 3a، إذا بدأت بالتحليل على اعتبار أن كثيرة الحدود المعطاة فرق بين مكعبين؛ فإنك تحصل على التحليل التالي:

$$(x^2 - y^2)(x^4 + x^2y^2 + y^4)$$

وهو تحليل غير تام ويصعب إتمامه.

إرشادات للدراسة

تجميع 6 حدود أو أكثر

جمّع الحدود التي بينها أكبر عدد من العوامل المشتركة.

مثال 3

التحليل باستعمال الفرق بين مربعين، ومجموع مكعبين، والفرق بين مكعبين

حلّ كلاً من كثيرتي الحدود الآتيتين، وإذا لم يكن ذلك ممكناً فاكتب كثيرة حدود أولية:

$$(a) \quad x^6 - y^6$$

يمكن اعتبار كثيرة الحدود هذه فرقاً بين مربعين أو فرقاً بين مكعبين، وفي مثل هذه الحالة يجب أن يتم التحليل أولاً على اعتبار أنها فرق بين مربعين قبل التحليل على اعتبار أنها فرق بين مكعبين؛ تسهياً للتحليل.

$$\text{الفرق بين مربعين} \quad x^6 - y^6 = (x^3 + y^3)(x^3 - y^3)$$

$$\text{مجموع مكعبين والفرق بين مكعبين} \quad = (x + y)(x^2 - xy + y^2)(x - y)(x^2 + xy + y^2)$$

$$(b) \quad a^3x^2 - 6a^3x + 9a^3 - b^3x^2 + 6b^3x - 9b^3$$

بما أن كثيرة الحدود هذه من 6 حدود، إذن حلل أولاً بتجميع الحدود.

$$a^3x^2 - 6a^3x + 9a^3 - b^3x^2 + 6b^3x - 9b^3$$

$$= (a^3x^2 - 6a^3x + 9a^3) + (-b^3x^2 + 6b^3x - 9b^3)$$

$$= a^3(x^2 - 6x + 9) - b^3(x^2 - 6x + 9)$$

$$= (a^3 - b^3)(x^2 - 6x + 9)$$

$$= (a - b)(a^2 + ab + b^2)(x^2 - 6x + 9)$$

$$= (a - b)(a^2 + ab + b^2)(x - 3)^2$$

تحقق من فهمك

$$(3A) \quad a^6 + b^6$$

$$(3B) \quad x^5 + 4x^4 + 4x^3 + x^2y^3 + 4xy^3 + 4y^3$$

جمّع لإخراج العامل المشترك الأكبر

أخرج العامل المشترك الأكبر لكل تجميع

خاصية التوزيع

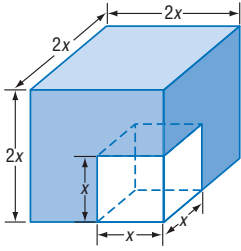
الفرق بين مكعبين

ثلاثية حدود المربع الكامل

حل معادلات كثيرات الحدود: يمكنك تطبيق طرائق حل المعادلات التربيعية في حل معادلات كثيرات الحدود ذات الدرجات الأعلى من الدرجة الثانية.

حل معادلات كثيرات الحدود بالتحليل

مثال 4 من واقع الحياة



هندسة: ارجع إلى فقرة لماذا في بداية هذا الدرس. إذا كان طول حرف المكعب الصغير يساوي نصف طول ضلع المكعب الكبير، وحجم الجزء المتبقي 7000cm^3 ، فما بُعدا المكعبين؟

بما أن طول حرف المكعب الصغير يساوي نصف طول ضلع المكعب الكبير فيمكن أن يعبر عن طول ضلع المكعب الصغير بـ x ، وطول ضلع المكعب الكبير بـ $2x$. لاحظ أن حجم الجزء المتبقي يساوي حجم المكعب الكبير مطروحاً منه حجم المكعب الصغير.

$$(2x)^3 - x^3 = 7000$$

$$8x^3 - x^3 = 7000$$

$$7x^3 = 7000$$

$$x^3 = 1000$$

$$x^3 - 1000 = 0$$

$$(x - 10)(x^2 + 10x + 100) = 0$$

$$x^2 + 10x + 100 = 0 \quad \text{أو} \quad x - 10 = 0$$

$$x = -5 \pm 5i\sqrt{3} \quad x = 10$$

وبما أن العدد 10 هو الحل الحقيقي الوحيد. فإن طولي ضلعي المكعبين هما 10cm, 20cm.

حجم الجزء المتبقي

$$8x^3 = (2x)^3$$

بالطرح

اقسم على 7 للطرفين

اطرح 1000 من كلا الطرفين

فرق بين مكعبين

خاصية الضرب الصفري

تحقق من فهمك

(4) هندسة: إذا كان طول حرف المكعب الصغير ثلث طول ضلع المكعب الكبير، وحجم الجزء المتبقي 3250cm^3 ، فأوجد بُعدي المكعبين.

تستطيع أحياناً أن تكتب كثيرة حدود فيها المتغير x على الصورة $au^2 + bu + c$ ، فمثلاً بفرض أن $u = x^2$ ، يمكنك كتابة كثيرة الحدود $x^4 + 12x^2 + 32$ على الصورة $(x^2)^2 + 12(x^2) + 32$ أو $u^2 + 12u + 32$. وكثيرة الحدود الجديدة هذه تكافئ كثيرة الحدود الأصلية، ولكنها مكتوبة على **الصورة التربيعية**.

مفهوم أساسي **الصورة التربيعية**

أضف الى **مطوبتك**

التعبير اللفظي: الصورة التربيعية لكثيرة الحدود هي: $au^2 + bu + c$ ، $a \neq 0$ ، a, b, c أعداد حقيقية، ويمكن أن نكتب بعض كثيرات الحدود في المتغير x على هذه الصورة، وذلك بعد تعريف u بدلالة x .

مثال: $12x^6 + 8x^3 + 1 = 3(2x^3)^2 + 4(2x^3) + 1$

مثال 5 **كتابة عبارات في الصورة التربيعية**

اكتب كلاً من العبارتين الآتيتين في الصورة التربيعية إن أمكن ذلك:

(a) $150n^8 + 40n^4 - 15$

ابحث عن عاملين للعدد 150؛ أحدهما مربع كامل، وعن عاملين للعدد 40؛ أحدهما الجذر التربيعي لأحد عاملي العدد 150.

$$150n^8 + 40n^4 - 15 = 6 \times 25n^8 + 8 \times 5n^4 - 15 = 6(5n^4)^2 + 8(5n^4) - 15$$

(b) $y^8 + 12y^3 + 8$

لا يمكن كتابتها على الصورة التربيعية؛ لأن $(y^3)^2 \neq y^8$.

تحقق من فهمك ✓

(5A) $x^4 + 5x + 6$ (5B) $8x^4 + 12x^2 + 18$

إرشادات للدراسة

الصورة التربيعية

لكتابة كثيرة حدود على الصورة التربيعية، اختر العبارة المكافئة لـ u بالنظر إلى الحدود التي تحوي متغيرات، واهتم خصوصاً بأسس المتغير الأصلي في تلك الحدود. فهناك كثيرات حدود لا يمكن كتابتها على الصورة التربيعية.

يمكنك في بعض الأحيان استعمال الصورة التربيعية لحل معادلات كثيرات الحدود ذات درجات أكبر من الدرجة الثانية.

مثال 6 **حل معادلات كثيرات الحدود باستعمال الصورة التربيعية**

حل المعادلة: $18x^4 - 21x^2 + 3 = 0$

المعادلة الأصلية $18x^4 - 21x^2 + 3 = 0$

$18x^4 = 2(3x^2)^2$ $2(3x^2)^2 - 7(3x^2) + 3 = 0$

افرض أن $u = 3x^2$ $2u^2 - 7u + 3 = 0$

حلل إلى العوامل $(2u - 1)(u - 3) = 0$

خاصية الضرب الصفري $u = 3$ أو $u = \frac{1}{2}$

عوّض $3x^2$ بدلاً من u $3x^2 = 3$ $3x^2 = \frac{1}{2}$

اقسم على 3 $x^2 = 1$ $x^2 = \frac{1}{6}$

أوجد الجذر التربيعي $x = \pm 1$ $x = \pm \frac{\sqrt{6}}{6}$

حلول المعادلة هي: $1, -1, \frac{\sqrt{6}}{6}, -\frac{\sqrt{6}}{6}$.

تحقق من فهمك ✓


(6A) $4x^4 - 8x^2 + 3 = 0$ (6B) $8x^4 + 10x^2 - 12 = 0$

حلّل كلّ كثيرة حدود مما يأتي تحليلاً تاماً. وإذا لم يكن ذلك ممكناً، فاكتب كثيرة حدود أولية: **الأمثلة 1-3**

$$16g^3 + 2h^3 \quad (2) \quad 3ax + 2ay - az + 3bx \quad (1)$$

$$a^6x^2 - b^6x^2 \quad (4) \quad 12qw^3 - 12q^4 \quad (3)$$

$$8c^3 - 125d^3 \quad (6) \quad x^3y^2 - 8x^3y + 16x^3 + y^5 - 8y^4 + 16y^3 \quad (5)$$



مثال 4 (7) **إنشاءات:** صنع أنس ممراً خشبياً عرضه x ft حول بركة مستطيلة الشكل. فإذا كان طول البركة 40ft وعرضها 30ft، ومساحتها مع الممر $2000ft^2$ ، فما عرض الممر الخشبي؟

مثال 5 اكتب كلاً من العبارتين الآتيتين على الصورة التربيعية إن كان ذلك ممكناً:

$$25y^6 - 5y^2 + 20 \quad (9) \quad 4x^6 - 2x^3 + 8 \quad (8)$$

مثال 6 حل كلاً من المعادلتين الآتيتين:

$$y^4 - 18y^2 + 72 = 0 \quad (11) \quad x^4 - 6x^2 + 8 = 0 \quad (10)$$

تدرب وحل المسائل

حلّل كلّ كثيرة حدود مما يأتي تحليلاً تاماً. وإذا لم يكن ذلك ممكناً، فاكتب كثيرة حدود أولية: **الأمثلة 1-3**

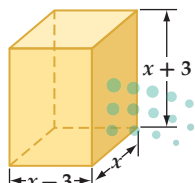
$$a^8 - a^2b^6 \quad (14) \quad 64x^4 + xy^3 \quad (13) \quad 8c^3 - 27d^3 \quad (12)$$

$$gx^2 - 3hx^2 - 6fy^2 - gy^2 + 6fx^2 + 3hy^2 \quad (16) \quad x^6y^3 + y^9 \quad (15)$$

$$18x^6 + 5y^6 \quad (17)$$

$$8x^5 - 25y^3 + 80x^4 - x^2y^3 + 200x^3 - 10xy^3 \quad (18)$$

$$12ax^2 - 20cy^2 - 18bx^2 - 10ay^2 + 15by^2 + 24cx^2 \quad (19)$$



مثال 4 (20) **هندسة:** إذا كان حجم المجسم المجاور يساوي $55x \text{ cm}^3$ حيث $x > 0$ ، فأوجد كلاً من قيمة x ، وطول قاعدته وعرضها، وارتفاعه.

مثال 5

اكتب كل عبارة مما يأتي على الصورة التربيعية إن كان ذلك ممكناً:

$$8x^6 + 6x^3 + 7 \quad (23) \quad -15x^4 + 18x^2 - 4 \quad (22) \quad x^4 + 12x^2 - 8 \quad (21)$$

$$16x^{10} + 2x^5 \quad (26) \quad 9x^8 - 21x^4 + 12 \quad (25) \quad 5x^6 - 2x^2 + 8 \quad (24)$$

مثال 6

حل كل معادلة مما يأتي:

$$4x^4 - 14x^2 + 12 = 0 \quad (29) \quad x^4 - 3x^2 - 10 = 0 \quad (28) \quad x^4 + 6x^2 + 5 = 0 \quad (27)$$

$$24x^4 + 14x^2 - 3 = 0 \quad (32) \quad 4x^4 - 5x^2 - 6 = 0 \quad (31) \quad 9x^4 - 27x^2 + 20 = 0 \quad (30)$$

حل كل كثيرة حدود مما يأتي تحليلًا تامًا، وإن لم يكن ذلك ممكناً، فاكتب كثيرة حدود أولية:

$$8x^5y^2 - 27x^2y^5 \quad (36) \quad x^5 - 16x \quad (35) \quad x^6 - 64 \quad (34) \quad x^4 - 625 \quad (33)$$

$$15ax - 10bx + 5cx + 12ay - 8by + 4cy + 15az - 10bz + 5cz \quad (37)$$

$$6a^2x^2 - 24b^2x^2 + 18c^2x^2 - 5a^2y^3 + 20b^2y^3 - 15c^2y^3 + 2a^2z^2 - 8b^2z^2 + 6c^2z^2 \quad (38)$$

$$6x^5 - 11x^4 - 10x^3 - 54x^3 + 99x^2 + 90x \quad (39)$$

$$20x^6 - 7x^5 - 6x^4 - 500x^4 + 175x^3 + 150x^2 \quad (40)$$

حل كل معادلة مما يأتي:

$$x^4 - 7x^2 - 44 = 0 \quad (43) \quad x^4 - 16x^2 - 720 = 0 \quad (42) \quad x^4 + x^2 - 90 = 0 \quad (41)$$

$$64x^3 + 1 = 0 \quad (46) \quad x^3 + 216 = 0 \quad (45) \quad x^4 + 6x^2 - 91 = 0 \quad (44)$$

حل كل معادلة مما يأتي:

$$6x^4 - 5x^2 - 4 = 0 \quad (48) \quad 8x^4 + 10x^2 - 3 = 0 \quad (47)$$

$$18x^4 + 43x^2 - 5 = 0 \quad (50) \quad 20x^4 - 53x^2 + 18 = 0 \quad (49)$$

$$3x^4 - 22x^2 - 45 = 0 \quad (52) \quad 8x^4 - 18x^2 + 4 = 0 \quad (51)$$

$$4x^4 - 4x^2 - x^2 + 1 = 0 \quad (54) \quad x^6 - 26x^3 - 27 = 0 \quad (53)$$

$$x^4 + 8x^2 + 15 = 0 \quad (56) \quad x^6 - 9x^4 - x^2 + 9 = 0 \quad (55)$$

57 هندسة: منشور متوازي مستطيلات أبعاده $x - 2$, $x - 4$, $x - 6$ ، وحجمه $40x$ وحدة مكعبة.

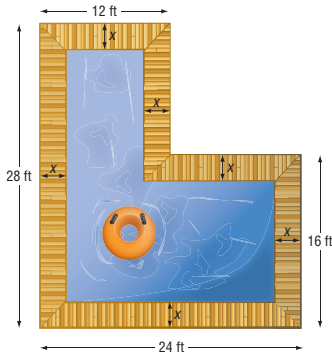
(a) اكتب معادلة كثيرة حدود تمثل حجم المنشور.

(b) حل المعادلة باستعمال التحليل إلى العوامل.

(c) هل هناك قيم غير مقبولة للمتغير x عند حل المعادلة؟ وضح إجابتك.

(d) ما أبعاد المنشور؟





58 تصميم: يريد سليمان أن يبني بركة سباحة وفق التصميم المجاور،

حيث يحيط بها ممر خشبي بعرض ثابت.

(a) إذا كانت مساحة سطح البركة فقط 336ft^2 ، فما قيمة x ؟

(b) إذا أصبحت قيمة x مثلها وذلك بتقليل مساحة سطح البركة، فما

المساحة الجديدة لسطح البركة؟

(c) إذا نصفت قيمة x بزيادة مساحة سطح البركة،

فما مساحة سطح البركة فقط عندئذٍ؟

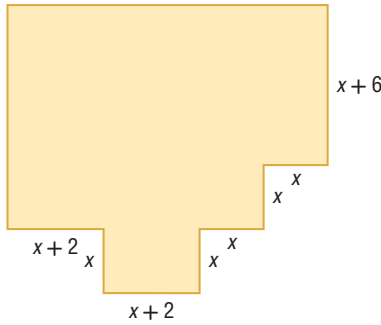
59 أحياء: قدّر حسام عدد الفيروسات في إحدى التجارب بالدالة:

حسام أن يحدد الزمن الذي يصبح فيه عدد الفيروسات 8000 فيروس. $P(t) = -0.012t^3 - 0.24t^2 + 6.3t + 8000$ ، حيث t الزمن بالساعات، $P(t)$ عدد الفيروسات. فإذا أراد

(a) فأوجد قيمة t باستعمال التحليل إلى العوامل.

(b) كيف أجريت عملية التحليل إلى العوامل؟

(c) ما قيم t المقبولة؟ وما القيم غير المقبولة؟ وضح إجابتك.



60 تصميم المباني: يمثل الشكل المجاور مخطط شقة سكنية.

(a) اكتب دالة بدلالة المتغير x تمثل مساحة الشقة.

(b) إذا كانت مساحة الشقة 1366ft^2 ، فما قيمة x ؟

حلّ كلّ كثيرة حدود فيما يأتي تحليلاً تاماً. وإن لم يكن ذلك ممكناً فاكتب كثيرة حدود أولية:

$$x^6 - 4x^4 - 8x^4 + 32x^2 + 16x^2 - 64 \quad (61) \quad y^9 - y^6 - 2y^6 + 2y^3 + y^3 - 1 \quad (62)$$

$$x^6 - 3x^4y^2 + 3x^2y^4 - y^6 \quad (63)$$

64 حدائق: حديقة مستطيلة الشكل بُعدها 32ft و 40ft، تم توسعتها لتصبح مساحتها 4.5 أمثال مساحتها الأصلية بزيادة كل من طولها وعرضها

بالمقدار نفسه.

(a) ارسم شكلاً يمثل الموقف.

(b) اكتب معادلة كثيرة حدود تمثل المساحة الجديدة، وحلها بالتحليل إلى العوامل.

(c) مثلّ الدالة بيانياً. (d) ما الحل غير المقبول؟ وضح إجابتك.



مسائل مهارات التفكير العليا

(65) **تحديد:** حلّ المقدار $36x^{2n} + 12x^n + 1$ إلى عوامله.

(66) **تبرير:** أعط مثلاً مضاداً للعلاقة: $a^2 + b^2 = (a + b)^2$.

(67) **مسألة مفتوحة:** إذا كانت الصورة التكميلية لمعادلة هي: $ax^3 + bx^2 + cx + d = 0$ ، فاكتب معادلة من الدرجة السادسة يمكن كتابتها على الصورة التكميلية.

(68) **اكتب:** وضح كيف يمكن أن يساعدك تمثيل دالة كثيرة حدود بيانياً على تحليلها؟

تدريب على اختبار

(69) **إجابة قصيرة:** حل المعادلة: $x^3 + 27 = 0$.

(70) إذا كان الفرق الموجب بين العددين $\frac{1}{12}$ ، k مساوياً للفرق الموجب بين العددين $\frac{1}{3}$ ، $\frac{1}{5}$ ، فما قيمة k ؟

$\frac{1}{15}$ C	$\frac{1}{60}$ A
$\frac{13}{60}$ D	$\frac{1}{20}$ B

مراجعة تراكمية

حدّد الدرجة والمعامل الرئيس لكل كثيرة حدود بمتغير واحد فيما يأتي، وإذا لم تكن كثيرة حدود بمتغير واحد فاذكر السبب: (الدرس 3-5)

(73) $-x^4 - 3x^3 + 2x^6 - x^7$

(72) $-2x^5 + 5x^4 + 3x^2 + 9$

(71) $4x^3 - 6x^2 + 5x^4 - 8x$

(74) **كهرباء:** دائرة كهربائية تتكون من جزأين موصولين على التوالي؛ معاوقة الأول $3 + 4j$ أوم، ومعاوقة الثاني $2 - 6j$ أوم. اجمع هذين العددين

المركبين لتجد المعاوقة الكلية لهذه الدائرة. (الدرس 3-1)

اقسم كلاً مما يأتي: (الدرس 3-4)

(77) $(8x^3 + 4x^2 + 6) \div (x + 2)$

(76) $(2x^2 + 8x - 10) \div (2x + 1)$

(75) $(x^2 + 6x - 2) \div (x + 4)$

تحديد: أوجد حلول كل من المعادلتين:

(78) $(x^2 - 4)^2 - (x^2 - 4) - 2 = 0$

(79) $(x^2 + 3)^2 - 7(x^2 + 3) + 12 = 0$





الهدف أستعمل الحاسبة البيانية TI-nspire لإيجاد حلول تقريبية لمتباينة كثيرة الحدود.

يمكنك استعمال الحاسبة البيانية TI-nspire لحل متباينات كثيرات الحدود.

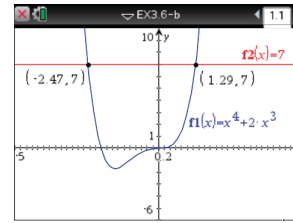
نشاط

$$x^4 + 2x^3 \leq 7$$

الطريقة 1: تمثيل المعادلات المرتبطة بكل طرف بيانياً بشكل منفصل .

الخطوات:

- افتح الآلة الحاسبة بالضغط على **(on)** ثم اختر **1** مستند جديد
- اختر **2** إضافة تطبيق الرسوم البيانية ، واكتب في الطرف الأيسر $x^4 + 2x^3 = f1(x)$ ، ثم اضغط مفتاح **enter** ليظهر التمثيل البياني.
- اضغط المفتاح **(tab)** ؛ لكتابة الطرف الأيمن 7 بجانب $f2(x) =$ ، ثم اضغط مفتاح **enter** ليظهر التمثيل البياني.
- ملاحظة: تدرج الآلة المعتاد على المحور y بين $(-6.67, 6.67)$ ، وحتى يظهر التمثيل للمعادلة $f2(x) = 7$ ، قم بالضغط على مفتاح **(menu)** واختر **4** تكبير/تصغير النافذة ومنها اختر **1** إعدادات النافذة... ؛ لتحديد التدرج المناسب لكل من x و y
- حدّد نقاط التقاطع من خلال الضغط على مفتاح **(menu)** ومنها اختر **6** تحليل الرسم البياني ثم اختر منها **4** نقاط التقاطع ، وقم بالضغط في أي نقطة على الشاشة، وحرك المؤشر مروراً بنقطة التقاطع لتظهر نقطة التقاطع، كرر ذلك مع نقطة التقاطع الثانية فيكون الحل هو : $-2.47 \leq x \leq 1.29$ تقريباً.



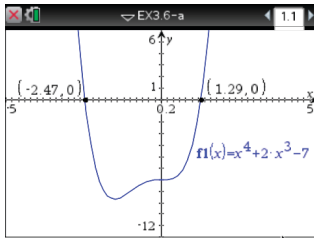
[-5, 5] scl: 0.2 by [-6, 10] scl: 1

الطريقة 2: تمثيل المعادلة المرتبطة بعد مساواتها بالصفر بيانياً.

$$x^4 + 2x^3 = 7 \longrightarrow x^4 + 2x^3 - 7 = 0$$

الخطوات:

- من الشاشة الظاهرة اختر **1** مستند جديد
- ثم اختر **2** إضافة تطبيق الرسوم البيانية .
- اكتب المعادلة المرتبطة $x^4 + 2x^3 - 7$ ، ثم اضغط مفتاح **enter** ليظهر التمثيل البياني.
- ملاحظة: اختر التدرج المناسب.
- حدّد أصفار المعادلة من خلال الضغط على مفتاح **(menu)** ، ومنها اختر **6** تحليل الرسم البياني ، ثم اختر منها **1** أصفار الدالة ، وقم بالضغط في أي نقطة من الشاشة مروراً بنقطة تقاطع التمثيل البياني مع المحور x فيظهر صفر الدالة، كرر ذلك مع النقطة الأخرى، ستظهر إحداثيات صفري الدالة، فيكون الحل هو : $-2.47 \leq x \leq 1.29$ تقريباً.



[-5, 5] scl: 0.2 by [-12, 6] scl: 1

تمارين:

حلّ كلّ متباينة مما يأتي، وقرب الإجابة إلى أقرب جزء من مئة :

$$x^3 + 1 \geq 4x^2 \quad (3)$$

$$x^3 - 9x^2 + 27x \leq 20 \quad (2)$$

$$\frac{2}{3}x^3 + x^2 - 5x \geq -9 \quad (1)$$

$$x^8 < x^7 + 3 \quad (6)$$

$$\frac{1}{2}x^5 \geq \frac{1}{5}x^2 - 2 \quad (5)$$

$$x^6 - 15 \leq 5x^4 - x^2 \quad (4)$$

$$x^4 - 15x^2 + x + 65 > 0 \quad (9)$$

$$x^3 - 6x^2 + 4x < -6 \quad (8)$$

$$x^4 - 15x^2 > -24 \quad (7)$$



نظريتا الباقي والعوامل

The Remainder and Factor Theorems

لماذا؟

قدّر صاحب بقالة أرباحه السنوية بالدالة:
 $S(x) = 0.02x^4 - 0.52x^3 + 4.03x^2 + 0.09x + 77.54$ ، حيث x عدد السنوات منذ العام 1420 هـ، وتمثل
 $S(x)$ قيمة الأرباح بمئات الريالات.

يمكنك استعمال هذه الدالة لتقدير الأرباح في العام 1440 هـ، بإيجاد قيمة الدالة $S(x)$ عندما $x = 20$ ، ويمكنك
استعمال التعويض التركيبي باعتباره طريقة أخرى للوصول إلى ذلك.

التعويض التركيبي: يمكنك إيجاد باقي قسمة دالة كثيرة حدود مثل: $f(x) = -3x^2 + 5x + 4$ على الدالة $x - 3$ بطريقتين:

الطريقة 2: القسمة التركيبية

$$\begin{array}{r|rrrr} 3 & -3 & 5 & 4 & \\ & & -9 & -12 & \\ \hline & -3 & -4 & -8 & \end{array}$$

الطريقة 1: القسمة الطويلة

$$\begin{array}{r} -3x - 4 \\ x - 3 \overline{) -3x^2 + 5x + 4} \\ \underline{(-) -3x^2 + 9x} \\ -4x + 4 \\ \underline{(-) -4x + 12} \\ -8 \end{array}$$

قارن بين باقي القسمة وهو العدد -8، وقيمة $f(3)$.

$$\text{عوض العدد 3 بدلاً من } x \quad f(3) = -3(3)^2 + 5(3) + 4$$

$$\text{اضرب} \quad = -27 + 15 + 4$$

$$\text{بسّط} \quad = -8$$

لاحظ أن قيمة $f(3)$ تساوي باقي قسمة كثيرة الحدود على $x - 3$. وهذا يوضح نظرية الباقي.

فيما سبق:

درست استعمال خاصية التوزيع والتحليل لتبسيط عبارات جبرية.
(الدرس 3-3)

والآن:

- أجد قيم الدوال باستعمال التعويض التركيبي.
- أستعمل التعويض التركيبي لأحد ما إذا كانت ثنائية حدّ عاملاً من عوامل كثيرة حدود أم لا.

المفردات:

نظرية الباقي

Remainder Theorem

التعويض التركيبي

synthetic substitution

نظرية العوامل

Factor Theorem

أضف إلى

مطوبتك

نظرية الباقي

مفهوم أساسي

التعبير اللفظي إذا قسمت كثيرة حدود $P(x)$ على $x - r$ ، فإن الباقي ثابت ويساوي $P(r)$ ، وكذلك:

$$\begin{array}{ccccccc} & & \text{الباقي} & + & \text{المقسوم عليه} & \cdot & \text{ناتج القسمة} \\ P(x) & = & P(r) & + & (x - r) & \cdot & Q(x) \\ & & \text{المقسوم} & & \text{ناتج القسمة} & & \end{array}$$

حيث $Q(x)$ دالة كثيرة حدود تقل درجتها بواحد عن درجة $P(x)$.

$$x^2 + 6x + 2 = (x - 4) \cdot (x + 10) + 42 \quad \text{مثال}$$

إن عملية إيجاد قيمة دالة عند عدد بتطبيق نظرية الباقي واستعمال القسمة التركيبية تسمى **التعويض التركيبي**. وهي طريقة سهلة لإيجاد قيم دوال كثيرات الحدود، خصوصاً عندما تكون درجة كثيرة الحدود أكبر من الدرجة الثانية.

مثال 1

التعويض التركيبي

إذا كان $f(x) = 3x^4 - 2x^3 + 5x + 2$ ، فأوجد $f(4)$ باستعمال التعويض التركيبي.

بناءً على نظرية الباقي، فإن $f(4)$ يساوي باقي قسمة كثيرة الحدود على $x - 4$.

بما أنه لا يوجد حد يحتوي على x^2 ، لذا ضع 0	4	3	-2	0	5	2
للمحافظة على مكان عامل الحد x^2 .			12	40	160	660
		3	10	40	165	662

بما أن باقي القسمة يساوي 662، فإنه باستعمال التعويض التركيبي يكون $f(4) = 662$

وللتحقق نستعمل التعويض المباشر.

عوض عن x بالعدد 4 في دالة كثيرة الحدود.

$$f(x) = 3x^4 - 2x^3 + 5x + 2 \quad \text{الدالة الأصلية}$$

$$f(4) = 3(4)^4 - 2(4)^3 + 5(4) + 2 \quad \text{عوض العدد 4 بدلاً من } x$$

$$= 768 - 128 + 20 + 2 = 662 \quad \text{بسّط}$$

وعليه فإن $f(4) = 662$. وبذلك نكون قد توصلنا إلى الإجابة نفسها من خلال التعويض المباشر.

تحقق من فهمك

(1A) إذا كان $f(x) = 3x^3 - 6x^2 + x - 11$ ، فأوجد $f(3)$.

(1B) إذا كان $g(x) = 4x^5 + 2x^3 + x^2 - 1$ ، فأوجد $g(-1)$.

يمكنك استعمال التعويض التركيبي في الحالات التي تكون فيها حسابات التعويض المباشر معقدة.

مثال 2 من واقع الحياة

إيجاد قيم الدالة

مبيعات: ارجع إلى فقرة "لماذا؟" في بداية هذا الدرس. ما قيمة الأرباح في العام 1440 هـ؟
أوجد ناتج قسمة $0.02x^4 - 0.52x^3 + 4.03x^2 + 0.09x + 77.54$ على $x - 20$ مستعملًا القسمة التركيبية.

20	0.02	-0.52	4.03	0.09	77.54
		0.4	-2.4	32.6	653.8
	0.02	-0.12	1.63	32.69	731.34

تقدر الأرباح بـ 73134 ريالاً تقريباً.

تحقق من فهمك

(2) **مدارس:** يمكن استعمال الدالة $C(x) = 2.4x^3 - 22.3x^2 + 53.8x + 548.2$ لتقدير عدد الطلاب في

إحدى المناطق منذ عام 1427 هـ، حيث تمثل x عدد السنوات، $C(x)$ عدد الطلاب بالعشرات، قدر عدد طلاب المنطقة عام 1442 هـ.

عوامل كثيرات الحدود: تبين القسمة التركيبية أدناه أن ناتج قسمة $2x^3 - 3x^2 - 17x + 30$ على $x + 3$ هو $2x^2 - 9x + 10$.

$$\begin{array}{r|rrrr} -3 & 2 & -3 & -17 & 30 \\ & & -6 & 27 & -30 \\ \hline & 2 & -9 & 10 & 0 \end{array}$$

عند قسمة كثيرة حدود على ثنائية حد من عواملها، يكون ناتج القسمة كثيرة حدود تقل درجتها بواحد عن درجة كثيرة الحدود الأصلية.

بناءً على عملية القسمة وباستعمال نظرية الباقي فإن:

$$\begin{array}{ccccccc} & \text{المقسوم} & & \text{ناتج القسمة} & & \text{المقسوم عليه} & & \text{الباقي} \\ & \underbrace{2x^3 - 3x^2 - 17x + 30} & = & \underbrace{(2x^2 - 9x + 10)} & \cdot & \underbrace{(x + 3)} & + & \underbrace{0} \end{array}$$

وبما أن باقي القسمة يساوي صفرًا، فإن $f(-3) = 0$. وهذا يعني أن $x + 3$ عامل لكثيرة الحدود $2x^3 - 3x^2 - 17x + 30$. وهذا يوضح **نظرية العوامل**، التي تعدُّ حالة خاصة من نظرية الباقي.

مفهوم أساسي

نظرية العوامل

تكون ثنائية الحد $x - r$ عاملاً من عوامل كثيرة الحدود $P(x)$ إذا وفقط إذا كان $P(r) = 0$.

يمكنك استعمال نظرية العوامل للتحقق من أن ثنائية حد معينة عامل من عوامل كثيرة حدود معطاة.

مثال 3 استعمال نظرية العوامل

حدّد ما إذا كان $x - 5$ عاملاً من عوامل كثيرة الحدود $P(x) = x^3 - 7x^2 + 7x + 15$ أم لا، ثم أوجد عواملها الأخرى.

الخطوة 1: استعمال نظرية العوامل

بناءً على نظرية العوامل تكون ثنائية الحد $x - 5$ عاملاً من عوامل $P(x)$ إذا كان $P(5) = 0$ ، ولإيجاد $P(5)$ ، يمكنك استعمال التعويض التركيبي.

$$\begin{array}{r|rrrr} 5 & 1 & -7 & 7 & 15 \\ & & 5 & -10 & -15 \\ \hline & 1 & -2 & -3 & 0 \end{array}$$

وبما أن باقي القسمة يساوي صفرًا؛ أي أن $P(5) = 0$ ، فإن $x - 5$ عامل لكثيرة الحدود.

الخطوة 2: تحليل كثيرة الحدود

بما أن $x - 5$ عامل لكثيرة الحدود؛ لذا يمكن تحليل كثيرة الحدود $x^3 - 7x^2 + 7x + 15$ على النحو الآتي: $(x - 5)(x^2 - 2x - 3)$. وتكون $x^2 - 2x - 3$ هي كثيرة الحدود الناتجة عن قسمة كثيرة الحدود $x^3 - 7x^2 + 7x + 15$ على $(x - 5)$.

تحقق مما إذا كانت كثيرة الحدود هذه قابلة للتحليل أم لا.

$$x^2 - 2x - 3 = (x + 1)(x - 3) \quad \text{حلّ ثلاثية الحدود}$$

$$\text{وعليه فإن } x^3 - 7x^2 + 7x + 15 = (x - 5)(x + 1)(x - 3)$$

تحقق: يمكنك التحقق من إجابتك بضرب العوامل ومقارنة كثيرة الحدود الناتجة بكثيرة الحدود الأصلية.

تحقق من فهمك

3 حدّد ما إذا كان $x - 2$ عاملاً من عوامل كثيرة الحدود $x^3 - 7x^2 + 4x + 12$ أم لا، ثم أوجد عواملها الأخرى.

إرشادات للدراسة

التحليل إلى العوامل

ليس شرطاً أن تكون عوامل كثيرة الحدود ثنائيات حد. فمثلاً، عاملاً لكثيرة الحدود $x^3 + x^2 - x + 15$ هما $x + 3$ و $x^2 - 2x + 5$.

أوجد $f(4)$, $f(-2)$ لكل من الدالتين الآتيتين مستعملاً التعويض التركيبي:

$$f(x) = 2x^3 - 5x^2 - x + 14 \quad (1) \quad f(x) = x^4 + 8x^3 + x^2 - 4x - 10 \quad (2)$$

(3) جوارح: يمكن تمثيل عدد أزواج النور في محمية باستعمال الدالة

$$P(x) = -0.16x^3 + 15.83x^2 - 154.15x + 1147.97$$

العدد التقريبي المتوقع لأزواج هذه النور في عام 1443 هـ؟

مثال 3 في كل مما يأتي كثيرة حدود ودالة من الدرجة الأولى، حدّد ما إذا كانت هذه الدالة عاملاً من عوامل كثيرة الحدود أم لا، ثم أوجد عواملها الأخرى:

$$x^3 - 6x^2 + 11x - 6; x - 1 \quad (4) \quad x^3 + x^2 - 16x - 16; x + 1 \quad (5)$$

$$3x^3 + 10x^2 - x - 12; x - 1 \quad (6) \quad 2x^3 - 5x^2 - 28x + 15; x + 3 \quad (7)$$

تمارين ومسائل

مثال 1 أوجد $f(2)$, $f(-5)$ لكل دالة مما يأتي مستعملاً التعويض التركيبي:

$$f(x) = x^3 + 2x^2 - 3x + 1 \quad (8) \quad f(x) = x^2 - 8x + 6 \quad (9)$$

$$f(x) = 3x^4 + x^3 - 2x^2 + x + 12 \quad (10) \quad f(x) = 2x^3 - 8x^2 - 2x + 5 \quad (11)$$

$$f(x) = x^3 - 5x + 2 \quad (12) \quad f(x) = x^5 + 8x^3 + 2x - 15 \quad (13)$$

$$f(x) = x^6 - 4x^4 + 3x^2 - 10 \quad (14) \quad f(x) = x^4 - 6x - 8 \quad (15)$$

مثال 2 (16) وقود: يقدر استهلاك سيارة للوقود (بالميل لكل جالون) وفقاً للدالة

$$f(x) = 0.0000056x^4 - 0.000018x^3 - 0.016x^2 + 1.38x - 0.38$$

لكل ساعة. حدّد استهلاك السيارة للوقود إذا سارت بالسرعات الآتية 40mi/h, 50mi/h, 60mi/h.

مثال 3 في كل مما يأتي كثيرة حدود ودالة من الدرجة الأولى. حدّد ما إذا كانت هذه الدالة عاملاً من عوامل كثيرة الحدود أم لا، ثم أوجد عواملها الأخرى:

$$x^3 - 3x + 2; x + 2 \quad (17) \quad x^4 + 2x^3 - 8x - 16; x + 2 \quad (18)$$

$$x^3 - x^2 - 10x - 8; x + 2 \quad (19) \quad x^3 - x^2 - 5x - 3; x - 3 \quad (20)$$

$$2x^3 + 17x^2 + 23x - 42; x - 1 \quad (21) \quad 2x^3 + 7x^2 - 53x - 28; x - 4 \quad (22)$$

$$x^4 + 2x^3 + 2x^2 - 2x - 3; x - 1 \quad (23) \quad x^3 + 2x^2 - x - 2; x + 2 \quad (24)$$

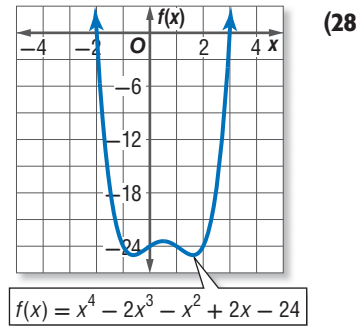
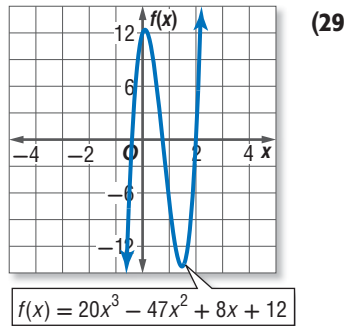
$$6x^3 - 25x^2 + 2x + 8; 2x + 1 \quad (25) \quad 16x^5 - 32x^4 - 81x + 162; 2x - 3 \quad (26)$$

(27) زوارق: تحرك زورق بخاري من السكون في اتجاه معاكس للأموح، فإذا كانت سرعته بالأقدام لكل ثانية تعطى بالدالة $f(t) = -0.04t^4 + 0.8t^3 + 0.5t^2 - t$ ، حيث t الزمن بالثواني.

(a) أوجد سرعة الزورق بعد مرور زمن: 1s, 2s, 3s.

(b) إذا استغرق الزورق، 6s ليقطع المسافة بين عوامتين، فأوجد $f(6)$ مستعملاً التعويض التركيبي، ووضّح ماذا يعني ذلك.

استعمل التمثيل البياني لإيجاد جميع عوامل كل دالة كثيرة حدود فيما يأتي:



(30) **تمثيلات متعددة:** لتكن الدالة: $f(x) = x^4 - 4x^2$.

- (a) **جبرياً:** إذا كان $x - 2$ عاملاً من عوامل هذه الدالة، فأوجد كثيرة الحدود الناتجة عن قسمة هذه الدالة على $(x - 2)$.
- (b) **جدولياً:** كوّن جدول قيم لكثيرة الحدود التي وجدتها في الفرع "a" حيث $x \in \{-2, -1, 0, 1, 2\}$.
- (c) **تحليلياً:** اعتماداً على جدول القيم الذي كوّنته، ما الاستنتاجات التي يمكن أن تتوصل إليها حول بقية عوامل الدالة: $f(x) = x^4 - 4x^2$ ؟ وضح إجابتك.
- (d) **بيانياً:** مثل الدالة الأصلية بيانياً لتؤكد الاستنتاجات التي توصلت إليها.

أوجد قيم k التي تجعل باقي القسمة في كل مما يأتي يساوي 3:

(32) $(x^2 + kx - 17) \div (x - 2)$

(31) $(x^2 - x + k) \div (x - 1)$

(34) $(x^3 + 4x^2 + x + k) \div (x + 2)$

(33) $(x^2 + 5x + 7) \div (x - k)$

مسائل مهارات التفكير العليا

(35) **تبرير:** إذا قسمت دالة كثيرة الحدود $f(x)$ على $x - c$ ، فماذا يمكن أن تستنتج إذا كان:

(a) الباقي يساوي صفراً؟

(b) الباقي يساوي 1؟

(c) ناتج القسمة يساوي 1 والباقي يساوي صفراً؟

(36) **مسألة مفتوحة:** اكتب دالة تكعيبية يكون باقي قسمتها على $x - 2$ يساوي 8، وباقي قسمتها على $x - 3$ يساوي -5.

(37) **اكتب:** وضح لماذا تعد نظرية العوامل حالة خاصة من نظرية الباقي؟

تنبيه!

التعويض التركيبي

تذكر أنه في التعويض التركيبي يتم قسمة كثيرة حدود على ثنائية حد على الصورة $(x - a)$. وفي هذه الحالة استعمل a ، وإذا كانت ثنائية الحد على الصورة $(x + a)$ ، فاستعمل $-a$.



تدريب على اختبار

39 ما حاصل ضرب العددين المركبين $(4 + i)(4 - i)$ ؟

- 17 C 15 A
17 - 8i D 16 - i B

38 أي مما يأتي هو تحليل للعبارة $27x^3 + y^3$ ؟

- $(3x + y)(3x + y)(3x + y)$ A
 $(3x + y)(9x^2 - 3xy + y^2)$ B
 $(3x - y)(9x^2 + 3xy + y^2)$ C
 $(3x - y)(9x^2 + 9xy + y^2)$ D

مراجعة تراكمية

حل كل معادلة مما يأتي: (الدرس 3-2)

$$x^4 - 4x^2 - 21 = 0 \quad (40)$$

$$x^4 - 6x^2 = 27 \quad (41)$$

$$4x^4 - 8x^2 - 96 = 0 \quad (42)$$

حل كل من النظامين الآتين بيانياً: (مهارة سابقة)

$$y = 3x - 1 \quad (43)$$

$$y = -2x + 4$$

$$3x + 2y = 8 \quad (44)$$

$$-4x + 6y = 11$$

إذا كان $c(x) = x^2 - 2x$, $d(x) = 3x^2 - 6x + 4$ ، فأوجد قيمة كل مما يأتي: (الدرس 3-3)

$$c(a + 2) - d(a - 4) \quad (45)$$

$$c(a - 3) + d(a + 1) \quad (46)$$

$$c(-3a) + d(a + 4) \quad (47)$$

$$3d(3a) - 2c(-a) \quad (48)$$

$$c(a) + 5d(2a) \quad (49)$$

$$-2d(2a + 3) - 4c(a^2 + 1) \quad (50)$$



الجدور والأصفار

Roots and Zeros

رابط الدرس الرقمي



www.iem.edu.sa



لماذا؟

يستعمل مدير الإنتاج في مصنع الدالة:
 $g(x) = 1.384x^4 - 0.003x^3 + 0.28x^2 - 0.078x + 1.365$
 لتقدير معدل تكلفة إنتاج القطعة الواحدة على مدى عدة سنوات،
 حيث x عدد السنوات منذ 1410هـ.
 ولكي تجد العام الذي يبلغ فيه معدل تكلفة إنتاج قطعة واحدة
 قيمة معينة، يمكنك استعمال جذور معادلة كثيرة الحدود المرتبطة
 بالدالة.

أنواع الجذور تعلمت سابقاً أن صفر دالة مثل $f(x)$ يمكن أن
 يكون أية قيمة مثل c ، حيث $f(c) = 0$. وعند تمثيل الدالة بيانياً
 تكون أصفارها الحقيقية هي مقاطع المحور x .

فيما سبق:

درست استعمال الأعداد
 المركبة لوصف حلول
 المعادلات التربيعية.
 (الدرس 2-3)

والآن:

- أحدد عدد جذور معادلة
 كثيرة حدود وأنواعها.
- أجد عدد الأصفار
 الحقيقية الموجبة
 والسالبة والأصفار
 التخيلية للدالة.
- أكتب دالة كثيرة حدود
 بأقل درجة ممكنة بمعرفة
 أصفارها.

المفردات:

النظرية الأساسية في الجبر
 Fundamental Theorem of Algebra

أضف إلى

مطوبتك

الأصفار، والعوامل، والجذور، والمقاطع

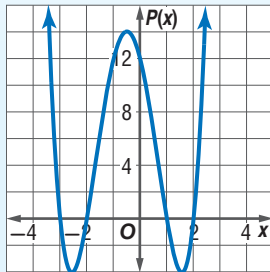
ملخص المفهوم

التعبير اللفظي: إذا كانت $P(x) = a_n x^n + \dots + a_1 x + a_0$ دالة كثيرة حدود،

فإن العبارات الآتية متكافئة:

- c صفر للدالة $P(x)$.
- c جذر أو حل للمعادلة $P(x) = 0$.
- $x - c$ عامل من عوامل كثيرة الحدود $P(x)$.
- إذا كان c عدداً حقيقياً، فإن $(c, 0)$ هي نقطة تقاطع تمثيل الدالة $P(x)$ مع المحور x .

مثال: افترض أن دالة كثيرة الحدود هي: $P(x) = x^4 + 2x^3 - 7x^2 - 8x + 12$



فإن أصفار هذه الدالة هي: $-3, -2, 1, 2$

وجذور المعادلة $x^4 + 2x^3 - 7x^2 - 8x + 12 = 0$

هي: $-3, -2, 1, 2$

وعوامل كثيرة الحدود $x^4 + 2x^3 - 7x^2 - 8x + 12$

هي: $(x + 3), (x + 2), (x - 1), (x - 2)$

ونقاط تقاطع التمثيل البياني للدالة $P(x)$ مع المحور x

هي: $(-3, 0), (-2, 0), (1, 0), (2, 0)$.

عند حل معادلة كثيرة حدود درجتها أكبر من صفر من الممكن أن يكون لها جذر حقيقي واحد أو أكثر، وقد لا يوجد جذور حقيقية (أي أن الجذور أعداد تخيلية). وبما أن الأعداد الحقيقية والتخيلية جميعها تنتمي إلى مجموعة الأعداد المركبة، يمكن القول إن أية معادلة كثيرة حدود درجتها أكبر من الصفر لها جذر واحد مركب على الأقل، وهذه هي النظرية الأساسية في الجبر.

أضف إلى

مطوبتك

النظرية الأساسية في الجبر

مشهوم أساسي

كل معادلة كثيرة حدود درجتها أكبر من صفر لها جذر واحد على الأقل ينتمي إلى مجموعة الأعداد المركبة.

وزارة التعليم

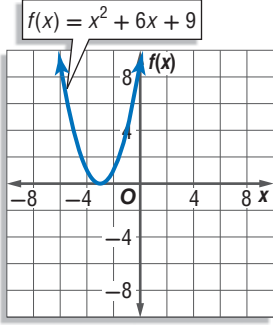
Ministry of Education

2024 - 1446

مثال 1

تحديد عدد الجذور وأنواعها

حلّ كل معادلة مما يأتي، واذكر عدد جذورها، ونوعها :



$$x^2 + 6x + 9 = 0 \quad (a)$$

$$x^2 + 6x + 9 = 0$$

$$(x + 3)^2 = 0$$

$$x + 3 = 0$$

$$x = -3$$

المعادلة الأصلية

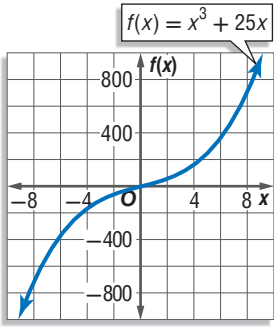
حلّ إلى العوامل

خذ الجذر التربيعي لكلا الطرفين

أوجد قيمة x

وبما أن العامل $(x + 3)$ مكرر مرتين في تحليل كثيرة الحدود، فإن -3 جذر مكرر مرتين. أي للمعادلة جذر حقيقي واحد مكرر مرتين هو -3 .

تحقق: بما أن التمثيل البياني للدالة يمس المحور x عندما $x = -3$. فإن -3 جذر مكرر مرتين. ✓



$$x^3 + 25x = 0 \quad (b)$$

$$x^3 + 25x = 0$$

$$x(x^2 + 25) = 0$$

$$x^2 + 25 = 0 \quad \text{أو} \quad x = 0$$

$$x^2 = -25$$

$$x = \pm\sqrt{-25} = \pm 5i$$

المعادلة الأصلية

حلّ إلى العوامل

خاصية الضرب الصفري

اطرح 25 من كلا الطرفين

خاصية الجذر التربيعي، ثم

التبسيط

للمعادلة ثلاثة جذور: جذر حقيقي واحد هو 0 ، وجذران تخيليان هما $5i$ ، $-5i$.

تحقق: بما أن التمثيل البياني للدالة يقطع المحور x عندما $x = 0$ ،

فإن للمعادلة جذرًا حقيقيًا واحدًا هو 0 . ✓

تحقق من فهمك ✓

$$3x^3 - x^2 + 9x - 3 = 0 \quad (1C)$$

$$x^4 - 16 = 0 \quad (1B)$$

$$x^3 + 2x = 0 \quad (1A)$$

اختبر حلّ كل معادلة في المثال 1، ولاحظ أن عدد حلول كل معادلة يساوي درجة كثيرة الحدود. والنتيجة الآتية للنظرية الأساسية في الجبر تصف العلاقة بين درجة معادلة كثيرة الحدود وعدد جذورها.

أضف إلى

مطوبتك

نتيجة للنظرية الأساسية في الجبر

مفهوم أساسي

التعبير اللفظي: يكون لمعادلة كثيرة الحدود من الدرجة n العدد n فقط من الجذور المركبة بما في ذلك الجذور المكررة.

$$-2x^5 - 3x^2 + 8 = 0$$

5 جذور

$$4x^4 - 3x^3 + 5x - 6 = 0$$

4 جذور

$$x^3 + 2x^2 + 6 = 0$$

3 جذور

مثال:

وبالمثل دالة كثيرة الحدود من الدرجة n لها فقط العدد n من الأصفار المركبة.

وقد اكتشف العالم الفرنسي ديكارت علاقة بين إشارات معاملات دالة كثيرة الحدود وعدد الأصفار الحقيقية.

وزارة التعليم

Ministry of Education

الدرس 3-8 الجذور والأصفار 161

- إذا كانت $P(x) = a_n x^n + \dots + a_1 x + a_0$ دالة كثيرة حدود معاملات حدودها أعداد حقيقية، فإن:
- عدد الأصفار الحقيقية الموجبة للدالة $P(x)$ يساوي عدد مرات تغير إشارة معاملات حدود الدالة $P(x)$ ، أو أقل منه بعدد زوجي.
 - عدد الأصفار الحقيقية السالبة للدالة $P(x)$ يساوي عدد مرات تغير إشارة معاملات حدود الدالة $P(-x)$ ، أو أقل منه بعدد زوجي.



رينيه ديكرت

(1650 - 1596 م)، فيلسوف، ورياضي، وفيزيائي فرنسي، يلقب بـ "أبو الفلسفة الحديثة". له تأثير واضح في علم الرياضيات؛ فقد اخترع نظاماً رياضياً شكّل أساس الهندسة التحليلية سُمّي باسمه وهو نظام الإحداثيات الديكارتية.

مثال 2 إيجاد عدد الأصفار الحقيقية الموجبة والسالبة والأصفار التخيلية لدالة

اذكر العدد الممكن للأصفار الحقيقية الموجبة، والحقيقية السالبة، والتخيلية للدالة

$$f(x) = x^6 + 3x^5 - 4x^4 - 6x^3 + x^2 - 8x + 5$$

بما أن درجة الدالة $f(x)$ تساوي 6، فإن لها 6 أصفار: حقيقية أو تخيلية أو كليهما. استعمل قانون ديكرت للإشارات لتحديد العدد الممكن للأصفار الحقيقية ونوعها.

احسب عدد مرات تغير إشارة معاملات الدالة $f(x)$.

$$f(x) = \begin{array}{cccccccc} x^6 & + & 3x^5 & - & 4x^4 & - & 6x^3 & + & x^2 & - & 8x & + & 5 \\ \downarrow & & \downarrow & & \downarrow & & \downarrow & & \downarrow & & \downarrow & & \\ + & + & + & - & - & - & + & - & + & - & - & + & \end{array}$$

نجد أن هناك 4 تغيرات في إشارة المعاملات، لذا فإن عدد الأصفار الحقيقية الموجبة سيكون: 4 أو 2 أو 0.

احسب عدد مرات تغير إشارة معاملات الدالة $f(-x)$.

$$f(-x) = (-x)^6 + 3(-x)^5 - 4(-x)^4 - 6(-x)^3 + (-x)^2 - 8(-x) + 5$$

$$= \begin{array}{cccccccc} x^6 & - & 3x^5 & - & 4x^4 & + & 6x^3 & + & x^2 & + & 8x & + & 5 \\ \downarrow & & \downarrow & & \downarrow & & \downarrow & & \downarrow & & \downarrow & & \\ + & - & - & - & + & + & + & + & + & + & + & + & \end{array}$$

نجد أن هناك تغيرين في إشارة المعاملات، لذا فإن عدد الأصفار الحقيقية السالبة سيكون: 2 أو 0. أنشئ جدولاً يبين عدد الجذور الحقيقية والتخيلية الممكنة.

عدد الأصفار الحقيقية الموجبة	عدد الأصفار الحقيقية السالبة	عدد الأصفار التخيلية يساوي العدد 6 مطروحاً منه مجموع عدد الأصفار الحقيقية
4	2	0
2	0	2
0	2	4
0	0	4
0	2	4
0	0	6

تحقق من فهمك

2) اذكر العدد الممكن للأصفار الحقيقية الموجبة، والحقيقية السالبة، والتخيلية للدالة.

$$h(x) = 2x^5 + x^4 + 3x^3 - 4x^2 - x + 9$$

تعلمت سابقاً أن حاصل ضرب العددين المركبين المترافقين هو عدد حقيقي دائماً، ومن الجدير بالذكر أن الجذور المركبة تكون في أزواج مترافقة. فمثلاً إذا علمت أن أحد جذري المعادلة $0 = x^2 - 8x + 52$ هو $4 + 6i$ ، فإنك تستنتج أن الجذر الآخر هو $4 - 6i$.

وينطبق هذا الأمر على أصفار دوال كثيرات الحدود أيضًا. فإذا كان العدد المركب صفرًا للدالة كثيرة حدود معاملات حدودها أعداد حقيقية، فإن مرافقه أيضًا صفر للدالة كثيرة الحدود.

أضف إلى
مطوبتك

مفهوم أساسي

نظرية الأصفار المركبة المترافقة

التعبير اللفظي: إذا كان a, b عددين حقيقيين، وكان $a + bi$ صفرًا لدالة كثيرة حدود معاملات حدودها أعداد حقيقية. فإن $a - bi$ صفر للدالة أيضًا.

مثال: إذا كان $3 + 4i$ صفرًا للدالة $f(x) = x^3 - 4x^2 + 13x + 50$ ، فإن $3 - 4i$ صفر للدالة أيضًا.

عندما تعطى جميع أصفار دالة كثيرة حدود ويطلب إليك تحديد الدالة، حوّل الأصفار إلى عوامل، ثم اضرب جميع العوامل بعضها في بعض؛ لتحصل على دالة كثيرة الحدود المطلوبة.

استعمال الأصفار لكتابة دالة كثيرة حدود

مثال 3

اكتب دالة كثيرة حدود درجتها أقل ما يمكن، ومعاملات حدودها أعداد صحيحة، إذا كان العددين $5 - i, -1$ من أصفارها.

افهم: المعطيات: العددين $5 - i, -1$ من أصفار كثيرة حدود.

المطلوب: كتابة دالة كثيرة حدود درجتها أقل ما يمكن، ومعاملات حدودها أعداد صحيحة، والعددين $5 - i, -1$ من أصفارها.

خطئ: بما أن $5 - i$ صفر للدالة، فإن $5 + i$ أيضًا صفر للدالة بحسب نظرية الأصفار المركبة المترافقة.

لذا فإن $x - (5 + i), x - (5 - i), x + 1$ عوامل لكثيرة الحدود.

حل: اكتب المعادلة كثيرة الحدود على صورة حاصل ضرب عواملها.

$$P(x) = (x + 1)[x - (5 - i)][x - (5 + i)]$$

اضرب العوامل لتحصل على دالة كثيرة الحدود.

اكتب الدالة	$P(x) = (x + 1)[x - (5 - i)][x - (5 + i)]$
أعد تجميع الحدود	$= (x + 1)[(x - 5) + i][(x - 5) - i]$
الفرق بين مربعين	$= (x + 1)[(x - 5)^2 - i^2]$
أوجد مربع الحدين	$= (x + 1)[(x^2 - 10x + 25 - (-1))]$
بسّط	$= (x + 1)(x^2 - 10x + 26)$
اضرب	$= x^3 - 10x^2 + 26x + x^2 - 10x + 26$
اجمع الحدود المتشابهة	$= x^3 - 9x^2 + 16x + 26$

تحقق: بما أن هناك 3 أصفار، فإن دالة كثيرة الحدود ستكون من الدرجة الثالثة، ولذا فإن $P(x) = x^3 - 9x^2 + 16x + 26$ دالة كثيرة حدود درجتها أقل ما يمكن، ومعاملات حدودها أعداد صحيحة، وأصفارها هي: $5 + i, 5 - i, -1$.

إرشادات للدراسة

استعمال الأصفار لكتابة الدالة

إن أي دالة على الصورة $f(x) = a(x^3 - 9x^2 + 16x + 26)$ (حيث a عدد صحيح لا يساوي الصفر)، تحقق المعطيات الواردة في المثال 3، ولكن اعتبر أن $a = 1$ للتسهيل فقط.

تحقق من فهمك



3) اكتب دالة كثيرة حدود درجتها أقل ما يمكن، ومعاملات حدودها أعداد صحيحة، إذا كان العددين $1 + 2i, -1$ من أصفارها.

مثال 1

حلّ كل معادلة مما يأتي، واذكر عدد جذورها، ونوعها:

$$x^3 + 12x^2 + 32x = 0 \quad (2)$$

$$x^2 - 3x - 10 = 0 \quad (1)$$

$$0 = x^3 - 8 \quad (4)$$

$$16x^4 - 81 = 0 \quad (3)$$

مثال 2 اذكر العدد الممكن للأصفار الحقيقية الموجبة، والحقيقية السالبة، والتخيلية لكل دالة ممّا يأتي :

$$f(x) = x^3 - 2x^2 + 2x - 6 \quad (5)$$

$$f(x) = 6x^4 + 4x^3 - x^2 - 5x - 7 \quad (6)$$

$$f(x) = 3x^5 - 8x^3 + 2x - 4 \quad (7)$$

$$f(x) = -2x^4 - 3x^3 - 2x - 5 \quad (8)$$

مثال 3 اكتب دالة كثيرة حدود درجتها أقل ما يمكن، ومعاملات حدودها أعداد صحيحة، إذا كانت الأعداد المعطاة في كل مما يأتي من أصفارها :

$$3, -1, 1, 2 \quad (10)$$

$$4, -1, 6 \quad (9)$$

$$-4, 4 + i \quad (12)$$

$$-2, 5, -3i \quad (11)$$

تدرب وحل المسائل

مثال 1

حلّ كل معادلة مما يأتي، واذكر عدد جذورها، ونوعها:

$$2x^2 - 5x + 14 = 0 \quad (14)$$

$$4x^2 + 1 = 0 \quad (13)$$

$$8x^3 - 27 = 0 \quad (16)$$

$$-3x^2 - 5x + 8 = 0 \quad (15)$$

$$x^3 - 6x^2 + 7x = 0 \quad (18)$$

$$16x^4 - 625 = 0 \quad (17)$$

$$x^5 + 2x^3 + x = 0 \quad (20)$$

$$x^5 - 8x^3 + 16x = 0 \quad (19)$$

مثال 2 اذكر العدد الممكن للأصفار الحقيقية الموجبة، والحقيقية السالبة، والتخيلية لكل دالة ممّا يأتي :

$$f(x) = x^4 - 5x^3 + 2x^2 + 5x + 7 \quad (21)$$

$$f(x) = 2x^3 - 7x^2 - 2x + 12 \quad (22)$$

$$f(x) = -3x^5 + 5x^4 + 4x^2 - 8 \quad (23)$$

$$f(x) = x^4 - 2x^2 - 5x + 19 \quad (24)$$

$$f(x) = 4x^6 - 5x^4 - x^2 + 24 \quad (25)$$

$$f(x) = -x^5 + 14x^3 + 18x - 36 \quad (26)$$



مثال 3

اكتب دالة كثيرة حدود درجتها أقل ما يمكن، ومعاملات حدودها أعداد صحيحة، إذا كانت الأعداد المعطاة في كل مما يأتي من أصفارها :

(27) $5, -2, -1$

(28) $-4, -3, 5$

(29) $-1, -1, 2i$

(30) $-3, 1, -3i$

(31) $0, -5, 3 + i$

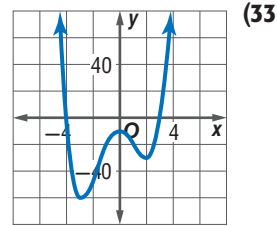
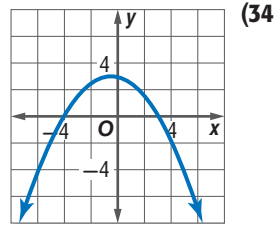
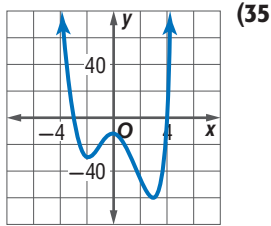
(32) $-2, -3, 4 - 3i$

اكتب بجانب التمثيل البياني للدالة الرمز الذي يمثل أصفارها في كل مما يأتي:

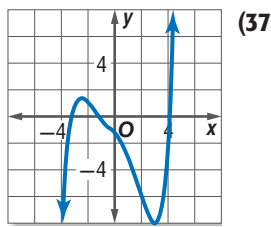
(a) $-3, 4, i, -i$

(b) $-4, 3$

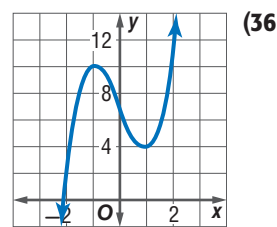
(c) $-4, 3, i, -i$



حدد عدد الأصفار الحقيقية الموجبة، والحقيقية السالبة، والتخيلية لكل من الدالتين الممثلتين بيانياً فيما يأتي، ووضِّح إجابتك:



الدرجة : 5



الدرجة : 3



مسائل مهارات التفكير العليا

38 مسألة مفتوحة: في كل مما يأتي، مثل بياناً دالة كثيرة حدود بحيث يكون لها:

(a) 3 أصفار حقيقية و صفران تخيليان (b) 4 أصفار حقيقية (c) صفران تخيليان

39 تحد: اكتب معادلة على صورة حاصل ضرب عوامل دالة كثيرة حدود من الدرجة الخامسة، لها صفران تخيليان، و صفر غير صحيح، و صفران غير نسبيين، و وضح إجابتك .

40 حدد أي المعادلات الآتية تختلف عن الأخرى، ووضح إجابتك:

$$r^4 + 1 = 0$$

$$r^3 + 1 = 0$$

$$r^2 - 1 = 0$$

$$r^3 - 8 = 0$$

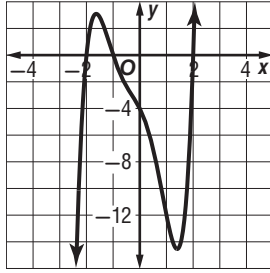
41 تبرير: اكتب مثلاً مضاداً لكل عبارة فيما يأتي:

(a) جميع دوال كثيرات الحدود التي تزيد درجتها على 2 لها على الأقل صفر حقيقي سالب.

(b) جميع دوال كثيرات الحدود التي تزيد درجتها على 2 لها على الأقل صفر حقيقي موجب.

42 اكتب: وضح لزميلك كيف تستعمل قانون ديكارت للإشارات لتحديد عدد الأصفار الحقيقية الموجبة والسالبة الممكنة لدالة كثيرة الحدود: $f(x) = x^4 - 2x^3 + 6x^2 + 5x - 12$

تدريب على اختبار



43 استعمل التمثيل البياني للدالة: $f(x) = x^5 + x^4 - 3x^3 - 3x^2 - 4x - 4$ وحدد أي مما يأتي لا يعد عاملاً لكثيرة الحدود $x^5 + x^4 - 3x^3 - 3x^2 - 4x - 4$ ؟

C $x + 2$

A $x - 2$

D $x + 1$

B $x - 1$

مراجعة تراكمية

أوجد $f(4)$, $f(-8)$ لكل دالة ممّا يأتي مستعملاً التعويض التركيبي: (الدرس 3-7)

44 $f(x) = 4x^3 + 6x^2 - 3x + 2$

45 $f(x) = 5x^4 - 2x^3 + 4x^2 - 6x$

46 $f(x) = 2x^5 - 3x^3 + x^2 - 4$

حلّل كلّ كثيرة حدود مما يأتي تحليلاً تامّاً، وإن لم يكن ذلك ممكناً فاكتب كثيرة حدود أولية: (الدرس 3-6)

47 $x^6 - y^6$

48 $4x^2y + 8xy + 16y - 3x^2z - 6xz - 12z$

49 $5a^3 - 30a^2 + 40a + 2a^2b - 12ab + 16b$



المفردات الأساسية

- (139) دالة كثيرة الحدود
(108) الوحدة التخيلية
(139) دالة القوة
(108) العد التخيلي البحت
(140) سلوك طرفي التمثيل البياني
(109) العدد المركب
(140) صفر الدالة
(111) المركبان المترافقان
(145) كثيرة الحدود الأولية
(115) القانون العام
(148) الصورة التربيعية
(118) المميز
(154) نظرية الباقي
(125) التبسيط
(154) التعويض التركيبي
(127) درجة كثيرة الحدود
(156) نظرية العوامل
(132) القسمة التركيبية
(138) كثيرة حدود بمتغير واحد
(136) المعامل الرئيس

اختبر مفرداتك

بين ما إذا كانت كل عبارة فيما يأتي صحيحة أم خاطئة. وإذا كانت خاطئة فاستبدل ما تحته خط لتصبح العبارة صحيحة:

(1) العدد $6i$ تخيلي بحت

(2) يسمى القانون: $x = \frac{-b \pm \sqrt{b^2 - 4ac}}{2a}$ بالمميز

(3) يُسمى معامل الحد الأول في كثيرة الحدود المكتوبة بالصيغة القياسية المعامل الرئيس.

(4) تُسمى كثيرة الحدود التي لا يمكن تحليلها كثيرة حدود بمتغير واحد.

(5) دالة كثيرة الحدود هي دالة متصلة يمكن وصفها بمعادلة كثيرة حدود بمتغير واحد.

(6) تبسيط عبارات تتضمن قوى، يعني إعادة كتابتها دون أقواس أو أسس سالبة.

(7) القسمة التركيبية هي طريقة مختصرة لقسمة كثيرة حدود على ثنائية حد.

(8) $0 = 3x^3 + (x^3)^2 - 8$ هي دالة قوة.

ملخص الفصل

المفاهيم الأساسية

الأعداد المركبة (الدرس 3-1)

- i هي الوحدة التخيلية، $i^2 = -1$ ، $i = \sqrt{-1}$
- العدد المركب هو أي عدد يمكن كتابته على الصورة $a + bi$ ؛ حيث a و b عدنان حقيقيان، ويسمى a الجزء الحقيقي، و b الجزء التخيلي.

القانون العام والمميز (الدرس 3-2)

• القانون العام لحل المعادلة التربيعية: $x = \frac{-b \pm \sqrt{b^2 - 4ac}}{2a}$

العمليات على كثيرات الحدود (الدرسان 3-3، 3-4)

- عند الجمع أو الطرح: أجمع الحدود المشابهة.
- عند الضرب: أستعمل خاصية التوزيع.
- عند القسمة: أستعمل القسمة الطويلة أو التركيبية.

دوال كثيرات الحدود (الدرس 3-5)

- تعرّف دالة كثيرة الحدود بأنها دالة متصلة يمكن وصفها بمعادلة كثيرة حدود بمتغير واحد.

حل معادلات كثيرات الحدود (الدرس 3-6)

- يمكن تحليل كثيرة الحدود باستعمال العامل المشترك الأكبر أو جميع الحدود، أو بإحدى طرائق تحليل الدالة التربيعية.

نظريتنا الباقي والعوامل (الدرس 3-7)

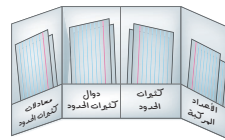
- نظرية الباقي: إذا قسمت كثيرة حدود $P(x)$ على $x - r$ ، فإن الباقي ثابت ويساوي $P(r)$.
- نظرية العوامل: تكون ثنائية الحد $x - a$ عاملاً من عوامل كثيرة الحدود $f(x)$ إذاً فقط إذا كان $f(a) = 0$.

الجدور، والأصفار (الدرس 3-8)

- نظرية الأصفار المركبة المترافقة: إذا كان $a + bi$ صفراً للدالة، فإن $a - bi$ صفر للدالة أيضاً.

المطويات

منظم أفكار



تأكد أن المفاهيم الأساسية مدونة في مطويتك.

مراجعة الدروس

3-1

الأعداد المركبة (الصفحات: 110-116)

مثال 1

حل المعادلة: $3x^2 + 12 = 0$

المعادلة الأصلية $3x^2 + 12 = 0$

اطرح 12 من كلا الطرفين $3x^2 = -12$

اقسم كلا الطرفين على 3 $x^2 = -4$

خاصية الجذر التربيعي $x = \pm\sqrt{-4}$

$\sqrt{-4} = \sqrt{4} \cdot \sqrt{-1}$ $x = \pm 2i$

بسّط كلاً مما يأتي:

(9) $\sqrt{-8}$

(10) $(2 - i) + (13 + 4i)$

(11) $(6 + 2i) - (4 - 3i)$

(13) **كهرباء:** تبلغ المعاوقة في أحد أجزاء دائرة كهربائية $3 + 2i$ أوم، وفي الجزء الآخر منها $4 - 3i$ أوم. اجمع هذين العددين لتجد المعاوقة الكلية في الدائرة الكهربائية.

حل كلاً من المعادلات الآتية:

(14) $2x^2 + 50 = 0$

(15) $4x^2 + 1 = 0$

3-2 القانون العام والمميز

(الصفحات: 117-124)

مثال 2

حل المعادلة: $x^2 - 4x - 45 = 0$

$a = 1, b = -4, c = -45$

القانون العام $x = \frac{-b \pm \sqrt{b^2 - 4ac}}{2a}$

$a = 1, b = -4, c = -45$
 $= \frac{-(-4) \pm \sqrt{(-4)^2 - 4(1)(-45)}}{2(1)}$

بسّط $= \frac{4 \pm 14}{2}$

اكتب على صورة معادلتين $x = \frac{4 + 14}{2}, x = \frac{4 - 14}{2}$

بسّط $= 9 \quad = -5$

إذن الحلان هما: $-5, 9$.

أجب عن الفروع a-c لكل معادلة تربيعية فيما يأتي:

(a) أوجد قيمة المميز.

(b) أوجد عدد الجذور المختلفة، وحدد أنواعها.

(c) حل المعادلة باستعمال القانون العام.

(16) $x^2 - 10x + 25 = 0$

(17) $x^2 + 4x - 32 = 0$

(18) $2x^2 + 3x - 18 = 0$

(19) $4x^2 - 4x + 1 = 0$

(20) **فيزياء:** قذف محمد كرة رأسياً إلى أعلى بسرعة ابتدائية مقدارها $s = 40$ ft. إذا علمت أن ارتفاع الكرة عن الأرض (h) بالأقدام يعطى بالمعادلة $h = -16t^2 + 40t + 5$ ، حيث t الزمن بالثواني، فأوجد الزمن اللازم لتصل الكرة إلى الأرض.

3-3

العمليات على كثيرات الحدود (الصفحات: 127-132)

مثال 3

بسّط كلاً مما يأتي:

(a) $(-4a^3b^5)(5ab^3)$

اضرب القوى $(-4a^3b^5)(5ab^3) = (-4)(5)a^3 + 1b^5 + 3$
بسّط $= -20a^4b^8$

(b) $(2x^2 + 3x - 8) + (3x^2 - 5x - 7)$

$(2x^2 + 3x - 8) + (3x^2 - 5x - 7)$
 $= (2x^2 + 3x^2) + (3x - 5x) + [-8 + (-7)]$
 $= 5x^2 - 2x - 15$

بسّط كلاً مما يأتي مفترضاً أن أيّاً من المتغيرات لا يساوي صفراً:

(21) $\frac{14x^4y}{2x^3y^5}$

(22) $3t(tn - 5)$

(23) $(4r^2 + 3r - 1) - (3r^2 - 5r + 4)$

(24) $(x^4)^3$

(25) $(m + p)(m^2 - 2mp + p^2)$

(26) $3b(2b - 1) + 2b(b + 3)$

مثال 4

بسّط العبارة: $(6x^3 - 31x^2 - 34x + 22) \div (2x - 1)$.

$$\begin{array}{r} 3x^2 - 14x - 24 \\ 2x - 1 \overline{) 6x^3 - 31x^2 - 34x + 22} \\ \underline{(-) 6x^3 - 3x^2} \\ -28x^2 - 34x + 22 \\ \underline{(-) -28x^2 + 14x} \\ -48x + 22 \\ \underline{(-) -48x + 24} \\ -2 \end{array}$$

وعليه يكون الناتج هو $3x^2 - 14x - 24 - \frac{2}{2x-1}$.

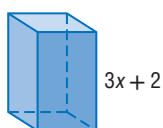
بسّط كلّ عبارة مما يأتي:

$$\frac{12x^4y^5 + 8x^3y^7 - 16x^2y^6}{4xy^5} \quad (27)$$

$$(6y^3 + 13y^2 - 10y - 24) \div (y + 2) \quad (28)$$

$$(a^4 + 5a^3 + 2a^2 - 6a + 4)(a + 2)^{-1} \quad (29)$$

$$(4a^6 - 5a^4 + 3a^2 - a) \div (2a + 1) \quad (30)$$



هندسة: حجم المنشور المتوازي المستطيلات في الشكل المجاور يساوي $3x^3 + 11x^2 - 114x - 80$ وحدة مكعبة، فما مساحة القاعدة؟

مثال 5

حدّد درجة كثيرة الحدود $4x^3 + 3x^2 - 7x^7 + 4x - 1$ وما معاملها الرئيس؟

أكبر أس يساوي 7؛ لذا فدرجة كثيرة الحدود تساوي 7، والمعامل الرئيس هو -7.

مثال 6

إذا كان $p(x) = 3x + 2x^2 - x^3$ ، فأوجد $p(a - 2)$.

$$\begin{aligned} p(a - 2) &= 3(a - 2) + 2(a - 2)^2 - (a - 2)^3 \\ &= 3a - 6 + 2a^2 - 8a + 8 - (a^3 - 6a^2 + 12a - 8) \\ &= -a^3 + 8a^2 - 17a + 10 \end{aligned}$$

حدد الدرجة والمعامل الرئيس لكلّ كثيرة حدود بمتغير واحد فيما يأتي، وإذا لم تكن كثيرة حدود بمتغير واحد، فاذكر السبب:

$$5x^6 - 3x^4 + x^3 - 9x^2 + 1 \quad (32)$$

$$6xy^2 - xy + y^2 \quad (33)$$

$$12x^3 - 5x^4 + 6x^8 - 3x - 3 \quad (34)$$

أوجد $p(-2)$ ، $p(x + h)$ لكلّ دالة فيما يأتي:

$$p(x) = x^2 + 2x - 3 \quad (35)$$

$$p(x) = 3x^2 - x \quad (36)$$

$$p(x) = 3 - 5x^2 + x^3 \quad (37)$$

مثال 7

حلّ المعادلة: $4x^4 - 25x^2 + 36 = 0$.

$$\text{حلّل إلى العوامل} \quad (x^2 - 4)(4x^2 - 9) = 0$$

$$4x^2 - 9 = 0 \quad \text{أو} \quad x^2 - 4 = 0 \quad \text{خاصية الضرب الصفري}$$

$$\text{أضف 9 لكلا الطرفين، ثم اقسم على 4} \quad x^2 = \frac{9}{4} \quad x^2 = 4$$

$$\text{أوجد الجذر التربيعي} \quad x = \pm \frac{3}{2} \quad x = \pm 2$$

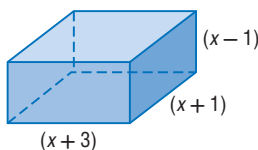
$$\text{الحلول هي: } -2, 2, -\frac{3}{2}, \frac{3}{2}$$

حلّ كلّاً من المعادلتين الآتيتين:

$$x^3 + 2x^2 - 35x = 0 \quad (38)$$

$$8x^4 - 10x^2 + 3 = 0 \quad (39)$$

هندسة: إذا كان حجم المنشور في الشكل الآتي يساوي 315 in^3 ، فأوجد كلّاً من قيمة x وطول المنشور وعرضه وارتفاعه.



مثال 8

حدد ما إذا كان $x - 6$ عاملاً من عوامل كثيرة الحدود:
 $x^3 - 2x^2 - 21x - 18$

6	1	-2	-21	-18
		6	24	18
	1	4	3	0

$x - 6$ عامل من عوامل كثيرة الحدود؛ لأن باقي قسمة كثيرة الحدود عليه يساوي صفراً.

أوجد $f(4)$ ، $f(-2)$ لكل دالة فيما يأتي مستعملاً التعويض التركيبي:

$$f(x) = x^2 - 3 \quad (41)$$

$$f(x) = x^2 - 5x + 4 \quad (42)$$

$$f(x) = x^3 + 4x^2 - 3x + 2 \quad (43)$$

$$f(x) = 2x^4 - 3x^3 + 1 \quad (44)$$

في كل مما يأتي كثيرة حدود وأحد عواملها. أوجد عواملها الأخرى:

$$3x^3 + 20x^2 + 23x - 10, x + 5 \quad (45)$$

$$2x^3 + 11x^2 + 17x + 5, 2x + 5 \quad (46)$$

$$x^3 + 2x^2 - 23x - 60, x - 5 \quad (47)$$

مثال 9

اذكر العدد الممكن للأصفار الحقيقية الموجبة، والحقيقية السالبة، والتخيلية للدالة: $f(x) = 3x^4 + 2x^3 - 2x^2 - 26x - 48$.

تتغير إشارة الدالة $f(x)$ مرة واحدة؛ لذا يوجد صفر حقيقي موجب واحد.

تتغير إشارة الدالة $f(-x)$ ثلاث مرات؛ لذا يوجد للدالة صفر واحد، أو ثلاثة أصفار حقيقية سالبة.

الدالة ليس لها أصفار تخيلية، أو لها صفران تخيليان.

اذكر العدد الممكن للأصفار الحقيقية الموجبة، والحقيقية السالبة، والتخيلية لكل دالة مما يأتي:

$$f(x) = -2x^3 + 11x^2 - 3x + 2 \quad (48)$$

$$f(x) = -4x^4 - 2x^3 - 12x^2 - x - 23 \quad (49)$$

$$f(x) = x^6 - 5x^3 + x^2 + x - 6 \quad (50)$$

$$f(x) = -2x^5 + 4x^4 + x^2 - 3 \quad (51)$$

$$f(x) = -2x^6 + 4x^4 + x^2 - 3x - 3 \quad (52)$$



(18) اختيار من متعدد: إذا كان $f(x) = x^4 - 3x^3 + 5x - 3$ ، فما قيمة $f(-2)$ ؟

- 37 A
27 B
-33 C
-21 D

(19) فيما يأتي كثيرة حدود وأحد عواملها. أوجد عواملها الأخرى:

$$2x^3 + 15x^2 + 22x - 15 ; x + 5$$

اذكر العدد الممكن للأصفار الحقيقية الموجبة، والحقيقية السالبة، والتخييلية لكل من الدالتين الآتيتين:

$$p(x) = x^3 - x^2 - x - 3 \quad (20)$$

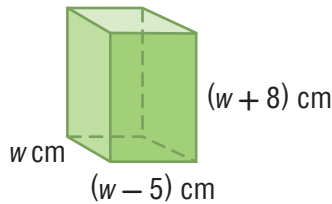
$$p(x) = 2x^6 + 5x^4 - x^3 - 5x - 1 \quad (21)$$

أوجد جميع أصفار كل من الدالتين الآتيتين:

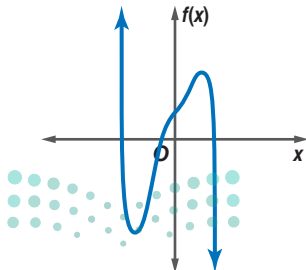
$$p(x) = x^3 - 4x^2 + x + 6 \quad (22)$$

$$p(x) = x^3 + 2x^2 + 4x + 8 \quad (23)$$

(24) هندسة: إذا كان حجم المنشور المتوازي المستطيلات الموضح بالشكل أذناه 612 cm^3 ، فأوجد أبعاده.



(25) صف سلوك طرفي التمثيل البياني الآتي، وحدد ما إذا كانت درجة دالة كثيرة الحدود فردية أم زوجية. واذكر عدد الأصفار الحقيقية للدالة.



بسّط كلاً مما يأتي:

$$\frac{2-i}{1+3i} \quad (1)$$

$$(2+3i)-(2-3i) \quad (2)$$

$$(3-i) \cdot (4+2i) \quad (3)$$

بسّط كلاً مما يأتي:

$$(3a)^2(7b)^4 \quad (4)$$

$$(7x-2)(2x+5) \quad (5)$$

$$(2x^2+3x-4)-(4x^2-7x+1) \quad (6)$$

$$(4x^3-x^2+5x-4)+(5x-10) \quad (7)$$

$$(x^4+5x^3+3x^2-8x+3) \div (x+3) \quad (8)$$

$$(3x^3-5x^2-23x+24) \div (x-3) \quad (9)$$

(10) إذا كانت $c(x) = 3x^3 + 5x^2 - 4$ ، فما قيمة $4c(3b)$ ؟

حلّل كل كثيرة حدود فيما يأتي، وإذا لم يكن ذلك ممكناً فاكتب كثيرة حدود أولية:

$$8y^4 + x^3y \quad (11)$$

$$2x^2 + 2x + 1 \quad (12)$$

$$a^2x + 3ax + 2x - a^2y - 3ay - 2y \quad (13)$$

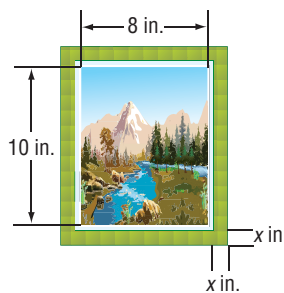
حل كلاً من المعادلات الآتية:

$$8x^3 + 1 = 0 \quad (14)$$

$$x^4 - 11x^2 + 28 = 0 \quad (15)$$


(16) حل المعادلة الآتية باستعمال القانون العام: $x^2 - 4x + 3 = 0$

(17) إطارات: إذا كانت مساحة الصورة وإطارها في الشكل الآتي 168 in^2 ، فما عرض الإطار؟



رسم شكل

يعدُّ رسم الشكل طريقة مفيدة في حل المسألة، فهو يعطي تصورًا لكيفية الحل، لذا ارسم شكلًا يمثل المسألة في ورقة مسودة أو في ورقة الإجابة (إذا سمح بذلك).



استراتيجيات لرسم شكل

خطوة 1

اقرأ المسألة بعناية.

واسأل نفسك الأسئلة الآتية:

- ما المطلوب حله؟
- ما معطيات المسألة؟
- ما المجاهيل التي يُراد نمذجتها وإيجادها؟

خطوة 2

ارسم شكلًا وضع عليه المسميات والبيانات على أن يكون:

- واضحًا ودقيقًا ما أمكن.
- تشتمل المسميات التي توضع على الشكل على جميع معطيات المسألة.

خطوة 3

حل المسألة.

- استعمل الشكل لمساعدتك على نمذجة المسألة بمعادلة، ثم حلّها.
- تحقق من معقولية إجابتك.

مثال

اقرأ المسألة وحدد المطلوب، واستعمل المعلومات المعطاة لحلّها.

لدى فيصل بركة سباحة سطحها على شكل مستطيل أبعاده 25 ft, 14 ft، وأراد أن يرصف حولها ممرًا متساوي العرض، إذا كانت مساحة سطح البركة مع الممر 672 ft²، فما عرض الممر؟

3.25 ft C

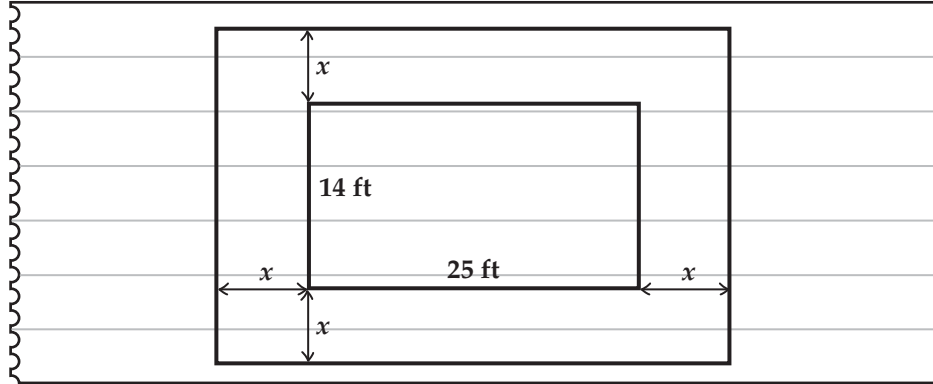
2.75 ft A

3.5 ft D

3 ft B



ارسم شكلاً ليساعدك على تصوّر المسألة، وافترض أن x يمثل عرض الممرّ غير المعلوم.



طول البركة مع الممرّ يساوي $25 + 2x$ ، وعرضها مع الممرّ يساوي $14 + 2x$.
اضرب العبارتين السابقتين لإيجاد مساحة سطح البركة والممرّ معاً، وساؤ الناتج بالقيمة المعطاة وهي 672 ft^2 ثم حلّها لإيجاد x .

$$(25 + 2x)(14 + 2x) = 672$$

$$350 + 78x + 4x^2 = 672$$

$$4x^2 + 78x - 322 = 0$$

$$x = -23 \text{ أو } x = 3.5$$

وبما أن عرض الممرّ لا يمكن أن يكون سالباً، فإن القيمة الأنسب هي 3.5 ft

إذن الإجابة الصحيحة هي D

تمارين ومسائل

اقرأ كل مسألة من المسألتين الآتيتين، وحدد المطلوب واستعمل المعطيات المعطاة لحلها:

1) لدى مزارع سياج طوله 240 ft ، ويريد أن يحيط به حديقة مستطيلة الشكل على أن يكون جدار منزله أحد جوانبها. فما أكبر مساحة ممكنة للحديقة؟

A 7200 ft^2

B 4960 ft^2

C 3600 ft^2

D 3280 ft^2

2) يتم تصنيع الحلقات المعدنية بعمل ثقب في رقاقة معدنية دائرية. إذا صنعت حلقة بعمل ثقب عند مركز رقاقة معدنية قطرها 1.8 in ، وكانت مساحة سطح الحلقة $0.65\pi \text{ in}^2$ ، فما نصف قطر الثقب؟

A 0.35 in

B 0.38 in

C 0.40 in

D 0.42 in



أسئلة الاختيار من متعدد

اختر رمز الإجابة الصحيحة لكل مما يأتي:

(1) أبسط صورة للمقدار $(5n^2 + 11n - 6) - (2n^2 - 5)$ هي:

A $3n^2 + 11n - 11$

B $3n^2 + 11n - 1$

C $7n^2 + 11n - 11$

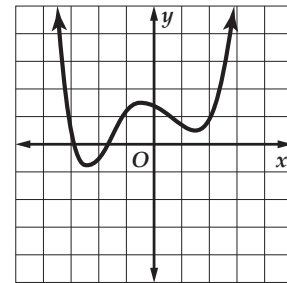
D $7n^2 + 11n - 1$

(2) أي مما يأتي ليس حلاً للمعادلة: $x^3 - 37x - 84 = 0$ ؟

A -4 C 6

B -3 D 7

(3) كم صفرًا حقيقيًا لدالة كثيرة الحدود الممثلة بيانيًا أدناه؟



A 2 C 4

B 3 D 5

(4) إذا كانت المصفوفة $\begin{bmatrix} x+1 & x \\ -2 & 8 \end{bmatrix}$ ليس لها نظير ضربي،فإن قيمة x تساوي:

A $\frac{4}{3}$

B $\frac{4}{5}$

C $-\frac{4}{3}$

D $-\frac{4}{5}$

(5) استعمل عبد الرحمن الدالة:

$$P(x) = -0.000047x^2 + 0.027x + 3$$

لتقدير عدد سكان المدينة التي يسكنها ما بين عامي

1400، 1440هـ؛ حيث x عدد السنوات منذ عام 1400هـ، P عددالسكان بالملايين. فما قيمة $P(20)$ التي تمثل عدد سكان هذه

المدينة عام 1420هـ؟

A 2 مليون تقريبًا

B 2.5 مليون تقريبًا

C 3 ملايين تقريبًا

D 3.5 ملايين تقريبًا

(6) أبسط صورة للمقدار $\frac{2}{1-5i}$ هي:

A $\frac{1}{13} - \frac{5}{13}i$

B $\frac{1}{2} - \frac{5}{2}i$

C $\frac{1}{13} + \frac{5}{13}i$

D $2 - \frac{2}{5}i$

(7) ما قيمة ممیز المعادلة: $x^2 - x - 20 = 0$ ؟

A 9 C 5

B 81 D -4

(8) إذا كان $A = \begin{bmatrix} 2 & -3 \\ 0 & -1 \end{bmatrix}$ ، $B = \begin{bmatrix} -2 & 3 \\ 0 & 1 \end{bmatrix}$ وكانت X مصفوفةرتبتها 2×2 بحيث $X = 2A - B$ فإن:

A $X = 3B$

B $X = 2A$

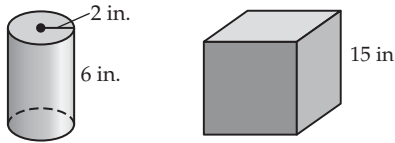
C $X = -2B$

D $X = 3A$

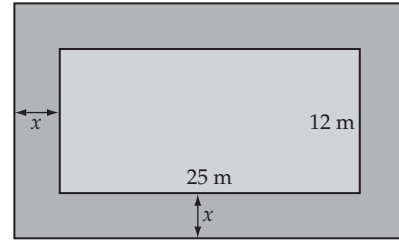


أسئلة ذات إجابات قصيرة

(13) يريد صالح أن يملأ الإناء المكعب بالماء مستعملًا العلبة الأسطوانية في الشكل أدناه. فكم مرة يستعمل العلبة؟



(9) يبين الشكل الآتي حديقة محاطة بممر عرضه x مترًا. فإذا علمت أن مساحة الحديقة مع الممر 558 m^2 ، فأوجد عرض الممر بالأمتار.



(10) حلّ المقدار: $64a^4 + ab^3$ تحليلًا تامًا، وبيّن خطوات الحلّ.

(11) بسّط المقدار:

$$\frac{3x^3 - 4x^2 - 28x - 16}{x + 2}$$

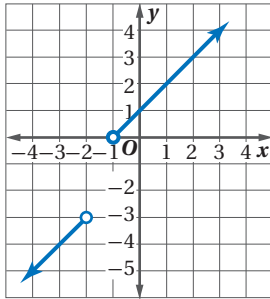
واكتب إجابتك على صورة حاصل ضرب عوامل مبيّنًا خطوات الحلّ.

(12) ما قيمة a في المعادلة المصفوفية الآتية؟

$$\begin{bmatrix} 4 & 3 \\ 2 & 2 \end{bmatrix} \cdot \begin{bmatrix} a \\ b \end{bmatrix} = \begin{bmatrix} 21 \\ 9 \end{bmatrix}$$

أسئلة ذات إجابات مطولة

(14) اكتب الدالة المتعددة التعريف التي لها التمثيل البياني أدناه:



هل تحتاج إلى مساعدة إضافية؟

14	13	12	11	10	9	8	7	6	5	4	3	2	1	إذا لم تستطع حل سؤال ...
1-3	3-8	2-5	3-4	3-5	3-6	2-2	3-2	3-1	3-5	2-5	3-8	3-6	3-3	فعد إلى الدرس ...

الهندسة الإحداثية في المستوى

نقطة المنتصف	$M = \left(\frac{x_1 + x_2}{2}, \frac{y_1 + y_2}{2} \right)$	المسافة بين نقطتين	$d = \sqrt{(x_2 - x_1)^2 + (y_2 - y_1)^2}$
		الميل	$m = \frac{y_2 - y_1}{x_2 - x_1}, x_2 \neq x_1$

المصفوفات

الجمع	$\begin{bmatrix} a & b \\ c & d \end{bmatrix} + \begin{bmatrix} e & f \\ g & h \end{bmatrix} = \begin{bmatrix} a+e & b+f \\ c+g & d+h \end{bmatrix}$	الضرب	$\begin{bmatrix} a & b \\ c & d \end{bmatrix} \cdot \begin{bmatrix} e & f \\ g & h \end{bmatrix} = \begin{bmatrix} ae+bg & af+bh \\ ce+dg & cf+dh \end{bmatrix}$
الطرح	$\begin{bmatrix} a & b \\ c & d \end{bmatrix} - \begin{bmatrix} e & f \\ g & h \end{bmatrix} = \begin{bmatrix} a-e & b-f \\ c-g & d-h \end{bmatrix}$	محددة الرتبة الثانية	$\begin{vmatrix} a & b \\ c & d \end{vmatrix} = ad - bc$
الضرب بثابت	$k \begin{bmatrix} a & b \\ c & d \end{bmatrix} = \begin{bmatrix} ka & kb \\ kc & kd \end{bmatrix}$	مساحة مثلث رؤوسه (a,b),(c,d),(e,f)	$\frac{1}{2} \begin{vmatrix} a & b & 1 \\ c & d & 1 \\ e & f & 1 \end{vmatrix}$
	محددة الرتبة الثالثة (قاعدة الأقطار)		$\begin{vmatrix} a & b & c \\ d & e & f \\ g & h & i \end{vmatrix} = aei + bfg + cdh - ceg - afh - bdi$

كثيرات الحدود

القانون العام	$x = \frac{-b \pm \sqrt{b^2 - 4ac}}{2a}, a \neq 0$	مجموع مكعبين	$a^3 + b^3 = (a + b)(a^2 - ab + b^2)$
مربع المجموع	$(a + b)^2 = (a + b)(a + b) = a^2 + 2ab + b^2$	الفرق بين مكعبين	$a^3 - b^3 = (a - b)(a^2 + ab + b^2)$
مربع الفرق	$(a - b)^2 = (a - b)(a - b) = a^2 - 2ab + b^2$	مكعب المجموع	$(a + b)^3 = a^3 + 3a^2b + 3ab^2 + b^3$
حاصل ضرب مجموع حدين بالفرق بينهما	$(a + b)(a - b) = (a - b)(a + b) = a^2 - b^2$	مكعب الفرق	$(a - b)^3 = a^3 - 3a^2b + 3ab^2 - b^3$

الإحصاء والاحتمال

$n! = n(n-1) \cdot (n-2) \dots 2 \cdot 1$	${}_n C_r = \frac{n!}{(n-r)!r!}$
$0! = 1$	$P(B/A) = \frac{P(A \cap B)}{P(A)}, P(A) \neq 0$
${}_n P_r = \frac{n!}{(n-r)!}$	$P(A') = 1 - P(A)$

المتتابعات والمتسلسلات

الحد النوني في المتتابعة الحسابية	$a_n = a_1 + (n - 1)d$	الحد النوني في المتتابعة الهندسية	$a_n = a_1 r^{n-1}$
مجموع حدود المتتابعة الحسابية	$S_n = n \left(\frac{a_1 + a_n}{2} \right)$ or $S_n = \frac{n}{2} [2a_1 + (n - 1)d]$	مجموع حدود المتتابعة الهندسية	$S_n = \frac{a_1 - a_1 r^n}{1 - r}$ or $S_n = \frac{a_1 - a_n r}{1 - r}, r \neq 1$

الصيغ

حساب المثلثات

قانون الجيوب

$$\frac{\sin A}{a} = \frac{\sin B}{b} = \frac{\sin C}{c}, a, b, c \neq 0$$

قانون جيب التمام

$$a^2 = b^2 + c^2 - 2bc \cos A$$

$$b^2 = a^2 + c^2 - 2ac \cos B$$

$$c^2 = a^2 + b^2 - 2ab \cos C$$

الدوال المثلثية

$$\sin \theta = \frac{\text{المقابل}}{\text{الوتر}}$$

$$\cos \theta = \frac{\text{المجاور}}{\text{الوتر}}$$

$$\tan \theta = \frac{\text{المقابل}}{\text{المجاور}} = \frac{\sin \theta}{\cos \theta}$$

$$\csc \theta = \frac{\text{الوتر}}{\text{المقابل}} = \frac{1}{\sin \theta}$$

$$\sec \theta = \frac{\text{الوتر}}{\text{المجاور}} = \frac{1}{\cos \theta}$$

$$\cot \theta = \frac{\text{المجاور}}{\text{المقابل}} = \frac{\cos \theta}{\sin \theta}$$

متطابقات مثلثية

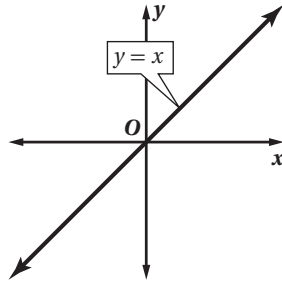
$$\cos^2 \theta + \sin^2 \theta = 1$$

$$\tan^2 \theta + 1 = \sec^2 \theta$$

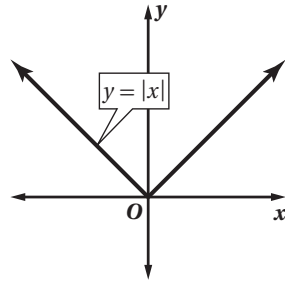
$$\cot^2 \theta + 1 = \csc^2 \theta$$

الدوال الرئيسية (الأم)

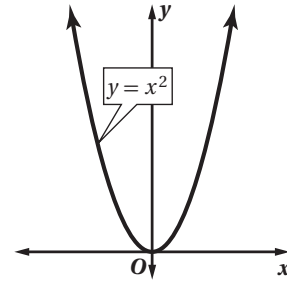
الدوال الخطية



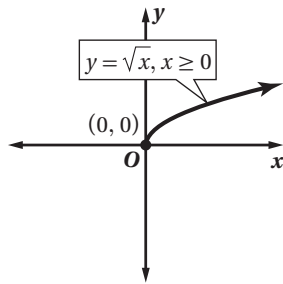
دوال القيمة المطلقة



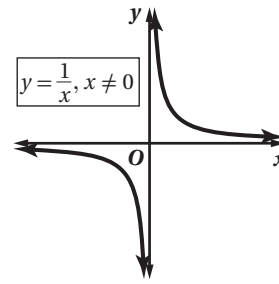
الدوال التربيعية



دوال الجذر التربيعي



دوال المقلوب



R	مجموعة الأعداد الحقيقية	\underline{A}^{-1}	النظير الضربي للمصفوفة \underline{A}
Q	مجموعة الأعداد النسبية	$-\underline{A}$	النظير الجمعي للمصفوفة \underline{A}
I	مجموعة الأعداد غير النسبية	\underline{I}	مصفوفة الوحدة
Z	مجموعة الأعداد الصحيحة	$n!$	مضروب العدد الصحيح الموجب n
W	مجموعة الأعداد الكلية	\sum	المجموع
N	مجموعة الأعداد الطبيعية	\bar{x}	المتوسط
$f(x)$	دالة f بمتغير x	s	الانحراف المعياري
$<$	أصغر من	A'	الحادثة المتممة
\leq	أصغر من أو يساوي	$P(A)$	احتمال الحادثة A
$>$	أكبر من	$P(B A)$	احتمال B بشرط A
\geq	أكبر من أو يساوي	nPr	تباديل n مأخوذة r في كل مرة
\approx	يساوي تقريباً	nCr	توافيق n مأخوذة r في كل مرة
$f(x) = \{$	الدالة المتعددة التعريف	$\sin(x)$	دالة الجيب
$f(x) = x $	دالة القيمة المطلقة	$\cos(x)$	دالة جيب التمام
$f(x) = [x]$	دالة أكبر عدد صحيح	$\tan(x)$	دالة الظل
$f(x, y)$	دالة بمتغيرين	$\cot(x)$	دالة مقلوب الظل
i	الوحدة التخيلية	$\csc(x)$	دالة مقلوب الجيب
$[f \circ g](x)$	تركيب الدالتين f و g	$\sec(x)$	دالة مقلوب جيب التمام
$f^{-1}(x)$	معكوس الدالة f	$\sin^{-1} x$	معكوس دالة الجيب
$b^{\frac{1}{n}} = \sqrt[n]{b}$	الجذر النوني لـ b	$\cos^{-1} x$	معكوس دالة جيب التمام
$\underline{A}_{m \times n}$	مصفوفة رتبته $m \times n$	$\tan^{-1} x$	معكوس دالة الظل
a_{ij}	العنصر في الصف i العمود j من المصفوفة A		
$ \underline{A} $	محددة المصفوفة \underline{A}		

